

GARCIA
DE
MATEMÁTICA

2

B
20
391



2
~~42-75~~

Biblioteca Universitaria	
GRANADA	
Sala	18
Estante	58
Tabla	
Número	179

BIBLIOTECA HOSPITAL REAL	
GRANADA	
Sala:	B
Estante:	20
Número:	391

R-15238

ELEMENTOS

DE ARITMÉTICA,
ALGEBRA Y GEOMETRIA.

SU AUTOR

D. JUAN JUSTO GARCÍA, PRESBITERO,
del gremio y Claustro de la Universidad de
Salamanca, y uno de sus Catedráticos
de Matemáticas, quien los ha corre-
gido y añadido en esta

QUARTA IMPRESION

TOMO SEGUNDO.

CON PRIVILEGIO REAL.

SALAMANCA

EN LA IMPRENTA DE D. VICENTE BLANCO,
AÑO 1815.



R-15238

ELEMENTOS

DE ARITMÉTICA,

ALGEBRA Y GEOMETRIA.

SU AUTOR

D. JUAN JUSTO GARCÍA, PRESBITERO,
del gremio y Claustro de la Universidad de
Salamanca, y uno de sus Catedráticos
de Matemáticas, quien los ha corre-
gido y añadido en esta

QUARTA IMPRESION

TOMO SEGUNDO.

CON PRIVILEGIO REAL.



SALAMANCA

EN LA IMPRENTA DE D. VICENTE BLANCO,

AÑO 1815.

2

42-75

Biblioteca Universitaria	
GRANADA	
Sala	B
Estante	58
Tabla	
Número	179

BIBLIOTECA HOSPITAL REAL	
GRANADA	
Sala:	B
Estante:	20
Número:	391

INDICE DE LAS MATERIAS DEL SEGUNDO
TOMO.

E lementos de Geometría.	1
De las líneas y del círculo.	2
De los ángulos y de su medida.	7
De las líneas perpendiculares y oblicuas.	12
De las líneas y de los ángulos en el círculo.	20
De las Figuras.	30
De los triángulos y cuadriláteros.	30
De los polígonos.	38
De las líneas proporcionales.	45
De las líneas proporcionales en el círculo, y de la semejanza de los triángulos.	51
De la semejanza de las demas figuras.	58
De las superficies y planos.	68
Medida de las superficies.	72
Reduccion y division de las superficies.	77
Comparacion de las superficies.	81
De los Sólidos.	86
De la medida y comparacion de las superfi- cies de los cuerpos.	90
De la medida y comparacion de las soli- dezes de los cuerpos.	95
Método para medir la capacidad de los vasos que encierran algun liquido.	103
Sólidos regulares.	105
TRIGONOMETRIA RECTILINEA.	106
Usos del cálculo trigonometrico en la reso- lucion de los triángulos rectángulos y obli-	

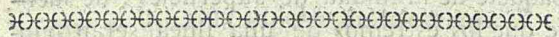
cuángulos.	120
DE LA NIVELACION.	133
APLICACION DEL ALGEBRA A LA	
GEOMETRIA	
Construccion de las equaciones de 1 ^o y 2 ^o grado.	138
Construccion de las equaciones indeterminadas de 1 ^o y 2 ^o grado, ó de los Lugares geométricos.	157
De las Secciones Cónicas Parábola, Elipse é Hipérbola.	165
Parábola.	168
Elipse.	174
Hipérbola.	185
Noticia de algunas curvas en particular.	206
CALCULO INFINITESIMAL.	216
De las séries.	220
Consideraciones generales sobre los Logaritmos, algunos de sus usos y modo de sacarlos por las séries.	234
Cálculo Diferencial.	242
Modo de diferenciar las cantidades que incluyen senos, cosenos; de las logarítmicas y esponenciales.	249
Aplicacion del cálculo diferencial á las líneas curvas.	253
Del método de los Máximos y Mínimos.	261
De las evolutas y radios osculadores de las curvas.	269
De los puntos de inflexión.	277

CALCULO INTEGRAL.	280
Diferenciales con una variable capaces de integracion exâta.	280
Modo de integrar por la regla general las cantidades complexâs de una sola variable.	282
Integracion de las diferenciales con dos ó mas variables.	287
Integracion de las diferenciales segundas, terceras &c.	290
Integracion de las diferenciales que llevan senos, cosenos; y de las esponenciales.	292
Integracion de las cantidades logarítmicas.	293
Integrales que se refieren al círculo.	296
Aplicacion de la integracion por series á los logarítmicos.	300
Aplicaciones del cálculo integral.	301
Cuadratura de las curvas.	301
Rectificacion de las curvas.	307
Solidez de los cuerpos.	311
Medida de las superficies curvas de los Sólidos.	323
Método inverso de las tangentes.	328
TRIGONOMETRIA ESFERICA.	330
Resolucion de los triángulos esféricos.	337

ERRATAS ESENCIALES DE ESTE SEGUNDO TOMO
QUE SE DEBEN CORREGIR ANTES DE LEERLE.

Pág.	Lín.	Dice	Ha de decir.
7	21	EA	OA
9	4	ER	EB
21	2	(28)	(29)
26	2	RS	RT
33	13	(fig. 88)	(fig. 38)
39	20	(82)	(51)
42	12	(36)	(86)
46	9	ad	bd
54	10	(135)	(135)(fig. 64)
56	1	ba:	ba::
74	23	(167)	(168)
75	2	id	id.
79	13	EDC	EBC
91	27	abcd	aebf
92	11	del como.	del cono
96	3	(212)	(213)
101	8	EQPT.	EQFT
103	20	(203)	(202)
112	2	$2(\text{sen}\frac{1}{2}a)^2$	$2(\text{sen}\frac{1}{2}a)^2$
117	8	(275)	(270)
122	16	BT	BTC
138	12	1^2	2^2
141	3	e^2t+e^2	e^2t+e^3
142	8	abe^2	abc^2
144	22	$\frac{1}{4}a$	$\frac{1}{2}a$
148	3	$\frac{24}{4}a^4$	$\frac{14}{4}a^4$

153	9	hac	hdc
164	20	CP	EP
166	23	BMm'	Bmm'
171	18	MF	MT
173	últ	PpMn	PpmM
175	últ	fM	FM
185	últ	FM	FM'
186	últ	fM	fM'
188	10	$\frac{bb}{a}$	$\frac{b}{a}$
195	13	—bb	—yy
200	2	QM	Qm'
201	15	$(ad+zz)(xx-aa)$	$(aa+zz)(xx-aa)^2$
204	14	(374)	(384)
227	1y2	$dn-2, ysm-1m-1..dn-1, ysm-2tm-2$	
233	5	—ad	—aad
338	19	vx	xx
240	7	2,30258409.	2,30258509
244	18	$(y^{\frac{3}{8}})$	$(y^{-\frac{3}{8}})$
245	11	—cxydx	—cz ² ydx
247	1	dzx	zdx
250	6	$\frac{dx}{\cos^2y}$	$\frac{dx}{\cos^2x}$
252	2	d(z ^m)	d(lz ^m)
266	23	+2ax	+2ay
267	19	$\frac{1}{4}cxxx$	$\frac{1}{4}cxxxxy$
278	15	$\frac{-ddy}{dx}$	$\frac{-ddy}{dx^2}$
283	9	2axda	2axdx
293	10 y 11	..Sx ^z azlx	..(472) Sx ^z dzlx



ELEMENTOS

DE GEOMETRÍA.

i Todo lo que se presenta á nuestros sentidos ocupa algun espacio, y es á un mismo tiempo largo, ancho y grueso. Estos tres géneros de *estension*, *longitud*, *latitud* y *profundidad* son el objeto de la *Geometría*, que los considera cada uno de por sí para averiguar mejor sus propiedades. Mide por eg. lo largo de un camino sin atender á su ancho, y la anchura de un rio sin calcular su profundidad. Llamaremos pues, *sólido* ó *cuerpo* lo que abraza anchura, longitud y grueso como una pared. Pero si consideramos en la pared su ancho y largo, es decir, su cara ó exterior sin atender á su grueso, nos habremos formado idea de la *superficie* ó latitud; y si miramos solamente á su largo sin hacer caso de lo ancho, tendremos la idea de la *línea*. Esta la consideran los Geómetras compuesta de partes infinitamente pequeñas que llaman *puntos*, y que son sus elementos: la superficie se la figuran como un tegido de infinidad de líneas, y el sólido como un

298	16 ...	$dxds...$	$dx:ds$
id.	17...	<i>subtangente...</i>	<i>su tangente</i>
303	21	$\frac{2}{3}p \frac{1}{2}x^{\frac{1}{2}}$	$\frac{2}{3}p \frac{1}{2}x^{\frac{3}{2}}$
304	10	SPMA	SPMR
305	12	(163)	(183)
309	2	(472)	(272)
316	12	$\frac{1}{6}myyx$	$\frac{1}{3}myyx$
331	12	HTDN	HTDM

paquete de infinidad de superficies : de suerte que los extremos de una línea serán puntos , los de la superficie líneas , y los del sólido superficies.

De las Líneas y del Círculo.

2 Si se concibe que el punto A (fig. 1^a) se mueve ácia B sin mudar de direccion ó por el camino mas derecho , dejando rastro tras sí , formará la línea recta AB , que será la mas breve distancia entre los dos puntos A y B : la única que se puede tirar entre ellos , y de consiguiente la verdadera medida de la distancia que hay entre los dos.

3 Por ser la línea recta la mas corta y la única que se puede tirar entre dos puntos A y B , quedará determinada la situacion ó posicion de una recta en señalando dos puntos , por donde debe pasar : y asi dos líneas rectas qualesquiera AS , AB no pueden tener dos puntos comunes , ó no se pueden cortar sino en un solo punto A ; porque ningun otro está en la direccion de las dos.

4 Si el punto A que trazó la recta AB , hubiera caminado ácia B por otro camino diferente del recto , esto es , mudando á cada paso de direccion , hubiera descrito una línea curva , qual es AOB ó ADB : y como se puede ir desde A á B por infinitos caminos,

habrá una infinidad de líneas curvas , siendo asi que es única la especie de las rectas.

5 Parar tirar líneas rectas en el papel sirve la *regla* , *pluma* y *lapicero* , instrumentos vulgares y conocidos de todos : que saben que la regla ha de estar perfectamente derecha , y ha de tener en uno de sus lados un chafan ó rebajo para que quando se tiren las líneas con pluma y tinta , no se manche el papel.

6 Para trazar líneas en el terreno hay que prevenir piquetes de todos tamaños , ó palos labrados con su punta que clave en el suelo , y hendidos en el otro extremo para aplicarles en él un papel ó carton que los haga distinguir de lejos : los quales se llaman *jalones*.

En un terreno llano se puede trazar una línea recta , si no ha de ser muy larga ; atando los dos extremos de un bramante dado de greda algo estirado , á dos piquetes A , B (fig. 2^a) puestos en los dos extremos de la línea : se tira del bramante ácia arriba , y dejándole caer con ímpetu contra el suelo , dejará impresa en él la recta que se pide.

Si ha de ser muy larga , se fija en uno de sus extremos B (fig. 3^a) un jalón A que quedará derecho sobre el suelo , si sigue la direccion de un hilo con un plomo , y otro M en D : despues se ponen otros dos T , N &c. in-

termedios ; pero de suerte que mirando desde A el jalón M , se confunda con él , y seguramente estarán A y M en una misma línea BD , y lo mismo qualesquiera otros T , N , &c. intermedios que se coloquen del mismo modo. Quando la línea es demasiado larga , se divide la operacion en dos , tres ó mas estaciones : y si median cuevas ó barrancos se alinean los piquetes segun exijan las circunstancias del terreno y aconseje la práctica , y el exercicio.

7 En la práctica de medir una línea qualquiera , que consiste en averiguar las veces que en ella cabe otra línea conocida que se toma por la unidad , como una línea de un pie , de una vara ; no puede haber dificultad : y asi solo advertiremos que los Prácticos en lugar de sogas de cañamo , esparto &c. que padecen variaciones con el temporal , usan de una cadena de alambre grueso ó de hierro , cuyos eslabones suelen ser de un pie ó de una vara cada uno.

8 La principal medida que rige en Castilla , es la *Vara* que llaman de Burgos , señalada por Felipe II en su Pragmática del año de 1568 , y compuesta de tres pies , cada pie de doce pulgadas , cada una de doce líneas &c. Tambien se usa del *Estadal* , que se compone de diez pies castellanos. Por lo que hace al tamaño de la vara de Aragon , Valencia,

y la media Cana de Cataluña , 95 palmos de los quatro en que se divide la vara de Castilla , equivalen á 102 Aragoneses , á 88 palmos Valencianos y á 100 Catalanes.

9 La medida mas general , y á que suelen reducirse las demas , es el *Pie de Rey* , sexta parte de la *Toesa* , medida francesa. Dicho pie tambien se divide en 12 pulgadas , cada pulgada en 12 líneas &c. Para reducir á esta medida la de los diferentes pies de las demas Provincias de Europa han considerado los Geómetras dividida en diez partes iguales la línea que es $\frac{1}{144}$ de pie : y de las 1440 partes que por esta cuenta tiene el pie de Rey , han encontrado que tiene el pie de....

Castilla..1234 $\frac{2}{7}$	Venecia..1540	Suecia.....1320
Roma....1320	Rhin.....1391 $\frac{1}{10}$	Dinamarca.....1403 $\frac{3}{8}$
Londres.1350	Bolonia..1682 $\frac{2}{3}$	Constantinopla.3120

Por medio de esta tabla se reducirán con una simple regla de tres los pies de una Nación á los de otra qualquiera ; pero quando haya que reducir á pies castellanos los franceses , será mejor usar de la razon sencilla de 6 : 7 que tiene el castellano al frances con poca diferencia.

10 De las líneas curvas solo hablaremos por ahora de la *circunferencia del círculo*. Asi se llama la línea curva cerrada ADCE (fig. 4^a)

que traza el estremo A de una línea AO fija en O, dando una vuelta entera al rededor de dicho punto O que se llama *centro*. Al espacio encerrado por dicha curva llamamos *círculo*: á las rectas AO, OD, OE tiradas del centro á la circunferencia *radios*; y *diámetro* á qualquiera AC que pasando por el centro se termina por ambas partes en la circunferencia.

11 Como cada radio es igual á la línea AO que traza la curva, serán todos los radios iguales, y todos los puntos de la circunferencia distarán igualmente del centro. Los diámetros tambien son todos iguales; pues se componen de dos radios.

12 Qualquiera porcion TCP de circunferencia se llama *arco*, y *cuerda* ó *subtensa* de dicho arco la recta TP tirada por sus dos estremos T, P. Bien se ve que los arcos iguales tienen cuerdas iguales AE, AD en un mismo ó en iguales círculos; y si las cuerdas son iguales lo serán tambien los arcos: pues si doblando el círculo por AC se sobrepone el arco y cuerda ARE á AQD; caerá el punto E sobre D, y todos los puntos del arco ARE sobre los de AQD, como que todos distan igualmente del centro: luego se ajustarán perfectamente los dos, y de consiguiente serán iguales. Por lo mismo, las mayores cuerdas subtenden mayores arcos, y al contrario.

Las circunferencias que tienen un mismo centro, ó se confundirán si los radios son iguales, ó no se tocarán si son desiguales: de consiguiente si dos circunferencias se cortan, señal que no tienen un mismo centro.

13 La mayor cuerda de un círculo es el diámetro; ED por eg. es mayor que qualquiera otra TP; pues los dos radios TO, PO tirados á sus dos estremos equivalen al diámetro, y dichos radios juntos son mayores que TP (2).

14 Un círculo qualquiera ADCE se traza en el papel con el *compás*, instrumento bien conocido, abriéndole de suerte que sus dos puntas caigan en O y A, y haciendo dar una vuelta entera á la punta A al rededor de la punta O que ha de estar fija.

De los ángulos y su medida.

15 Si consideramos ahora que á la recta BE puesta sobre BA (fig. 5^a), se la hace andar el espacio OA con uno de sus puntos O, teniendo el otro fijo en B, se habrá formado el ángulo OBA que es *el espacio AO comprendido entre dos líneas BE, BA que concurren en un punto B*. Dichas líneas se llaman *lados* del ángulo, y el punto B su *vértice*. En adelante nombraremos un ángulo ó con sola la letra B del vértice, ó con las tres

EBA, ó ABE, poniendo en medio dicha letra B. El ángulo EFA se llama *rectilíneo*, MNO (fig. 6.^a) *curvilíneo*, y RSH *mistilíneo* por la clase de líneas que los forman.

16 De la formación del ángulo se colige que el espacio que encierra, se debe medir por un arco de círculo descrito desde el vértice como centro con qualquier intervalo; pues aunque sea menor el arco descrito á la distancia D' que á D (fig. 5.^a); siempre será una misma la medida del ángulo CBD; pues el arco D'C' es la 4.^a parte de su círculo como lo es DC: de consiguiente el ángulo es siempre el mismo que se acorten ó que se alarguen sus lados.

17 Para medir los arcos del círculo le han considerado los Geómetras dividido en 360 partes iguales con el nombre de *grados*: cada uno de estos en 60 *minutos*, cada minuto en 60 *segundos*, cada segundo en 60 *terceros* &c. Estas partes que son grandes ó pequeñas, segun que el círculo lo es, se indican con las señales °, ', ", ''' &c. de suerte que 7.° 8', 36'', 9''', quiere decir *siete grados, ocho minutos, treinta y seis segundos y nueve terceros*.

Llamaremos *recto* el ángulo que tiene por medida 90° ó la 4.^a parte de la circunferencia como DBC, ABD, medidos por los arcos DC, DA: *agudo* el ángulo ABE cuya medi-

da que es el arco OA, es menor que 90°; y *obtusó* aquel como CBE, al que mide un arco CDO mayor que 90°.

18 Si una línea qualquiera EB cae sobre otra AC, forma siempre con ella dos ángulos ABE, EBC que juntos valen 180°, ó dos ángulos rectos; pues su medida será siempre la mitad de la circunferencia (16). Alargando EB, la RB que cae sobre AC, forma tambien en B dos ángulos ABR, RBC que valen juntos otros 180°.

19 Luego 1.º todos los ángulos que se forman en un punto B qualquiera, valen 360°: 2.º el diámetro AC divide al círculo en dos partes iguales. 3.º Para dividir un ángulo en qualquier número de partes iguales; basta dividir el arco que le mide, en otras tantas partes iguales, y tirar líneas desde el vértice á todos los puntos de division. 4.º Para medir el ángulo APD (fig. 7.^a) que forman dos paredes AO, OD; se alargará con una regla la base AP, y midiendo el ángulo DPC, será lo que le falta para 180° la medida del APD que se desea.

20 Lo que falta ó sobra á un ángulo ó arco para componer 90°, se llama su *complemento*: el del ángulo ABE (fig. 5.^a) es el ángulo EBD: y el de EBC es EBD: y así el complemento de un ángulo agudo es positivo, el del ángulo recto es nulo, y el del

obtuso es negativo.

21 *Suplemento* de un ángulo es lo que le falta ó sobra para componer 180° : el ángulo ABE por eg. es suplemento de EBC y al contrario. De consiguiente el ángulo agudo tiene un obtuso por suplemento, el recto otro recto, y el obtuso un agudo.

22 Supuesto que los ángulos iguales deben tener suplementos y complementos iguales; y que deben ser iguales los ángulos que tengan unos mismos complementos y suplementos; colegiremos *que si se cortan como quiera, dos líneas ER, AC, serán iguales los ángulos ABE, RBC opuestos al vértice* que llamaremos por eso *verticales*; pues tienen ambos un mismo suplemento, que es el ángulo EBC: lo mismo se debe entender de los ángulos EBC, ABR, cuyo suplemento común es el ángulo ABE.

23 *Si dado el ángulo OCD* (fig. 8.^a) *se pidiese formar otro igual en un punto B de la recta AB*; se trazará desde C con qualquier abertura de compás el arco OD, con la misma abertura se trazará desde el punto dado B el arco indefinido AR; se tomará despues con el compás la distancia OD, que se trasladará de A á T, y tirando por B y T la línea BT, se habrá formado el ángulo TBA igual á OCD: pues que los arcos AT, DO que los miden, se han hecho iguales.

24 Con el instrumento MHDT (fig. 9.^a) que es un *semicírculo* de alaton ó cuerno dividido en sus 180° con sus suplementos debajo para poderlos contar por la derecha y por la izquierda; se puede formar en el papel un ángulo qualquiera de 30° por eg. en el punto B de una recta BC, aplicando el radio BT del instrumento sobre BC y de manera que coincida su centro con el punto B, y tirando despues por este punto y el núm.^o 30° que se pide, la recta AB; pues el ángulo ABC que resulta, es de 30° .

Asimismo, para medir con dicho instrumento un ángulo qualquiera ABC; puesto su centro en el vértice B del ángulo, y el radio BT sobre uno de sus lados: el arco DT que intercepten sus lados, alargados si es menester, mostrará el número de grados de que consta el ángulo ABC.

25 Un *semicírculo* (fig. 10.^a) de alaton de 7 á 15 pulgadas de diámetro dividido en 180° y en medios, quartos &c. de grado á proporcion de su magnitud, sirve para medir y formar ángulos en el terreno. A este fin se coloca sobre un pie, y por medio de dos tornillos se le pone derecho, inclinado ó en qualquier otra situacion que requiera la direccion de las miras á los obgetos que forman los ángulos.

26 Para dirigir á estos las líneas visuales

hay una regla ó alidada CD movable al rededor del centro que tiene en medio una línea central con una flor de lis en su extremo, que señala los grados. Al lado de ella hay doce divisiones, cada una de las cuales equivale por lo comun á $\frac{5}{12}$ de grado ó á $55'$, para sacar el valor del ángulo con mas exâctitud, quando la línea central no señala en el instrumento número fijo de grados. En los extremos de la alidada hay tambien dos pínulas m, n clavadas y hendidas muy perpendicularmente, lo mismo que las que tiene el diámetro inmovil AB en los puntos $0^\circ, 180^\circ$. Quando los obgetos estan á mas distancia que de ocho á nueve mil varas, se usa de un anteojo que con otro colocado en el diámetro inmovil, descubre con mas claridad los obgetos. Mas adelante hablaremos del modo de hacer uso de este instrumento.

Lineas perpendiculares y oblicuas.

27 Si una recta AS (fig. 11^a) cae cortando la BD sin inclinarse á un lado ni á otro, ó formando los ángulos ACB, ACD iguales, que serán rectos (17 y 18), se llama perpendicular á ella. Qualquiera otra DS que corte la BD inclinándose mas un lado que á otro, se llama oblicua.

28 Luego 1^o la BD que no se inclina á

A ni á S será tambien perpendicular á AS .
2^o Si qualesquiera dos puntos A, S de una línea AS están á igual distancia de otros dos B, D de la BD : todos los puntos de la AS , distarán igualmente de B y D ; pues los puntos de una línea tienen todos la posicion que dos de ellos (3): de consiguiente la AS no se inclinará á B ni á D , y le será perpendicular. Y como C ha de distar igualmente de B y D , dividirá tambien AS á la BD por medio.

29 3^o Con un solo punto A que tenga la perpendicular AS á igual distancia de los dos B, D de la BD sobre que cae, los deberá tener todos y dividirla por medio en C : pues si algun punto R por eg. no distara lo mismo de D y B , se inclinaria por esta parte á un lado mas que á otro, contra el supuesto de ser perpendicular.

30 4^o De todas las rectas AB, AE, AC, AO &c. (fig. 12^a) que se pueden tirar de un punto A sobre otra BD , la perpendicular AC es mas corta que qualquiera otra, AB por eg. Pues haciendo $CS=AC$, y tirando BS ; se tiene la AS menor que las dos $AB+BS$, y de consiguiente la mitad AC de AS mas corta que AB , mitad de $AB+BS$. Lo mismo se probará de otra qualquiera. Decimos que AB es la mitad de $AB+BS$ ó que $AB=BS$; porque estando el punto C de

la perpendicular CB á igual distancia de A y de S, lo estará tambien su punto B (29), y $AB=BS$.

31. *Las líneas mas oblicuas ó que distan mas de C, son las mas largas; y así AB es mayor que AE; pues siendo $AB=BS$ mayor que $AE=ES$, será la mitad AB de las primeras mayor que la mitad AE de las otras. De consiguiente serán iguales las AE, AO, tiradas a E, O puntos igualmente distantes de C.*

32. 5.ª *La perpendicular mide la distancia que hay de un punto, á una recta, ó de una recta á otra, pues es el camino mas corto.*

33. 6.ª *Desde un punto A no se puede tirar mas perpendicular sobre BD que la AC; pues esta sola es la mas corta que se puede tirar desde A sobre BD (30). Ni tampoco desde C se puede levantar á BD mas perpendicular que CA: pues otra qualquiera se inclinará á un lado mas que á otro.*

34. *Para levantar una perpendicular en el punto C de la línea BD (fig. 11.ª); se tomarán dos puntos E, O á igual distancia de C, y haciendo de ellos centro, se trazarán con el compás con una abertura mayor que EC, dos arcos que se corten en un punto qualquiera A; se tirará por A y C la AC, y esta será la perpendicular (28): pues tiene dos puntos A, C á igual distancia de los dos E, O.*

35. *Desde un punto A se bajará una perpendicular sobre BD; trazando desde A con el compás un arco qualquiera EO que cortela BD en dos puntos E, O; y desde estos los dos arcos que se corten en S: tirese despues AS, y será la perpendicular (28): pues tiene tambien A y S á igual distancia de E y O.*

36. *De lo que se infiere que si se pudiese dividir por medio una recta BD; se trazarán haciendo centros en B y D, dos arcos que se corten en A y S, y la AS tirada por A y S, dividirá por medio la BD: pues distando igualmente A y S de B y D, todos los demas puntos de AS como C, distarán igualmente de B y D (28), y será $BC=CD$; luego &c.*

37. El instrumento ABC (fig. 13.ª) de alaton con una charnela en B para que cerrado quepa en el *Estuche matemático*, se llama *Escuadra*, y sirve para tirar perpendiculares en el papel; porque sus dos lados AB, BC forman un ángulo recto ABC. El mismo uso tiene la escuadra H de una madera dura y lisa.

38. *Para tirar en el terreno una perpendicular á la línea AB (fig. 14.ª) desde un punto C; se fijará en este punto el medio de una cuerda, cuyos estremos se han de atar bien tirantes en dos puntos A, B de AB; se dividirá la AB por medio en D, y la CD será la perpendicular (28); por tener C y D á igual distancia de A y B.*

Se levantará desde D una perpendicular á AB ; tomando $AD=BD$, atando en A y B los extremos de una cuerda , por cuya mitad C y el punto D se tirará la CD , que será la perpendicular por lo que acabamos de decir.

39 Para esta operacion es muy comodo y comun el valerse del *Cartabon* ó *Escuadra de Agrimensor* (fig. A) que es un círculo bastante grueso de alaton ó madera de cinco á siete pulgadas de diametro cortado á ángulos rectos por dos diametros de igual grueso, en cuya mitad hay dos lineas que dividen el círculo en quatro partes iguales, con pínulas hendidas en sus extremos semejantes á las del Grafometro , lo mismo que el pie sobre que se coloca.

Para levantar en el punto C (fig. B) una perpendicular á la linea AB ; colocado el cartabon en C , se alineará con la recta MNOP en que rematan los jalones clavados en la AB , la visual dirigida por las pínulas *t*, *s* ; se hará despues colocar un jalón R de manera que se alinee con las otras pínulas *o*, *r* : hagase lo mismo con otro Q puesto á dos ó tres estadales de R, y si parece algun otro mas ; y será la linea CH la perpendicular que se busca. Casi del mismo modo se baja una perpendicular al terreno desde un punto T , yendo acercando el instrumento hasta encontrar la linea TD con la visual que se dirige por las pínulas *o*, *t*.

40 Llamaremos *paralelas* aquellas lineas AB, CD, EP (fig. 15.), cuyos puntos correspondientes distan todos igualmente los unos de los otros: de consiguiente serán iguales todas las perpendiculares HO, MN, que se tiren entre ellas , que miden dicha distancia (32): y como ninguna de las paralelas puede inclinarse ácia las otras , aunque se alarguen infinitamente nunca podrán juntarse.

41 De aqui se infiere 1º que si dos lineas AB, EP son paralelas á otra CD, serán paralelas entre sí ; pues siendo por la suposicion $HO=MN$, y $OR=NS$, será $HO+OR=MN+NS$ y &c.

42 Lo 2º que si se toman dos puntos H, M á igual distancia de la recta CD, y se tira por ellos la AB ; será paralela á CD.

43 Lo 3º que si de dos paralelas EC, PD (fig. 16.) la una EC es perpendicular á AD, tambien lo deberá ser la PD , que por no estar inclinada á su paralela EC , ha de tener la misma inclinacion con la AD. Y al contrario , si una recta AD es perpendicular a EC, lo será tambien á su paralela PD (27 y 40). Ultimamente , si las EC , PD son perpendiculares á AD , serán paralelas ; pues cayendo ambas sobre AD, sin inclinarse á un lado ni á otro, no estarán inclinadas la una á la otra ; luego serán paralelas.

44 Como las líneas paralelas AB , CD (fig. 17) tienen igualmente distantes sus puntos correspondientes, no estarán inclinadas la una à la otra; y de consiguiente tendrán ambas una misma inclinacion con otra línea qualquiera SR que las corte, que se llama *secante*: y como esta inclinacion forma à la derecha de la secante los ángulos o y t por cima, x y n por bajo de las paralelas; y à la izquierda de dicha secante los ángulos p y z , e y m ; tendremos que quando una recta SR corta dos ó mas paralelas 1^o forma iguales los ángulos o y t , x y n ; p y z , e y m , los quales se llaman *correspondientes*.

45 Lo 2^o También son iguales los ángulos alternos t y e , x y z ; p y n , m y o ; porque siendo o y t , iguales, y $o = e$ (22), será también $t = e$, y lo mismo se prueba de los demas, que se llaman *alternos* por formarse alternativamente, uno por cima y otro por bajo de la secante: e , t ; x , z son alternos *internos* porque están entre las paralelas; n , p ; o , m , *externos* por estar fuera.

46 Lo 3^o Los ángulos internos t , x , de un mismo lado de la secante son suplemento el uno del otro; porque siendo $e = t$ (45), y e suplemento de x (18); lo será también t : también e es suplemento de z .

47 Al contrario, siempre que una recta RS corta á otras dos AB , CD formando los

ángulos correspondientes iguales, serán dichas líneas paralelas: porque siendo igual su inclinacion con la SR , no estarán inclinada la una à la otra. También serán paralelas AB , CD si resultan iguales los ángulos alternos: porque si $e = t$, siendo $e = o$ (22), será también $t = o$, es decir, iguales los ángulos correspondientes, y las líneas paralelas. También lo son quando t es suplemento de x ; pues siéndolo igualmente e (18), se tendrá $t = e$, y $t = o$: luego &c.

48 De aqui inferirémos 1^o que si dos ángulos MNA , CDE (fig. 18) tienen sus lados AN , ED ; MN , y CD paralelos, serán iguales: porque alargando uno de los lados AN hasta B , se tiene $ANM = ABC = EDC$ (44).

49 2^o Que si se pide tirar una paralela à la recta CD (fig. 17) por un punto qualquiera p ; tirada por p qualquiera recta RS , se traza desde n con qualquier intervalo np el arco pq , y desde p con el mismo intervalo el arco indefinido rh : se toma despues la distancia pq , y trasladada de r à h , se tirará por p y h la AB que será la paralela que se busca; por haberse hecho iguales los ángulos correspondientes pnq , rph (23).

3^o Si se pidiese levantar una perpendicular en el estremo D (fig. 16) de una recta AD que no se puede alargar; se levantaría en qualquiera de sus puntos la perpendicular

CE, y tirando como acabamos de decir, por el punto D una paralela á CE, sería perpendicular (43).

50 Con el instrumento (fig. C) compuesto de dos reglas unidas con dos hojas todas de laton, y paralelas, que se estrechan y apartan á arbitrio; se tiran quantas paralelas se quieran en el papel: y para que no se manche con tinta, tiene un challoan una de las reglas.

En el terreno se tira una paralela á la recta AB por el punto C (fig. D); levantando en A y B dos perpendiculares iguales AB, BD; y tirando por C y D la CD que será paralela á AB (42).

Por esta operacion se continua una línea AC (fig. E) mas allá de un obstaculo: pues si se levantan en A y C las dos perpendiculares iguales AE, CF, y tirando por E y F la EFH paralela á A, se bajan por dos de sus puntos G, H, las GD, HB iguales y perpendiculares á EH; será DB continuacion de AC.

De las Líneas y de los Angulos en el círculo.

51 Una recta CT (fig. 19) tirada perpendicularmente desde el centro de un círculo á una cuerda DS, la divide por medio lo mismo que á su arco DTS: porque estando el punto C de dicha perpendicular á igual distancia de

los dos D y S, lo estarán todos los demas de CT (29); luego P y T distarán igualmente de D y S, y será de consiguiente $DP=PS$, y $DT=TS$.

52 Al contrario, si la CT divide por medio en P la cuerda DS, tendrá dos puntos C y P á igual distancia de D y S, y de consiguiente será perpendicular á DS: lo mismo sucede quando CT divide por medio al arco DTS.

53 Luego 1º los arcos ZD y QS de un mismo círculo comprendidos entre paralelas son iguales: pues dividiendo CT por medio á los arcos ZDTSQ, y DTS, si de $ZDT=TSQ$ quitamos $DT=TS$, quedará $ZD=QS$.

54 2º Se podrá dividir un arco qualquiera ZTQ en dos partes iguales con la perpendicular bajada desde el centro sobre su cuerda ZQ; y la perpendicular CH bajada sobre TQ dividirá su mitad TSQ en otras dos. De suerte que toda la circunferencia de un círculo podrá dividirse en quatro partes iguales, tirando en ella dos diámetros perpendiculares ED, AC (fig. 4.), y si cada uno de los arcos iguales AQD, DPC &c. se divide por medio, resultarán ocho arcos iguales; y se habrá partido la circunferencia en 16, 32, 64 &c. partes iguales dividiendo sucesivamente por medio dichos arcos.

55 3º Si dados tres puntos M , N , O (fig. 19) se pidiese trazar un círculo por ellos, ó encontrar un punto C igualmente distante de los tres; se tirarán las cuerdas MO , NO , y divididas por medio con las perpendiculares RC , LC ; el punto C donde estas concurren, es el centro del círculo que pasará por M , N , O : pues debiendo dichas perpendiculares pasar ambas por él (52), no puede ser otro que C , único punto que tienen comun.

56 La operacion es la misma quando se da el arco MNO y se pide su círculo ó su centro: pero es esencial que los tres puntos no esten en línea recta; pues si se diesen los puntos A , C , D (fig. 16), las perpendiculares EC , PD debiendo ser paralelas (43), no podrian encontrarse.

57 De donde se inferirá que una recta no puede cortar à un círculo en tres puntos: como tambien, que dados tres puntos que no están en línea recta, queda determinado un círculo, que no podrá equivocarse con otro: pues si dos circunferencias se pudiesen cortar en tres puntos, tendrian un mismo centro, y no serian dos sino una la circunferencia.

58 Si desde un punto A (fig. 20) que no sea el centro de un círculo, se tiran à la parte de la circunferencia mas distante varias rectas AE , AD , AB , AF &c. 1º AB que

pasa por el centro, es mayor que qualquiera otra AD : pues tirando el radio $CD = CB$, AD es menor que $AC + CD$, ó que $AC + CB$ ó que AB .

59 2º AD es mayor que AE , que dista mas del centro; pues tirado el radio CE , serán $CQ + OD$ juntas mayores que CD ó que CE su igual; quitando CO comun, queda OD mayor que OE , y añadiendo à ambas líneas OA , será $DO + OA$ ó DA mayor que $EO + OA$: y como $EO + OA$ son mayores que EA , será AD mucho mayor que AE .

60 Si se tiran à la parte de circunferencia mas inmediata las rectas AM , AN &c. la AM que alargada pasa por el centro, es la mas corta: pues tirado el radio CN , se tiene $CA + AN$ mayores que CN ó que CM su igual: quitese CA comun, y queda AN mayor que AM .

61 Quando el punto A (fig. 21) está fuera del círculo, sucede lo mismo: pues siendo $AN + NC$ mayores que AC , resulta quitando de una parte el radio CN y de otra el CM , AN mayor que AM . Serán pues, iguales las líneas tiradas desde qualquier punto (fig. 20 y 21) à igual distancia del centro C : y como solo hay dos con esta condicion, una à la derecha de la AB y otra à su izquierda; no se podrán tirar desde dicho punto

tres líneas iguales á la circunferencia , y si desde algun punto se pueden tirar mas de dos líneas iguales , será sin duda el centro del círculo.

62 *Tangente* de un círculo es una línea AT (fig. 22) que aunque se alargue no corta sino toca su circunferencia , y es solo en un punto que se llama del *contacto* ; pues si le tocase en dos *m* , *n* , tiradas al centro las *Cm* , *Cn* que serian iguales (11) , serian mayores que la perpendicular CT , que se tirase entre ellas (30) : luego estando el punto T en la circunferencia , deberán caer fuera de ella *m* y *n* . Una línea AB que desde qualquier punto A fuera del círculo le corta en dos puntos E y B , se llama *secante* .

63 Tendremos pues 1.º que el radio CT debe ser perpendicular á la tangente (3) ; pues es la línea mas corta que se puede tirar desde el centro á dicha tangente ; y al contrario , la perpendicular AT al extremo T del radio CT , será tangente al círculo . Y así para tirar una tangente al círculo en un punto T ; se tira el radio CT , y se levanta en T la perpendicular AT : la qual debe ser única , por no poderse levantar mas perpendicular que una desde qualquier punto T (33) .

64 2.º Si tres circunferencias de círculo se tocan dentro ó fuera ; los centros C, D, R de los círculos , y el punto o del contacto es-

tán en una línea recta : porque debiendo los radios Do, Ro, Co ser perpendiculares á la tangente ; formarán una sola línea recta (63) ,

65 3.º Qualquier otra recta DO (fig. 23) tirada por el punto T que no sea la tangente , corta al círculo ; de suerte que qualquier ángulo rectilíneo BTD es mayor que el mistilíneo BTPD , el qual será infinitamente pequeño : pero sin embargo puede ser dividido por infinidad de arcos Th , Tb &c. que se van acercando á la tangente AB , á proporcion que son mayores los radios con que se describen .

66 Conviene á veces medir los ángulos no con arcos descritos desde su vértice , sino con los de algun círculo junto al qual , ó dentro del qual están formados ; y por eso vamos á señalar á cada uno la medida que le corresponde , segun su diferente posicion . Empecemos por el ángulo ATD (fig. 24) que forma la tangente AT con la cuerda TD , que se llama *ángulo del segmento* , y tiene por medida la mitad del arco TRD que subtende la cuerda .

Para demostrarlo , tirese por el centro el diámetro PQ paralelo á la cuerda TD , el RS perpendicular á PQ y el radio TC . El ángulo recto RCP es igual al ángulo ATC también recto : quítese de ambos el ángulo TCP igual á su alterno DTC , y quedará DTA=

RCT : y como al ángulo RCT le mide el arco RS (16), mitad de DRT (51); este mismo medirá también al ángulo ATD. Valiendo los dos ángulos ATD, DTB 180° (18) ó la mitad de toda la circunferencia TRDQSPT; si de ella se quita la mitad del arco RTD, medida del ángulo APD, quedará la mitad de DQSPT por medida del ángulo DTB.

67 De esta proposición se infiere que la medida de un ángulo BTD (fig. 25) cuyo vértice está en la circunferencia (se llama *inscripto*) es la mitad del arco BD que comprenden sus lados, que son dos cuerdas. Porque tirada la tangente AT, si de la medida del ángulo ATB, que es la mitad de TDB, se quita la del ángulo ATD, que es la mitad de TD; quedará la mitad de BD que será medida del ángulo BTD.

68 Luego 1º el ángulo del centro BCD es duplo del inscripto BTD que insiste sobre el mismo arco; pues la medida de BCD es el arco BD, y la de BTD, $\frac{1}{2}$ BD. Lo 2º Todos los ángulos inscriptos A, B, C, (fig. 26) de un mismo círculo que insisten sobre un mismo arco FD, son iguales; pues que tienen una misma medida.

69 Lo 3º *Todo ángulo inscripto BTR* (fig. 27) *que estriba sobre el diámetro, es recto*; pues vale la mitad de 180° ó 90° . El que insiste en un arco menor que la semi-

circunferencia como TRB es agudo, y el que estriba como NMR, en mayor arco que la semicircunferencia, es obtuso.

70 De consiguiente se podrá levantar en el extremo T de la recta TB una perpendicular; trazando un círculo desde cualquier punto C con el intervalo CT, tirando por el centro y el punto B en que el círculo corta la BT, el diámetro BR; pues la TR será perpendicular á BT; por ser el ángulo RTB recto.

71 Si se diese en el terreno la recta BD (fig. 28) para levantar en su extremo D la perpendicular; se atarán en B y D los extremos, y en A la mitad de una cuerda BAD: y pasando la parte AB á ser AC, será la CD perpendicular. Y al contrario, para bajar desde C una perpendicular ácia el extremo de la DB; atada la cuerda en C y B, y dividida en su mitad A, se pasa la AC á AD; y tirando CD, será la perpendicular. Porque siendo iguales las AC, AB, AD; será A el centro del círculo que pasa por C, D, B (57): y de consiguiente será CB diámetro, el ángulo CDB recto (69), y la CD perpendicular.

72 Para tirar dos tangentes á un círculo desde un punto O (fig. 29) dado fuera de él; después de haber tirado la OC á su centro, se trazará desde su mitad H con el intervalo OH un círculo que cortará al dado en los dos puntos B, T, por los cuales y O tirando

las OB, OT serán las tangentes: pues tirando los radios BC, CT; serán rectos los ángulos CBO, CTO (69): luego las OB, OT serán perpendiculares, y de consiguiente tangentes.

73 Si se pidiese trazar sobre la recta BD (fig. 30) un segmento de círculo, tal que todos los ángulos inscriptos en él como BAD, sean iguales á un ángulo dado X; se hará en uno de los extremos B de la BD un ángulo DBF igual á X, se levantará sobre BF la perpendicular indefinida BH, y en medio de BD otra perpendicular PT que cortará á la BH en un punto C que será centro del círculo que se pide: pues siendo la medida del ángulo DBF ó X la mitad de BTD (66), la misma que tiene el ángulo inscripto BAD y qualquier otro que insista sobre la cuerda BD; será el segmento BNAHD capaz del ángulo X como se pidió.

74 Por esta proposición será fácil determinar el sitio de un punto T qualquiera (fig. 29), conociendo el valor de los ángulos RTB, BTO que con dicho punto forman las rectas TR, TB, TO tiradas á los tres objetos R, B, O, cuya situación es conocida: pues tirando las líneas BR, BO, y trazando sobre BR una porción de círculo capaz del ángulo dado BTR, y sobre BO otra capaz del ángulo BTO; debiendo el punto T caer

en ambos círculos; será aquel en que los dos se cortan.

75 La medida del ángulo BAR (fig. 31) que se llama *escéntrico* por tener su vértice fuera del centro del círculo en que esta, es la mitad de los dos arcos BR+HC que abrazan sus lados alargados. Porque tirando por C la CD paralela á HR, será el ángulo BAR=BCD (44): y siendo (67) la medida de BCD, $\frac{1}{2}BD = \frac{1}{2}BR + \frac{1}{2}RD = \frac{1}{2}BR + \frac{1}{2}HC$ por ser RD=HC (53); será la medida de BAR, $\frac{1}{2}BR + \frac{1}{2}HC$.

76 La medida del ángulo ZCB formado en la circunferencia con la cuerda BC y la DC alargada, es tambien la mitad de los arcos BC+CD que subtenden las cuerdas: porque siendo DCB+BCZ=180° (18) ó la mitad de toda la circunferencia CHBRDC, si de ella se quita la medida del ángulo BCD que es $\frac{1}{2}BD$; quedará $\frac{1}{2}BHC + \frac{1}{2}CD$ por la del ángulo BCZ.

77 Un ángulo BAP (fig. 32) *circunscripto*, ó cuyo vértice está fuera del círculo, tiene por medida la mitad del arco cóncavo BP en que insisten sus lados alargados si es menester, menos la mitad del arco convexo HR que comprehenden dichos lados. Porque tirando la RC paralela á HB, el ángulo CRP que es igual á BAP (44), tiene por medida $\frac{1}{2}CP$ ó $\frac{1}{2}BP - \frac{1}{2}BC$, ó últimamente $\frac{1}{2}BP -$

$\frac{1}{2}$ HR: pues $BC=HR$ (53): luego la medida del ángulo BAP es $\frac{1}{2}BP - \frac{1}{2}HR$.

78 Si se tira HM paralela á la tangente AX, se probará del mismo modo que al ángulo XAB le mide $\frac{1}{2}XB - \frac{1}{2}XH$: y últimamente tirando por Z una paralela á AX, se hallará que la medida del ángulo XAZ que forman las dos tangentes, es $\frac{1}{2}XPZ - \frac{1}{2}XHZ$.

De las Figuras.

De los Triángulos y Quadriláteros.

79 Dos solas líneas no abrazan espacio determinado: se necesitan tres, quatro, cinco, ó mas para encerrarle. A este espacio cerrado llamaremos *figura*; *rectilínea*, *curvilínea*, ó *mistilínea*; según sean rectas ó curvas las líneas que la forman: á estas líneas *lados* de la figura: á la suma de todas *ambito*, *contorno*, ó *perímetro*: é *isoperímetras* á las figuras que tienen perímetros iguales.

80 La figura ABC (fig. 33) se llama *triángulo rectilíneo*: se compone de tres lados AB, BC, AC, y de tres ángulos A, B, C: se llama *equilátero* quando sus tres lados son iguales: *isósceles* (fig. 34) quando son iguales dos: *escaleno* (fig. 35) quando los

tres son desiguales: *rectángulo* (fig. 36) quando uno de sus ángulos D es recto: *obtusángulo* quando uno de ellos D (fig. 35) es obtuso; y *acutángulo* (fig. 34) quando todos tres son agudos.

81 Qualquiera de los lados AC (fig. 33) opuesto al ángulo B que se toma por vértice, se llama *base* del triángulo: y *altura*, la perpendicular BT tirada desde el ángulo B del vértice á la base. Se ve que quando los ángulos A, C adjacentes á la base AC son agudos, cae la perpendicular dentro del triángulo: quando es recto uno de dichos ángulos (fig. 36), es el mismo lado AD del triángulo: y quando es obtuso (fig. 35), la OR cae fuera y sobre la base CD alargada. El lado AB (fig. 36) opuesto al ángulo recto D del triángulo ADB, se llama *hipotenusa*.

82 En el triángulo isósceles EDF (fig. 34) la perpendicular ER divide por medio la base DF: porque siendo ED y EF iguales, estará el punto E de la perpendicular ER, y de consiguiente todos los demas (29), á igual distancia de D y F; luego $DR=RF$.

83 Los tres ángulos de qualquier triángulo valen siempre dos ángulos rectos ó 180° . Si se da el triángulo ABC (fig. 37), y se hace pasar un círculo por sus tres ángulos (55), se verá (67), que la medida de todos tres es la mitad de toda la circunferencia; luego valen 180° .

84 De aquí se infiere 1º que alargado qualquiera de los lados BC de un triángulo, el ángulo esterno ACD es igual à los dos internos y opuestos A y B : pues su medida es $(76) \frac{1}{2} (ATC + BRC)$, medidas de A y B (67).

85 2º Que en ningún triángulo puede haber mas que un ángulo recto ó un obtuso: y quando alguno es recto, serán los otros dos complementos el uno del otro (20): y así conociendo el uno, será el otro lo que falta para 90°.

86 3º Que qualquiera de los ángulos de un triángulo es suplemento de los otros dos (21), y se sabrá su valor restando la suma de ambos de 180°: y al contrario, restando de 180° un ángulo de un triángulo, resultará la suma de los otros dos. Por eso si dos ángulos de un triángulo son iguales á dos de otro, el tercero que es el suplemento, será tambien igual al tercero.

87 4º Tambien se infiere que en qualquier triángulo los lados opuestos à iguales ángulos son iguales; y que si son iguales los lados, lo serán tambien los ángulos opuestos. Pues siendo iguales los ángulos, lo deben ser los arcos, sus medidas, y de consiguiente sus cuerdas (12): y si lo son las cuerdas, lo serán los arcos, y los ángulos que miden. Y así en el triángulo isósceles (fig. 34) siempre

son iguales los dos ángulos D, F opuestos à los dos lados EF, ED iguales; y en el equilátero son iguales los tres ángulos, y por lo mismo vale cada uno 60° ó la tercera parte de 180°.

88 5º Que al mayor lado de un triángulo estará opuesto el mayor ángulo, y al menor el menor: y al contrario, el mayor ángulo tendrá mayor lado enfrente: porque mientras mayor sea la cuerda, mayor será el arco, y de consiguiente el ángulo que mide: y al contrario.

89 Dos triángulos ABC, abc, (fig. 88) son iguales 1º si los tres lados del uno son iguales á los del otro, ó si $AB = ab$, $AC = ac$, $CB = cb$; pues sobreponiendo el triángulo abc à ABC de modo que bc caiga sobre BC; el punto b deberá caer en el arco de círculo descrito desde C con el intervalo $bc = BC$, y en el descrito desde A con el intervalo $ab = AB$: caerá pues, en B, en donde se cortan dichos arcos; y el triángulo abc se ajustará ó confundirá con ABC: luego serán iguales.

90 2.º Son iguales dos triángulos ABC, abc que tienen un lado $AC = ac$ adjacente á dos ángulos A, C; a, c iguales; pues poniendo abc, sobre ABC, de suerte que ac caiga sobre su igual AC; caerán los puntos a, c, sobre A, C; y como los ángulos A, a; C, c son iguales, el lado ab caerá sobre AB y cb

sobre CB ; luego el punto b caerá sobre B , y los triángulos por ajustarse ó confundirse, serán iguales.

91 3^o También lo son, quando tienen un ángulo $B=b$ formado por dos lados AB, BC ; ab, bc también iguales; pues sobreponiendo el triángulo abc à ABC , caerán los lados, ab, bc sobre AB y BC por ser iguales los ángulos B, b ; y los puntos a, c sobre A, C por la igualdad de los lados; luego ac caerá sobre AC , y los triángulos se ajustarán, ó serán iguales.

92 Para formar un triángulo de tres líneas dadas, ó cuyos tres lados sean iguales à los del triángulo abc ; se toma una línea $AC=ac$, y trazando desde A con el intervalo ab y desde C con el intervalo cb dos arcos, se tirarán à A y C desde el punto B donde se cortan, las líneas BC, BA ; y se tendrá el triángulo $ABC=abc$. Quando se da una recta AC , y se pide formar sobre ella un triángulo equilátero; se trazan los arcos desde C y A con el intervalo AC , y luego se tiran las AB y BC . Si se diese un lado ac y los ángulos adjacentes a, c para hacer el triángulo; se formarían en los extremos A, C de una recta $AC=ac$ dos ángulos A, C iguales à a, c ; y de los lados AB, BC juntos en B resultaría el triángulo, que se pide. En el caso que se den dos lados ab, bc y el ángulo comprendido b ; se forma un

ángulo $B=b$, y cortando $BC=bc$, $AB=ab$, se tiene el triángulo pedido ABC .

93 El *quadrilátero*, que es una figura formada por quatro líneas y quatro ángulos: se llama *trapezoide* (fig. 39) quando no tiene lado alguno paralelo à otro: *trapecio* (fig. 40) quando dos de sus lados AE, BC son paralelos; y *paralelogramo* quando cada lado es paralelo à su opuesto. El paralelogramo se llama *rombo* (fig. 41) quando sus quatro lados son iguales y desiguales sus ángulos contiguos: *romboide* (fig. 42) quando sus ángulos y lados contiguos son desiguales: *rectángulo* (fig. 43) quando sus ángulos son rectos, y desiguales dos lados: y *cuadrado* (fig. 44) quando sus ángulos y lados son iguales. La recta EB (fig. 42) tirada de un ángulo al opuesto de qualquier figura, se llama *diagonal*: y la perpendicular AT ó BD à la base EC alargada si es menester, *altura del quadrilátero*.

94 Los quatro ángulos de un *quadrilátero* valen siempre 360° ó quatro ángulos rectos: pues tirada la diagonal AC (fig. 40), dichos ángulos son los de los triángulos ACE, ABC que valen 360° (83).

95 Si dos lados AD, CB (fig. 43) de su *quadrilátero* $ADBC$ son iguales y paralelos, lo serán también los otros dos AC, DB . Porque tirada la diagonal AB , los triángulos

$\triangle ACB$, $\triangle ABD$ que tienen el lado AB común, $AD=CB$, é iguales los ángulos t y o (45), serán iguales (91): luego el lado $AC=DB$: y como son también iguales los ángulos alternos x , y , serán paralelos AC y BD (47).

96 De lo que inferiremos 1.^o que la diagonal AC divide el paralelogramo $ADBC$ en dos triángulos $\triangle ACB$, $\triangle ABD$ iguales; pues además del lado AB común à los dos, los ángulos x , y ; t , o son iguales por las paralelas (45): luego (90), serán iguales los triángulos. De consiguiente, un triángulo qualquiera ABC será siempre la mitad de un paralelogramo de igual base y altura que él.

97 2.^o Los paralelogramos $ABCE$, $BCDF$ (fig. 45) de una misma ó igual base BC , que están entre unas mismas paralelas ó que tienen una misma altura, son iguales: pues los triángulos $\triangle ABF$, $\triangle ECD$ que tienen $AB=EC$, $BF=CD$ (95), é iguales los ángulos m , n comprendidos (48), serán iguales (91), quitese de ambos el triángulo EKF común, y quedará $\triangle EKB=CKFD$, y si se añade à ambas partes el triángulo BKC , resultará el paralelogramo $ABCE$ igual al otro $BCDF$. De consiguiente, los triángulos de igual base y altura, ó que teniendo una misma ó igual base, están entre unas mismas paralelas, son iguales; pues son mitades de los paralelogramos iguales.

98 3.^o Las partes HR , TX (fig. 46) de dos paralelas NO , MP interceptadas entre otras dos paralelas AB , CD , son iguales; pues resulta de ellas un paralelogramo $HTXR$ cuya diagonal HX le divide en dos triángulos iguales: luego $HR=TX$: y en todo paralelogramo serán iguales los lados opuestos HT , RX ; HR , TX .

99 4.^o Los ángulos opuestos A y B , C y D (fig. 43) de un paralelogramo son iguales. Porque siendo paralelos AC , BD , deben valer 180° los ángulos A y D (46); y por ser paralelos AD , CB , también D y B valdrán 180° : luego A y B que tienen un mismo suplemento D , serán iguales (22): lo mismo se probará de C y D . De consiguiente, si uno de estos ángulos es recto, lo serán igualmente los otros tres: pues si A es recto, lo será también su igual B ; y habiendo de componer 180° los dos iguales C y D (94), serán también rectos ambos.

100 Si dados dos lados bc , ce (fig. 42), y el ángulo c , se pidiese trazar un paralelogramo; se tomará $EC=bc$, se formará en E un ángulo $E=c$, se cortará $EA=ce$, y tirando por A una paralela à EC y por C otra à EA , resultará el paralelogramo $AECB$ que se pide, el qual será rectángulo: si el ángulo c fuese de 90° , y cuadrado si además fuese $bc=ce$.

De los Polígonos.

101 Se llama generalmente *polígono* à la figura terminada por mas de quatro líneas: y en particular *pentágono* à la que consta de cinco, *exágono* à la que tiene seis, *eptagono* à la de siete, *octógono* à la de ocho, *eneágono* à la de nueve, *decágono* à la de diez, *dódecagono* à la de doce.... *pentecágono* à la de quince &c. Quando todos los lados y ángulos de los polígonos son iguales, se llaman *regulares*, é *irregulares* quando no lo son. Al ángulo **B** (fig. 47) cuyo vértice se mete dentro de la figura, le llamaremos *entrante*: y *salientes* à los demas que caen fuera de la figura.

102 Un polígono *ABCDEF* (fig. 48) cuyos ángulos tienen todos sus vértices en la circunferencia de un círculo, se dice estar *inscripto* en él, ó el círculo *circunscripto* al polígono: su perímetro que es tanto mayor quanto mas lados tiene, es siempre menor que la circunferencia del círculo. Quando los lados de un polígono *PRTHMN* tocan todos al círculo, se dice *circunscripto* à el, y el círculo *inscripto* en el polígono: su perímetro que es tanto menor quanto mas lados tiene, es siempre mayor que la circunferencia del círculo.

De consiguiente, quanto mas lados ten-

ga un polígono inscripto ó circunscripto à un círculo, mas se acercara à su circunferencia: y si el número de lados se concibe infinito ó mayor que qualquiera asignable, se confundira su perímetro con dicha circunferencia del círculo, *el qual se podrá considerar como un polígono infinitángulo ó de una infinidad de lados.*

103 Las perpendiculares *OT*, *OR* &c. (fig. 49) tiradas desde el punto medio *O* ó centro de un polígono *ABCDE* sobre sus lados *AB*, *BC* &c. se llaman *radios rectos* ó *apotemas* del polígono: y *radios oblicuos* à las *OA*, *OB*, *OC* &c. tiradas desde *O* à los ángulos, de suerte que los dividan por medio. Unas y otras son iguales entre sí quando el polígono es regular.

Los oblicuos *OA*, *OB* &c. lo son porque dividiendo la perpendicular *OT* por medio à *AB* (82), tendrán los triángulos *OAT*, *OTB*, *AT=TB*, *OT* comun, é iguales los ángulos *ATO*, *OTB* comprendidos; luego serán iguales (91), y *AO=OB*: lo qual se probará igualmente de *OC*, *OD* &c. También son iguales los radios rectos, *OT*, *OR* &c. porque siendo en los triángulos *OTB*, *OBR*, *TB=BR* por ser mitades de los lados iguales *AB*, *BC*, el lado *OB* comun, y los ángulos comprendidos *OBT*, *OBR* iguales por ser mitades del ángulo *B*; serán igua-

les dichos triángulos (91), y $OT=OR$: lo que se demostrará igualmente de los demas.

104 De aqui se infiere que si se dividen por medio dos de los ángulos A, B de un polígono regular con los radios oblicuos AO, OB , y se traza desde el punto O de su concurso un círculo con el radio OA ó BO , quedará inscripto en él el polígono. Igualmente, si con el intervalo de uno de los radios rectos OT de un polígono se traza un círculo, quedará inscripto en el polígono ó este circunscrito al círculo.

105 *La suma de los ángulos interiores de todo polígono es tantas veces 180° como lados tiene menos dos.* Lo demostraremos del pentágono $ABCDE$ (fig. 50) y lo mismo se demostrará de qualquier otro. Si desde uno de sus ángulos D se tiran diagonales DA, DB á los ángulos opuestos A, B , quedará el polígono dividido en tres triángulos cuyos ángulos valen $3 \times 180^\circ$ (83): y como estos son los mismos que los del polígono, serán estos $3 \times 180^\circ$ ó $(5-2) \times 180^\circ$, que son tantas veces 180° como lados tiene menos dos. Lo mismo sucede en el polígono $ABCDEF$ (fig. 47) no contando el ángulo entrante B por el lado exterior ABC , sino por el interior que comprehende los quatro ángulos ABF, FBE, EBD , y DBC .

106 Si dicha suma se divide en qualquier polígono regular por el número de sus án-

gulos ó lados, se tendrá el valor de cada ángulo. El del pentágono por exemplo, será $(5-2) \times 180^\circ$ ó 540° divididos por 5, que da 108° : el del exágono vale $4 \times 180^\circ$ ó 720° partidos por 6, que da 120° .

107 De consiguiente, para construir qualquier polígono v. gr. un exágono, sobre una recta dada AB (fig. 48); formado en B el ángulo ABC igual al del polígono que es de 120° , se trazará un círculo desde el punto O en que concurren los dos radios oblicuos AO, OB con el intervalo de cualquiera de ellos; y pasando con un compás la distancia AB á los puntos C, D, E, F de su circunferencia á los que se tirarán BC, CD, DE, EF, FA , se habrá descrito el exágono regular.

108 Si desde el centro O (fig. 51) de un polígono se tirán rectas OA, OB &c. á todos sus ángulos, quedará dividido en tantos triángulos como lados tiene, los cuales á causa de sus radios oblicuos iguales, serán isósceles é iguales si el polígono es regular. Con efecto, los ángulos de estos triángulos valen $5 \times 180^\circ$ (83), de donde si se quitan 360° ó $2 \times 180^\circ$ que valen los formados en O que no pertenecen al polígono, quedarán $(5-2) \times 180^\circ$, valor de sus ángulos interiores como lo digimos ya (105).

109 Cada ángulo de los formados en O , se llama *ángulo del centro del polígono*, y su

valor en el polígono regular es 360° , que valen siempre todos, partidos por el número de lados del polígono: en el exágono regular vale 360° partidos por 6 ó 60° : y como solamente 6×60 , 4×90 y 3×120 componen 360° ; solo con triángulos equiláteros en los que vale cada ángulo 60° , con cuadrados cuyo ángulo es de 90° , y con exágonos podrá enlosarse un pavimento con figuras regulares.

110 En qualquiera de los triángulos, ABO, se ve (36) que el ángulo del centro AOB es suplemento de los otros dos ABO, OAB ó del ángulo ABC del polígono à que equivalen: y como tambien es suplemento de ABC el ángulo exterior TBC, será este igual al ángulo del centro BOA. Lo mismo se probará de los demas exteriores RCD, XDE &c. que se forman alargando ácia una misma parte todos los lados del polígono: y de consiguiente *la suma de estos ángulos exteriores de qualquier polígono es siempre 360° como la de los del centro.*

111 Tanto estos como los exteriores disminuyen à proporcion que es mayor el número de lados: y así en el círculo, que se compone de una infinidad de ellos, el ángulo exterior BTPD (fig. 23) es infinitamente pequeño como lo dejamos dicho: y por lo mismo el ángulo CTPD que forma el radio

con la circunferencia, se puede considerar como recto.

112 Valiendo el ángulo del centro AOB (fig. 48) del exágono regular 360° partidos por 6 ó 60° , valdrán tambien 60° cada uno de los ángulos iguales OAB, OBA (83 y 87), y el triángulo AOB será equilátero (80): luego *el lado AB del exágono regular inscripto en un círculo, es igual al radio AO de dicho círculo*: de consiguiente, el diámetro será igual à $\frac{2}{3}$ del perímetro del exágono, y la circunferencia mayor que el triplo del diámetro.

113 Luego *para inscribir un exágono regular en un círculo*; se llevará su radio con un compás seis veces sobre la circunferencia, señalando los puntos A, B, C &c. por los que se tirarán las cuerdas AB, BC &c. que formarán el exágono. Si se tiran despues las cuerdas BF, FD, DB, resultará el triángulo equilátero inscripto FDB; pues cada uno de dichos lados será cuerda de 120° . En él se tiene el radio oblicuo $OB=OC$ duplo del radio recto OX , por ser $OX=XC$.

114 Como cada lado de un polígono inscripto en un círculo es cuerda de un arco igual à 360° partidos por el número de lados; si se pidiese *inscribir un polígono regular en un círculo dado*; se buscará, dividiendo 360° por el número de lados, el arco que

corresponde à cada uno , se tirará la cuerda à dicho arco , valiéndose del *Semicírculo* (24), y repitiéndolo con el compás por toda la circunferencia , quedará inscripto el polígono. Para trazar en este mismo caso el polígono circunscripto , se alargan los radios oblicuos *OC* , *OD* (fig. 49) hasta que encuentran la *PH* tangente al círculo en el punto *Q* , y *PH* será el lado del polígono circunscripto: los demas se determinan del mismo modo.

115 Si se tiran los dos diámetros *AB* , *CD* (fig. 52) perpendiculares el uno al otro, queda el círculo dividido en quatro partes iguales , por las que se podrá dividir (54) en 8 , 16 , 32 , 64 &c. partes. Con el triángulo equilátero ó con el exágono regular se le podrá dividir en 3 , 6 , 12 , 24 , 48 &c. partes iguales.


Si se tira la cuerda *AC* de 90° , la *AH* lado del pentágono ó de 72° , y la *AT* de 60° , y se divide el arco *TC* por medio en *O* ; será *HO* de 3° , que no se puede dividir ya geoméricamente. Con efecto , $AC-AT$ ó $90^\circ-60^\circ=30^\circ$; luego $TO=15^\circ$: y como $TH=AH-AT=72^\circ-60^\circ=12^\circ$; será $HO=3^\circ$, con cuyo intervalo se dividirá el círculo en 120 partes iguales.

De las Líneas proporcionles.

116 Si en una línea *ab* (fig. 53) , que forma con otra *ob* un ángulo qualquiera *abo* , se toman las partes iguales *bn* , *ne* , *eh* , *hk* &c. y por los puntos *n* , *e* , *h* , *k* , se tiran las paralelas *nq* , *es* , *hr* , *kp* &c. cortaràn en la *bo* las partes iguales *bq* , *qs* , *sr* , *rp* &c. pues tiradas las *qz* , *sc* , *rl* &c. paralelas à *ab* ; los triángulos *bnq* , *zqs* , que tienen $bn=ne=qz$ (98) , el ángulo $nbq=zqs$ (44) , y el $bnq=zqs$ (48) , serán iguales (90) , y el lado *bq* será igual à *qs*. De los triángulos *zqs* , *scr* , *rlp* &c. se sacará del mismo modo que son iguales *qs* , *sr* , *rp* &c.

117 Luego la parte *bn* es respecto de la *bq* , lo que *ne* respecto de *qs* , lo que *eh* respecto de *sr* &c. es decir , que $bn:bq::ne:qs::eh:sr::hk:rp::$ &c. de consiguiente será (180 1. t.) *ba* suma de los antecedentes de dichas razones , à *bo* suma de los consecuentes , como un antecedente *bn* à su consecuente *bq* ; como dos antecedentes *be* à dos consecuentes *bs* ; y como qualquier número de antecedentes *nk* à igual número de consecuentes *qp* : ó $ba:bo::bn:bq::be:bs::nk:qp$ &c. de manera que si *ba* es los dos tercios de *bo* , tambien *bn* sera los dos tercios de *bq* ; *be* de *bs* ; *nk* de *qp* &c.

118 De aquí se infiere lo 1º que qualquiera recta *hk* (fig. 54) paralela à la base



ad de un triángulo, divide proporcionalmente los otros dos lados ab , bd : esto es, será $bh:ha::bk:kd$; y $bh:ba::bk:bd$. También será $bd:bk::da:kh$; pues tirando por k la kp paralela à ab , será por lo que acabamos de decir, $bd:bk::ad:ap=hk$ (98).

119 2º Al contrario, siempre que una recta hk divida proporcionalmente los lados ba , ad de un triángulo abd , será paralela à la base ad : porque como la paralela à la base, tirada por k , hade cortar en ba una parte bh que tenga con ha la misma razon que bk con kd (118); la hk de quien esto se verifica, deberá ser paralela à ad .

120 3º Si desde un punto qualquiera b (fig. 55), se tiran à una recta ae muchas otras ba , bc , bd , be ; las cortará proporcionalmente una línea hk paralela á la base, porque (118) en los triángulos bac , bcd , bde , la hk paralela à sus bases, corta los lados de suerte que $bh:ha::bq:qc::bp:pd::bk:ke$, y $bh:ba::bq:bc::bp:bd::bk:be$.

121 Siendo en el triángulo bac (118) $bq:bc::hq:ac$, y en el triángulo bcd , $bq:bc::qp, cd$; será $hq:ac::qp:cd$, ó $hq:qp::ac:cd$: del mismo modo se probará que $qp:pk::cd:de$; luego $hq:qp:pk::ac:cd:de$. Lo mismo se verifica quando la paralela ot corta las ab , bc , bd , be alargadas; pues tomando en ba , $bn=bt$, y tirando por n la nm paralela à ae ; los trián-

gulos bnx , bxs , bsm son iguales à btz , bzr , bro (90), por tener cada uno un lado y los ángulos adjacentes iguales: luego siendo $nx:xs::sm:ac:cd:de$; será también $tz:zr:ro::ac:cd:de$.

122 4º Si la línea bd (fig. 56) divide el ángulo b del triángulo abc en dos ángulos iguales x , o ; cortará el lado opuesto ac en dos partes ad , dc proporcionales á los otros dos lados ab , bc ; esto es, será $ad:dc::ab:bc$: porque tirando por a la az paralela à db que encuentre en z la cb alargada; será el ángulo $o=y$ (44), y $x=t$ (45); y por ser $x=o$, será $t=y$, y (87) $ab=zb$. Como la paralela bd à az corta los lados ac , cz de suerte que $ad:dc::zb:bc$ (118); se tendrá poniendo por zb su igual ab , $ad:dc::ab:bc$. Al contrario, siendo los segmentos ad , dc proporcionales à los lados ab , bc , dividirá la bd al ángulo b por medio: porque siendo $ad:dc::ab:bc$, será $ad:dc::zb:bc$, y (119) la bd será paralela à az , el ángulo $y=o$ (44), y $t=x$; luego siendo $t=y$, será $x=o$.

123 5º Para encontrar una quarta proporcional à las tres líneas dadas m , n , o , (fig. 57); tiradas dos líneas bf , ba que formen un ángulo qualquiera abf , se tomará con el compás sobre bf , br igual à la línea dada m , y la bg del tamaño de la n ; cortese despues en ba , la bp igual à la línea o , tirese por p y r la pr , y trazando por el punto g

la *gt* paralela à *pr*; será *bt* la quarta proporcional à *m*, *n*, *o*: pues en el triángulo *btg* se tiene (118) $br:bg::bp:bt$; ò $m:n::o:bt$.

124 Una tercera proporcional à dos líneas dadas *m*, *n*, se encuentra tomando en *bf*, *br*, y *bg* iguales à *m*, *n*, y sobre *ba*, $bp=n$, tirando *rp*, y por *g* su paralela *gt*; pues siendo $br:bg::bp:bt$, será $m:n::n:bt$ ò $m:n:bt$.

125 6º Para tirar por un punto dado *f* (fig. 58) una línea *fg*, que se encamine en derecha al punto del concurso de las dos *ab*, *de*; quando este punto está demasiado distante para poderse determinar; desde dos puntos qualesquiera de la *ab* se tirarán dos paralelas *ad*, *be* que rematen en la *de*, desde el punto *a* se tirará à *f* la *af*, y à esta la paralela indefinida *bl*; tomese en ella la parte *bg* quarta proporcional à las tres líneas *ad*, *be*, *af*; y tirando por *f* y *g* la *fg*, será la línea que se pide: porque siendo $ad:be::af:bg$; si se tiran otras dos paralelas qualesquiera *mn*, *no*, será tambien $ad:af::mn:no$: luego quando *mn* sea cero, lo será tambien *no*; esto es, quando la *ab* se junte con *de*, se juntará tambien la *fg*.

126 7º Ultimamente, si se pidiese dividir una recta *ab* (fig. 59) en qualesquiera partes, v. g. en ocho iguales: se tomarán en la línea *bf* que forma con *ab* un ángulo qualquiera *abf*, comenzando desde *b* y con qualquier intervalo de compás *bd*, las ocho

partes iguales *bd*, *dx* &c. desde *c* donde concluyen, se tirará la recta *ca*, y trazando despues por los puntos *d*, *x*, *r* &c. paralelas à *ca*; cortarán en *ab* las ocho partes iguales. pues siendo $bc:ba::bd:be$; $dx:eh::xr:hp$ &c. serán *be*, *eh*, *hp* octavas partes de *ab*, como *bd*, *dx*, *xr* &c. lo son de *bc*.

127 Si se hubiera de haber dividido la *ab* en dos partes que tuviesen una razon qualquiera, como 3:5; tomada la suma $3+5=8$ de partes iguales sobre *bc*, y tirada la *ca*, se tiraría por la tercera division la *pr* paralela à *ac*; pues siendo $br:rc::bp:pa$ y $br:rc::3:5$, será $bp:pa::3:5$.

128 En esta doctrina escriba el método de construir las Escalas, instrumento que representa en partes pequeñas las medidas de leguas, toesas, varas &c. tomadas en el terreno. Si se toman por egeemplo, à arbitrio en una línea qualquiera *as* (fig. 60) diez partes iguales *ad*, *dc*, *ce* &c. señaladas con sus números correspondientes 10, 20, 30 &c. y la primera se divide en sus diez unidades que representen varas, pies &c. se tendrá una escala *as* de 100 partes iguales.

Para tomar en ella un número qualquiera 65, de partes; se pondrá en el número 60 una de las puntas del compás y la otra en el 5, y este intervalo será de 65 partes. Igualmente para averiguar el número de partes de la

escala que tiene una línea nm ; tomando su longitud con el compás, poniendo la punta en una de las decenas como 40, y viendo adónde llega la otra, si es á 5 tendrá 45.

129 Para construir una escala mas exácta y universal; tirada en el punto A de una línea AG indefinida, la perpendicular AB de longitud arbitraria (fig. 61), y por B la BP paralela á AG, se dividirá una porcion AH y su igual BD en diez partes iguales, que se señalarán con los números 10, 20, 30 &c. se tirarán despues transversales desde 10 á D, de 20 á 10, de 30 á 20. Repitiendo tambien en la AG diez veces la porcion AH, se levantarán en los puntos F, G &c. las perpendiculares FI, GP &c. á las que se pondrán los números 100, 200, 300 &c. Se dividirá por último la AB en diez partes iguales 1, 2, 3, &c. y tirando por estos puntos paralelas; quedará construida la escala de mil partes, en la que los intervalos HF, FG &c. son de cien partes: D10, 10 20 son de diez, cuyas unidades son tp , on &c.; pues siendo los triángulos D10H, Dtp, Don, Drs &c. semejantes, será DH de diez partes, á H10 de otras diez; como Dr de cinco, á sr de otras cinco; como Dn de dos, á On de otras dos.

130 Si se pidiesen 265 partes de esta escala; supuesto que HG ó sQ vale 200, D60 ó Tr, 60, y rs cinco; será la distancia TQ de

265 partes. Asimismo sabremos cuántas partes contiene de la escala qualquiera recta; tomando su intervalo con el compás, acomodando una de sus puntas sobre alguna de las líneas DH, FI, GP &c. y viendo despues á qué transversal de la BD corresponde.

De las Líneas proporcionales en el círculo y de la semejanza de los triángulos.

131 Dos triángulos atr , bcd (fig. 62) son semejantes, si los tres ángulos del uno son iguales á los del otro, esto es, $a=b$, $t=d$, $r=c$. Quando son iguales los dos ángulos del uno á los del otro, lo son los tres (86): y en los triángulos rectángulos basta la igualdad de uno de los agudos; así como en los isósceles la de qualquiera de los tres. De consiguiente, si dada una línea dc se pidiese trazar sobre ella un triángulo semejante á atr ; se formarán en d y c dos ángulos iguales á t y r , y será el triángulo bdc semejante á atr .

Si en un triángulo atr se tiran paralelas mn , pq &c. á la base; resultarán los triángulos amn , apq , atr semejantes: pues tienen comun el ángulo a , y los otros dos iguales por las paralelas. Lo mismo sucede quando los lados del un triángulo ont (fig. 63) son paralelos á los del otro abc ; pues deben ser equiángulos: ó quando son perpendiculares

los lados unos à otros, como los de *emd*; pues dando à este la quarta parte de una vuelta, quedarán sus tres lados paralelos à los de *abc*.

132 Dos triángulos semejantes qualesquiera *atr*, *bdc* (fig. 62), tienen proporcionales sus lados homólogos ó los opuestos à iguales ángulos; $at:bd::ar:bc::tr:dc$. Porque si se toma en el lado *at*, $am=bd$, y por *m* se tira la *mn* paralela à la base *tr*: tendrán los triángulos *amn*, *bdc* el lado $am=bd$, y por ser semejantes *atr*, *bdc*, los ángulos $a=b$, y $m=t=d$: luego serán iguales (90), y $an=bc$, $mn=dc$: y como por razon de las paralelas *mn*, *tr* se tiene (118) $at:am::ar:an::tr:mn$; será tambien $at:bd::ar:bc::tr:dc$, poniendo por *am*, *an*, *mn*, sus iguales *bd*, *bc*, *dc*.

133 Al contrario, si los lados homólogos de dos triángulos *atr*, *bdc* son porporcionales $at:bd::ar:bc::tr:dc$; dichos triángulos serán semejantes: porque tomando $am=bd$, y tirando *mn* paralela à *tr*; será (118) $at:am::ar:an::tr:mn$: y como por suposicion $at:bd::ar:bc::tr:dc$; será $am:bd::an:bc::mn:dc$: los términos de la primer razon *am*, *bd* son iguales; con que lo serán tambien *an* y *bc*, *mn* y *dc*; y los triángulos *amn*, *bdc* serán iguales (89), luego siendo el triángulo *amn* semejante à *atr* lo deberá ser tambien *bdc*.

134 Dos triángulos *atr*, *bdc* con un ángulr $a=b$, y proporcionales los lados que le

forman $at:bd::ar:bc$, son semejantes. Tomando $am=bd$, y tirando *mn* paralela à *tr*, resulta $at:am::ar:an$: y como se supone $at:bd::ar:bc$, será $am:bd::an:bc$; y siendo $am=bd$, será $an=bc$, y los triángulos *amn*, *bdc* iguales (91): luego siendo *amn* semejante à *atr*, lo será tambien *bdc*.

135 Si desde el ángulo recto *b* (fig. 64) de un triángulo rectángulo *abc*, se baja la perpendicular *bd*; resultan dos triángulos *abd*, *bdc* semejantes à *abc*, y de consiguiente entre sí: pues cada uno de ellos tiene con *abc* un ángulo comun, y un ángulo recto en *d*; luego son semejantes con *abc* (131); y de consiguiente lo serán entre sí.

136 De la semejanza de los triángulos *abd*, *bdc* se saca (132) $ad:bd::bd:dc$ ó $\neq ad:bd:dc$, es decir, que la perpendicular *bd* bajada del ángulo recto de un triángulo rectángulo sobre la hipotenusa, es media proporcional entre sus segmentos *ad*, *dc*. Y como todo ángulo inscripto *abc* (fig. 65) formado sobre el diámetro *ac* de un círculo es recto (69) será tambien media proporcional entre los segmentos *ad*, *dc* del diámetro la perpendicular *bd* bajada sobre él desde qualquier punto de la circunferencia del círculo, esto es, será $\neq ad:bd:dc$, y de consiguiente (175. t. I.) $(bd)^2=ad \times dc$.

137 Y así para encontrar una media

proporcional entre dos líneas dadas m, n ; tomando $ad = m$ y $dc = n$, se juntarán ambas de suerte que formen una sola recta ac , que se dividirá por medio en o : desde o con el intervalo ao se trazará el semicírculo $abhc$, y la perpendicular bd levantada en el punto d del concurso de las dos líneas, será media proporcional entre ad y dc , ó entre m y n (136).

138 De los triángulos abd , abc semejantes (135), se saca $ac:ab::ab:ad$ (132), y de los abc, bdc también semejantes $ac:bc::bc:dc$; es decir, cada lado ab , bc de los que forman el ángulo recto, es medio proporcional entre la hipotenusa y el segmento correspondiente de la base: y por lo mismo qualquiera cuerda ab (fig. 65) tirada desde el extremo del diámetro ac , es media proporcional entre el diámetro y el segmento ad que forma la perpendicular bajada desde b sobre ac ; pues tirada la bc , el triángulo abc es rectángulo en b .

139 Luego si dadas t, r , se pidiese una media proporcional entre ellas; se trazaría sobre $ac = t$ un semicírculo, se tomaría $ad = r$, y levantando en d la bd perpendicular à ac ; sería media proporcional la cuerda ab tirada de a à b : pues en el triángulo rectángulo abc , se tiene $ac:ab::ab:ad$ ó $t:ab::ab:r$.

140 Si despues de haber trazado sobre la hipotenusa ac (fig. 66) del triángulo rectángulo abc un semicírculo, se alargan ab ,

ac , y se levanta en c la ce perpendicular à ac , en e la ef perpendicular à am , y en g, h, k, l, m , las perpendiculares à dichas líneas, se tendrá una série de líneas proporcionales $= ad:ab:ac:ae:af:ag$ &c. en los triángulos rectángulos semejantes abd, abc, ace, aef, afg &c.

141 De las dos proporciones $= ac:ab:ad, = ac:bc:dc$, se saca (175 t. I) $(ab)^2 = ac \cdot ad$, $(bc)^2 = ac \cdot dc$: será pues, sumando ambas quaciones, $(ab)^2 + (bc)^2 = ac \cdot ad + ac \cdot dc$, ó $(ab)^2 + (bc)^2 = ac(ad + dc)$, ó últimamente $(ab)^2 + (bc)^2 = ac \cdot ac = (ac)^2$, que es decir; el cuadrado $(ac)^2$, de la hipotenusa de un triángulo rectángulo es igual á la suma de los cuadrados $(ab)^2 + (bc)^2$ de los otros dos lados.

142 Las partes de dos cuerdas ad, bc , (fig. 67) que se cortan en un círculo, son recíprocamente proporcionales; esto es, ae parte de la 1ª es à eb parte de la 2ª como ec parte de esta 2ª à ed parte de la 1ª: porque tirando las ab y cd , resultan semejantes los triángulos aeb, ced ; por tener los ángulos en e iguales (22), y $c = a$ (68): luego (132) $ae:eb::ec:ed$. Si entre dos paralelas ab, cd se tiran como quiera las ad, bc que se corten, son también recíprocamente proporcionales sus partes por la misma razon.

143 Dos secantes ab, bc (fig. 68) tiradas à un círculo desde un punto b , son recíprocamente proporcionales con las partes es-

teriores br , bd ; de suerte que $bc:ba::br:bd$: porque si se tiran ad y rc , los triángulos brc , bad que tienen además del ángulo b comun, a y c iguales (68), serán semejantes: luego (132) $br:bd::bc:ba$.

144 Si se tiran á un círculo desde un punto una tangente bp y una secante ba , la tangente es media proporcional entre la secante y el segmento esterno, ó $ba:bp::bp:br$. Tiradas las pa , pr , los triángulos apb , pbr son semejantes; pues tienen el ángulo b comun y $a=p$ (66 y 67): luego $ab:bp::bp:br$, y $(bp)^2 = ab \times br$ (175 t. I.) Del mismo modo se verifica que $ab:bo::bo:br$, ó que $(bo)^2 = ab \times br$; será pues, $(bp)^2 = (bo)^2$, y $bp = bo$, es decir, serán iguales las dos tangentes tiradas á un círculo desde qualquier punto fuera de él.

145 Por esta proposicion 1^o se encuentra una media proporcional entre m y n (fig. 69): tomando una línea $bt = m$ y $br = n$, trazando sobre el diámetro tr un círculo, y tirando á él desde b la tangente ba , que será media proporcional entre bt y br , ó entre m y n .

146 2^o Se puede dividir una línea ab en media y extrema razon: así se llama la division de ab en dos partes ad , db tales, que la mayor db sea media proporcional entre la menor ad y toda la ab . Para esto se levanta en el extremo a la perpendicular ac igual á

la mitad de ab , con el radio ca se traza un círculo, por b y c se tira bct , y tomando $bd = br$, quedará la ab dividida en d , de suerte que $ad:bd::bd:ab$. Porque siendo (144) $bt:ba::ba:br$ ó (177 t. I.) $bt-ba:ba::ba-br:br$; como $bt-ba = br = bd$, (por ser $bt-ba = bt-2ac = bt-tr$), $ba-br = ba-bd = ad$; se tendrá $bd:ba::ad:bd$, ó $ba:bd::bd:ad$ (177 t. I.) Quando la parte rt de la secante es igual á la tangente ab , queda la secante dividida en media y extrema razon en r ; pues siendo (144) $bt:ba::ba:br$; será en tal caso $bt:rt::rt:rb$.

147 Si en el triángulo isósceles abc (fig. 70) cuyos ángulos b , c sea cada uno duplo de a ó de 72° , se divide el ángulo b por medio con la bt , quedará la ac dividida en media y extrema razon en t . Porque siendo semejantes los triángulos abc , tbc , por tener el ángulo c comun, y $a = tbc = 36^\circ$; será $ac:cb::cb:ct$, ó $ac:at::at:ct$, pues $cb = bt = at$ por la igualdad de los ángulos (87). Luego si bc es lado del decágono inscripto en un círculo, será el ángulo $a = 36^\circ$ (109), b y c de 72° ; y de consiguiente, tirando bt , será $bc = at$, y el lado del decágono inscripto en un círculo será igual al segmento mayor del radio dividido en media y extrema razon.

De la semejanza de las demas figuras.

148 Tratemos ya de las demas figuras, que para ser semejantes deben tener todas sus ángulos iguales, y proporcionales todos sus lados ó líneas *homólogas*, es decir, las opuestas à iguales ángulos, ó situadas semejantemente en ellas. Serán pues, semejantes los pentágonos $ABCDE$, $abcde$ (fig. 71), si los ángulos $A=a$, $B=b$, $C=c$, $D=d$, $E=e$, y los lados $AB:ab::BC:bc::CD:cd::DE:de$.

149 »Si de dos ángulos homólogos C, c
 »de dos figuras semejantes $ABCDE, abcde$,
 »se tiran à los demas las diagonales CA, CE ;
 » ca, ce ; los triángulos en que queda dividi-
 »da la una figura, serán semejantes à los cor-
 »respondientes de la otra.« Pues los triángu-
 los ABC, abc y lo mismo se prueba de DEC, dec , ademas de los ángulos B, b iguales, tienen proporcionales los lados $AB, BC; ab, bc$ que los forman (148); luego serán semejantes (134). Será pues, el ángulo $n=0$ y (132) $AB:ab::AC:ac$; y como $AB:ab::AE:ae$, será $AC:ac::AE:ae$, es decir, proporcionales los lados $AC, AE; ac, ae$ de los triángulos AEC, aec , ademas de ser iguales los ángulos m y z que forman; pues si del ángulo $A=a$, se quita $n=0$, quedará $m=z$; luego tambien son semejantes los triángulos ACE, ace , y de

consiguiente todos los de las figuras.

150 Por un razonamiento contrario se prueba igualmente que si los triángulos en que una figura se divide, son semejantes à los correspondientes en que se divide otra; son semejantes las figuras. Y así para construir una figura semejante à otra $ABCDE$ dada, y que tenga à bc por lado homólogo de BC ; se llevará bc desde C à b' , se tirará por b' la $b'a'$ paralela à AB que encontrará à AC en a' ; por a' se trazará la $a'e'$ paralela à AE , y por e la $e'd'$ paralela à ED ; y resultará la figura $Cd'e'a'b'$ semejante à $ABCDE$. Tambien pudo haberse trazado sobre el lado bc dado, el triángulo abc semejante à ABC (131), sobre ac , el triángulo ace semejante à ACE , y sobre ec , ecd semejante à ECD , y se hubiera tenido la figura $abcde$ semejante à $ABCDE$.

151 Para copiar una figura qualquiera $ABCDEF$ (fig. 72); 1º se podrá tirar la diagonal BE , y bajando à ella desde todos los ángulos las perpendiculares AO, FS, DR, CP , se verá cuántas partes tienen de una escala la BE , dichas perpendiculares, y sus respectivas distancias BO, OS, SP &c. Tomese despues una línea be del mismo número de partes que BE , y determinadas por uno y otro lado las distancias bo, os &c. de las perpendiculares, dando à cada una el número de partes que les corresponde; quedarán seña-

lados los puntos o, s, p, r ; en los que levantando las perpendiculares oa, sf &c. del mismo tamaño que OA, SF &c. se tendrán los puntos b, a, f, d &c. mas principales de la figura: los demas se pueden dibujar à ojo; advirtiendo que si no basta la BE para determinar dichos puntos por ser muchos, ó por ser grande su distancia respectiva, se tirará otra base perpendicular à BE por cuyo medio se determinarán.

152 2^o Tambien se pudiera haber copiado aplicando el papel ó lienzo en que está la figura à otro, y picando despues con un alfiler sutil los puntos mas principales por los quales se podrán determinar los demas.

153 3^o Si despues de haber picado con un alfiler los puntos de la figura, se aplica sobre otro el papel picado, y se repasan todos ellos con un *Cisquero*, que es un lienzo atado por sus puntas con carbon molido dentro; quedarán señalados dichos puntos en el papel que se renovaràn con tinta ú otro color permanente.

154 4^o Apliquese sobre un papel, otro dado de qualquier color que se quite fácilmente como el de qualquier género de lápiz: póngase sobre ambos la figura que se ha de copiar, y repasando con una punta roma todos los contornos y puntos principales, quedará calcada la figura en el papel.

155 5^o Si se aplica à un cristal la figura dada, en sitio donde le dé bastante luz por atras, y se pone sobre ella un papel; se trasluirá por él toda la figura, y será facil copiar todos sus puntos y contornos.

156 6^o Ultimamente, quando se trata, en especial de la copia de un cuadro ó mapa, se encierra la figura en un cuadrado ó rectángulo $ABCD$ (fig. E), se dividen los dos lados AB, AD en partes iguales, y se tiran por ellas líneas paralelas que dividirán el rectángulo que se llama *Cuadrícula*, en cuadrados pequeños: copiese cada cuadrado correspondiente en otro rectángulo que se forma igual en un papel ó lienzo, dividido en igual número de partes, y con las mismas paralelas, y se tendrá la copia de la figura.

157 Si en lugar de figuras iguales se quisiese una copia semejante que fuese la mitad, el tercio, quarto... del original, se formará una *Cuadrícula* que tenga con la dada la razon que se desea; y por el primer método se tomarán sus líneas con el número de partes de una escala que tenga la misma razon que han de tener las figuras.

158 *Para levantar el plano de un terreno*, ó trazar otro semejante en el papel con las distancias respectivas que tienen los puntos ú objetos principales que en él haya; sirven diferentes instrumentos como el *Grafó-*

metro, la Plancheta, la Brújula &c. Hablaremos ahora de estos dos últimos con relación à los terrenos accesibles por todas sus partes, reservando para despues el uso del Grafómetro en los sitios en parte ó del todo inaccesibles.

La *Plancheta* es una tabla HMNO (fig. 73) de tres pies de largo, y como dos y medio de ancho, colocada sobre un pie como el Grafómetro (25): sobre ella se estiende un papel que se afianza con un bastidor que coge el perímetro de la tabla: y para dirigir por ella visuales á los objetos, se usa de una *alidada* LT con dos pínulas en sus extremos, ó de un anteojo si los objetos están á mucha distancia.

159. Para levantar un plano con este instrumento, se mide una base SR desde cuyos extremos S, R se pueden ver los mas de los objetos que se han de figurar: se pone la *plancheta* en S y un piquete en R, y dirigiendo la *alidada* de manera que por sus pínulas se vea R; se tirará en el papel una base EF, dándole tantas partes de una escala, como varas ó pies tenga SR. Dirijase despues la *alidada* fijo uno de sus extremos en E, à todos los objetos A, B, C &c. del terreno, y por cada direccion se tirará en el papel una línea indefinida. Pasese despues el instrumento à R, dejando un piquete en S, y alineando con él la *ef*, diri-

janse visuales a los objetos A, B, C &c. observados, las quales señaladas en el papel, cortarán las primeras en los puntos *a, b, c* &c. que determinarán la posición de los del terreno, à causa de los triangulos semejantes SAR, SBR, SCR &c. *efa, efb, efc* &c. que resultan.

160. El poco aparato que requiere el uso de este instrumento, le hace apreciable para determinar los puntos ménos principales de un plan forjado ya por un metodo mas exácto. Si se quisiere por exemplo, añadir al anterior *efeba* un punto R omitido; se plantará sobre él la *plancheta*, se dirigirá la *alidada* por los puntos A, *a*, y despues por B, *b*; y el concurso *f* de las líneas *Aa, Bb* tiradas en cada direccion, señalará la situacion de R: en prueba de lo qual la línea tirada por *Cc* pasará tambien por *f*. Por lo demas, suelen ser considerables los errores que pueden resultar en el uso de la *plancheta*, ya por ser muy agudos los ángulos que sobre ella se forman, ya por estar el papel espuesto á moverse. Además de esto, quando el mal temporal interrumpe la operacion, hay que volverla à comenzar si se ha de hacer con exáctitud.

161. La *Brújula* es un instrumento de marfil, madera ú otra materia sólida (fig. 74) de dos hasta seis pulgadas de diámetro, cuya parte interior es un círculo con dos diámetros que se cortan à ángulos rectos. El extremo de uno

de ellos tiene una flor de lys con que se señala el Norte, uno de los quatro puntos *cardinales* del mundo: desde él empieza la división del círculo en sus 360° ácia la derecha del que mira al cielo con la cara al Norte, el qual tiene el *Sur* à las espaldas, el *Oriente* à la derecha y el *Poniente* à la izquierda: así se llaman los otros tres puntos del mundo. En el centro del círculo sobre un exe de cobre puntiagudo se coloca una aguja de acero tocada al iman, muy en equilibrio para que pueda dar vueltas con facilidad; y todo se tapa con un cristal redondo que encaja en un rebajo hecho al rededor del círculo para impedir que el ayre mueva la aguja.

162 Como esta tiene la virtud comunicada del iman, de dirigir uno de sus extremos ácia el Norte y otro ácia el Sur; se cuida de colocar tanto en el grafómetro como en la plancheta una brújula para dar por medio de ella à los objetos la misma situacion en el papel que tienen en el terreno con relacion à los puntos cardinales del mundo. Con este fin se coloca de manera que la línea *Norte Sur* quede paralela con el diámetro del grafómetro; pues siendo la base comun de todos los triángulos que se observan, paralela á dicho diámetro; con solo dirigir paralela à la aguja la línea de *fe'*, que es la que pasa por medio de la alidada; se sabrá con poca diferencia la

situacion de los obgetos respecto de dichos puntos cardinales.

163 Dige con poca diferencia, porque la aguja segun el tiempo y los diferentes lugares, se aparta mas ó ménos de la direccion del Norte. Para saber en cuántos grados se separa, ó el *ángulo de la declinacion* de la aguja con la línea norte sur, hay que tirar esta línea en el terreno. Lo que se puede hacer trazando desde un punto dos líneas de treinta à quarenta estadales, una ácia el sol naciente y otra quando se pone, y dividiendo por medio el ángulo que formen las dos, con una línea, que será la *meridiana* ó norte-sur. Si à esta meridiana se aplica una de las bases AB de la brújula, quedará con ella paralela su línea norte-sur; y el ángulo que con ella forme la aguja, restado de 360° , dará el de la declinacion.

164 Con ningun instrumento se levantan mas fácilmente los planos que con la brújula; pero ninguno ocasiona mayores equivocaciones, ya sea por tomarse muy agudos los ángulos por la pequeñez de las agujas, ya sea por no haberse acaso apartado lo bastante de alguna mina de hierro en el terreno; y en casa, de utensilios de hierro, puntas de compás, ó de otra brújula. Por eso suele servir solamente para determinar *el por menor* de un plano; como el curso de un rio, la

direccion de un camino, el circuito de una laguna, bosque &c.

165 Para qualquiera de estos casos se plantarán piquetes A, B, C, D, E (fig. 75) en todos los recodos mas reparables, se colocará la brújula en A, y suponiendo que sea AH la direccion de la aguja; se medirá la AB, y se verá qué número de grados tiene el ángulo HAB. Puesto el instrumento en B, se medirá igualmente la BC, y el ángulo HBC, repitiendo esto mismo en cada recodo. Se tomará despues en el papel un punto *a*, y tirando à arbitrio la *ah* que represente la direccion de la aguja; se formará con el *Semicírculo* un ángulo *hab* = HAB, dando à *ab* tantas partes de una escala como varas ó pies tuvo AB: se tirará despues por *b* la *hb* paralela à *ab*, y se hará el ángulo *hbc* = HBC, dando à *bc* tantas partes como medidas tuvo EC: practíquese lo mismo en los demas puntos, y se habrá levantado el plan propuesto.

166 Los perímetros de dos figuras semejantes ABCDE, abcde (fig. 71) sean regulares ó no, tienen entre sí la misma razon que sus lados, porciones, diagonales y demas líneas homólogas. Porque siendo (148) AB:ab::BC:bc::CD:cd::DE:de, será (180 t.I.) AB + BC + CD + DE ó ABCDE perímetro de la una figura y suma de los antecedentes, à abcde perímetro de la otra y suma de los consequentes;

como un antecedente AB à su consequente *ab*; como qualquier número de antecedentes AB + BC + CD ó ABCD, à igual número de consequentes *abcd*. Y como AB:ab::AC:ac::CE:ce &c. (149), serán tambien los lados y perímetros proporcionales à las diagonales, y en los polígonos regulares à los radios rectos, oblicuos &c. de manera que la figura de un perímetro duplo del de otra tendrá lados, diagonales, radios duplos; triplos si fuese triplo el perímetro &c.

167 Todas estas proposiciones tienen lugar en el círculo, polígono infinitángulo (102), que podemos imaginar dividido en infinitos triángulos con radios tirados à todos sus puntos, que serán las bases y lados infinitamente pequeños del polígono. De consiguiente, *las circunferencias de los círculos son entre sí como sus radios, diámetros, cuerdas y arcos semejantes*. De manera que dado el diámetro y circunferencia de un círculo, y el diámetro de otro, si se nos pidiese su circunferencia; diríamos, *el primer diámetro es à su circunferencia, como el segundo diámetro à la circunferencia que se busca*, que sería el 4º término de la proporcion.

Pero hasta ahora está por averiguar la circunferencia ó porcion de línea recta que exactamente corresponde à cierto diámetro, ó la razon del diámetro à la circunferencia: teni-

éndose ya casi por imposible la que se llama (180) *Cuadratura del círculo*. Sin embargo, son suficientísimas para la practica las razones 7:22 que tiene el diámetro á la circunferencia segun *Arquimedes*, en la que sale un solo pie de ménos en un círculo de 800 pies: 113:355 que halló *Mecio*, y que da un pie de falta en una circunferencia de 1000000, y 1:3,1415926535897932 &c. hasta ciento veinte y siete notas decimales.

168 Si se diese un diámetro de 16 varas, hallaríamos su circunferencia de $50\frac{2}{7}v.$ diciendo, $7:22::16:50\frac{2}{7}v.$ y al contrario, el diámetro 16 *v.* de una circunferencia que tiene $50\frac{2}{7}v.$ se encuentra por la proporcion $22:7::50\frac{2}{7}v.:16:$ Ultimamente, si dado el diámetro de 20 *v.* se pidiese la longitud de un arco de $32^{\circ} 40'$, se buscará primero la circunferencia que es de $62\frac{6}{7}v.$ y despues se dirá, si toda la circunferencia ó 360° tiene 62 $\frac{6}{7}v.$ ¿quántas tendrá $32^{\circ} 40'?$ Saquese el último término, y saldrán $5\frac{1}{2}$ varas.

De las Superficies y Planos.

169 El segundo género de estension en longitud y latitud que se llama *area* ó *superficie*, es el espacio que encierran las líneas: y segun sean estas rectas ó curvas, será *rectilínea*, *curvilínea* ó *mistilínea* la superficie.

Tambien se llama *plana* la superficie perfectamente lisa sin hoyos ni eminencias, como la del cristal: y *curva* aquella cuyos puntos no están igualmente altos y bajos: esta será *convexa* ó *cóncava* como el exterior é interior de un caldero.

170 Dicha superficie plana que se considera formada de infinidad de líneas que llenan todo su espacio (1), se llama *plano* quando se imagina separada de los cuerpos; y como no tiene grueso, cavidades ni prominencias, *qualquiera recta que le toque en dos puntos; le tocará en todos*; pues si no, tendria una parte en el plano y otra mas elevada; y no seria recta. Por lo mismo, un *plano puesto sobre otro le toca en todos sus puntos*, y forma con él un solo plano; pues se tocan precisamente todas las rectas que los forman.

171 Tres puntos que no están en línea recta, determinan la situacion de un plano; porque si dos planos pudieran tener tres puntos comunes, ó los tendrían todos y formarían un solo plano, ó tendria uno de ellos alguna parte elevada sobre el otro plano, lo que no puede ser (169). De consiguiente, tres puntos que no esten en línea recta, no pueden ser comunes á dos planos.

172 De aquí se infiere que por tres puntos cualesquiera *v. gr.* los de un triángulo, se podrá hacer pasar un plano: y de consi-

guiente dos rectas BD , BC (fig. 76) que se corten, estarán en un mismo plano, determinado por los tres puntos D , B , C : y lo mismo dos paralelas TH , AB .

173 Una recta AB perpendicular á un plano $MNOP$, es tambien perpendicular á todas las líneas puestas en el mismo plano que pasan por el punto B de la perpendicular: pues si no lo fuera, se inclinaria ácia algun lado del plano, contra el supuesto de ser perpendicular. De consiguiente, dos líneas TH , AB perpendiculares á un plano son paralelas entre sí: pues uniéndolas con HB son perpendiculares á la HB (43).

174 Desde un punto tomado en un plano ó fuera de él, no se puede tirar mas que una perpendicular á dicho plano; porque si se pudieran tirar dos desde un mismo punto, se podrian tirar dos perpendiculares desde un punto á una línea recta, lo qual es imposible (33).

175 Si dos planos $ENMA$, $BOPS$ (fig. 77) se cortan, la comun seccion es una línea recta: porque si tomamos dos puntos en dicha seccion, la recta que pase por ellos, ha de estar toda en cada uno de los planos (3): luego será la comun seccion, y será línea recta.

176 Si dos planos $EMNA$, $BOPS$ son perpendiculares al plano RQ , su comun sec-

cion DC será tambien perpendicular al plano: pues si del punto C se levanta una perpendicular al plano RQ , deberá hallarse toda en cada uno de los planos $EMNA$, $BOPS$; luego será la comun seccion.

177 La inclinacion de dos planos AN BP se mide por el ángulo ACB que forman dos líneas AC , BC perpendiculares á la comun seccion DC , tiradas una en el plano AN , y otra en el plano BP : pues si imaginamos que sobrepuesto el punto A á B , se aparta despues el plano AN moviéndose al rededor del ege DC ; trazará B hasta volver á su lugar, el arco AB : luego medirá la inclinacion de los planos el ángulo ACB , cuya medida es AB .

178 Luego en la interseccion y encuentro de dos ó mas planos se verifica quanto dejamos demostrado en la interseccion y encuentro de dos ó mas líneas (18, 22 y sig. 27 y sig. 43 hasta 48) que escusamos repetir aquí.

179 Los planos son paralelos quando distan igualmente por todas partes: y así si un plano corta dos ó muchos planos paralelos, las comunes secciones son tambien paralelas; pues si no, alargándolas se vendrian á juntar, y de consiguiente los planos, contra lo supuesto de ser paralelos.

Medida de las Superficies.

180 Las superficies se miden con cuadrados, por ser la figura mas sencilla: y así *cuadrar* ó *medir una superficie* ABCD (fig. 78) es averiguar las veces que en ella cabe otra superficie cuadrada y conocida *abcd* que se toma por la unidad. Y como ABDC se puede concebir formada (1) por la recta DC que se mueve paralelamente á sí misma lo largo de *BD*, dejando rastro tras sí de su movimiento; á cada paso *Db* que ande, igual al lado *db* del cuadrado *abcd* que se toma por la unidad, formará tantos cuadrados iguales á *abcd*, quantas veces dicho lado *Db* ó *Dc* quepa en la línea *Dc*, que son quatro. Luego dicha superficie contendrá tantas veces quatro cuadrados iguales á *abcd*, como veces su lado *ab* ó *Db* quepa en la base *BD*, esto es, el producto del número de veces que el lado del cuadrado cabe en la base y en la altura. Esto espresaremos mas sencillamente en lo sucesivo diciendo que *la superficie de un paralelogramo rectángulo es el producto de la base por la altura*, bien que con impropiedad; pues ni una línea puede multiplicarse por otra no siendo número abstracto (15 t.I.), y si se pudiera multiplicar, resultaria una línea y no una superficie.

181 Luego 1^o *la superficie de un cuadrado es el producto de la base ó de la altura por sí*: y la de un paralelogramo cualquiera BCDF (fig. 45) *es el producto de su base BC por su altura DT ó AB*; esto es, $BC \times AB$: porque BCDF es igual á ABCE (97), y este tiene por superficie á $BC \times AB$ (180).

182 2^o *La superficie de qualquier triángulo*, como mitad que es del paralelogramo de igual base y altura que él (96), *es la mitad del producto de su base por su altura*, ó el producto de una de las dos, por la mitad de la otra.

183 *La superficie de un trapecio abce* (fig. 79) *es el producto de su altura ed por la mitad de la suma de sus bases paralelas bc, ae*: porque con la diagonal *ac* queda dividido en los dos triángulos *abc*, *ace*, cuyas superficies son (182), $\frac{1}{2} bc \times ed$ + $\frac{1}{2} ae \times ed$: luego la suma de estas dos superficies ó la del trapecio será $\frac{1}{2} (bc + ae) \times ed$. Si se toma $ao = ob$, y se tira *ot* paralela á *bc*, será la superficie del trapecio $ed \times to$: porque tirando por *o* la *mm* paralela á *ec*, se tiene $2to = en + mc$, y $to = \frac{1}{2} (en + mc) = \frac{1}{2} (ae + bc)$, poniendo *bm* en lugar de *an* su igual en los triángulos *aon*, *bom* iguales, por tener $ao = ob$, los ángulos en *o* iguales (22), y lo mismo *a* y *b* (45).

184. *La superficie de un polígono regular, ABCDE (fig. 51) es el producto del radio recto por la mitad de su perímetro; porque siendo la superficie de cada uno de los triángulos iguales en que se divide (108), el producto de su altura OM por la mitad de su base AB (182); será la de todos los triángulos ó la del polígono, el producto de la altura ó radio recto OM por la mitad de todas las bases ó lados del polígono que forman su perímetro. Luego un triángulo que tuviese por base el perímetro del polígono, y su radio recto por altura; tendría la misma superficie que el polígono: pues sería también el producto del radio por la mitad del perímetro.*

185. Como el círculo es un polígono infinitángulo (102), será su superficie *el producto del radio por la mitad de la circunferencia, ó de esta por la mitad del radio: y equivaldrá á la superficie de un triángulo cuya base fuese la circunferencia, y la altura el radio. La superficie de un círculo de 20 pies de diámetro, cuya circunferencia es $62\frac{6}{7}$ (167); será $314\frac{2}{7}$ pies cuadrados, producto de 5 mitad del radio, por la circunferencia $62\frac{6}{7}$.*

186. *La superficie de un sector de círculo ACBD (fig. 80) que es el espacio contenido entre dos radios CB, CA y el arco AB, es el producto de la mitad del radio por el valor del arco ADB. Si este arco por ejemplo, es de*

$32^{\circ} 40'$, y su diámetro de 20 pies; tendrá el arco $5\frac{19}{27}$ pies (167): multiplíquese por 5 mitad del radio, y resultarán $28\frac{14}{27}$ pies cuadr. por la superficie del sector.

187. Un *segmento de círculo ABD* ó el espacio encerrado entre un arco ADB y su cuerda AB, tiene por superficie á la del sector ADBC menos la del triángulo ACB. Y la de una corona X se hallará buscando separadamente la de los dos círculos que la componen, y restando la superficie del menor de la del mayor.

188. Para sacar la superficie de un polígono irregular, se le divide en triángulos, en los ménos que pueda ser: se saca la de cada uno, ó de cada dos, si se les puede dar una base comun; y la suma de todos, será la del polígono. Si en el ABCDEF (fig. 72) se toma la diagonal BE por base de los dos triángulos BEC, BFE; se sacará de una vez la superficie de ambos, multiplicando BE por la mitad de las alturas FC, FS: y añadiendo á la superficie que resulte, la de los triángulos FAB, EDC que se sacará cada una por sí; se tendrá la del polígono.

189. Quando está terminado de alguna línea curva irregular, se le reduce segun lo muestra la figura 81, á polígono rectilíneo, y despues de medir las superficies mistilíneas restantes, ó como triángulos ó como segmen-

tos de círculo, se unirán à la del polígono para tener la total sin error sustancial.

De consiguiente qualquier terreno accesible ó inaccesible se podrá medir, levantando su plano (158 y *sig.*), y midiendo despues la superficie del plano que resulte en el papel en partes de la escala que sirvió para el plano: esa misma deberá ser la del terreno en pies ó varas. Quando el terreno está terminado de líneas curvas como suele suceder à un pantano, bosque ó montaña; cierresele entre líneas rectas, y cercenense de la superficie que resulte, las porciones que no le pertenezcan.

Conviene advertir que el terreno que está en cuesta, no se debe apreciar por su superficie aparente, sino por la utilidad que puede tener en labranza, árboles, casas &c. Todo esto se planta y se edifica perpendicularmente: es decir, que en la cuesta AB (fig. 128) por eg. nunca se podrán plantar mas árboles que los que caben en la línea horizontal AD. De consiguiente si se gradúa que cabrán en la cuesta la mitad que en DA; se debe valuar la superficie de la cuesta en la mitad de AD, y aun en menos, por la incomodidad que trae labrar ó edificar en terreno que está pendiente.

Reduccion y division de las Superficies.

190 Un paralelógramo BCDF (fig. 45) se trasforma en un cuadrado, igual en superficie; buscando (139) una media proporcional M entre la base BC y la altura DT, y esta será el lado del cuadrado: porque siendo $BC:M::M:DT$; será (175 t. I.) $BC \times DT = M^2$: ó la superficie del paralelógramo igual à la del cuadrado.

191 Una media proporcional entre la mitad de la base y la altura, ó entre la base y la mitad de la altura de un triángulo, seria el lado del cuadrado igual à él en superficie (182): y la media proporcional entre el radio y la semicircunferencia de un círculo dará el lado del cuadrado de una misma superficie que él (185).

192 Una figura rectilinea qualquiera ABCDE (fig. 82) se reduce à otra igual en superficie, y que tenga un lado ménos; tirando la diagonal BD, y por el punto C la CG paralela à BD, que cortará en G el lado AB alargado: tirando despues la DG, resultará el quadrilátero AGDE igual al pentágono ABCDE. Porque siendo iguales los triángulos GBD, CBD (97) por ser de una misma base y estar entre las paralelas BD, CG; si del pentágono se quita el triángulo CBD, y

se le pone su igual GBD , quedará $AGDE = ABCDE$. Si al cuadrilátero $AGDE$ se le quita por el mismo método otro lado AE , quedará reducido al triángulo FDG igual á él en superficie: de consiguiente, qualquiera figura rectilínea podrá trasformarse en un triángulo de igual superficie, igualmente que en cuadrado (190).

193 Para reducir un triángulo ABC (fig. 83) á otro igual en superficie, que tenga su vértice en un punto dado D ; tirense a los puntos A , C las DA , DC : por el vértice B la BH paralela á la base AC , y por el punto H donde la DA corta á BH , la HE paralela á DC ; y tirando finalmente la DE , será ADE el triángulo que se pide. Porque tirando la HC , los triángulos DHE , HEC de una misma base HE , y que están entre las paralelas DC , HE , son iguales (97): júntense con el triángulo AHE en la 1ª figura, y réstense de AHE en la 2ª y 3ª, y resultará el triángulo ADE igual á AHC : y como este es igual á ABC triángulo dado, por tener una misma base y estar entre las paralelas BH , AC ; será el triángulo $ADE = ABC$.

De esta práctica se deduce el modo de trasformar un triángulo isosceles é equilátero ABC en otro obtusángulo ó escaleno ADE que le sea igual. Y si se quiere reducir el ABC (fig. F) isosceles é equilátero á otro igual

que sea rectángulo; despues de bajar la perpendicular CD , y alargar la base AB hasta que DE sea igual á AB , se tendrá $ABC = EDC$ rectángulo.

195 Para dividir un triángulo ABC (fig. 84) en las partes iguales que se quiera por eg. en dos, con líneas tiradas desde un punto dado D ; se dividirá la base AC en dos partes iguales en E , á donde se tirarán las EB y ED , y desde B la BF paralela á DE : tirense por último DF , DB , y estas dividirán al triángulo en dos partes $B DFA$, $DFCB$ iguales. Porque los triángulos ABE , EDC de bases CE , AE iguales, y de una misma altura BE , son iguales (97): tambien lo son BEF , BDF , por tener una misma base BF y estar entre las paralelas BF , DE : añadanse á ABF , y resultará el triángulo ABE mitad del total ABC , igual al trapezoide $AFDB$; y de consiguiente la porcion $DFCB$ sera la otra mitad.

Si se pidiese encontrar en un lado AC del triángulo ABC (fig. G) un punto desde donde se le divida en qualquier número de partes iguales como en quatro; se tomará $AH = \frac{1}{4}AC$, y tirando la HB , será AHB la quarta parte de ABC : dividase despues BHC en las tres partes iguales BHF , FHE , EHC como hemos dicho ya (195), y quedará ABC dividido como se pide.

194 Para dividir en cualesquiera partes, por ejemplo en dos, un cuadrilátero ABCD (fig. 85) desde un punto E dado en uno de sus lados; se reducirá primero al triángulo ADF (192), se tirará después la DE y la DG à la mitad G de la base AF; y será el triángulo ADG mitad de ADF ó del cuadrilátero ABCD: finalmente tracese por G la GH paralela à DE, y tirando EH, dividirá al cuadrilátero como se pide. Porque siendo iguales los triángulos DEH, DEG de una misma base que están entre las paralelas GH, DE, si se añaden à ADE; se tendrá ADG mitad del cuadrilátero, igual à ADHE.

195 Para dividir en quantas partes se quiera, sea en tres, el polígono ABCDE (fig. 86) con líneas tiradas desde uno de sus ángulos D; trasformesele en el triángulo TDF (192), divídase su base TF en tres partes iguales en H y G, y tirando DH, DG; quedará dividido el polígono en tres partes iguales: pues son iguales los tres triángulos TDH, HDG, GDF que tienen una misma altura y bases iguales. Quando alguno de los puntos G, H, &c. cae fuera del polígono como sucede en ABCDE (fig. 86*), el qual si se divide en quatro partes iguales como acabamos de decir, queda fuera el punto H; se reduce el triángulo HDI al cuadrilátero AODI, tirando por H la HO paralela à AD.

195 Un cuadrilátero ABCD (fig. H) se dividirá en cualesquiera partes iguales por eg. en tres con líneas tiradas desde un punto I dado en uno de sus lados; dividiendo AB en tres partes iguales en M y N, tirando las LM, NK paralelas à AD, que dividirá en tres partes iguales el paralelogramo ABCD: dividanse por medio ML, NK en O y R, y tirando por ellos TH, TS, partirán al paralelogramo como se pide.

Comparacion de las Superficies.

196 Siendo la superficie de un paralelogramo el producto de la base por su altura (180); si llamamos B la base, A la altura, S la superficie de uno; b, a, s la base, altura y superficie de otro; será $S=B \times A, s=b \times a$; luego $S:s::B \times A:b \times a$; es decir, las superficies de los paralelogramos son como los productos de sus bases por sus alturas, ó estan en razon compuesta de bases y alturas (172 I. t.)

197 Quando $B=b$, la proporcion $S:s::AB:ab$, se reduce à $S:s::A:a$, y quando $A=a$, es $S:s::B:b$: esto es, los paralelogramos de una misma base son como sus alturas, y los de una misma altura son como sus bases.

198 Si las bases de los paralelogramos están en razon inversa de sus alturas, serán sus superficies, iguales: y si son iguales, tendrán

bases y alturas recíprocas: porque si $B:b::a:A$, será (174 t. I.) $B \times A = b \times a$ ó $S = s$: y si $S = s$ ó $B \times A = b \times a$, será (176 t. I.) $B:b::a:A$.

199 Como los triángulos son mitades de los paralelogramos de igual base y altura (96), tendrán también (183 t. I.) la razón compuesta de bases y alturas; los de igual base serán como las alturas, y los de igual altura como sus bases: los iguales en superficie tendrán sus bases en razón inversa de sus alturas; y los que tengan bases y alturas recíprocas, serán iguales en superficie.

200 En los paralelogramos y triángulos semejantes, en los que la razón de las bases es igual á la de las alturas (148), será la razón compuesta de bases y alturas que tienen dichas figuras (196), duplicada de qualquiera de ellas (172 t. I.); luego los paralelogramos y triángulos semejantes tienen la razón duplicada de sus bases ó alturas, ó son como sus cuadrados: y como las bases y alturas son proporcionales á todos los lados homólogos, serán dichas figuras como los cuadrados de sus lados homólogos; y así será $S:s::A^2:a^2::B^2:b^2$ &c.

201 Luego las superficies de qualesquiera figuras que tienen la razón compuesta de los dos factores que las producen, quando son semejantes; tendrán la razón duplicada de sus lados homólogos, ó serán como sus cuadrados:

pues siendo los triángulos en que dichas figuras pueden dividirse, partes semejantes suyas (149), deberán tener la misma razón que ellos (183 t. I.), que es la de los cuadrados de sus lados homólogos (200). Y así, las superficies de los polígonos regulares semejantes son entre sí como los cuadrados de sus perímetros, diagonales, radios rectos y oblicuos: y las superficies de los círculos ó semicírculos son como los cuadrados de las circunferencias, radios, diámetros, arcos y cuerdas semejantes.

202 Por ser (141) $(ab)^2 = ac \times ad = aepd$ (fig. 87), y $(bc)^2 = ac \times dc = dpfc$; será $(ab)^2 + (bc)^2 = aepd + dpfc$: ó el cuadrado V de la hipotenusa ac igual á la suma $X + Z$ de los cuadrados de los otros dos lados ab , bc : proposición que demostramos (141): y que también consta de que siendo semejantes los triángulos abc , abd , bdc (135), será (200) $abc:abd:bdc::(ac)^2:(ab)^2:(bc)^2::V:X:Z$, y siendo $abc = abd + bdc$, será $V = X + Z$.

203 Luego 1º $X = V - Z$, y $Z = V - X$, ó el cuadrado de cada lado del ángulo recto, es igual á la diferencia entre los cuadrados de la hipotenusa y del otro lado. 2º Quando el triángulo rectángulo es isósceles, el cuadrado de la hipotenusa es duplo del cuadrado de cada lado, esto es, $(ac)^2 = 2(ab)^2$; y de consiguiente $ac = \sqrt{2}(ab) = ab\sqrt{2}$, que es una cantidad inconmensurable; y como ac es en-

tónces diagonal del cuadrado $abcV$, será la diagonal de un cuadrado incommensurable con sus lados: es decir, no podrá con los lados espresarse el valor de la diagonal.

204 3^o Toda figura formada sobre la hipotenusa de un triángulo rectángulo es igual á la suma de las semejantes trazadas sobre los otros dos lados: por exemplo, el semicírculo $abca$ es igual á los semicírculos aXb , bZc : pues siendo $abca:aXb:bZc::(ac)^2:(ab)^2:(bc)^2$ (201), y $(ac)^2=(ab)^2+(bc)^2$; será tambien $abca=aXb+bZc$. Si se quita de ambas partes $aoba$, $bhcb$ comun, queda $aXbo+bZch$ igual al triángulo abc , y quando $ab=bc$, se tiene $aobX=abd$. Las porciones de círculo $aXbo$, $bZch$ se llaman las Lúmulas de Hipócrates, que encontró su cuadratura.

205 4^o El cuadrado de la hipotenusa es á los cuadrados de los otros dos lados, como la hipotenusa á los segmentos correspondientes a dichos lados; ó $(ac)^2:(ab)^2:(bc)^2::ac:ad:dc$: porque $(ac)^2:(ab)^2:(bc)^2::abc:abd:bdc::ac:ad:dc$; pues teniendo los tres triángulos una misma altura bd , serán como sus bases ac , ad , dc (199),

206 5^o Luego los cuadrados de dos cuerdas ab , ah (fig. 65) tiradas desde un extremo a del diámetro, son entre sí como las partes ad , ar que cortan en él las perpendiculares bd , br bajadas de los extremos de dichas

cuerdas: porque en el triángulo rectángulo abc , $(ac)^2:(ab)^2::ac:ad$, y en ahc es $(ac)^2:(ah)^2::ac:ar$; luego $(ab)^2:(ah)^2::ad:ar$.

207 De las figuras regulares isoperimétricas la que tiene mas lados incluye mayor superficie. Sean por exemplo, un cuadrado y un pentágono (fig. 88): si se inscribe en ellos un círculo, estarán sus superficies en razon de los radios ac , mn ; pue son el producto de la mitad de su perímetro por dichos radios; luego mn es mayor que ca : porque si fueran iguales y de consiguiente sus círculos, sería menor el perímetro del pentágono que el del cuadrado (102), contra lo supuesto de ser iguales; luego es mayor la superficie del pentágono que la del cuadrado. De consiguiente el círculo que es un polígono de infinitos lados, tiene mayor superficie que otra qualquier figura de igual perímetro:

208 Para hacer dos figuras que tengan entre sí una razon dada como la de 1:3; se tomarán en una línea indefinida ac (fig. 65) dos partes que sean entre sí como 1:3, de suerte que sea $3ad=dc$: desde su mitad o se trazará un semicírculo, y levantando en d la perpendicular db , serán ab , bc tiradas á los extremos del diámetro los lados homólogos de las figuras que se piden, las cuales se trazarán semejantemente sobre ellos. La razon de la operacion es evidente, pues las figuras se-

mejantes trazadas sobre ab y bc , son entre sí (201) como $(ab)^2:(bc)^2::ad:dc::1:3$ (206); luego &c.

209 Si dada la figura $abcde$ (fig. 71) se desease otra de una superficie tripla, ó que tuviese con ella la razón de 3:1; suponiendo á uno de sus lados ab de 10 varas, hallaríamos el homólogo AB de la otra figura, haciendo $1:3::(10)^2:300$, cuadrado de AB ; de suerte que $AB=\sqrt{300}=17,32$ varas con poca diferencia: hagase ahora $ab:AB::bc:BC::cd:CD::de:DE$, y se tendrá la longitud de los demas, que unidos con ángulos iguales á a, b, c, d, e , formarán la figura $ABCDE$ que se desea.

De los Sólidos.

210 La última especie de estension que reúne longitud, latitud y profundidad ó altura, se llama *sólido*, *cuerpo* ó *volúmen geométrico*: será *regular*, si las superficies que le rodean, son iguales y semejantes, y sus ángulos sólidos iguales; los demas son *irregulares*. El cuerpo de quatro superficies se llama *tetraedro*, el de cinco *pentaedro*, y *exâedro*, *eptaedro*, *octaedro*....*polyedro* el de seis, siete, ocho.... y muchas superficies.

211 Llamamos *ángulo sólido* al formado de mas de dos ángulos planos que concurren en un punto: tal es H (fig. 89) compuesto

de los ángulos DHA, AHB, BHC, CHD . La medida de estos ángulos compone la del ángulo sólido que es siempre menor que 360° : pues si se tirá la perpendicular HO , y las DO, CO, BO, AO ; será cada ángulo AOD mayor que su correspondiente AHD , por tener su vértice mas cerca de la base común AD ; luego todos los ángulos formados en H valen menos que los formados en O que componen 360° (19).

También cada ángulo, de los que forman el ángulo sólido, es menor que la suma de los demas: pues si llegase DHC por exemplo, á ser igual á $DHA+AHB+BHC$, puestos estos sobre aquel no compondrían un sólido, sino un plano.

212 El sólido $ABCFDE$ (fig. 90) cuyas dos caras opuestas ABC, DEF que son sus bases, son dos planos iguales y paralelos, y las demas superficies $ABED, EBCE, FDAC$ paralelogramos; se llama *prisma*: y puede considerarse formado por el plano ABC moviéndose paralelamente á sí mismo lo largo de la recta AD , dejando rastro de su camino. ABC se llama *plano generador*, y cada plano infinitamente delgado de los que forma, *elemento del prisma*. La perpendicular HO tirada de qualquier punto de una de las bases á la otra, es la *altura*: y las líneas AD, BE, EC lados del prisma. Quando estos son perpen-

diculares à la base, ó iguales à la altura, se llama el prisma *recto*: y *oblicuo* (fig. 91) quando no. Ultimamente, será *triangular*, *cuadrangular*, *pentagonal* &c. el prisma, segun el plano ABC sea triángulo, cuadrilátero, pentágono &c.

213 Quando el plano generador es un paralelogramo ABCD (fig. 92), el prisma que resulta, toma el nombre de *paralelepípedo*, que tiene por superficies seis paralelogramos: quando es un *cuadrado* ABCD (fig. 93) consta de seis cuadrados iguales, y se llama *cubo*. Un círculo AEBF (fig. 94) produce un sólido ABDC que se llama *cilindro*, que será *recto* quando cae perpendicular la línea OH que pasa por los centros de las dos bases, y es su *ege*: y *oblicuo* (fig. 95) quando cae inclinada. Tambien puede considerarse producido el cilindro por el rectángulo AOHC que dé una vuelta al rededor de HO (fig. 94).

214 Si nos figuramos que una recta AH (fig. 89) fija en el punto H, corte con el extremo A los lados de la figura ABCD; habrá producido la superficie lateral de un sólido que se llama *pirámide*, cuya base es ABCD, y cuyas caras son triángulos que tienen su vértice en un mismo punto H, que es el *vértice* ó *cúspide* de la pirámide: su *altura* es la HO tirada perpendicularmente desde el vértice

al centro del polígono de la dicha base. Quando el ege es diferente de la altura, y el polígono de la base irregular, será la pirámide *irregular*: pero si coincidiese el ege y la altura, y el polígono de la base es regular; lo será tambien la pirámide, y todos los triángulos CHB, BHA &c. serán iguales é isósceles. Una perpendicular HT, tirada desde H sobre uno de los lados de la base, la dividirá por medio (82), y será la altura de todos los triángulos: se llama *apotecma*. La pirámide *triangular* tiene por base un triángulo, la *cuadrangular* un cuadrilátero &c.

215 Si la base de la pirámide fuese un círculo (fig. 96) ó un polígono de infinitos lados, resultará un sólido que se llama *cono*: que se puede considerar formado por el triángulo rectángulo AOH que diese una vuelta al rededor de OH: OH es su *ege*, y *altura* quando es perpendicular: las líneas AH, CH &c. sus *lados*, que se equivocan con los apotecmas; y segun que la OH sea ó no perpendicular à la base, será *recto* ú *oblicuo* el cono.

216 Si el semicírculo AEB (fig. 97) da una vuelta entera al rededor de su diámetro AB, producirá la *esfera* AEBDA, que es un sólido de revolucion terminado de una superficie curva, cuyos puntos distan igualmente del punto C que es su *centro*. El arco FA for-

ma en la revolución el *casco* ó *casquete esférico* $FTHA$. El sector circular FCA engendra el *sector esférico* $CFAHT$: FAO mitad del segmento FAH produce el *segmento esférico* $FTHAO$, cuya base es el casquete $FTHA$. Á qualquiera AB de los diámetros llamaremos *eje* de la esfera, *polos* á sus dos extremos A, B ; y *zona* á la parte $EHFD$ comprendida entre dos planos paralelos.

217 Un semipolígono que hubiera dado una vuelta al rededor del diámetro, hubiera producido un *esferoide*, regular ó irregular segun fuese el polígono: y como el círculo es un polígono infinitángulo (102); será también la esfera un *esferoide infinitángulo*.

218 Si imaginamos perpendicular es tiradas desde la circunferencia á todos los puntos del diámetro AB , cada una describirá como radio en la revolución un círculo, y de consiguiente juntos todos formarán la solidez de la esfera: luego si á la esfera la corta un plano qualquiera, la seccion será un círculo, tanto mayor quanto mas cerca esté de centro: los que pasan por él, se llaman *círculos máximos*, y los demas *menores*.

De la medida y comparacion de las superficies de los Cuerpos.

219 La superficie del prisma recto (fig. 90)

sin contar la de sus bases ABC, DEF , que se llama *lateral*, se compone de los paralelogramos rectángulos AE, EC, AF , cuya medida es (180) el producto de sus bases AB, BC, AC por la altura comun AD . Las caras del prisma oblicuo (fig. 91) son los paralelogramos AG, GD, DG, TE, EF de lados AF, BG, DH &c. iguales, cuya superficie considerando á estos lados como bases de los paralelogramos, y tirando sobre ellos sus alturas, ó las perpendiculares ab, bc, cd, de , es (180) el producto de estas últimas por una de las bases ó lados iguales AF . Lo mismo se debe aplicar al paralelepípedo, cubo y cilindro.

220 Luego la superficie lateral ó sin contar las bases, de un prisma (fig. 90) es el producto del perímetro ABC de su base por la altura AD si es recto; y si es oblicuo, el producto de uno de sus lados AF por el perímetro $abcde$ perpendicular á dicho lado. La superficie del cilindro AD (fig. 94) es el producto del perímetro $AEBF$ por la altura AC . Para medir la del cilindro oblicuo AD (fig. 95), basta para la práctica multiplicar uno de sus lados BD por la longitud de un hilo enrollado por el vestigio de la seccion $abcd$ perpendicular á BD , La superficie lateral se añade á la de las dos bases para tener la total.

221 Los triángulos ADH, ABH, BCH ,

DCH (fig. 89) que son las caras de la pirámide ABCDH, tienen por superficie (182) al producto de sus bases AB, BC, CD, DA por la mitad de HT altura de todos los triángulos (214): luego *la superficie lateral de una pirámide es el producto del perímetro AB+BC+CD+DA de la base por la mitad de su apotecma*; ó $\frac{1}{2}(HT \times ABCDA)$. En la pirámide inclinada se mide cada cara de por sí, y la suma de la superficie de todas es la de la pirámide. La superficie lateral del como ACH (fig. 96) es la mitad del producto de la circunferencia ABCD de la base por uno de sus lados AH, ó $\frac{1}{2}(AH \times ABCDA)$.

222 En un trozo ó tronco de pirámide de bases *abc*, ABC paralelas (fig. 98) los trapecios *Ab*, Bc, Ca, componen su superficie que es (183), el producto de la mitad de sus bases paralelas AB, *ab*; BC, *bc*; CA, *ca* por la altura común *ht*; ó tirando *mp*, *pn*, *nm* por la mitad de *Aa*, *Bb*, *Cc*; $ht \times mpn$: luego *la superficie lateral de un tronco de pirámide es la mitad del producto de los perímetros abc, AEC de sus bases por la altura ht, esto es*, $\frac{1}{2}(abc + ABC) \times ht$: ó $mpn \times ht$, *producto del perímetro mpn medio entre los de las bases por la altura ht. También la superficie del tronco Ac (fig. 99) de pirámide cónica es* $\frac{1}{2}(abc + ABC) \times Aa$, *mitad del producto de los perímetros de las bases por su lado; ó* $mpn \times Aa$ *producto del perímetro medio por dicho lado.*

223 Si consideramos á *ab* (fig. 97) como uno de los infinitos lados del semicírculo BEA que produce la esfera, formará en su revolución un cono truncado: cuya superficie, tirando las paralelas *ad*, *bq*, y por *n* mitad de *ab*, la *nm*; será (222) *ab* × *circunferencia* *mn*. Bajando ahora la *ar* perpendicular á *bq*, y tirando el radio *Cn* en los triángulos *abr*, Con semejantes (131) se tiene *ab:ar=tp:Cn:no*; y por ser las circunferencias proporcionales a sus radios (167); será *ab:tp::circunf. Cn: circunf. no*: luego (174 t. I.) *ab* × *circunf. no* = *tp* × *circunf. Cn*, ó la superficie del cono truncado descrito por *ab*, igual á su ege *tp* multiplicado por la circunferencia del círculo máximo de la esfera. Pruebase lo mismo de todos los sólidos que componen la esfera; y tendremos que *su superficie es el producto de su ege AB por la circunferencia de su círculo máximo*: de suerte que si suponemos que el diámetro AB tenga 20 pies, y de consiguiente $62\frac{6}{7}$ la circunferencia de su círculo; serán $20 \times 62\frac{6}{7}$ ó $1257\frac{1}{7}$ los pies cuadrados que contiene la superficie de la esfera.

224 De aquí se infiere 1.º que la superficie del casco esférico AFTH es el producto de su altura OA por la circunferencia del círculo máximo: y la de la zona DEHF el producto de OC por la circunferencia de dicho círculo. 2.º Que la superficie de un círculo

cuyo radio fuese el ege de la esfera , sería igual á la de la esfera : pues la circunferencia de este círculo sería dupla de la del círculo máximo de la esfera.

225 3^o Como la superficie del círculo máximo es el producto de la circunferencia por la mitad del radio , que es la quarta parte del diámetro , y la de la esfera el producto de dicha circunferencia por todo el diámetro ; *equivale á la de quatro círculos máximos.* De consiguiente , siendo la superficie lateral del cilindro circunscripto (fig. 100) el producto de HM ó AB ege de la esfera por la circunferencia de uno de sus círculos máximos HOGH ó EQFT , es decir, igual á la de la esfera : si á la del cilindro se añade la de sus dos bases que son círculos máximos , compondrá seis círculos máximos ; y la superficie total del cilindro circunscripto á la esfera , será á la de la esfera como 6:4, ó como 3:2.

226 *Sólidos semejantes* son los que constan de ángulos sólidos iguales y de igual número de superficies semejantes ; y así los de diferente especie como un prisma y una pirámide no pueden ser semejantes. Como las superficies de los sólidos se componen de dos factores del mismo modo que las superficies planas ; demostraremos como en ellas (196 y sig.) , las proposiciones que siguen.

227 » Las superficies laterales de los prismas son entre sí como los productos de sus alturas por el perímetro de sus bases ; si son rectos ; ó por el de la sección perpendicular á las alturas ; si son oblicuos. Los prismas de igual altura son como los perímetros de sus bases , los de igual perímetro son como sus alturas ; y los de alturas y perímetros recíprocamente proporcionales son de superficies iguales , y al contrario. Lo mismo se debe entender de las pirámides ó conos con la diferencia de poner lado en lugar de altura.

228 » Las superficies de los sólidos semejantes son entre sí como los cuadrados de sus líneas homólogas : y de consiguiente , las superficies de dos esferas son como los cuadrados de sus radios ó diámetros.

De la medida y comparacion de las solidez de los Cuerpos.

229 La solidez de un cuerpo que es el espacio que ocupan sus superficies , sea ó no mazizo , se mide averiguando las veces que en él cabe otro cuerpo que se toma por la unidad. El escogido para esto es el *cubo* , que por tener todas sus dimensiones iguales , es el mas sencillo. Sea *ab* (fig. 92) el sólido que se toma por la unidad , y averiguemos las veces que cabe en el prisma *AT*.

230 A este sólido le forma el plano ABCD que corte paralelamente la línea CT (212): luego á cada paso Cb que ande dicho plano; igual á la altura db del sólido ab, formará tantos sólidos iguales á ab, quantas veces la base cabe en el plano AC: si son quatro, será la solidez del prisma tantas veces quatro sólidos iguales á ab, quantas la altura db quepa en CT; luego será el producto del número de veces que la base ad cabe en AC, multiplicado por el número de veces que la altura db cabe en la altura CT, ó mas brevemente *el producto de la superficie de la base por la altura, y si es recto, por su lado.*

231 Para sacar la solidez del paralelepípedo AT en la suposicion de ser AB de 15 pulgadas, CB de 8 y AE de 20; sacaré la superficie de la base BD, multiplicando AB por CB ó 15 por 8, y multiplicando el producto 120 por la altura AE que es 20; tendré 2400 pulgadas cúbicas ó cubos de una pulgada: que equivalen á 1 pie cúbico y $\frac{7}{18}$ de pie, dividiendo 2400 por $12 \times 12 \times 12 = 1728$, número de pulgadas cúbicas que contiene un pie cúbico.

232 Luego la solidez de un cilindro recto AD (fig. 94) es el producto de la superficie de su base AEBF por su ege: y la del oblicuo (fig. 95) el producto de la base AEBF por la altura HO: de consiguiente serán iguales en

solidez los cilindros y prismas que tengan una misma base y altura.

233 Un plano RQ (fig. 101) que corte á una pirámide TABCDE paralelamente á la base, cortará proporcionalmente los lados AT, BT, CT &c. y qualquiera otra recta TO tirada del vértice á la base, y en la misma razon que dos qualesquiera lados homólogos AB, ab de la seccion. Pues si por la recta TO y los lados de la pirámide imaginamos los planos TOA, TOB, TOC &c. cortarán la seccion abcde en oa, ob, oc, oe, od, las quales serán paralelas á OA, OB &c. por ser secciones comunes de los planos paralelos RQ, ABCDE (178); luego los triángulos ATO, BTO, CTO &c. serán semejantes á sus correspondientes aTo, bTo, cTo &c. y sus lados proporcionales, TO:To::TA:Ta::TB:Tb::TC:Tc &c. ::AB:ab::BC:bc &c.

234 Luego 1º las secciones ABCDE, abcde serán semejantes; pues se dividen en igual número de triángulos semejantes, por tener paralelos sus lados: y de consiguiente, sus areas serán como los cuadrados de las líneas TO, To; pues se tendrá (200) ABCDE abcde::(AB)²:(ab)²::(TO)²:(To)²; por ser AB:ab::TO:To (233).

235 2º Si suponemos iguales las alturas TO, MN de las pirámides TABCDE, MFGH cortadas por el plano RQ, estarán

las secciones $abcde, fgh$ en la misma razon que las bases $ABCDE, FGH$: y serán iguales si lo son las bases. Pues siendo $ABCDE: abcde::(TO)^2 : (To)^2$; $FGH: fgh::(MN)^2 : (Mn)^2$, y $MN=TO$; será $(TO)^2 : (To)^2::(MN)^2:(Mn)^2$, y de consiguiente $ABCDE: abcde::FGH:fgh$; luego si $ABCDE=FGH$, será tambien $abcde=fgh$.

236 3^o Las piramides de igual base y altura son iguales en solidez, aunque sea diferente la figura de sus bases; pues serán (180 t. I.) todos los planos ó elementos que componen la solidez de la una, á todos los de la otra, como la base de la 1^a á la de la 2^a luego siendo iguales las bases, serán tambien iguales todos los planos; y debiendo haber en ambas igual número de ellos por haberse supuesto de igual altura, serán las solideces iguales.

237 Esto supuesto, vamos á probar que qualquier pirámide es la tercera parte de un prisma de igual base y altura que ella: y puesto que todo prisma polígono puede dividirse en prismas triangulares de igual base y altura; bastará demostrar la proposicion del prisma triangular $EDFBAP$ (fig. 102). Para esto tirese desde uno de sus ángulos P las diagonales PE, PF en las caras laterales $AEDP, BFDP$.

Imaginemos despues un plano que pasan-

do por EP y PF , separe del prisma la pirámide $PEFD$, y otro que pasando por las diagonales EB, EP separe del sólido $APBEF$ que queda (fig. 103), la pirámide $APBE$; y tendremos dividido el prisma en las tres pirámides $PEFD, APBE, EFPB$. De ellas las dos primeras de bases EDF, ABP y alturas PD, AE iguales, son iguales en solidez (236): y las $APBE, EFPB$ consideradas sobre las bases ABE, BEF que son triángulos iguales, y con el vértice comun P , serán tambien iguales: luego siendo la una $PEFD$ de una misma base EFD y altura DP que el prisma; será asi como las otras, su tercera parte.

238 Siendo pues, la solidez del prisma el producto de la superficie de la base por su altura (230), será la de qualquier pirámide la tercera parte de este producto, ó la superficie de la base multiplicada por el tercio de la altura.

239 Y como el cono debe ser tambien la tercera parte del cilindro de igual base y altura, por ser prisma infinitángulo; será su solidez el producto de la superficie de la base por el tercio de su altura.

240 Para sacar la solidez de un trozo de pirámide ó cono de bases paralelas (fig. 98 y 99); imaginándole completo, se saca su solidez multiplicando la base ABC por $\frac{2}{3}TO$,

multiplicando despues abc por $\frac{2}{3}$ To, resultará la solidez del trozo $Tabc$ que falta: restese esta de la total, y se tendrá la del tronco. La To que se supone conocida en esta operacion, se saca por lo demostrado (233), pues siendo $AB:ab::TO:To$, tendremos (177 t. I.) $AB-ab:ab::TO-To:To$ ó $AB-ab:ab::O:To$.

241 La solidez de la esfera es el producto de su superficie por el tercio de su radio: porque si la concebimos compuesta de una infinidad de pirámides que tienen los vértices en su centro, y cuyas bases componen su superficie; tendrán todas por altura el radio de la esfera: y será la suma de sus solidezes ó la de la esfera el producto de todas sus bases, superficie de la esfera, por un tercio de su altura, que es el radio: y así la solidez de una esfera de 20 pies de diámetro, cuya superficie es $1257\frac{1}{7}$ (223), será $3\frac{1}{3} \times 1257\frac{1}{7} = 4190\frac{10}{21}$ pies cúbicos. Si suponemos con Newton que el diámetro de nuestro globo tiene 19688725 pies de París, y la circunferencia de uno de sus círculos máximos 61878850; tendrá su superficie (223)..... 1218315660966250 pies cuadrados: y el producto de este número por la sexta parte del diámetro dará 3997846798940344927500 pies cúbicos de que constará la tierra.

242 Luego la solidez de un sector esférico $CFHT$ (fig. 97) es el producto de la superficie del casco $FTHA$ por el tercio del ra-

dio. Como esta se compone del segmento $FOHTA$ y del cono CFH ; si de la solidez del sector se resta la del cono, resultará la del segmento.

243 La solidez de la esfera es los dos tercios de la del cilindro circunscripto. Llamemos al radio R , D al diámetro, C la superficie del círculo máximo $HOCR$ ó $EQPF$ (fig. 100); será $4C$ la superficie de la esfera (225), y su solidez $\frac{2}{3}R \times 4C = \frac{8}{3}R \times C$, esto es, $\frac{2}{3}D \times C$, por ser $\frac{4}{3}$ del radio $\frac{2}{3}$ del diámetro: y como la solidez del cilindro es $D \times C$; será la 1ª á la 2ª como $\frac{2}{3}D \times C : D \times C$ ó como $\frac{2}{3} : 1$, ó últimamente como 2:3.

244 Como toda solidez es producto de una superficie que tiene dos factores, por una línea; si llamámos B, C los factores de la superficie ó base, A su altura, S la solidez de un cuerpo, s la solidez de otro, y a, b, c sus tres factores; tendremos $S = A \times BC$, $s = a \times bc$. Luego será $S:s::A \times BC:a \times bc$, es decir, las solidezes de dos prismas ó cilindros, ó de un prisma y un cilindro son entre sí como los productos de su base por la altura. De consiguiente, los de igual base serán como sus alturas, y los de igual altura como sus bases; pues si $A = a$, resulta $S:s::BC:bc$: y si $BC = bc$; $S:s::A:a$.

245 Quando $A:a:bc:BC$, se tiene (174 t. I.) $A \times BC = a \times bc$ ó $S = s$; esto es, si las ba-

ses de los sólidos están en razon recíproca con las alturas , serán sus solidezs iguales , y al contrario. Todas estas proposiciones se deben entender tambien de las piramides ó conos.

246 Quando los sólidos son semejantes, son iguales las razones $A:a$, $B:b$, $C:c$ (226) de los factores de que se componen las solidezs en la proporción $S::ABC:abc$ (244); luego las solidezs de los cuerpos semejantes estarán en razon triplicada , ó serán como los cubos de sus factores homólogos ; ó $S::A^3:a^3::B^3:b^3::C^3:c^3$: de consiguiente , las solidezs de dos esferas serán como los cubos de sus radios ó diámetros.

247 Tenemos pues, que las figuras de los sólidos semejantes son como sus líneas homólogos (166) , sus superficies como los cuadrados de dichos lados homólogos (228) , y sus solidezs como sus cubos (246) : de manera que si los diámetros de dos esferas por ejemplo, tuvieran la razon de 3:4; las circunferencias de sus círculos máximos serian tambien como 3:4, sus superficies ó las de las esferas serian como $(3)^2:(4)^2$ ó como 9: 16, y sus solidezs como $(3)^3:(4)^3$ ó como 27:64.

248 Luego para hacer una esfera dupla de otra que tuviese 6 pulgadas de diametro, se haria la proporción 1:2::216 cubo del diámetro dado : 432 cubo del diámetro de la esfera pedida : cuyo diámetro será 7,56 raiz cúbica proxima de 432.

Método para medir la capacidad de los vasos que encierran algun líquido.

249 Para medir la capacidad de un vaso, ó las veces que contiene una medida que se toma por la unidad ; como por lo comun los vasos son cónicos ó cilindricos, se dispondrá un cilindro AH (fig. 104) de estaño ú hoja de lata, en el que se echará una ó dos azumbres de líquido , y tomando una vara (fig. 105). se señalarán en uno de sus lados las partes $E1$, 1 2.2 3 &c. iguales á la altura AD que ocupa el líquido en el cilindro.

250 Para dividir el otro lado MN de la vara ; se levantará en N la perpendicular NI igual al diámetro AB del cilindro , se tomará $N1=TN$, y tirando la hipotenusa $T1$, será diámetro de un círculo ó base dupla de ARB ; porque (201) los círculos son como los cuadrados de sus diámetros , y $(T1)^2=(TN)^2+(N1)^2=2(TN)^2$ (203) : señalado pues, $T1$ desde N á 2 , se tirará la hipotenusa $T2$, y será por la misma razon diámetro de una base tripla de ARB : se trasladará desde N á 3 , y se continuará del mismo modo para sacar los diámetros quádruplo , quíntuplo &c. Si se dividen TN y $N1$ por medio en K y t , y se tira la Kt ; será diámetro de una base mitad de ARB , que se debe pasar de N á $\frac{1}{2}$.

251 Para medir ahora el vaso XO (fig. 106); se aplicará el lado NM de la vara al diámetro XZ; y si coge N₃, será triplo de la base ARB (fig. 104): y de consiguiente, el hueco XT hará tres veces mas líquido que AC. Midase despues la altura LX con el lado FE de la vara, y si equivale á cinco divisiones; deberá multiplicar 3 por 5 para encontrar las azumbres de líquido que caben en el vaso XO, que serán 15.

252 Si el vaso fuere cono truncado, se sacará una base media, sumando las dos: pero si la de arriba fuere muy pequeña, será mejor reducir el vaso á sólido regular: pues si se sacase la mitad de la suma de las dos bases AM y R del vaso ARM (fig. 107); resultaria una base poco mayor que la mitad de AM, y cuyo producto por la altura MC, daria una cabidad igual casi á la mitad del cilindro AC; siendo así que el cono ARM, cuya cabidad se busca, es casi el tercio de dicho cilindro (237).

253 Ultimamente, para averiguar el hueco del tonel BQ (fig. 108); tomese un diámetro medio entre los dos DE, AB, que será $2\frac{1}{2}$ si DE equivale en la vara á N₃ y AB á N₂: sea la longitud CT=EB, multipliquese 8 por $2\frac{1}{2}$; y el producto 20 será el número de azumbres que caben en el tonel propuesto, que podemos considerar como un

cilindro de una base media proporcional aritmetica entre el fondo y su vientre.

Sólidos regulares.

254 Llamamos así los cuerpos cuyas superficies son todas polígonos regulares é iguales, y cuyos ángulos sólidos se componen de igual número de ángulos planos. Como estos no han de llegar á 360° (211), y seis ángulos de triángulo equilátero componen $6 \times 60^\circ = 360^\circ$; solo podremos formar con ángulos de triángulo equilatero un ángulo sólido de tres, igual á $3 \times 60^\circ = 180^\circ$; de quatro que vale $4 \times 60^\circ = 240^\circ$; y de cinco, su valor $5 \times 60^\circ = 300^\circ$: de donde resultan el *tetraedro* fig. 109), cuyas superficies son quatro triángulos equiláteros; el *octaedro* (fig. 110) que consta de ocho, y el *icosaedro* (fig. 111) que tiene veinte. Con ángulos de cuadrado solo puede formarse un ángulo sólido de tres igual á $3 \times 90^\circ = 270^\circ$; pues $4 \times 90^\circ = 360^\circ$: y con tres ángulos de pentágono ó $3 \times 108^\circ = 324^\circ$, otro; y con ellos se forma el *exaedro* ó *cubo* (fig. 112) rodeado de seis cuadrados iguales, y el *dodecaedro* (fig. 113) que consta de doce pentágonos regulares. Y como tres ángulos del exágono regular valen $3 \times 120^\circ = 360^\circ$; es claro que no puede haber mas sólidos regulares que los cinco referidos.

255 Si se saca la superficie de una de las caras de estos, y se multiplica por el número de ellas; se tendrá la superficie de cada uno. Con este objeto se han pintado al lado de cada sólido las superficies que le rodean.

256 La solidez del tetraedro se saca como digimos (238); pues es una pirámide equilátera triangular. La del exáedro se encuentra por lo dicho (230). Al octaedro se le considera dividido en dos pirámides iguales y semejantes, y despues se saca la solidez de las dos. Tambien el icosaedro puede imaginarse dividido en veinte pirámides iguales: y así multiplicando por 20 la solidez de una de ellas, se tendrá la del sólido. Ultimamente, tirando rectas desde el centro del dodecaedro á todos sus ángulos, resultarán doce pirámides pentágonas iguales: con que si se multiplica por 12 la solidez de la una, tendremos la del dodecaedro.

TRIGONOMETRÍA RECTILÍNEA.

257 Se enseña en este ramo de la geometría el modo de averiguar en un triángulo rectilíneo el valor de tres de las seis cosas que le componen, á saber tres ángulos y tres lados, dado el de las otras tres, no siendo los tres ángulos; pues por ellos solo se puede saber la razon de los lados, pero no su lon-

gitud, que será diferente en cada uno de los infinitos triángulos que pueden tener unos mismos ángulos (83). A este fin, como los lados de los triángulos no son proporcionales á sus ángulos; se han inventado las líneas trigonométricas, *senos*, *cosenos*, *tangentes*, *secantes* que vamos á dar á conocer; las quales ademas de ser proporcionales con los lados de los triángulos, son un equivalente de sus ángulos.

258 Llamamos pues, *seno recto* ó seno de un ángulo ACB (fig. 114) ó de su arco AB á la perpendicular AT bajada del extremo A de dicho arco sobre el radio CB , que pasa por el otro extremo B : *seno verso* á la parte BT del radio comprendida entre el seno y el extremo del arco: *tangente* de dicho ángulo ó arco AB á la BH perpendicular al extremo B del radio CB , terminada por el radio AC alargado: y *secante* á la CH ó radio AC alargado.

259 Tambien $AD=CT$ es seno del ángulo ACE ó de su arco AE , DE su seno verso, EQ su tangente y CQ su secante: y como el arco AE es complemento de AB ; serán AD , DE , EQ , CQ , seno, seno verso, tangente y secante del complemento del arco AB , ó mas brevemente *coseno*, *coseno verso*, *cotangente*, y *cosecante* del arco AB . En lo sucesivo escribiremos *sen*, *cos*, *tang*, *cotang*, *sec*,

en lugar de seno , coseno , tangente , cotangente , secante.

260 Segun lo que acabamos de decir 1º el seno *AT* de un arco qualquiera *AB* es la mitad de la cuerda *AR* del arco *ABR* duplo de *AB*; pues el radio *CB* perpendicular à *AR*, la divide por medio (51). Y así el seno del arco de 30º es la mitad de la cuerda de 60º, que es el radio (112).

261 2º El coseno *AD* de un arco *AB* qualquiera es siempre igual à *CT* parte del radio comprendida entre el centro y el seno: y su seno verso *BT* es la diferencia entre el radio y el coseno. 3º La tangente *BH* es igual al radio *BC* quando el ángulo *BCH* es de 45º: porque siendo el ángulo *CBH* recto, y *BCH* de 45º; será también *BHC* de 45º (86), y la $BH = BC$.

262 4º Que si en un triángulo rectángulo *CAT* se toma por radio la hipotenusa, y se traza un arco *AB*; serán los otros dos lados *AT*, *TC* seno y coseno del ángulo *ACT*: y si se toma por radio uno de los lados como *CB* en el triángulo rectángulo *HCB* será el otro *BH* tangente, y la hipotenusa *CH* secante del ángulo *HCB*.

263 En el punto *B* en que suponemos que no hay arco, tampoco hay seno ni tangente, y el coseno es el radio *CB*. Al paso que es mayor el arco, crece el seno y la tan-

gente, y disminuye el coseno y cotangente hasta que el arco llega à ser *BAE* ó de 90º: entónces es el seno el radio *EC*, que por ser el mayor de todos se llama *seno total* ó de 90º, el coseno es cero y lo mismo la cotangente; y la tangente y secante que resultan paralelas, son infinitas.

264 En pasando el arco de 90º comienzan à mengüar los senos y tangentes, y à crecer los cosenos y cotangentes hasta que llega à 180º ó al punto *F*, en el que es cero el seno y la tangente, el coseno es el radio *CF*, y la cotangente y cosecante paralelas é infinitas. Pero notese que en qualquier ángulo obtuso es uno mismo el seno, coseno, tangente &c. que en el ángulo agudo su suplemento: por exemplo, el seno del ángulo *ACF* es *AT*, seno del ángulo *ACB* suplemento de *ACF*; su coseno es *AD*, su tangente es *FG* igual à *BH*, à causa de los triángulos *CBH*, *CFG* iguales (90): pero todas estas líneas son negativas quando pertenecen à los ángulos obtusos, ó están en una situacion contraria à la que tienen quando pertenecen à los ángulos agudos.

265 Así como un arco se valúa por grados, mayores ó menores segun el círculo; así también el valor de un seno que en diferentes círculos tiene distinta longitud, se espresa en partes en que se considera dividido el radio

del círculo, sea grande ó pequeño. Para que este valor sea mas exácto, se supone que el número de partes en que el radio ó seno total se divide, sea grande como en 1000000, y averiguando quantas de ellas corresponden à cada uno de los senos, cosenos, tangentes &c. desde 1' hasta 90°, se ha formado una lista de ellos, que se llama *tabla de los senos*, para cuya formacion se necesita la doctrina siguiente.

266 Si llamamos r el radio AC de un círculo qualquiera, y a el arco AB ; será AT , $\text{sen } a$; CT , $\text{cos } a$; BH , $\text{tang } a$; CH , $\text{sec } a$ &c. Luego si dado el valor del seno AT , se nos pidiese el de las demas líneas; 1.º en el triángulo rectángulo CAT , donde $(CT)^2 = (CA)^2 - (AT)^2$ (203), ó $CT = \sqrt{((AC)^2 - (AT)^2)}$, será $\text{cos } a = \sqrt{(r^2 - \text{sen}^2 a)}$, así como $AT = \sqrt{((AC)^2 - (CT)^2)}$ ó $\text{sen } a = \sqrt{(r^2 - \text{cos}^2 a)}$. 2.º Por ser $TB = CB - CT$ (261), será $\text{sen vers } a = r - \text{cos } a$.

267 3.º De los triángulos rectángulos semejantes CAT, CBH se saca $CT:TA::CB:BH$ ó $\text{cos } a : \text{sen } a::r : \text{tang } a$: luego $\text{tang } a = \dots \frac{r \text{ sen } a}{\text{cos } a}$, ó $\frac{\text{sen } a}{\text{cos } a}$ suponiendo $r=1$, y poniendo un punto en lugar del signo \times . 4.º En los mismos triángulos se tiene $CT:CA::CB:CH$ ó $\text{cos } a:r::r:\text{sec } a = \frac{r^2}{\text{cos } a} = \frac{1}{\text{cos } a}$, siendo.....

$r=1$. 5.º Por ser $DE=CE-CD$, tendremos $\text{cos vers } a = r - \text{sen } a$.

268 6.º De los triángulos semejantes CDA, CEQ se saca $CD:DA::CE:EQ$, ó $\text{sen } a : \text{cos } a::r : \text{cot } a = \frac{r \cdot \text{cos } a}{\text{sen } a} = \frac{\text{cos } a}{\text{sen } a}$, haciendo

$r=1$. Tambien es $BH:CB::CE:EQ$ ó $\text{tang } a:r::r:\text{cot } a = \frac{r^2}{\text{tang } a} = \frac{1}{\text{tang } a}$ y $\text{tanga} = \frac{r^2}{\text{cot } a} = \frac{1}{\text{cot } a}$ es decir, que las tangentes estan en

razon inversa de las cotangentes. 7.º Ultimamente, $CD:CA::CE:CQ$ ó $\text{sen } a:r::r:\text{cosec } a = \frac{r^2}{\text{sen } a} = \frac{1}{\text{sen } a}$.

269 Dado el seno $BD=a$ (fig. 115) de un arco qualquiera AB y de consiguiente su coseno CD ó $\text{cos } a$ (266), se tendrá el seno BT de su mitad en el triángulo rectángulo ABD , donde por ser $AB = \sqrt{((BD)^2 + (AD)^2)}$, resulta $\frac{1}{2} AB = BT = \frac{1}{2} \sqrt{((BD)^2 + (AD)^2)}$, ó $\text{sen } \frac{1}{2} a = \frac{1}{2} \sqrt{(\text{sen}^2 a + \text{sen vers}^2 a)}$: póngase en lugar de $\text{sen vers}^2 a$ su valor (266) $(r - \text{cos } a)^2$ ó $r^2 - 2r \cdot \text{cos } a + \text{cos}^2 a$, y será $\text{sen } \frac{1}{2} a = \frac{1}{2} \sqrt{(\text{sen}^2 a + r^2 - 2r \cdot \text{cos } a + \text{cos}^2 a)}$: y como $\text{sen}^2 a + \text{cos}^2 a = r^2$ ó $(BD)^2 + (CD)^2 = (CB)^2$ en el triángulo rectángulo BDC ; se tendrá por último, $\text{sen } \frac{1}{2} a = \frac{1}{2} \sqrt{(2r^2 - 2r \text{cos } a)}$.

270 Si dado BT ó $\text{sen } \frac{1}{2} a$, se nos pidiese el seno $BD=a$ del arco duplo; se sacará de la

equacion $\text{sen } \frac{1}{2}a = \frac{1}{2}\sqrt{(2r^2 - 2r \cos a)}$ el valor de $\cos a = \frac{r^2 - 2(\frac{1}{2}\sqrt{(2r^2 - 2r \cos a)})^2}{r}$, y sustituido en.... $\text{sen } a = \sqrt{(r^2 - \cos^2 a)}$ que encontramos (266), tendremos dicho BD ó $\text{sen } a$.

271 Supongamos ahora conocidos los senos $EF = a$, $DI = b$ (fig. 116) de los arcos AE , DE , y tratemos de encontrar el seno y coseno de su suma y de su diferencia. Si se toma $EB = ED$; será AB la diferencia de los arcos AE , DE : bajese el radio CE perpendicular a la cuerda BD ; DM , TL , BG perpendiculares a CA , y tirando las paralelas TH , BK , será (118) $DH:HK::KO:OB::BT:TD$; esto es, $DH = HK$, $KO = OB$, así como $DT = TB$ (51): luego el seno de DBA suma de los arcos propuestos será $DM = MH + HD = TL + HD$, el seno de la diferencia de dichos arcos $BG = MK = HM - HK = TL - HD$, el coseno de la suma $CM = CL - LM = CL - TH$, y el coseno de la diferencia $CG = CL + LG = CL + TH$.

El valor de estas líneas $TL, HD; CL, TH$; se saca de los triángulos CBF, CTL, DTH semejantes, donde $CE:CT::EF:TL:CE:CT::CF:CL$; $CE:CF::DT:DH$, $CE:EF::DT:TH$; ó poniéndoles sus nombres, $r:\cos b::\text{sen } a:TL = \frac{\text{sen } a \cdot \cos b}{r}$, $r:\cos b::\cos a:CL = \frac{\cos a \cdot \cos b}{r}$,

$$r:\cos a::\text{sen } b:DH = \frac{\text{sen } b \cdot \cos a}{r}, r:\text{sen } a::\text{sen } b:$$

$$TH = \frac{\text{sen } a \cdot \text{sen } b}{r}. \text{ Luego...}$$

$$1^{\circ} TL + HD = DM = \text{sen}(a+b) = \frac{\text{sen } a \cdot \cos b + \cos a \cdot \text{sen } b}{r}$$

$$2^{\circ} TL - HD = BG = \text{sen}(a-b) = \frac{\text{sen } a \cdot \cos b - \cos a \cdot \text{sen } b}{r}$$

$$3^{\circ} CL - TH = CM = \cos(a+b) = \frac{\cos a \cdot \cos b - \text{sen } a \cdot \text{sen } b}{r}$$

$$4^{\circ} CL + TH = CG = \cos(a-b) = \frac{\cos a \cdot \cos b + \text{sen } a \cdot \text{sen } b}{r}$$

$$272 \text{ Supuesto que } \text{tang} = \frac{r \cdot \text{sen}}{\cos} \text{ (267);}$$

$$\text{será } \text{tang}(a+b) = \frac{r \cdot \text{sen}(a+b)}{\cos(a+b)} \dots \dots \dots$$

$$\frac{r(\text{sen } a \cdot \cos b + \cos a \cdot \text{sen } b)}{\cos a \cdot \cos b - \text{sen } a \cdot \text{sen } b} = \frac{r \cdot \left(\frac{\text{sen } a}{\cos a} + \frac{\text{sen } b}{\cos b} \right)}{1 - \frac{\text{sen } a}{\cos a} \times \frac{\text{sen } b}{\cos b}}$$

dividiendo numerador y denominador por $\cos a \cdot \cos b$. Póngase ahora en lugar de...

$$\frac{\text{sen } a}{\cos a}, \frac{\text{sen } b}{\cos b} \text{ sus iguales } \frac{\text{tang } a}{r}, \frac{\text{tang } b}{r};$$

y se tendrá por último, $\text{tang}(a+b) = \dots$

$$\frac{r^2(\text{tang } a + \text{tang } b)}{r^2 - \text{tang } a \cdot \text{tang } b}. \text{ Y por lo mismo será } \text{tang}.$$

$$(a-b) = \frac{r^2(\text{tang } a - \text{tang } b)}{r^2 + \text{tang } a \cdot \text{tang } b}$$

$$273 \text{ De la expresion } \text{cotang} = \frac{r \cdot \cos}{\text{sen}} \text{ (268)}$$

sacaremos $\cotang(a+b) = \frac{r \cos(a+b)}{\sin(a+b)} =$

$$\frac{r(\cos a \cos b - \sin a \sin b)}{\sin a \cos b + \cos a \sin b} = \frac{r \left(1 - \frac{\sin a \sin b}{\cos a \cos b} \right)}{\frac{\sin a}{\cos a} + \frac{\sin b}{\cos b}}$$

$\frac{r^2 - \text{tang } a \cdot \text{tang } b}{\text{tang } a + \text{tang } b}$, partiendo por $\cos a \cdot \cos b$, y

sustituyendo $\frac{\text{tang } a}{r}$, $\frac{\text{tang } b}{r}$ en lugar de.....

$\frac{\sin a}{\cos a}$, $\frac{\sin b}{\cos b}$. Como tambien $\cotang(a-b) =$

$$\frac{r^2 + \text{tang } a \cdot \text{tang } b}{\text{tang } a - \text{tang } b}$$

274 Ultimamente, siendo (267) $\text{secante} = \frac{r^2}{\cos}$; tendremos $\text{secant}(a+b) = \frac{r^2}{\cos(a+b)} =$

$$\frac{r^3}{\cos a \cdot \cos b \sin a \cdot \sin b} = \frac{r^2 \times r^2}{r(\cos a \cdot \cos b - \sin a \cdot \sin b)}$$

multiplicando por r : multipliquese y partase el denominador por $\cos a \cdot \cos b$, y resultará $\text{secant}(a+b) =$

$$\frac{r^2 \times r^2}{(r \cdot \cos a \cdot \cos b) \times \left(\frac{\sin a}{\cos a} \times \frac{\sin b}{\cos b} \right)} =$$

$\frac{r \cdot \sec a \cdot \sec b}{r^2 - \text{tang } a \cdot \text{tang } b}$ poniendo secant y tang en lugar de sus iguales $\frac{r^2}{\cos}$ y $\frac{\sin}{\cos}$ (267): y por

igual razon $\text{sec}(a-b) = \frac{r \cdot \sec a \cdot \sec b}{r^2 + \text{tang } a \cdot \text{tang } b}$. El

mismo cálculo con corta diferencia nos dará

$$\text{cosec}(a+b) = \frac{r^2}{\sin(a+b)} \quad (268) = \dots\dots\dots$$

$$\frac{r^3}{\sin a \cdot \cos b + \cos a \cdot \sin b} = \frac{r^2 \times r^2}{(r \cdot \cos a \cdot \cos b) \times \left(\frac{\sin a}{\cos a} + \frac{\sin b}{\cos b} \right)}$$

$$= \frac{\sec a \sec b}{\text{tang } a + \text{tang } b}; \text{ y } \text{cosec}(a-b) = \frac{\sec a \sec b}{\text{tang } a - \text{tang } b}.$$

275 Si en las espresiones $\sin(a+b)$, $\cos(a+b)$ &c. suponemos $a=b$, $a=2b$, $a=3b$ &c. resultarán los valores de los senos, cosenos, tangentes &c. de los arcos dúplos, triplos &c. Si suponemos $b=a$ y $r=1$; será $\sin(a+b) = \sin 2a = 2 \sin a \cdot \cos a$; $\cos(a+b) = \cos 2a = \cos^2 a - \sin^2 a$; $\text{tang}(a+b) = \text{tang } 2a = \frac{2 \text{ tang } a}{1 - \text{tang } a}$; haciendo....

$b=2a$, se tendrá $\sin 3a = \sin a \cdot \cos 2a + \cos a \cdot \sin 2a$; $\cos 3a = \cos a \cdot \cos 2a - \sin a \cdot \sin 2a$, y así de las demas.

276 Si suponiendo $r=1$, se suman las espresiones número 1.º y 2.º, y las número 3.º y 4.º (271); resulta $\sin(a+b) + \sin(a-b) = 2 \sin a \cdot \cos b$, $\cos(a+b) + \cos(a-b) = 2 \cos a \cdot \cos b$; y haciendo $a+b=p$, $a-b=q$, en cuyo caso $a = \frac{1}{2}(p+q)$, $b = \frac{1}{2}(p-q)$; $\text{sen } p + \text{sen } q = 2 \text{sen } \frac{1}{2}(p+q) \times \cos \frac{1}{2}(p-q)$; $\text{sen } p - \text{sen } q = 2 \text{sen } \frac{1}{2}(p-q) \times \cos \frac{1}{2}(p+q)$; $\text{cos } p + \text{cos } q = 2 \cos \frac{1}{2}(p+q) \times \cos \frac{1}{2}(p-q)$; $\text{cos } p - \text{cos } q = 2 \text{sen } \frac{1}{2}(p-q) \times \text{sen } \frac{1}{2}(p+q)$.

277 Si se dividen ahora estas fórmulas las unas por las otras, se tendrá.....

$$\frac{\text{sen } p + \text{sen } q}{\text{sen } p - \text{sen } q} = \frac{\text{sen } \frac{1}{2}(p+q) \cos \frac{1}{2}(p-q)}{\cos \frac{1}{2}(p+q) \text{sen } \frac{1}{2}(p-q)} = \text{tang}$$

$$\frac{1}{2}(p+q) \times \cot \frac{1}{2}(p-q) = \frac{\text{tang } \frac{1}{2}(p+q)}{\text{tang } \frac{1}{2}(p-q)} \quad (269).$$

$$\frac{\text{sen } p + \text{sen } q}{\cos p + \cos q} = \text{tang } \frac{1}{2}(p+q) : \frac{\text{sen } p - \text{sen } q}{\cos p + \cos q} = \text{tang } \frac{1}{2}(p-q)$$

$$\frac{\text{sen } p + \text{sen } q}{\cos q - \cos p} = \cot \frac{1}{2}(p-q) : \frac{\text{sen } p - \text{sen } q}{\cos q - \cos p} = \cot \frac{1}{2}(p+q)$$

$$\frac{\cos p + \cos q}{\cos q - \cos p} = \cot \frac{1}{2}(p+q) \cdot \cot \frac{1}{2}(p-q) : \text{con otras}$$

muchas que se pueden sacar. Las primeras sirven para transformar los productos de los senos en senos simples: las segundas para substituir á las sumas ó diferencias de los senos los productos de otros senos, y las terceras, las tangentes y cotangentes á los senos y cosenos.

278 Las proposiciones establecidas ya, bastan para la construcción de las Tablas de los senos (265): pues considerando de 1000000 partes al radio, cuerda de 60° (112); tendrá el seno de 30° que es su mitad (260), 500000 y buscando sucesivamente los senos de la mitad (269), sacaremos por el de 30° el valor de los senos de 15°, 7°30', 3°45', 1°52'30" hasta el de 52''44'''

3''''³/₄ que por su pequeñez se confunde ya con su arco. Por lo mismo tanto él como el de 1' serán sin error sensible proporcionales con sus arcos: y podremos decir, *el arco de 52''44''' 3''''³/₄ es á su seno encontrado, como el arco de 1' es á su seno.* Conocido por esta proporción el valor del seno de 1', sacaremos el de 2', 4', 8' &c. (275), el de 1' + 2' = 3' (271), 3' + 2' = 5, el de 10', 20', 30', 60', ó el de 1°; y con él se sacarán del mismo modo los de los senos restantes hasta 45°. Los demas hasta 90° son sus cosenos, y su valor se encuentra según digimos (266): y con los senos y cosenos se sacan (267 y 268) los valores de las tangentes y cotangentes.

279 Las tablas que acabamos de enseñar á construir, en lugar de los valores de los senos, cosen. tang. suelen contener solo sus logaritmos para mayor comodidad en los cálculos; pero logaritmos sacados por los antiguos Geómetras que consideraban al radio dividido en 100000000 partes. Los Modernos suponiendo el radio de 1000000, han omitido en los valores de los senos, tangentes &c. las cuatro últimas cifras y algunos cinco, por no necesitarse tanta exactitud; pero han dejado los logaritmos conforme los sacaron los Antiguos. El que solo tenga tabla de los logaritmos de los senos, y quisiese sacar por ellas el valor de un seno v. gr. el de 18° 6'; debe

rebajar seis unidades de la característica de su logarítano 9, 4923083, y buscando 3,4923083 en los logaritmos de los números naturales, le hallará entre 3106 y 3107, y qualquiera de ellos será con poca diferencia el valor del seno de $18^{\circ}6'$.

280 Habiendo manifestado ya cómo los senos equivalen à los ángulos, vamos ahora à demostrar que en qualquier triángulo los senos de los ángulos son proporcionales à sus lados opuestos. Inscripto en un círculo un triángulo qualquiera ABC (fig. 37), siendo cada uno de sus lados cuerda de un arco duplo del que mide el ángulo opuesto (67); será la mitad de cada lado el seno del ángulo opuesto: esto es, AP será seno del ángulo B, AN seno de C, y BH seno de A: luego siendo los lados proporcionales à sus mitades, lo serán de consiguiente à los senos de los ángulos opuestos; de suerte que será $AB:\text{sen } C::AC:\text{sen } B::BC:\text{sen } A$.

281 En el triángulo rectángulo ABD (fig. 117) es tambien el seno del ángulo recto D (que es el radio ó r), à la hipotenusa AB; como el seno A al lado BD, y como el seno B al lado AD: y pues tomando à ED por radio, es AD tangente del ángulo B (262), y siendo AD radio, es DB tangente del ángulo A; será $ED:AD::r:\text{tang } B$, y $AD:DB::r:\text{tang } A$.

282 En un triángulo qualquiera ACB (fig. 118) la suma de los dos lados EC + AC

que comprende el ángulo C, es à su diferencia $BC - AC$; como la tangente de la mitad de la suma de los otros dos ángulos A, B, es à la tangente de la mitad de la diferencia de estos ángulos: ó $BC + AC:BC - AC::\text{tang } \frac{1}{2}(A + B):\text{tang } \frac{1}{2}(A - B)$.

Para demostrarlo describase un círculo desde C con el intervalo del lado menor AC, y tiradas las dos cuerdas AE, AD, y la DF paralela à AE; será el ángulo t mitad de los ángulos A y B, por ser $z = A + B(84)$; y t mitad de z (68): el ángulo DAB es la semidiferencia de $A - B$ de dichos ángulos (238 t.I.); porque DAB con el ángulo $o = t$ que es su semisuma, compone el ángulo A el mayor de A y B, luego siendo EAD ángulo recto (69), y lo mismo su igual ADF (45); será tomando à DA y AF por radios, EA tangente del ángulo $t = \frac{1}{2}(A - B)$, y DF tangente de $DAF = \frac{1}{2}(A + B)$: y como por las paralelas EA, DF se tiene $BE:BD::EA:DF$, y $BE = BC + AC$, $BD = BC - AC$; saldrá por último, $BC + AC:BC - AC::\text{tang } \frac{1}{2}(A + B):\text{tang } \frac{1}{2}(A - B)$. Conocida la semisuma y semidiferencia de los ángulos A y B, se averigua facilmente el valor de cada uno (238 t.I.).

283 Finalmente, en qualquier triángulo ABC (fig. 119 y 120) el lado BC sobre el qual ó sobre cuya prolongacion cae la perpen-

dicular AD , es á la suma $AC+AB$ de los otros dos; como su diferencia $AC-AB$ es á la diferencia $DC-BD$ de los segmentos hechos por la perpendicular AD , ó á su suma $DC+BD$ si la perpendicular cae fuera. Porque trazando un círculo desde A con el radio AB , y alargando AC hasta T ; será (143) $CB:CT::CR:CE$, y como $CT=AC+AB$, $CR=AC-AB$, y $CE=DC-DB$ por ser $BD=DE$; se tendrá substituyendo estos valores, $BC:AC+AB::AC-AB:DC-DB$: y en la fig. 120 donde CE es igual á $CD+DE=CD+DB$, sale $BC:AC+AB::AC-AB:CD+DB$. Conocida la suma y diferencia de los segmentos, se averigua su valor (238 t.I.)

Usos del cálculo trigonométrico en la resolución de los triángulos rectángulos y oblicuángulos.

284. Con las proposiciones anteriores se pueden resolver los quatro casos diferentes en qué con arreglo á lo dicho (257), dadas tres cosas de las seis que componen un triángulo, se pida el valor de las otras tres.

285. Y comenzando por el triángulo rectángulo, si además del ángulo recto D (fig. 117) que se conoce, se diese 1º uno de los ángulos agudos B y el lado BD ; harémos (281) $r: \text{tang } B::BD:AD$ para averiguar el

lado AD . 2º Si se diese la hipotenusa AB y uno de los ángulos agudos A ; haciendo $r:AB::\text{sen } A:BD$, se conocerá el lado BD . 3º Con el lado BD y la hipotenusa AB , tendremos $AB:r::DB:\text{sen } A$; y se habrá averiguado el ángulo A . 4º Dados los lados DB , AD ; se hará $AD:DB::r:\text{tang } A$; y se tendrá el ángulo A .

286. En los triángulos oblicuángulos ó que no tienen ángulo recto, 1º conocido uno de los lados AB (fig. 121) y los dos ángulos C y B , será A lo que les falta para 180° (86); y se averiguará el valor de los lados AC y CB por las dos proporciones siguientes (280) $\text{sen } C:AB::\text{sen } B:AC::\text{sen } A:BC$. 2º Dados los dos lados AC , CB (fig. 118) y el ángulo C comprendido; se hará (282) $CB+AC:CB-AC::\text{tang } \frac{1}{2}(A+B):\text{tang } \frac{1}{2}(A-B)$: conocida la diferencia de A y B , como se conoce su suma que con C compone 180° (86); se averiguará lo que vale cada uno (238 t.I.).

287. 3º Quando se dan los lados AB , BC (fig. 121) y el ángulo A ; se hace $BC:\text{sen } A::AB:\text{sen } C$: conocidos C y A y de consiguiente su suplemento B , se averiguará AC diciendo $\text{sen } C:AB::\text{sen } B:AC$. Si con los lados AB , BC se hubiese dado el ángulo C , hubiéramos hecho la proporción $AB:\text{sen } C::BC:\text{sen } A$.

288 Pero como tirando la $BT = AB$, resulta otro triángulo BTC con los mismos tres datos BT ó AB , BC y C , donde $BT : \text{sen} C :: BC : \text{sen} ETC$; se infiere que à dichos datos AB, BC y C corresponde por 4.º término proporcional ó el seno del ángulo obtuso BTC ó el del ángulo agudo $A = BTA$ complemento de BTC : que aunque el mismo en ambos (264), no lo es el tercer lado AC , TC de los dos triángulos: por lo que quando se den en un triángulo oblicuángulo dos lados AB BC y el ángulo C opuesto al menor AB ; se necesita saber ademas, si el ángulo opuesto al otro lado es el agudo A , y entonces se tratara del triángulo ABC , ó es el obtuso BT , y será BTC el triángulo de que se habla.

289 4.º Si se diesen los tres lados AB , AC , BC (fig. 119), y se pidiesen los ángulos; sacarémos de la proporcion (283) $BC : AC + AB :: AC - AB : DC - ED$, la diferencia de los segmentos que forma una perpendicular bajada desde A sobre BC , suma conocida de dichos segmentos: luego conocerémos el valor de qualquiera de ellos por exemplo, el de DC : y en el triángulo rectángulo ADC conocida la hipotenusa y el lado DC , se averiguara el ángulo C (285), y de consiguiente (287) A y B .

Sea $AC = 180P$. $AB = 128$, $BC = 200$;

tendrémos $200 : 180 + 128 :: 180 - 128 : DC - ED = EC$, esto es, $200 : 308 :: 52 : EC = 80$ poco mas. Con esta diferencia de los segmentos BD , DC y su suma, que es el lado BC , tendrémos el valor de qualquiera de ellos $BD = \frac{1}{2}(200 - 80) = 60$: y en el triángulo rectángulo ABD donde conocemos AB , BD ; averiguarémos el ángulo B (285) y por él, los otros A y C .

290 Vamos á aplicar esta doctrina á algunos egemplos, en los que usarémos para abreviar el cálculo en lugar de los números, senos, cosenos, tangentes &c. de sus logaritmos, y aun del complemento aritmético como no sea en el caso de haberse de hacer la resta del logaritmo del radio, que siendo 10,000000, escusa dicha abreviacion.

29 Hayase de medir 1.º la altura AB (fig. 122) accesible por uno de sus extremos A . Puesto el Grafómetro en un sitio inmediato M , y colocado verticalmente ó de suerte que su diámetro quede paralelo al suelo llano por medio de un hilo *et* con un plomo, que colgando de su centro debe pasar por los 90° : dirijase por el diámetro inmobil el rayo visual pD , y por el mobil el qb à la cumbre de la altura: vease cuántos grados coge en el instrumento el ángulo *pea*, y estos mismos tendrá su vertical peD . Medida despues la distancia $MN = eD$, como BN es perpendicular al suelo y de consiguiente à

eD, será BDe un triángulo rectángulo, en el que si el lado eD que se conoce, es de 456 v. y el ángulo observado BeD de $56^{\circ} 12'$, se sacará el otro lado BD (281) por la proporción $r : \text{tang } BeD = 56^{\circ} 12' :: eD = 456 : DB$, que se encuentra de 681 v. por el siguiente cálculo de logaritmos.

Log. tang $56^{\circ} 12'$ 10,174287

Log. 456..... 2,658965

Suma..... 12,833252

Log. del radio..... 10,000000

Resta ó Log. BD..... 2,833252

añádase DN ó la altura del Grafómetro, y se tendrá la AB que se pide.

292 Si ED fuera la altura conocida de una muralla, y se pidiese la longitud de eB para escalarla; despues de haber buscado el ángulo Bed haciendo $eD : DB :: r : \text{tang } BeD$; haríamos $BD : \text{sen } BeD :: r : Be$. Mas facil es cuadrar el valor de eD y BD, y sacar de su suma la raíz cuadrada que será la longitud de eB; porque $eB = \sqrt{(eD)^2 + (BD)^2}$ (141).

293 En estas y semejantes prácticas conviene colocar el Grafómetro á una distancia casi igual á la que se va á medir, para que sea menor el error que por lo comun se comete al tomar el ángulo de la altura, que será entónces de 45° . Por exemplo, si midiendo la altura GD (fig. 123), se toma en el

punto F el ángulo ZFT en lugar del verdadero GET, y en E el KET por el verdadero GET; aunque la equivocacion ó los ángulos GEK y GEZ se supongan iguales, es mayor la parte GZ en que la observacion disminuye la altura en F, que GK que sale de ménos en E.

294 Supongamos ahora que se nos pida medir una línea AB (fig. 124) accesible solamente por sus extremos, como el ancho de una laguna, bosque &c. En este caso se ha de escoger un punto C desde donde se puedan tirar las líneas CA, CB; y suponiendo que se puedan medir, sea $AC = 142 P$, $BC = 120$, y $C = 132^{\circ}$: y será $B + A = 48^{\circ}$; haré-

Log. tang 24° 9,648583

Log. 22..... 1,342423

Comp. Log. 262..... 7,581699

Suma ó Log. tang $\frac{1}{2}(B-A)$.. 18,572705

mos pues (286), $142 + 120 : 142 - 120 :: \text{tang } 24^{\circ} : \text{tang } \frac{1}{2}(B-A)$, ó $262 : 22 :: \text{tang } 24^{\circ} : \text{tang } \frac{1}{2}(B-A)$, que calculada por los logaritmos es de $2^{\circ} 8'$. Luego (238 t. I.) el ángulo B valdrá $24^{\circ} + 2^{\circ} 8' = 26^{\circ} 8'$, y $A = 24^{\circ} - 2^{\circ} 8' = 21^{\circ} 52'$.

Con los ángulos B, A se encontrará despues la AB por la proporción siguiente $\text{sen } B : AC :: \text{sen } C : AB$, ó $\text{sen } 26^{\circ} 8' : \text{sen } 132^{\circ} :: 142 : AB$: que buscada por los logaritmos resulta de 235,6 P.

295 Si no hubiese sitio desde donde se puedan ver los dos puntos A, B (fig. 125); se elegirán dos C, D tales que sea fácil medir las BC, CD, DA y los ángulos C, D que convendrá sean rectos: imaginando después la BD , resultará un triángulo BCD donde conocidos BC, CD y el ángulo comprendido, se averiguará BD como acabamos de decir. Conociendo ya en el otro triángulo ADB AD, DB y el ángulo ADB diferencia entre BD y AD ; se averiguará por último la AB .

296 Vamos ya à medir una línea inaccesible AB (fig. 126): para lo qual después de haber escogido y medido una base CD que se procura hacer casi igual y paralela à AB , se tirarán las visuales CA, CB, DA, DB , y después de haber medido los ángulos que forman en C, D , se averiguará (286) el valor de CB en el triángulo CBD , donde el lado CD y los ángulos BCD, CDB son conocidos: del mismo modo se averiguará AC en el triángulo ACD . Con AC y BC conocidos, además del ángulo ACB que forman, que es la diferencia de los ángulos ACD, BCD observados; se sacará por último en el triángulo ACB el valor de AB por lo dicho (286).

En el caso de no encontrarse un punto C desde donde se vean los dos A, B ; se tirará una recta CE (fig. 127) tal que desde E se

alcancen à ver dichos puntos: se imaginarán después las visuales EA, EB, CB, ED, DA y DB , y medidos los ángulos en E, D y la base CE , se hallará facilísimamente la AB , cuidando siempre de no formar jamás ángulos muy agudos en los puntos inaccesibles.

297 Si la línea inaccesible fuese la altura vertical AB (fig. 123): observaremos en el sitio H el ángulo AeC , mediremos después un trecho HP , y tomando en P el ángulo Ate ; tendremos conocidos en el triángulo Ate los ángulos etA , y Aet suplemento del observado AeC , con el lado $te = PH$: luego podremos averiguar Ae (286). Pasando ahora al triángulo rectángulo AeC donde sabemos el valor de la hipotenusa Ae y el del ángulo AeC ; tendremos el de AC por la proporción

Log. sen $35^{\circ}40'$	9,765720
Log. 576.....	2,760422
Suma.....	12,526142
Log. r	10,.....

Resta ó Log. AC 2,526142

$r:Ae::\text{sen } AeC:AC$. Sea Ae de 576 v. y el ángulo AeC de $35^{\circ}40'$; será $r:576::\text{sen } 35^{\circ}40':AC$, que se encuentra de 335,8 v. alas que si se añade CB ó la altura del instrumento, resultará la AB que se busca.

298 Para medir la distancia AB (fig. 128) de una nube ó cuesta inaccesible; se mide una

base AC , y observando en el triángulo ABC los ángulos A y C , se averiguan AB y BC (286). Si se dirige despues con el Grafómetro colocado verticalmente, una línea AD paralela al suelo llano que se llama *horizontal*, en el triángulo rectángulo ABD , donde la hipotenusa AB es conocida, y el ángulo BAD se puede medir; se hallará fácilmente la altura BD de la montaña y la distancia horizontal AD (285).

299. Hayase de levantar el plano de un terreno $ACDBE$ &c. (fig. 129) ó determinar la situacion de todos sus puntos principales. Despues de haberlos recorrido, y formado á ojo un borrador de todos para hacer juicio de su situacion; médase una base AB de una distancia proporcionada á la de los objetos mas remotos, y tal que desde sus extremos se registren los mas principales, como casas, huertas, molinos, torres &c. Póngase el Grafómetro en B , y colocando el diámetro inmovil en la direccion AB ; obsérvense los ángulos ABE , ABF , ABG , ABD , ABC que con él forman los rayos dirigidos á los objetos E , F , G &c. Mudese ahora el instrumento á A ; y haciendo que el diámetro inmovil se dirija á B , se tomarán tambien los ángulos BAE , BAF , BAG , BAD &c. que se anotarán con los anteriores en un *libro de memorias*.

Escojase despues otra base GE para deter-

minar los objetos R , H , K que ó no se ven desde A y B , ó forman en ellos ángulos muy agudos ó muy obtusos: y desde sus extremos G , E observense como los anteriores los ángulos EGK , EGR , EGH ; GEK , GER , GEH ; y si es menester los LCD , LDC para determinar algun otro punto L muy estraviado, escribiéndolos todos con los ya observados.

Tendremos pues, en los triángulos AEB , AFB , AGB &c. el lado AB y los ángulos adyacentes conocidos; y de consiguiente será facil calcular los otros dos lados (286). Tambien se averiguará el valor de GE por medio del triángulo GEB , cuyos lados GB , BE se conocen ya, y el ángulo GBE comprendido, que es la diferencia entre los observados ABG , ABE . Con GE y los ángulos adyacentes observados se buscan en los triángulos GKE , GRE , GHE sus lados, haciendo lo mismo con los del triángulo CDL .

Hecho esto, se tirará en el papel una línea ab que tenga tantas partes de la escala que ha de determinar el tamaño del *plano*, como varas ó pies tiene AB en el terreno; y tomando en dicha escala un intervalo de tantas partes como varas ó pies tiene BE ; se trazará desde b como centro un arco. Con otro espacio de tantas partes como varas ó pies tiene AE , se traza otro arco desde a , que cortará al primero en el punto e , cuya posicion

respecto de ab quedará determinada en el papel, semejante á E respecto de AB. Determinense de este mismo modo los puntos g, f, c, d ; y se habrán representado los G, F, C, D. Los K, R, H, L se deben determinar en el papel desde las bases ge, cd , trazando desde sus extremos arcos con el intervalo de tantas partes como varas ó pies corresponden á GK, EK; GR, RE &c. y quedará trazada en el papel una figura semejante á la del terreno (150); pues se compondrá de igual número de triángulos semejantes y colocados del mismo modo que ella: con que solo faltará dibujar en cada punto los objetos que en ellos se representan.

300 También se pudieron determinar los puntos de la figura despues de haber observado los ángulos en A, B, G, E, C, D tomando la ab como digimos, y formando en a y b por medio del semicírculo (24), los ángulos abe, abf, abg, abd, abc ; bae, baf, bag, bad, bac iguales á los observados en A y B: en g y e tirando la ge , los gek, ger, geh ; egk, egr, egh ; y en c, d , los cdl, lcd iguales á los medidos en G, E, C, D; pues los triángulos que resultan, son semejantes á los del terreno. Este método aunque ménos exácto, ahorra el calcular los lados por la trigonometría, y por eso conviene usar de él quando no son muy grandes las distancias á que están los puntos principales del plano.

301 Además de los medios que nos ofrece la trigonometría para medir toda clase de líneas; nos podremos tambien servir de los siguientes. 1.º La altura AB (fig. 122) pudo haberse medido fijando en el mismo plano de la torre un palo ab paralelo á dicho edificio, y diciendo despues, *la longitud ac de la sombra del palo es á su altura ab; como la longitud de la sombra AC es á AB*: pero cuidese, si el edificio termina en punta, añadir á la longitud de la sombra la mitad del diámetro del edificio, que es en lo que aparece mayor la sombra del edificio igual, que el que no lo es.

302 2.º Para medir la recta AB (fig. 130) accesible por uno de sus extremos A; se plantará un piquete en C, y sobre él horizontalmente un estadal con dos reglas pequeñas en sus extremos D, A: dirijanse con ellas al punto B los rayos visuales AB, DB: muevase el piquete al rededor, llevando inmóviles las reglas, hasta que quede en la direccion ad , y midiendo ab , ó lo que hay de a á b punto donde concurren los rayos db, ab ; se tendrá el valor de AB. Este método que es bastante exácto en cortas distancias, se aplica á medir cualesquiera otras líneas, verticales ú horizontales (306), colocando el estadal y las reglas segun el caso lo requiera.

303 3.º Habiendose de medir la línea AB (fig. 131); tirada la base AC en sitio có-

modo para medirse, y dirigiendo la CB ; se tendrá un triángulo ACB con un lado AC , y los ángulos adyacentes conocidos: cuyo lado AB se calculará, ó formando en CA los ángulos $b CA$, CAB iguales á BCA , CAB ; y entónces será $Ab=AB$, ó tirando sobre un papel una recta ac del mismo número de partes de una escala que AC tiene de varas ó pies, y formando sobre ella un triángulo abc semejante á ABC : en cuyo caso el número de partes de la escala de que conste ab , será el de las varas ó pies que tiene AB .

304 4.º Quando la línea AB propuesta tiene una parte AD accesible, tirada AC que supondremos de 30 v . se formará, tomando á arbitrio la Ac de 10 v . el ángulo $AcD=ACB$, y midiendo AD , si tiene 12 v . formaremos la proporcion $Ac=10 v : AC=30 v : AD=12 v : AB$, que resulta de 36. Si AB no tiene parte accesible, se alargará AC hasta que AT sea de 10 v . y formando el ángulo $ATd=ACB$, se hará dicha regla de tres. Siempre conviene hacer á Ac el tercio ó el quarto de AC , y con eso será AD el tercio ó quarto de AB : como tambien tomar á AC igual con poca diferencia á AB ; lo que se logrará apartando tanto el punto C que el ángulo BCA sea la mitad del suplemento del ángulo A ; pues siendo entónces $ACB=ABC$, será $AC=AB$ (87).

DE LA NIVELACION.

305 Concluimos este tratado dando alguna idea de los métodos de *nivelar* un terreno. Para esto supondremos 1.º que á razon de 56979 toesas ó 132951 v . castellanas en que se puede regular cada grado de círculo máximo de la tierra; corresponderán á toda la circunferencia $56979 \times 360^\circ = 20512440$ toesas ó 47862360 v : al diámetro 6526685 toesas ó 15228932 $\frac{2}{3}v$: al radio 3263342 $\frac{1}{2}$ toesas ó 7614466 $\frac{2}{3}v$: á un minuto 950 toesas ó 2216 v : y á un segundo 16 toesas que son 37 v : todo en la suposicion de que la tierra sea perfectamente esférica; pues aunque en realidad es ovalada, es insensible el error de dicho supuesto para la nivelacion.

306 2.º Que una línea Ad (fig. 132) cuyos puntos A , c , d , distan todos igualmente del centro O de la tierra, como la paralela á la superficie de un gran lago; se llama línea *horizontal* y de *nivel verdadero*, á diferencia de la que se encuentra nivelando, que en la distancia Ad es la tangente Ac , que se llama *línea de nivel aparente*. La diferencia Cd entre las dos, ó lo que dista mas de O el punto C que d , es casi nula á la corta distancia de 100 á 130 toesas, por la mucha estension de la superficie de la tierra; pero en ma-

yores distancias se debe apreciar y restar de la que haya resultado en la operacion.

307 Podremos sacar el valor de esta diferencia considerando la distancia Ac igual á la tangente AB , y como $BR:AB::AB:Bc$ (144) suponiendo que el arco Ac se confunda por su pequeñez con la tangente AB ; será BR lo mismo que cR , y $cR:Ac::Ac:Bc$; pongáse el valor de cR diámetro de la tierra (305), y el de la distancia Ac , y se tendrá la diferencia Bc ; y por ella qualquiera otra Cd : pues siendo Bc , Cd casi paralelas é iguales á Aa , Ab , que son entre sí como los cuadrados de las cuerdas ó arcos Ac , Ad (206), tendremos $(Ac)^2:(Ad)^2::Bc:Cd$, y así de las demas. La siguiente tabla formada por *M Mrs Picard* y de *la Hire* contiene las diferencias de nivel aparente y verdadero hasta 4000 toesas.

DISTANCIAS. Toes. Pies. Pulg. Lin.	DISTANCIAS. Toes. Pies. Pulg. Lin.	DISTANCIAS. Toes. Pies. Pulg. Lin.
50.....0.....0... 0 $\frac{1}{3}$	500.....0....2....9	1000.....0.. I I...0
100.....0.....0... 1 $\frac{1}{3}$	550.....0....3....6	1250.... I....5.. 2 $\frac{1}{2}$
150.....0.....0... 3	600.....0....4....0	1500....2....0....9
200.....0.....0... 5 $\frac{1}{3}$	650.....0....4....8	1750....2....9....8 $\frac{1}{2}$
250.....0.....0... 8 $\frac{1}{3}$	700.....0....5....4	2000....3....8....0
300.....0..... I....0	750.....0....6....3	2500....5....8....9
350.....0..... I... 4 $\frac{1}{3}$	800.....0....7.... I	3000....8....3....0
400.....0..... I... 9 $\frac{1}{3}$	850.....0....7... I I $\frac{1}{2}$	3500... I I....2....9
450.....0....2....3	900.....0....8... I I	4000... I 4....8....0
	950.....0... I 0....0	

308 Esto supuesto, para la operacion de nivelar usan los Prácticos de diferentes instrumentos. Los mas comunes son 1º el *nivel de ayre* (fig. 133), que es un tubo lleno de espíritu de vino ménos una ampolla de ayre A , que debe estar perfectamente en medio, para que el sitio que ocupa el instrumento, esté á nivel 2º El *nivel de Albañil* (fig. 134) es un triángulo isósceles sin base con un cuadrante de círculo entre sus lados, y una línea perpendicular tirada desde su vértice á la base y señalada en el cuadrante. Del extremo superior de esta línea cuelga un hilo con un plomo, que pasando por el cuadrante, determina en grados la cantidad de inclinacion del plano que se nivela, ó pasa por dicha línea si el plano está á nivel.

309 3º El nivel de mas uso es el *de agua* (fig. 135) compuesto de un tubo hueco de hoja de lata ú otro metal doblado en A y B en cuyos extremos e y t se introducen otros dos tubos de vidrio D , C pegados con betun en e y t : tiene debajo y en medio del tubo AB una virola para colocarle en su pie. Lleno el tubo de agua hasta que llegue en los dos pequeños á la altura de 2 á 3 pulgadas, la línea et que pasa por la superficie del agua, es perfectamente horizontal. Acompaña al nivel el estadal HG dividido en pies, pulgadas y líneas, con un rebajó en el medio, en el que

se introduce una regla, á la que se fija un carton ú hoja de lata TF de un pie en cuadro poco mas ó ménos, cuya mitad inferior se tñe de negro, dejando blanca la superior.

310 Si se quisiese saber lo que dista mas del nivel verdadero el punto G que Z ; se colocará el instrumento en E , perpendicular al terreno por medio del hilo de plomo H , se enviará un Peon á G que clavando el estadal perpendicular, y teniéndole fijo con la mano izquierda, suba ó bage con la derecha segun le avise el que mire desde e , hasta asegurarle en T donde remata el rayo visual tT . Midase aora la altura GT que supongo de $2P$ y $7p$, y restándola de la del instrumento que por lo comun es de $4P$ y $6p$; resultarán $1P$ y $11p$, en que el punto G está mas elevado que Z sobre el Orizonte. Si la distancia ZG no pasa de $750P$, se desprecia la diferencia entre el nivel aparente y verdadero: pero si es mayor, se cuenta con ella, y se repite la operacion nivelando de cada vez 1400 ó $1500 P$.

311 Hayanse por egemplo, de nivelar los puntos A y H (fig. 136) distantes uno de otro $3000 P$, pudiendose nivelar de cada vez 1400 á $1500 P$, dividiré la operacion en dos estaciones: elegiré para ellas dos sitios á $750P$ uno, y á 2250 el otro del punto A : pongo en el medio E de toda la distancia un es-

stadal, y planto el instrumento en 1 : mirare desde a hácia B , y haré notar y medir la altura AB que el rayo abB señala, y que supongo de $8P$ $5p$: miro despues por b á C , y mando señalar este punto con un lapiz. Paso el nivel al punto 2 , y mirando desde d á D , mediré la altura DC de $4P$, haciendo notar ó escribir á parte la altura HF de $5P$ $3p$, que se determina mirando de c á F . Sumo ahora las alturas AB ; DC encontradas, y restando de su suma $12P$ $5p$, el valor $5P$ $3p$ de HF ; tendré de residuo $7P$ $2p$, que es en lo que el punto A está mas bajo que H .

312 Si hubiese cuestas en la operacion, convendrá poner separadas en una columna que llamaremos *primera*, las distancias que se encuentran subiendo, y en otra *segunda* las que se encuentren bajando, para restar despues la suma de las unas de la de las otras. Y así continuando la nivelacion del egemplo anterior hasta el punto Z ; apuntaré en la 1^a columa las alturas halladas AB , DC , y pasando el nivel al punto 3 , miraré por f , e y G , y haciendo medir GF de $3P$ $6p$, lo apuntaré en la 1^a columna, determinando tambien desde e el punto I . Plantado el nivel en 4 , determinará el rayo qK la KI de $3P$ $3p$, que escribiré en la 2^a columna por ser bajada, como tambien la altura $4P$ $6p$ del instrumento colocado en 5 , á cuyo pie

va á dar el rayo yh , haciendo al mismo tiempo señalar el punto M á donde se dirige hy .

Paso á 6, y escribo en la 2ª columna 2P á que equivale MN determinada por el rayo ih , señalando tambien el punto P . Ultimamente, pongo en la 1ª columna las alturas QP de 4P $1p$, y TS de 6P $5p$, que se encuentran como las otras, colocando sucesivamente el instrumento en 7 y 8, y la XZ de 3P $2p$. en la 2ª. Sumando ahora las alturas de la 1ª columna, tendré 26P $5p$: resto de ellas 12P $11p$ suma de las de la 1ª, y resultan 13P $6p$ que dista mas del centro de la tierra Z que A . Las cuestas demasiado empinadas se nivelan mas facilmente comenzando desde la cumbre, y de este modo pueden nivelar dos á un tiempo para acabar mas pronto la operacion.

APLICACION DEL ALGEBRA á la Geometría.

Construccion de las Equaciones de 1º y 2º grado

313 Para la resolucion completa de los problemas geométricos por medio del Álgebra, es preciso saber ántes representar en líneas las espresiones ó valores algébricos de las incognitas que contengan. Esplicarémolos

esta operacion que se llama *construccion*, en los egemplos siguientes. Seax= $a+b-n$, donde a represente la línea A (fig. 137), b la B y n la C : tomo sobre una línea indefinida DH , la $DO=A$, la $OT=B$, y desde T hácia el lado opuesto la $TS=n$, y tendré $DS=DO+OT-TS=a+b-n=x$.

314 La espresion $x=\frac{ab}{c}$ representa una quarta proporcional á c , a , b ; pues $c::a::b::x$: y $x=\frac{bb}{c}$ una tercera proporcional á c y b ; por ser $c::b::b::x$: luego si a , b , c representan las líneas o , n , m (fig. 57), y se practica lo que digimos (123 y 124); será $bt=x$ la quarta ó la tercera proporcional. A esta misma operacion se reducen $x=\frac{abcd}{emn}$ haciendo $e::a::b::\frac{ab}{e}$, $m::\frac{ab}{e}::c::\frac{abc}{em}$, y últimamente, $n::\frac{abc}{em}::d::\frac{abcd}{emn}=x$. Aquí y en lo sucesivo damos por supuestas las operaciones geométricas que citamos.

315 Quando hay dos ó mas términos, como en $x=\frac{cd}{m}+\frac{abc}{et}-\frac{r^2st}{a^2b}$ &c. se busca la línea á que equivale cada uno, y quedará reducida á una espresion semejante á esta $x=p+q-h$, facil de construir. Lo mismo se

se ejecuta con $x = \frac{a^2b + cd^2 + cde}{fg}$; esto es, se busca una línea $t = \frac{a^2b}{fg}$, otra $m = \frac{cd^2}{fg}$, y $n = \frac{cde}{fg}$ y resulta $x = t + m + n$.

316 En $x = \frac{abc + deb + \&c.}{ed - fg + \&c.}$ &c. $x = \dots$
 $\frac{bc d - a^3 qp + \&c.}{a^2g + d^2m + \&c.}$ se reducen à monomios sus denominadores polinomios haciendo $t = \dots$
 $\frac{ed - fg}{e}$, $n = \frac{a^2g + d^2m}{ag}$ esto es, buscando una línea igual al denominador dividido por una de sus letras, ó por dos, segun el número de factores que contenga; pues siendo en tal caso $et = ed - fg$, $agn = a^2g + d^2m$, se reducirán las espresiones propuestas à estas $x = \frac{abc + deb}{et}$, $x = \frac{bt^2d - a^3qp}{agn}$ que ya hemos enseñado à construir.

317 Hay construcciones mas expeditas para ciertas espresiones: $x = \frac{bd + ad}{c + e} = \frac{(b + a)d}{c + e}$ se construye haciendo $c + e : b + a :: d : x$
 $x = \frac{a^2 - b^2}{g - f} = \frac{(a + b)(a - b)}{g - f}$, haciendo $g - f : a + b :: a - b : x$. Para construir facilísimamente $x = \frac{a^2 - b^2}{g - f} = x$. Para construir facilísimamente $x = \frac{bde^2 - b^2d^2}{bde + e^3}$, introducirémos en el término b^2d^2 la línea e haciendo $\frac{bd}{e} = t$, ó

$e : b :: d : t$; pues será $bd = et$, y poniendo este valor en lugar de bd , se convertirá la espresion en esta $x = \frac{e^3t - e^2t^2}{e^2t + e^2} = \frac{et - t^2}{t + e}$, semejante à la primera.

318 Todas las espresiones anteriores tienen en su numerador un factor mas que en su denominador: pero si tuviesen dos como $\frac{a^3 + a^2b}{d + c} = ax \frac{a^2 + ab}{d + c}$, se encontrará $\frac{a^2 + ab}{d + c} = m$, y la espresion reducida à axm , se construirá formando un paralelogramo cuya base sea a , y m la altura. En $\frac{a^3 + be^2 + d^3}{a + c}$ hay que introducir a en el 2.º y 3.º término, haciendo $\frac{bc}{a} = m$ ó $bc = am$, y $\frac{d^2}{a} = n$ ó $d^2 = an$, y quedará reducida à $\frac{a^3 + amc + cdn}{a + c} = ax \dots$
 $\left(\frac{a^2 + mc + dn}{a + c} \right)$ semejante à la anterior.

319 Quando son tres los factores que hay demas, como en $\frac{a^3b + a^2b^2}{a + c}$, que es igual à $abx \frac{a^2 + ab}{a + c}$ se hallará $\frac{a^2 + ab}{a + c} = m$, y siendo ab un paralelogramo, si se le considera como base de un paralelepípedo cuya altura sea m , será su solidez $abxm$; y esta será la construccion de la espresion $\frac{a^3b + a^2b^2}{a + c}$.

320 Las cantidades que tienen como las construidas un mismo número de factores en todos los términos, se llaman *homogéneas*: si alguna $abc^2 - a^2 + abm$ no lo fuese, suponiendo que n sea la línea que representa la unidad; se multiplican los términos faltos $-a^2 + abm$, el 1º por n^2 , y el 2º por n , y resultará la espresion $abc^2 - a^2 n^2 + abmn$ igual á la primera, y que ya se podrá construir por ser homogénea.

321 La espresion mas sencilla de las equaciones de 2º grado es $x = \sqrt{ac}$, que es una media proporcional entre a y c : de suerte que suponiendo $m = a$ (fig. 65), $n = c$, será procediendo segun digimos (145), la $bd = x = \sqrt{ac}$. Tambien $x = \sqrt{(2bc + dc) = \sqrt{(2b + d)c}$ representa una media proporcional entre..... $2b + d$ y c : $\sqrt{(a^2 - b^2) = \sqrt{(a + b)(a - b)}$ otra entre $a + b$ y $a - b$. En $x = \sqrt{(b^2 + dg)}$, introduciendo en dg la línea b , ó haciendo $dg = bt$; se tendrá $x = \sqrt{(b^2 + bt) = \sqrt{(b + t)b}$, que es una media proporcional entre $b + t$ y b . Quando la espresion consta de muchos términos como $x = \sqrt{(cd + ac - eb \&c.)}$ se procede del mismo modo: ó se busca como digimos (316), una línea $t = \frac{cd + ac - eb}{b}$, y será $bt = cd + ac - eb$, y $x = \sqrt{bt}$. En $x = \sqrt{\left(\frac{bc - a^2g \&c.}{d - c}\right)}$ se hace $t = \frac{bc}{d - c}$, $m = \frac{ag}{d - c}$; y $\sqrt{(ct - am)}$ á que que-

da reducida, se construye facilísimamente.

322 Sea $x = \sqrt{(a^2 + b^2)}$: tomese $CD = a$ (fig. 138) y perpendicular á CD , la $BD = b$; será (141) la hipotenusa $CB = \sqrt{((CD)^2 + (BD)^2) = \sqrt{(a^2 + b^2) = x}$. Si se hubiera dado $x = \sqrt{(a^2 + b^2 + c^2 + d^2 + \&c.)}$; despues de hallada la $CB = \sqrt{(a^2 + b^2)}$, se levantará en B la perpendicular $BA = c$, y será $CA = \sqrt{(a^2 + b^2 + c^2)}$: tirese despues la perpendicular $AO = d$, y se tendrá finalmente $CO = \sqrt{(a^2 + b^2 + c^2 + d^2)}$. Quando hay algunos cuadrados negativos, se busca un cuadrado r^2 suma de los positivos, y otro m^2 suma de los negativos, y se reducirá la espresion á $\sqrt{(t^2 - m^2)}$, que se puede construir describiendo sobre la línea $ac = t$ (fig. 65) un semicírculo, en el que se inscribirá la línea $ab = m$; pues será (203) $bc = \sqrt{((ac)^2 - (ab)^2) = \sqrt{(t^2 - m^2)}$. A esta y á la anterior construcción pueden reducirse las espresiones $x = \sqrt{(ab + cd + mn + \&c.)}$, $x = \sqrt{(ab - cd + mn - \&c.)}$, haciendo ántes $ab = t^2$, $cd = r^2$, $mn = p^2 \&c.$

323 Si en $x = \left(b^2 + \frac{a^2 d^2 + d^2 c^2}{bd + ac}\right)$ suponemos $bd + ac = m^2$, $a^2 + c^2 = t^2$; nos resultará $x = \sqrt{\left(b^2 + \frac{d^2 t^2}{m^2}\right)}$; hagase despues $n = \frac{dt}{m}$, y quedará que construir $\sqrt{(b^2 + n^2)}$. $\sqrt{(a^2 - ex \sqrt{(bd - e^2)})}$ se reduce, buscando $t = \sqrt{(bd -$

e^2), á $\sqrt{(a^2 - ct)}$: y últimamente, $\frac{a\sqrt{(b+c)}}{\sqrt{(d+e)}} =$
 $\frac{a\sqrt{(b+c)(d+e)}}{d+e}$, se construye buscando una

media proporcional n entre $b+c$ y $d+e$, y despues una quarta $d+e$, a y n .

324 Sea $x = \pm \frac{1}{2}a \pm \sqrt{(\frac{1}{4}a^2 \pm b^2)}$ el valor sacado de la equacion general incompleta de 2.º grado $x^2 \pm ax = \pm b^2$; y pues que abraza las dos fórmulas $x = \pm \frac{1}{2}a \pm \sqrt{(\frac{1}{4}a^2 + b^2)}$, $x = \pm \frac{1}{2}a \pm \sqrt{(\frac{1}{4}a^2 - b^2)}$, tomemos para construir la 1.ª $ac = \frac{1}{2}a$ (fig. 69), y ab perpendicular á ac igual á b , describese con ac un círculo, y tirando bt ; tendremos $bt = tc + cb = \frac{1}{2}a + \sqrt{(\frac{1}{4}a^2 + b^2)}$, y $br = bc - cr = \frac{1}{2}a - \sqrt{(\frac{1}{4}a^2 + b^2)}$; luego $\pm bt$ y $\pm br$ serán los quatro valores de la 1.ª expresion.

325 Para la construccion de la 2.ª $x = \pm \frac{1}{2}a \pm \sqrt{(\frac{1}{4}a^2 - b^2)}$; sobre $ac = \frac{1}{2}a$ (fig. 65) trase el semicírculo $abhc$, é inscribiendo en él $ab = b$, tirese bc que se alargará hasta que cn , cp sean iguales á ac , y serán $\pm bn$, $\pm bp$ los quatro valores que se buscan: pues $bn = cn - bc = \frac{1}{2}a - \sqrt{(\frac{1}{4}a^2 - b^2)}$, y $bp = cp + cb = \frac{1}{2}a + \sqrt{(\frac{1}{4}a^2 - b^2)}$.

326 Esto supuesto, para la solucion de los problemas geométricos, ademas de lo que dejamos dicho en la de los algebricos (227 y sig.t. I.), se supone encontrado lo que se va á

buscar, valiendose para formar la equacion que determine su valor, de la posicion y relaciones de las líneas que se den. Pero quando las condiciones del problema no suministran todas las líneas necesarias para resolverle; es preciso buscarlas, alargando las dadas hasta que encuentren otras, tirando paralelas, perpendiculares, tangentes, formando triángulos rectángulos ó semejantes, y valiendose despues de las propiedades que de estas líneas y figuras dejamos demostradas en la geometría elemental: en especial la de los triángulos rectángulos y semejantes. Y supuesto que para esto no se pueden dar reglas generales, es preciso esperar los progresos y el acierto en esta materia del talento y del egercicio reflexionado que cada uno haga sobre ella. Al mismo tiempo que resolvamos algunos problemas, haremos las únicas advertencias que pueden guiarnos en tanta obscuridad é incertidumbre.

327 Prob. 1.º *Dados dos puntos A, C, (fig. 139) trazar un círculo que pase por ellos, y toque ademas la recta BE.* Supongase encontrado el tercer punto T por donde ha de pasar el círculo, tirese por A y C la AE alargada hasta que corte á BE ; y tendremos que averiguar el valor de ET . Dividase AC por medio en R, y llamando ER , a ; $AR = RC$, b ; y ET , x ; será $CE = a - b$, y por lo

demostrado (144) $(ET)^2 = AE \times EC$, ó $x^2 = a^2 - b^2$, y $x = \sqrt{a^2 - b^2} = ET$: espresion que se puede construir describiendo sobre $ER = a$ el semicírculo RHE , é inscribiendo en él la $RH = RC = b$: pues será $EH = ET = x = \sqrt{a^2 - b^2}$ en el triángulo rectángulo RHE (203).

328 2. Dividir la línea dada AB (fig. 140) en media y extrema razon en D , ó de modo que sea $AB : AD :: AD : DB$. Sea $AB = a$, $AD = x$; será $BD = AB - AD = a - x$, y la proporcion $AB : AD :: AD : DB$ se mudará en esta $a : x :: x : a - x$, donde (174 t.I.) $x^2 = a^2 - ax$, y (249 t.I.) $x = -\frac{1}{2}a \pm \sqrt{a^2 + \frac{1}{4}a^2}$. Si se levanta en B la perpendicular $BC = \frac{1}{2}a$, y se tira la AC ; valdrá $\sqrt{a^2 + \frac{1}{4}a^2}$ ó $\sqrt{\frac{5}{4}a^2}$: correse de AC , $CE = BC = \frac{1}{2}a$, y será $AE = AD = AC - CE = \sqrt{\frac{5}{4}a^2} - \frac{1}{2}a$. El otro valor $-\frac{1}{2}a - \sqrt{\frac{5}{4}a^2}$ se construye tomando á la parte opuesta $AH = AC + CB = \frac{1}{2}a + \sqrt{\frac{5}{4}a^2}$, y la AH será tambien media proporcional entre HB y AB .

329 3.º Dado el radio de un círculo, encontrar el lado del triángulo equilátero, el del decágono y pentágono regular. 1.º Sea el radio $AC = a$ (fig. 141), x el lado AT del triángulo; será el arco ABT de 120° , AB de 60° , y el triángulo ABC isosceles: luego (82) $CP = \frac{1}{2}a$, y en el triángulo rectángulo APC será $(AP)^2 = (AC)^2 - (CP)^2$,

$6\frac{1}{4}x^2 = a^2 - \frac{1}{4}a^2$, $x^2 = 4a^2 - a^2$, y $x = \sqrt{4a^2 - a^2}$. Formese pues, sobre el diámetro MN un triángulo equilátero MRN , y la perpendicular RC será en el triángulo rectángulo MRC , $\sqrt{4aa - aa} = x$, por ser $MC = a$ y $MR = MN = 2a$.

330 2.º Suponiendo (fig. 142) $AD = x$ el lado del decágono, será su arco medida del ángulo ACD , $\frac{1}{10}$ de la circunferencia ó de 36° , $CDA = CAD$ de 72° (86 y 87), y BDC de 108° (84). Hagase $BD = DC$, y será $DBC = DCB = 36^\circ$, y $ACB = 72^\circ$ luego los triángulos ABC , ADC serán semejantes, y se tendrá $AB : AC :: AC : AD$, ó $a + x : a :: a : x$; será pues, $x^2 + ax = a^2$, y $x = -\frac{1}{2}a \pm \sqrt{\frac{5}{4}a^2} = AD$: espresion que encontramos (328) ser el segmento mayor de una línea $AC = a$ dividida en media y extrema razon.

331 3.º Para encontrar el lado $SD = z$ del pentágono regular, dado el del decágono $AD = b$ y el radio $AC = a$; tenemos $DL = \frac{1}{2}z$ (82), $LC = \sqrt{a^2 - \frac{1}{4}z^2}$ en el triángulo rectángulo DLC , y $AL = AC - LC = a - \sqrt{a^2 - \frac{1}{4}z^2}$. Del triángulo rectángulo ADL se saca $(AD)^2 = (AL)^2 + (DL)^2$, ó poniendo sus valores, $b^2 = a^2 - 2a\sqrt{a^2 - \frac{1}{4}z^2} + a^2 - \frac{1}{4}z^2 + \frac{1}{4}z^2$ esto es, $2a\sqrt{a^2 - \frac{1}{4}z^2} = 2a^2 - b^2$. Cuadrense ambos miembros, redúcense y partase por a^2 , y resultará $z^2 = 4b^2 -$

$\frac{b^4}{a^2}$: y pues que $b = \sqrt{\frac{5}{4}a^2} - \frac{1}{2}a$ (330), si en lugar de b^2 y b^4 ponemos sus valores $\frac{5}{4}a^2 - a\sqrt{\frac{5}{4}a^2}$ y $\frac{5}{4}a^2 - 2a\sqrt{\frac{5}{4}a^2} + \frac{1}{4}a^4 - 3a^3\sqrt{\frac{5}{4}a^2}$; tendremos reduciendo, $z^2 = a^2 + \frac{5}{4}a^2 - a\sqrt{\frac{5}{4}a^2}$, ó $z^2 = a^2 + b^2$, poniendo b^2 en lugar de $\frac{5}{4}a^2 - a\sqrt{\frac{5}{4}a^2}$. Tomese ahora $CT = b$, y tirando RT , será en el triángulo rectángulo RTC , $RT = \sqrt{(a^2 + b^2)} = z$.

332 4.º Dada la HD (fig. 143) y los ángulos H , D que con ella forman HC , DC , averiguar el valor de la altura CP á que estas líneas se encuentran. Llamemos m la tangente del ángulo D conocido, n la del ángulo H , r el radio, HD , a ; y la CP , y tendremos en el triángulo rectángulo CDP (281) DP á PC , como el radio á la tangente del ángulo D ; ó $DP:y::r:m$; $HP:y::r:n$; luego $DP = \frac{ry}{m}$, $HP = \frac{ry}{n}$; y $DP + HP = HD = a = \frac{ry}{m} + \frac{ry}{n}$;

de consiguiente, $y = \frac{amn}{rm + rn}$. Si llamamos p , q las cotangentes de dichos ángulos D , H , y en lugar de sus tangentes m , n ponemos sus equivalentes (268) $\frac{r^2}{p}$, $\frac{r^2}{q}$ en la expresión hallada; quedará reducida á $y = \frac{ar}{p + q}$, mucho mas sencilla que la primera: para que se vea que de la elección de las líneas conocidas pende que el resultado sea ó no sencillo.

333 5.º Dados los tres lados $AC = a$, $BC = c$, $AB = b$ de un triángulo ABC (fig. 119 y 120), hallar la perpendicular AD y los dos segmentos BD , DC que forma sobre BC . Suponiendo $AD = z$ y $DC = x$, será $BD = BC - DC = c - x$ en la fig. 119 y en la 120 $BD = DC - BC = x - c$; y siendo $(DC)^2 + (AD)^2 = (AC)^2$, y $(BD)^2 + (AD)^2 = (AB)^2$; tendremos $x^2 + z^2 = a^2$, $c^2 - 2cx + x^2 + z^2 = b^2$; restando esta equacion de la 1.ª quedará $2cx - c^2 = a^2 - b^2$, y $x = \frac{a^2 - b^2 + c^2}{2c} = \frac{a^2 - b^2}{2c} + \frac{c}{2} = \frac{1}{2} \left(\frac{(a+b)(a-b)}{c} \right) + \frac{1}{2}c = DC$: que es la mitad de una quarta proporcional á c , $a + b$ y $a - b$, sumada con $\frac{1}{2}c$: averiguada DC , se conocerá fácilmente AD ó z .

334 De la equacion $2cx - c^2 = a^2 - b^2$ ó $c(2x - c) = (a+b)(a-b)$, se saca $c:a + b::a - b:2x - c$ ó $BC:AC + AB::AC - AB:AD - BD$, proporción demostrada (283). Asimismo, si en la equacion $z^2 + x^2 = a^2$, $z^2 = a^2 - x^2 = (a+x)(a-x)$, ponemos por x su valor $\frac{aa - bb + cc}{2c}$ (333); tendremos $zz = \left(a + \frac{aa - bb + cc}{2c} \right) \times \left(a + \frac{bb + aa - cc}{2c} \right) = \left(\frac{2ac + aa + cc - bb}{2c} \right) \times \left(\frac{2ac + aa - cc + bb}{2c} \right) = \left(\frac{(a+c+b)(a+c-b)}{2c} \right) \times \left(\frac{(b+c-a)(b-c+a)}{2c} \right)$:

luego $4ccz = ((a+c+b)(a+c-b))((b+c-a)(b-c-a))$, ó $4c^2z^2 = (a+c+b)(a+b-c-2b)(a+b-c-2a)(a+b+c-2c)$ y llamando $2s$ la suma de los tres lados $a+b+c$, $4c^2z^2 = 2s(2s-2b)(2s-2a)(2s-2c) = 16s(s-a)(s-b)(s-c)$, donde partiendo por 16 , reduciendo y sacando la raíz, resulta $\frac{1}{2}(cz) = \sqrt{s(s-a)(s-b)(s-c)}$: y como $\frac{1}{2}(cz) = \frac{1}{2}BC \times AD$ es la superficie del triángulo ABC (182), se encontrará esta quando se conocen sus lados, *restando sucesivamente cada lado de su semisuma, multiplicando las restas entre sí y por la semisuma, y sacando despues la raíz cuadrada del producto.* Vease pues, cuántas cosas puede contener una equacion ademas de la que se busca.

335 6º Desde un punto B (fig. 144) cuya situacion es conocida respecto del ángulo FCO, tirar una recta que corte en él un triángulo CHD de una superficie igual á la de un cuadrado conocido mm . Tirese como quiera la BHD, despues las HT y BX perpendiculares á OC, y BM paralela á FC: y tendremos en los triángulos semejantes MDB, CDH, BDX, HDT; MD:CD::BD:HD, BD:HD::BX:HT; luego MD:CD::BX:HT, ó llamando MC, a , BX, b ; CD, x ; $a+x::b:HT = \frac{bx}{a+x}$; y pues que $\frac{1}{2}CD \times HT$ es (182) la superficie del triángulo HCD, que ha de ser igual á mm ,

se tendrá $\frac{x}{2} \times \frac{bx}{a+x} = mm$ ó $\frac{bx^2}{2(a+x)} = mm$, donde $x = \frac{mm}{b} \pm \sqrt{\left(\frac{m^4}{bb} + \frac{2amm}{b}\right)} = \frac{mm}{b} \pm \sqrt{\left(\frac{mm}{b} + 2a\right)} \frac{mm}{b}$.

336 Para construir esta espresion, se levantará en qualquier punto D de una línea indefinida AX (fig. 145) la perpendicular DT = b , sobre AD y DT se tomarán DC, DN iguales cada una á m , y habiendo tirado TN, y por C la CH paralela á TN; será DH = $\frac{mm}{b}$ en los triángulos semejantes DTN, DCH, donde TD:CD::DN:DH, ó $b:m::m:DH = \frac{mm}{b}$; luego será $x = DH \pm \sqrt{(DH + 2a) \times DH}$.

Tomese despues, BD = $2a$, trase sobre HB un semicírculo que encuentre en P la DT, y será la cuerda PH = $\sqrt{(DH + 2a)DH}$ (138): pasese esta á HO y HA, y serán los dos valores de x AD = DH + HA = DH + $\sqrt{(DH + 2a)DH}$, y DO = HO - DH = $\sqrt{(DH + 2a)DH} - DH$. Si se pasa el primer valor AD desde C á D (fig. 144) y se tira la BHD, será el triángulo CDH el que se pide. El 2.º valor DO, que se ha de tomar en sentido negativo para que sea DH = $\sqrt{(DH + 2a)DH}$, se pasa de C á d y

con el triángulo Chd se resuelve el problema respecto del ángulo hCd igual y opuesto á HCD , como se puede ver comparando los triángulos MBd , dhC ; PdX , thd .

En el caso que el punto B se hubiese dado por bajo de la CD y en el mismo ángulo MCH (fig. 146); la posición de las BX , BM contraria á la que tenían en el caso anterior, hace negativas las a , b , y produce el valor $x = -\frac{mm}{b} \pm \sqrt{\left(-\frac{mm}{b} - 2a\right)x - \frac{mm}{b}}$: que siendo el mismo que el anterior aunque con signos contrarios, se construye del mismo modo que él.

En la fig. 147 en que el punto B por bajo de la CD coge la BX ó b en situación opuesta al primer caso, el $-b$ reduce la expresión á esta $x = -\frac{mm}{b} \pm \sqrt{\left(\frac{mm}{b} - 2a\right)\frac{mm}{b}}$, que siendo imaginaria quando $\frac{mm}{b}$ es menor que $2a$, muestra que entonces es imposible el problema: quando $2a$ se supone menor que $\frac{mm}{b}$, resultan negativos ambos valores y pertenecen al ángulo MCh igual y opuesto á FCO dado, respecto del qual será imposible el problema. Con efecto, si despues de haber hallado como digimos (336) $DH = \frac{mm}{b}$ (fig. 148), se toma $HB = 2a$, y al semi-

círculo trazado sobre ella se tira la tangente DP que será (144) $\sqrt{DH \times DB} = \sqrt{\left(\frac{mm}{b} - 2a\right)\frac{mm}{b}}$, y se lleva esta de D á A y á O ; serán $AH = DH - AD = \frac{mm}{b} - \sqrt{\left(\frac{mm}{b} - 2a\right)\frac{mm}{b}}$, y $HO = HD + DO = \frac{mm}{b} + \sqrt{\left(\frac{mm}{b} - 2a\right)\frac{mm}{b}}$

$\frac{mm}{b}$ los valores de x , que tomados con signos contrarios, es decir, llevados de C á D y d (fig. 147) y tirando las HBD , hBd , cortarán los triángulos HDC , haC pedidos.

Dado el punto B dentro del ángulo HCD (fig. 149), la CM ó a que entonces resulta negativa, reduce los valores á la expresión $x = \frac{mm}{b} \pm \sqrt{\left(\frac{mm}{b} - 2a\right)\frac{mm}{b}}$ la misma que la anterior sino es en los signos: y así construída como ella, se llevarán AH , HO valores de $-x$, á D y d á la derecha de C , y darán los dos triángulos HCD , hCd que desatan la cuestion. La hemos tratado en toda su estension para que se acostumbren los principiantes á sacar de una equacion los diferentes casos que puede encerrar.

337 Por este problema podremos facilmente 1.º dividir un triángulo AHQ (fig.

143) desde un punto B dado dentro ó fuera de él, en dos partes que tengan entre sí una razon qualquiera $a:b$. Pues si se hace $a+b$ á a , como la superficie conocida del triángulo AHQ al 4.º término; será este la superficie que debe tener el triángulo HCD que se pide: con que si buscando un cuadrado mm igual á esta superficie, tiramos desde el punto B una recta, que corte en el ángulo AHQ una superficie igual á mm (335), se habrá resuelto el problema.

338 2º Dividir desde un punto dado K (fig. 150) qualquier figura rectilínea ABCDE en dos partes ARLB, REDCL que tengan entre sí una razon dada. Conocida la ABCDE con todos sus ángulos y lados, averiguaremos la superficie del ángulo AFB, cuyo lado AB, y ángulos BAF, ABF, suplementos de EAB, ABC, son conocidos: y siendo fácil averiguar como en el problema anterior, la superficie ARLB, porcion determinada de toda la figura; se reducirá el problema á tirar desde el punto K una recta KRL que corte en el ángulo EFC un triángulo de una superficie conocida. Lo que tambien podrá servirnos para dividir una figura en qualesquiera partes.

339 7º En una esfera AHBD (fig. 151) formada por el semicírculo ABD al rededor del diámetro AB, se pregunta en qué punto

será la solidez del segmento esférico DAHED igual á la del cono DCH. Sea $AC=a$, $AE=x$, será $CE=a-x$: y suponiendo $r:c$ la razon del radio á la circunferencia, será la del círculo máxîmo ADBHA el 4.º término de la proporcion $r::a$: $\frac{ac}{r}$: la superficie del caso

esférico DAH (224) $\frac{ac}{r} \times x$, y la solidez

del sector esférico DCHA (242) $\frac{ac}{r} \times x \times \frac{1}{3}a =$

$\frac{a^2 cx}{3r}$. La del cono DCH es el producto de su base cuyo rayo es ED, multiplicada por el tercio de la altura EC (239): y como en el triángulo rectángulo EDC, $ED = \sqrt{((DC)^2 - (EC)^2)}$, ó $ED = \sqrt{(a^2 - a^2 + 2ax - x^2)} = \sqrt{(2ax - x^2)}$; si se hacer $c::c$: $\sqrt{(2ax - x^2)}$: $c\sqrt{(2ax - x^2)}$: $\frac{c\sqrt{(2ax - x^2)}}{r}$; será esta la espresion de la circunferencia del círculo base del cono: su superficie (185) el producto de esta circunferencia por $\frac{1}{2}$ ED, mitad de su radio, ó

$\frac{1}{2}\sqrt{(2ax - x^2)} \times \left(\frac{c\sqrt{(2ax - x^2)}}{r}\right) = \frac{c(2ax - x^2)}{2r}$:

y la solidez del cono el producto de esta base por $\frac{1}{3}$ EC, tercio de la altura, esto es, $\frac{c(2ax - x^2)}{2r} \times \frac{a-x}{3}$.

Si esta, que en el caso presente debe

ser la mitad de la del sector DCHA, se multiplica por 2, quedará igual á la de dicho sector: de suerte que tendremos $\frac{2c(2ax-x)}{2r} \times$

$\frac{a-x}{3} = \frac{a^2cx}{3r}$, que se reduce á $x^2 - 3ax = -a^2$, donde $x = \frac{3}{2}a \pm \sqrt{\frac{5}{4}a^2} = \frac{3}{2}a \pm \sqrt{\left(\frac{3}{4}a^2 - a^2\right)}$: espresion que se construye tomando $AR = \frac{3}{2}a$, trazando sobre ella el semicírculo, é inscribiendo en él la $AT = a$: pues siendo la TR en el triángulo rectángulo ATR, $\sqrt{(AR)^2 - (AT)^2} = \sqrt{\left(\frac{3}{4}a^2 - a^2\right)}$; si se toma $RE = TR$, será $AE = AR - ER = \frac{3}{2}a - \sqrt{\left(\frac{3}{4}a^2 - a^2\right)} = x$.

340 El otro valor $x = \frac{3}{2}a + \sqrt{\frac{5}{4}a^2}$ que por ser mayor que el diámetro $2a$, no puede pertenecer á la cuestion, resuelve esta otra: dada la AQ dividida en tres partes iguales en B y C, encontrar en la misma direccion un punto E, tal que AC sea media proporcional entre las distancias de E á los extremos A y Q: pues suponiendo AC, a ; AE, x ; se tendrá $x::a::a:3a-x$; $3ax-x^2=a^2$, y $x = \frac{3}{2}a \pm \sqrt{\frac{5}{4}a^2}$: y supuesta la construccion anterior, se pasará TR á E y E', puntos que satisfarán la pregunta. Estos problemas cuya equacion incluye la solucion de cuestiones distintas, se llaman concretos; y abstractos aquellos que tienen tantas soluciones como valores la incognita.

341 Concluyamos esta materia previniendo á los que se egerciten en ella, que no esperen acertar desde luego con el camino mas corto de resolver y construir un problema. Entre los diferentes datos de que se puede echar mano para este efecto, los hay que conducen á equaciones mas ó menos complicadas, de inferior ó de superior grado: y por eso se deben tentar otros medios siempre que el escogido aparezca embarazoso: en la inteligencia de que la mayor parte de las espeditas y elegantes construcciones y soluciones que leemos en las obras de los mayores geómetras, no se han conseguido ántes de haber probado otras mas complicadas y trabajosas; y de consiguiente que ademas de talento, se necesita haber adquirido con el egercicio cierto tino, para creerse adelantado en esta materia tan útil como difícil y delicada: especialmente quando se trata de construir equaciones de grados superiores.

Construccion de las equaciones indeterminadas de 1.º y 2.º grado ó de los Lugares geométricos.

342 Todos los puntos de una línea qualquiera que no se haya tirado casualmente, han de estar situados segun cierta ley ó propiedad particular que caracterize la línea; y

que reducida á equacion, espresará su naturaleza. Para encontrar esta equacion por la que se puedan despues determinar todos los puntos de la línea; basta referir qualquiera de ellos á dos rectas fijas colocadas en el mismo plano que ella, y exáminar despues la razon que tienen entre sí las distancias de la línea á las otras dos.

343 Para determinar por egeplo, la situacion de los puntos de la línea HR (fig. 152); tomaré dos rectas EL, BD que formen un ángulo qualquiera BCL, y tirando desde uno de sus puntos M la MP paralela á BD; espresarán las MP, CP las distancias de HR á BD y EL: como tambien las HS, CS; mq , Cq &c. espresarán las de los puntos H, m . Los dos puntos A y F en que BD y EL cortan la HR, determinan esta línea, y lo mismo las CA y CF, en cuya razon deberán estar todas las demas distancias CP, PM; CE, EH; Cq , qm &c. á causa de la semejanza de los triángulos CAF, AMP, Aqm &c.

344 Pero ántes de pasar adelante se ha de advertir que las partes CA, CP, Cq se llaman *abscisas*, y EL *eje de las abscisas*; las PM, qm , EH *ordenadas* ó *aplicadas*, y la BD *eje de las ordenadas*, cada abscisa con su ordenada *coordenadas*. Unas y otras son *negativas* quando caen á la izquierda de BD, si

suponemos *positivas* las de la derecha, y al contrario. Toda línea como las abscisas y ordenadas, que varia de tamaño en cada diferente punto, se llama *variable*; y *constante* la que tiene valor fijo como las CA, CF, el radio de un círculo &c. En lo sucesivo representaremos las ordenadas con las letras y , u , y las abscisas con x , z .

345 Esto supuesto, para determinar la situacion de los puntos de la HR; colocando el principio ú *origen* de las abscisas en A, y haciendo $CA = a$, $CF = b$, $AP = x$, $PM = y$; tendremos en los triángulos semejantes CAF, APM, $CA:CF::AP:PM$ ó $a:b::x:y$; $PM = \frac{bx}{a}$, que nos dará el punto M luego que se conozca CP ó x : lo mismo se hubiera sacado de los triángulos Aqm, AHS para determinar las mq , HS.

Pudieramos haber puesto el origen de las abscisas en qualquier otro punto C: en este caso $CP = x$, $AP = x - a$, y la proporcion $CA:CF::AP:PM$ se muda en $a:b::x - a:PM = y = \frac{bx - ab}{a}$. En el punto m se tiene $Cp = x$, $Ap = CA - Cp = a - x$; y en los triángulos semejantes $Ap'm'$, ACF, es $AC:CF::Ap:pm'$, ó $a:b::a - x:y = \frac{ab - bx}{a}$, espresion idéntica con la anterior, sino es en los signos; por ser negativa la pm' que cae bajo

de la EL: luego dicha equacion será la propia de la línea HR, pues que representa todos sus puntos.

346 En el punto en que comienzan las abscisas, es decir en su origen, es $x=0$, ó no hay abscisa: como tambien $y=0$ en el punto A en que no hay ordenada, por pasar por él la HR. Luego si suponiendo $y=0$ en una equacion, resultase $x=0$ ó al contrario; pasará la línea á que pertenece, por el origen: però si suponiendo $x=0$ resultase algun valor de y , determinará este en el ege de las ordenadas el punto por donde pasa la línea: y si haciendo $y=0$ tuviese x algun valor, se conocerá por él el punto en que la línea corta el ege de las abscisas. En la equacion $y=\frac{bx}{a}$, resulta $y=0$, $x=0$ en la suposicion de ser cero qualquiera de ellos: prueba de que HR pasa por el origen A: però si en $y=\frac{bx-ab}{a}$ se hace $y=0$; se tendrá $x=a=CA$, á cuya distancia del origen C, pasa HR; y haciendo $x=0$, resulta $y=-b=CF$, distancia á que pasa de C la HR.

347 Las equaciones de esta forma $y=\frac{cx}{b}+p$ pertenecen á líneas rectas que se llaman de 1.^o grado por resolver con su interseccion los problemas de 1.^o grado: líneas de

2.^o grado ó curvas de 1.^o son el círculo y las secciones conicas, *Parábola*, *Elipse* é *Hiperbola* cuyas equaciones son de 2.^o grado, y resuelven los problemas de este género, por medio de una recta que corte qualquiera de dichas curvas. Las equaciones de 3.^o 4.^o y demas grados altos resuelven problemas superiores por medio de curvas de orden superior al 2.^o: de las que se llaman *algebraicas* ó *geométricas* aquellas cuyas abscisas y ordenadas son líneas cuyo valor puede sacarse geometricamente, y *transcendentes* ó *mecánicas* aquellas cuyas abscisas y ordenadas son arcos de círculo, logaritmos, senos, tangentes &c. Las que en su descripcion guardan cierta ley, se llaman *lugares geométricos*, por quanto todos sus puntos suministran soluciones á los problemas geométricos indeterminados. La semiperiferia del círculo por exemplo, es el lugar geométrico de los vértices de todos los triángulos rectángulos que pueden tener su diametro por hipotenusa (69). Nosotros nos tenemos que ceñir en esta vasta é intrincada materia á lo dicho sobre las equaciones indeterminadas de 1.^o grado, y en quanto á las de 2.^o 3.^o &c. trataremos analíticamente de las principales propiedades del círculo, de las tres secciones conicas, y de algunas curvas particulares.

348 Supongamos pues, que todos los

puntos de la circunferencia $AMNB$ (fig. 153) se refieran á las dos líneas DR ege de las ordenadas, y AB ege de las abscisas, y que poniendo su origen en A , se trate de expresar en una equacion la relacion de las coordenadas AP , PM ; Ap , pN &c. tomando de A á B las abscisas positivas de A á E las negativas, de A á D las ordenadas positivas, y de A á R las negativas. Hagamos $PM=y$, el radio $AC=a$, $AP=x$; será $PB=AB-AP=2a-x$: y pues que dejamos demostrado (136) de qualquier punto M del círculo que $AP:PM::PM:PB$; tendremos poniendo sus valores, $x:y::y:2a-x$, y de consiguiente $y^2=2ax-x^2$, ó $y=\pm\sqrt{2ax-x^2}$, equacion que se busca, y que manifiesta que á cada abscisa $AP=x$ corresponden dos valores de y , PM y Pm : de suerte que la curva tendrá dos ramos $AMNB$, $AmmB$.

349 Si dada la equacion se nos pidiese describir por ella el círculo; supondriamos desde luego $x=0$, y por el resultado $y=0$ conoceremos que la circunferencia pasa por el origen A : haciendo despues $y=0$, resulta $x^2=2ax$ ó $x^2-2ax=0$, equacion en la que $x=0$, $x=2a=AB$, y que da los puntos A y B por donde pasa la curva. Para determinar los demas, se daran diferentes valores á x , y de cada uno resultarán dos de y , uno positivo y otro negativo. Si fuese por ejemplo, $AP=x=2$ en

la suposicion de valer $a, 5$; $y=\pm\sqrt{16}=\pm 4$ determinaria la longitud de PM y Pm , y de consiguiente los puntos M , m de la circunferencia, que no puede pasar de B ; pues si se supone x mayor que $2a$, saldrá la cantidad $2ax-x^2=(2a-x)x$ negativa, y la y imaginaria ó imposible (155 t. I.)

350 Las principales propiedades del círculo se sacan fácilmente de su equacion $y^2=2ax-x^2$. Comencemos por los triángulos rectángulos MPC , AQC : en el primero se tiene $(MC)^2=(MP)^2+(CP)^2$ ó $(CM)^2=2ax-x^2+a^2-2ax+x^2$, poniendo por $(MP)^2$, $2ax-x^2$; y por $(CP)^2$, $(a-x)^2$: reduzcase, y se tendrá $CM=a$, ó que todos los radios son iguales. En el otro triángulo AQC , donde $(AQ)^2=(QC)^2+(AC)^2=y^2+x^2$, se tiene poniendo $2ax-x^2$ en lugar de y^2 , $(AQ)^2=2ax$: luego $x:AQ::AQ:2a$, propiedad demostrada (138).

351 Cada una de las cuerdas ZB , QB vale $\sqrt{2a^2}$ en los triángulos rectángulos QCB , ZCB : de consiguiente 1^o $(QB)^2+(ZB)^2=4a^2=(QZ)^2$: es decir, que será recto el ángulo QBZ (69). 2^o En el quadrilátero $AQBZ$ el producto de las dos diagonales $QZ \times AB=4a^2$, es igual á $AQ \times BZ + AZ \times BQ=4a^2$.

352 Si el origen de las abscisas se hubiera colocado en el centro C , haciendo CP , x ;

se hubiera sacado del triángulo rectángulo CPM, $(PM)^2 = (CM)^2 - (EC)^2$, ó $y^2 = a^2 - x^2$, otra equacion al círculo que incluye la proporcion $a - x : y :: y : a + x$, ó $AP : PM :: PM : PB$ de donde se sacó la primera (348).

353 Tambien pudiera haberse puesto el origen de las abscisas en qualquier otro punto T: en cuyo caso tirados los egés TX de las abscisas y GS de las ordenadas, bajadas perpendicularmente desde el centro á una y otra las $CE = c$, y $CK = b$; serán $MU = GT = y$, y $MG = UT = x$ las coordenadas de un punto qualquiera M de la circunferencia; las coordenadas del punto N son $NO = YT = x$, y $NY = TO = y$ &c. La equacion que represente la relacion de estas líneas, se saca facilmente del triángulo rectángulo MPC, donde $(CM)^2 = (PM)^2 + (PC)^2$; pues siendo $MC = a$, $MP = MU + UP = y + b$, y $PC = EC - CP = c - x$; se tiene $a^2 = y^2 + 2by + b^2 + c^2 - 2cx + x^2$, y de consiguiente $y = -b \pm \sqrt{(a^2 - x^2 + 2cx - c^2)}$: nueva equacion al círculo del mismo grado que las anteriores.

354 Hayase de construir por último la curva cuya equacion es $y^2 = x^2 - a^2$: suponiendo $y = 0$, resulta $x = \pm a$: de consiguiente, tomando en el punto A de una recta indeterminada BD (fig. 154) el principio de las abscisas, y las partes AS, As iguales á a; deberá pasar la curva por S, s. La equacion $y =$

$= \pm \sqrt{(x^2 - a^2)} = \pm \sqrt{((x - a)(x + a))}$ manifiesta que tomando las abscisas positivas hacia D, corresponden á cada $AP = x$, dos valores iguales PM, Pm, uno positivo y otro negativo; es decir, que la curva tendrá dos ramos SM, Sm iguales é infinitos. Otros dos iguales y opuestos á los primeros se sacan de la equacion $y = \pm \sqrt{((-x + a)(-x - a))}$ que resulta de tomar las abscisas hacia B ó negativamente: pero en uno y en otro caso ha de ser x mayor que a para que el radical no sea imaginario, é imposible su valor; pues que entre S y s no hay curva.

De las Secciones Cónicas, Parábola, Elipse é Hiperbola.

355 Si una recta indeterminada AR (fig. 155) fija en el punto G, recorre las dos circunferencias Dm Am', RNQn; habrá formado dos superficies cónicas opuestas AGD, GRQ, que pueden ser menores ó mayores indefinidamente: y de cuyas diferentes secciones por un plano resultan las que se llaman *secciones cónicas*. La seccion de un plano que por el punto G cortase perpendicularmente qualquiera de dichos conos, seria un triángulo GDA: será un círculo EMFM', siempre que el plano corte el cono GDA paralelamente á la base, ó formando el mismo

ángulo con los lados GD, GA. Si el plano pasa por Bb (fig. 156) cortando los lados GA, GR con diferentes ángulos; resulta una sección BMmb, que se llama *Elipse*. Será una *Parabola* BMmm' (fig. 157) quando el plano secante es paralelo á uno de los lados GC del cono: y últimamente, si dejando de ser paralelo, cortase uno y otro cono (fig. 155); trazará las curvas BMmm', bNn que se llaman *Hipérbolas*.

356 En la parábola Bmm' (fig. 157) en la que la Bp se llama *eje*, el punto B *vértice* y origen de las abscisas, las PM, pm, ordenadas, y las BP, Bp abscisas; los cuadrados de las ordenadas estan en la misma razon que sus abscisas, ó $(PM)^2 : (pm)^2 :: BP : Bp$. Porque si corta al cono el plano circular FME paralelamente á la base, y á estos dos planos paralelos los corta el triángular GDC; serán paralelas las comunes secciones FE, DC (179), y por lo mismo serán tambien paralelas las MP, mp secciones comunes de dichos planos paralelos, cortados por BMm': luego siendo por la naturaleza del círculo (136) $(MP)^2 = EP \times PF$, $(mp)^2 = Dp \times Cp = Dp \times PE$, por ser $PE = Cp$ (98); tendremos $(MP)^2 : (mp)^2 :: FP \times PE : Dp \times PE :: FP : Dp$: y pues que $FP : Dp :: BP : Bp$ en los triángulos semejantes BPF, BpD; será finalmente, $(MP)^2 : (mp)^2 :: BP : Bp$.

357 En la elipse (fig. 156) supuesto que los planos AGR, BMb cortan los paralelos EMF, CmD; se tiene en los triángulos semejantes PPF, BpD; bEP, bCp; $BP : Bp :: PF : pD$; $bP : bp :: EP : Cp$: luego será multiplicando estas proporciones, $BP \times bP : Bb \times bp :: PF \times EP : pD \times Cp$: y pues que en los círculos EMF, CmD, $(PM)^2 = PF \times EP$, $(pm)^2 = Dp \times Cp$; se tendrá $BP \times bP : Bb \times bp :: (PM)^2 : (pm)^2$: es decir, los cuadrados de las ordenadas PM, pm, son en la elipse como el producto de las partes BP, bP; Bp, bp que cortan en el eje Bb, que llamaremos abscisas.

358 Lo mismo se saca en la hipérbola (fig. 155.) de los triángulos BEP, BDp; bPF, bpA, donde $BP : Bp :: EP : Dp$, $bP : bp :: PF : pA$: y de consiguiente, $BP \times bP : Bb \times bp :: EP \times PF : Dp \times pA$, ó $BP \times bP : Bb \times bp :: (PM)^2 : (pm)^2$, poniendo por $EP \times PF, Dp \times pA$ sus iguales $(PM)^2$, $(pm)^2$: solo hay la diferencia de que en la hipérbola las abscisas BP, bP; Bp, bp se toman para cada ordenada de distinto lado que en la elipse.

Para que conozcamos mejor las utilísimas propiedades de estas tres curvas de que se hace un uso continuo y general en todos los ramos de fisica y matemáticas, hablaremos de cada una en particular; considerándolas descritas en un plano.

Parábola.

359 Es la parábola una curva cuyos puntos M, N, n, m (fig. 158) distan todos igualmente de una línea fija BD que se llama *directriz*, y de un punto F que se llama *focus*, distante siempre del vértice S de la cuarta parte de una línea p conocida con el nombre de *parámetro*: de manera que si en el punto O de una escuadra OGB , y en cualquier otro F se fijan los extremos de un hilo OMF igual en longitud à OG , y se mueve la escuadra hacia E llevando tirante el hilo con un lápiz M ; la línea MNS que describa el lápiz, y la otra mitad Smn que trace del mismo modo del otro lado de la EH , será una parábola: pues en qualquiera de sus puntos M se verifica que siendo $OG=OMF$, es $MF=MG$, quitando MO comun: y por lo mismo $SF=SE=\frac{1}{4}p$.

360 La recta MF tirada desde qualquier punto M de la parábola al focus, se llama *radio vector*; y si se tira desde M la ordenada $MP=y$, siendo $SP=x$, será siempre $MF=MG=EP=PS+SE=x+\frac{1}{4}p$. Luego si habiendo escogido en la línea SH que haya de ser ege de la parábola, el punto S para vértice, y tomado $SF=SE=\frac{1}{4}p$ para señalar el focus F ; si despues de haber tirado perpendi-

culares indefinidas à todos los puntos P del ege, se trazan desde F con el intervalo de cada PE dos arcos à un lado y otro de la SH ; se determinarán de cada vez dos puntos M, m de la curva, que se describirá facilmente, determinando así los demas: pues en tal caso cada FM será igual à la distancia EP ó GM .

361 En el triángulo rectángulo FMP , en el que $(PM)^2=(FM)^2-(FP)^2$, será poniendo en lugar de PM, FM, FP , sus valores $y, x+\frac{1}{4}p, x-\frac{1}{4}p$; $yy=xx+\frac{1}{4}px+\frac{1}{16}pp-xx+\frac{1}{4}px-\frac{1}{16}pp$, que se reduce à $yy=px$, ó $y=\sqrt{px}$, equacion à la parábola: que comparada con $TY=px$ de otra qualquier ordenada T , cuya abscisa sea X , da $yy:TY::px:pX::x:X$, segun lo demostramos ya (356).

362 Si hacemos en ella $x=0$ ó $y=0$, veremos que pasa la curva por el origen S , sin que se estienda mas alla; pues resulta imaginária la $y=\pm\sqrt{-px}$, tomando à x negativa. Y como à cada x corresponden dos valores iguales de y , que crecen à proporcion que es mayor x ; tendrá la parábola dos ramos iguales é infinitos; cuyos puntos podran determinarse dando à x diferentes valores, y sacando en cada uno los que corresponden à y .

363 De $yy=px$ se saca $x:y:y:p$, esto es, que cada ordenada es media proporcional entre su abscisa y el parámetro, y este tercera proporcional à qualquier abscisa y su ordenada:

de suerte que la doble ordenada Nn (fig. 158) que pasa por el focus, es igual al parámetro; pues siendo la abscisa $SF = \frac{1}{4}p$, será $(NF)^2 = yy = px = \frac{1}{4}pp$, y $NF = \sqrt{\frac{1}{4}pp} = \frac{1}{2}p$; luego $Nn = p$. Si á una cuerda qualquiera SL (fig. 159) se levanta la perpendicular LQ , será tambien RQ el parámetro de la parábola: pues en el triángulo rectángulo $SLQ, SR:RL::RL:RQ$, ó $x:y::y:RQ=p$.

364 Para tirar una tangente á un punto M de la parábola (fig. 158); tiradas las MG, MF y GF ; la MT perpendicular á GF será la tangente; pues de qualquier otro punto suyo Z que no sea M , se probará que está fuera de la curva. Para esto tirense ZF al focus, ZB perpendicular á la directriz y ZG ; se verá que siendo ZB menor que ZG (30) ó que su igual ZF , Z no está en la parábola (359). Si á la tangente MT se levanta en el punto M la perpendicular ó *normal* MR , la parte TP de ege comprendida entre la tangente y la ordenada MP , se llama *subtangente*, y la PR comprendida entre la ordenada MP y la normal, se llama *subnormal*.

365 Siendo iguales los ángulos GMT, TMF (82), y $GMT = ZMO$; será $ZMO = TMF$: ZMO se llama ángulo de la incidencia, y TMF de la reflexión. Tambien por razon de las paralelas GM, TF , y por ser $GC = CF$, serán iguales y semejantes los

triángulos GCM, TCF (90 y 131): y de consiguiente $MG = TF = FM$, y en el triángulo isósceles MFT la FC perpendicular á la tangente la dividirá por medio.

366 Pues que $FM = FT = x + \frac{1}{4}p$, será $TP = TF \cdot FP = x + \frac{1}{4}p + x - \frac{1}{4}p = 2x$, ó la *subtangente* PT dupla de su abscisa SP ; y de consiguiente $SP = ST$. Luego 1º el paralelogramo $MKSP$ (fig. 159) es igual al triángulo MPI que tiene doble altura que él (97). 2º Para tirar una tangente al punto M de la parábola (fig. 158) se bajará la perpendicular MP , y haciendo $ST = SP$, se tirará por T y M la TM .

367 3º Las perpendiculares FC bajadas desde el focus á la tangente, son como las raíces cuadradas de los radios vectores: pues dividiendo FC por medio la MF , lo mismo que la tangente SC , por ser $TC:CM::TS:SP$, y $TS = SP$; coincidirá la CS con FC en C : y en el triángulo rectángulo CTF , será $TF:FC::FC:FS$, $(FC)^2 = TF \times FS = FM \times \frac{1}{4}p$: en otro punto M' se tendria tambien $(FC')^2 = FM' \times \frac{1}{4}p$: luego $(FC)^2:(FC')^2::FM \times \frac{1}{4}p:FM' \times \frac{1}{4}p$, y $FC:FC'::\sqrt{FM}:\sqrt{FM'}$.

368 4º En el triángulo rectángulo RMT se tiene (136) $PT:PM::PM:PR = \frac{(PM)^2}{PT} =$

$\frac{px}{2x} = \frac{1}{2}p$; es decir, que la subnormal es la

mitad del parámetro. La normal $MR = \dots$
 $\sqrt{((MP)^2 + (PR)^2)} = \sqrt{(px + \frac{1}{2}pp)} = \sqrt{MF \times p}$
 en el triángulo rectángulo MPR ; y del TMP
 también rectángulo, se saca la tangente $TM =$
 $\sqrt{((PM)^2 + (PT)^2)} = \sqrt{(px + 4x^2)} = \sqrt{4MF \times x}$.

369. Qualquiera recta MO paralela al ege ΔH se llama *diámetro*, cuyas ordenadas son $m'p'$ paralelas á TM , tangente en el punto M del diámetro: su parámetro (q) es también cuádruplo de la distancia FM de su vértice al focus; de manera que $q = 4MF = p + 4x$, y de consiguiente tercera proporcional á la abscisa y tangente que corresponden al punto M ; pues es $\neq x : tang = \sqrt{(px + 4x^2)} : p + 4x = q$, ó $\neq x : MT : q$.

370. Sea la abscisa Mu , z (fig. 159) y u la ordenada lu ; tendríamos en los triángulos lpn , MPT , $MT : lp :: MP : ln :: TP : pn$,

$$\text{ó } \sqrt{qx} : u + \sqrt{qx} :: \sqrt{px} : ln = \frac{u \times \sqrt{px}}{\sqrt{qx}} + \sqrt{px} :$$

$$2x : pn = \frac{2ux}{\sqrt{qx}} + 2x : \text{y como } Sp = Tp - TS$$

$$= Mu - TS = z - x; \text{ será } Sn = Sp + pn = z + x + \frac{2ux}{\sqrt{qx}}. \text{ Por la propiedad de la parábola (361),}$$

$$(ln)^2 = p \times Sn \text{ ó } (\sqrt{px} + \frac{u\sqrt{px}}{\sqrt{qx}})^2 = pz + px +$$

$$\frac{2xpu}{\sqrt{qx}} : \text{en donde sacando el cuadrado y re-$$

duciendo resulta $u^2 = qx$, equacion á la parábola respecto de sus diámetros, en todo semejante á la del ege, y de la que se sacará como en ella, que los cuadrados de las ordenadas son como las abscisas; que á cada abscisa corresponden dos ordenadas iguales &c.

371. Si se pidiese trazar una parábola, cuyas ordenadas formen un ángulo conocido con un diámetro dado MO (fig. 158), cuyo parámetro se dé también; se tirará por el vértice M del diámetro la recta ZMT que forme con él un ángulo OMZ igual al dado: se hará después el ángulo $TMF = ZMO$, y tomando $MF = \frac{1}{4}q$; se tendrá el focus F por donde se tirará la HT paralela á MO que será el ege: bájesele la perpendicular MP , y dividiendo PT por medio, se tendrá el vértice S con el que y el focus se trazará la parábola (360).

372. Si se tiran (fig. 159) la ordenada mp infinitamente próxima á PM , y las MK, rt paralelas á TP ; se tendrá en los triángulos TMP , roM , $TP : PM :: ro : Pp : rM$, ó poniendo por TP su igual $2sp$, ó $2KM$; $2KM : PM :: Pp : rM$: y de consiguiente $PM \times Pp = 2KM \times rM$, ó el paralelogramo $PpMn$ duplo del

$rMKt$: y como se puede probar otro tanto de qualquiera de los paralelogramos de que se compone la superficie de la parábola; será qualquier espacio parabólico SPM duplo del espacio exterior $SoMK$, ó los dos tercios del rectángulo SPMK: los triángulos omM , roM se desprecian en el cálculo por infinitamente pequeños (442) Solo en el caso que las abscisas tengan como en la parábola, una relacion constante con la subtangente, podrán cuadrarse exáctamente las curvas.

Elipse.

373 La propiedad que caracteriza esta curva es que la suma de las distancias $FM + fM$ (fig. 160) de qualquiera de sus puntos M á los dos F, f , que se llaman sus *focus*, es igual á la línea Ss su *ege mayor*: de manera que si clavados en F, f los extremos de un hilo FMf , mas largo que Ff , se le lleva estirado con un lapiz al rededor de dichos puntos; resultará descrita una elipse. En ella llamaremos *ege menor* la Bb perpendicular al punto C mitad de Ss y *centro* de la elipse: á las CF, Cf *escentricidad*: las MP, mP ordenadas y SP, sP *abscisas* del ege mayor Ss ; Mp, Bp, bp ordenadas y *abscisas* del ege menor Bb , y las FM, fM *radios vectores*. Ultimamente, la TX es *tangente* (fig. 161), la MR *normal*,

PR *subnormal*, y PT *subtangente*, correspondientes al punto M de la elipse.

374 La estension del hilo en el punto S (fig. 160) es $2SF + Ff$, y en s , $2sf + fF$: luego $2SF + Ff = 2sf + fF$; y de consiguiente $SF = sf$, $CF = Cf$. De lo que se infiere 1.º que el punto b de la perpendicular Cb debe estar á igual distancia de F y f (29) como lo está C , ó $Fb = fb = SC$ mitad de Ss ; y el *ege menor* se dividirá por medio en C á causa de los triángulos rectangulos iguales fCB, fCb . 2.º Un arco descrito desde b con el radio CS , cortará la Ss en los puntos F, f que serán los *focus*: de suerte que será facil trazar la elipse dados los dos eges; pues determinados sus *focus*, se practicará despues lo que digimos (373).

375 Llamemos ya $Ss, 2a; Bb, 2b; CF = Cf, c; PM, y; CP, x$: será $PS = SC - CP, a - x$; $Pf = C + CP, a + x$; $PF = CF - CP, c - x$; $Pf = fC + CP, c + x$; $SF = SC - CF, a - c$; y $Fs = a + c$: y en el triángulo rectángulo FbC tendremos $(Fb)^2 = (FC)^2 + (Cb)^2$ ó $aa = cc + bb$; de donde se saca $cc = aa - bb$, y $bb = aa - cc$: luego $a + c : b :: b : a - c$, ó $\neq Fs : Cb : FS$; esto es, el *semiege menor* Cb medio proporcional entre las distancias Fs, FS de los vértices á uno de los *focus*.

376 Esto supuesto, en el triángulo FMf es (283) $fM + Mf (2a) : Ff (2c) :: fP - PF (2x)$:

$fM - FM = \frac{4cx}{2a} = \frac{2cx}{a}$. Con esta diferencia, y la suma $2a$ de FM y fM , sacaremos (238t.I.)

$FM = a - \frac{cx}{a}$: y en triángulo rectángulo

PMF será $(PM)^2 = (FM)^2 - (PF)^2$, ó $yy =$

$aa - 2cx + \frac{ccxx}{aa} - cc + 2cx - xx$, que se redu-

ce poniendo $aa - bb$ en lugar de cc (375), á

$yy = bb - \frac{bbxx}{aa} = \frac{bb}{aa} (aa - xx)$: equacion á

la elipse; en la que por ser $y = \pm \frac{b}{a} \sqrt{(aa - xx)}$

corresponderán á cada abscisa CP dos orde-

nadas iguales una positiva y otra negativa,

que se determinarán conociendo á x , y podrá

trazarse por este medio la elipse: á la que

siempre divide por medio el ege mayor.

377 Si el origen de las abscisas se coloca

en S haciendo $SP = x$, $SF = f = c$; $SP \times Ps$ que

antes era $(a - x)(a + x)$; será $x(2a - x)$: pon-

gase este producto en la equacion anterior en

lugar de $aa - xx$, y quedará reducida á

$yy = \frac{bb}{aa} \times (2ax - xx)$, equacion en la que

suponiendo $y = 0$, resulta $xx - 2ax = 0$ don-

de $x = 0$ y $x = 2a$, es decir, que la curva

pasa por S en que $x = 0$, y por s en que

$x = Ss = 2a$.

378 Tambien se verificará de otra qual-

quier ordenada $M'P'$ (T), cuya abscisa SP'

sea X , $YY = \frac{bb}{aa} \times (aa - XX)$: de consiguient-

te, será $yy:YY:: \frac{bb}{aa} (aa - xx): \frac{bb}{aa} \times (aa - \dots$

$XX):: aa - xx: aa - XX$, ó $(PM)^2:(M'P')^2::$

$SP \times Ps:SP' \times P's$ como lo digimos (357). Tam-

bien de $yy = \frac{bb}{aa} \times (aa - xx)$ se saca $yy:aa -$

$xx:: bb:aa$; y si en lugar de bb ponemos su

igual $aa - cc$, resultará $yy:aa - xx:: aa - cc:$

aa ó $(PM)^2:SP \times Ps:: SF \times Fs:(SC)^2$.

379 Siendo $Mp = PC = x$, $Cp = PM = y$,

y de consiguiente $bp = y + b$, y $Bp = b - y$;

será la equacion al ege menor de la elipse

despejando xx en $y^2 = bb - \frac{bbxx}{aa}$ (376), $xx =$

$aa - \frac{aayy}{bb} = \frac{aa}{bb} \times (bb - yy)$, la misma respec-

tivamente que la del ege mayor, y de la que

se deducen las mismas consecuencias que de

aquella.

380 Trazado un círculo sobre el ege ma-

yor Ss (fig. 161) si en la proporcion $(PM)^2:$

$SP \times Ps:: (BC)^2:(SC)^2$ (378), ponemos en lu-

gar de $SP \times Ps$ su igual $(PH)^2$ (136); tendre-

mos $(PM)^2:(PH)^2:: (BC)^2:(SC)^2$, y $PM:PH::$

$BC:SC$, ó las ordenadas del ege mayor á las

ordenadas de su círculo, como el ege menor

al mayor: luego todas las ordenadas de la

elipse, esto es, su superficie es á la de dicho

círculo, como el ege menor es al mayor. Del mis-

mo modo se prueba que la superficie de la elipse es á la del círculo trazado sobre el ege menor, como el ege mayor es al menor. Suponiendo 1:c la razón del diámetro á la circunferencia, será aac la superficie del círculo $SAsa$, y abc la de la elipse, haciendo $a:b::aac:abc$, la qual es igual á la de un círculo cuyo diámetro es $\sqrt{4ab}$, esto es, medio proporcional entre sus eges. Esto prueba que el círculo es una elipse de eges iguales con los focus en el centro, y el diámetro por parametro. Con efecto, qualquiera de las suposiciones $2b = 2a$, $SF = \frac{1}{2}a$ ó $p = 2a$ convierte las equaciones halladas en las del círculo $y^2 = 2ax - xx$, $y^2 = aa - xx$ (348).

381 Llamaremos parámetro p del 1.^{er} ege una tercera proporcional á él y al 2.^o ege; de suerte que sea $2a:2b::2b:p = \frac{4b^2}{2a}$: este siempre es igual á la nm' doble ordenada al focus (fig. 160); pues como la abscisa $CF=c$, si en $yy = bb - \frac{bbxx}{aa}$, ponemos c en lugar de x , y despues $aa - bb$ en lugar de cc , tendremos $(nF)^2 = \frac{b^4}{aa}$, $nF = \frac{bb}{a}$ y $nm' = \frac{2bb}{a} = \frac{4bb}{2a} = p$. Atendiendo á la analogía de las equaciones del ege mayor y menor, será el parámetro de este $q = \frac{4aa}{2b}$: de suerte que sea $2b:2a::2a:q$.

382 De $p = \frac{2bb}{a}$ se saca $bb = \frac{ap}{2}$: pongase este valor en lugar de bb en las equaciones al 1.^{er} ege, y las reducirá á estas $yy = \frac{p}{2a}(2ax - xx)$, $yy = \frac{p}{2a}(aa - xx)$ que son las del parámetro del 1.^{er} ege. Del mismo modo se reduce la del 2.^o ege $xx = \frac{aa}{bb}(bb - yy)$ á $xx = \frac{q}{2b}(bb - yy)$. De las de ambos eges se saca $yy:aa - xx:p:2a$, $xx:bb - yy:q:2b$, ó el cuadrado de la ordenada al producto de sus abscisas, como el parámetro á su ege.

383 Para tirar una tangente á la elipse en un punto M ; se alarga la fM hasta que sea $MH = MF$, ó $fH = Ss$, se tira la HF ; y la perpendicular TX que la divide por medio, es la tangente al punto M , el único en que toca la curva: pues si qualquier otro O perteneciese á ella, las OF y Of serian iguales (373) á $FM + fM$ ó á fH , lo que es falso; por ser $OF + Of$ ó $OH + Of$ mayores que fH . El ángulo XMf es igual á TMF , por ser $TMF = HMK$, y este á su vertical XMf .

384 Tirada la normal MR (fig. 161), si de los ángulos rectos XMR , RMT se quitan los iguales XMf , TMF (383), resultan iguales los ángulos RMf , RME , y será (122) $fM:MF::fR:RF$, ó (177t.I.) $fM + MF (2a):$

MF $\left(a - \frac{ccx}{a}\right)$ (376)::fR—RF(2c): RF= c—
 $\frac{ccx}{aa} = c-x + \frac{bbx}{aa}$, poniendo $aa - bb$ en lugar
 de cc : luego la subnormal PR=FR—FP=
 $c-x + \frac{bbx}{aa} + x-c = \frac{bbx}{aa} = \frac{px}{2a}$ (382). Si con-
 tando las abscisas desde el vértice se supone
 SP=u, será $x=a-u$, y poniendo este valor
 en lugar de x ; será PR= $\frac{bb}{a} - \frac{bbu}{aa} = \frac{1}{2}p -$
 $\frac{pu}{2a}$.

385 En el triángulo rectángulo RMT se

tiene (136) la subtangente $PT = \frac{(PM)^2}{PR} =$
 $\frac{bb}{aa} \frac{(aa-xx)}{aa} = \frac{aa-xx}{x} = \frac{2au-uu}{a-u}$, poniendo

por x , $a-u$. De consiguiente CT=CP—
 PT= $x + \frac{aa-xx}{x} = \frac{aa}{x}$, sT=CT—Cs=
 $\frac{aa}{x} - a = \frac{aa-ax}{x}$. De CT= $\frac{aa}{x}$ se saca $x:aa:$
 $a:CT$, ó $CP:Cs:CT$, por donde se podrá
 determinar el punto T de la tangente TM.

Ultimamente, la espresion de la normal se
 saca del triángulo rectángulo MRP en el que
 MR= $\sqrt{\left(yy + \frac{b^4xx}{a^4}\right)} = \sqrt{\left(bb - \frac{bbxx}{a^4}\right)(aa-$

$bb)$ = $b\sqrt{\left(1 - \frac{ccxx}{a^4}\right)}$; y la de la tangente
 TM del triángulo MPT tambien rectángulo.
 386 Diámetro de la elipse es una recta
 MN (fig. 160) que pasa por el centro, y se
 termina por ambos cabos en la curva: y diá-
 metro conjugado al MN la RZ paralela à TM
 tangente al punto M de MN: las LQ para-
 lelas á la tangente TM, son sus ordenadas y
 NQ, QM abscisas: y parámetro de qualquier
 diámetro una tercera proporcional á dicho
 diámetro y à su conjugado.

387 El triángulo tmP (fig. 162) forma-
 do por la tangente, subtangente y ordenada de
 una elipse, es igual al trapezio Pmks que for-
 man la ordenada, la tangente al vértice y una
 recta que pasa por el centro y el punto K. Por-
 que en los triángulos semejantes CPm, Csk,
 es Pm:sk::CP:Cs::Cs:Ct (385): luego Cs:
 Ct::Pm:sk, y Cs×sk=Pm×Ct, $\frac{1}{2}(Cs×sk) =$
 $\frac{1}{2}(Pm×Ct)$ superficies iguales de los triángu-
 los Cmt, Csk: quitese de ámbos la parte co-
 mún PmC, y resultará tmP=Pmks.

388 De aquí se infiere, que el triángulo
 qlr que forman lq ordenada al ege, ol orde-
 nada al diámetro Mm terminada en el ege, y
 su parte qr comprendida, es siempre igual al
 trapezio hqsk correspondiente; pues sacando-
 se de los triángulos semejantes Pmt, qlr, Pmt:
 qlr::(Pm)²:(ql)² (200)::(Cs)²—(CP)²:(Cs)²—

(Cq)² (378):: Pmks: qhks diferencia de los triángulos semejantes Cks, CPm; Cks, Cqh que están en la misma razón que las diferencias de los cuadrados de sus lados homólogos Cs, CP, Cq; será Pmt:qlr::Pmks:qhks; y como Pmt=Pmks (387), tendremos también qlr=skhq=qhmt quitando Pmks y añadiendo su igual Pmt. De consiguiente el triángulo loh será igual al trapecio correspondiente mort; pues si de qlr=qhmt se quita qhor común, queda loh=mort. También será Cnd=Cmt; pues cuando lr se concibe bajar paralelamente á ser CN, la lh que se ha determinado en el diámetro mM alargado si es menester, vendrá á ser ND: y siendo Cnd=Cnd por la simetría de la elipse cuyos puntos M, m, N, n deben estar semejantemente situados; será Cnd=Cmt.

389 Esto supuesto, en los triángulos semejantes Cmt, Cor se tiene (200) (Cm)²: (Co)²::Cmt:Cor, y (177.t.I.) (Cm)²—(Co)²: (Cm)²::Cmt—Cor=mort:Cmt::loh:Cdn(388)::(lo)²: (Cn)² en los triángulos Cdn, loh semejantes por la igualdad de los ángulos alternos h, d que forman las paralelas lq, nd; y de l igual á su alterno lQC=dnC: luego (Cm)²—(Co)²: (Cm)²::(lo)²: (Cn)²: es decir, llamando á Mm, 2a; Nn, 2b; lo, y; Co, x; aa—xx:aa::yy:bb; y de consiguiente, $yy=bb-\frac{hbxx}{aa}$, equacion á las ordenadas de

los diámetros del todo semejantes á la de los eges; y de la que como de estas, se saca también que á cada abscisa corresponden dos ordenadas iguales: que los diámetros dividen sus ordenadas y la elipse por medio: que CM=Cm, CN=Cn &c.

390 Si se bajan al ege Ss las ordenadas mP, nz, de los extremos m, n de los diámetros conjugados Mm, Nn, el cuadrado de Cz comprendido entre el centro y una de ellas nz, es igual al producto de las abscisas PS×Ps de la otra mP, ó (Cz)²=PS×Ps. Haciendo mP=y, y sP=x, Sz=z, Ss=2a, Bb=2b; en los triángulos semejantes tPm, Cnz se tiene (Cz)²: (Pt)²::(mP)²:(nz)²::PS×Ps:zS×zs (378), esto es, PS×Ps (aa—xx):zS×zs(aa—zz)::(PT)² $\frac{aa-xx}{xx}$ (384):(nz)²(zz)= $\frac{(aa-zz)(aa-xx)^2}{xx(aa-xx)}$: de donde se saca zz=aa—xx, ó (Cz)²=PS×Ps.

391 Del mismo modo se hubiera sacado (CP)²=zS×zs, y de consiguiente si en lugar de aa:bb::zS×zs:(nz)² (378), ponemos aa:bb::(CP)²(xx):(nz)²= $\frac{hbxx}{aa}$; tendríamos (Cn)²=(Cz)²+—(nz)²=aa—xx+— $\frac{hbxx}{aa}$; y como también (Cm)²=(CP)²+—(Pm)²=xx+bb— $\frac{hbxx}{aa}$, sacaremos sumando y reduciendo, (Cm)²+ (Cn)²=aa+bb, ó la suma de

los cuadrados de los diámetros igual á la de los eges.

392 Siendo $nz = u$; $Sz = z$; será $uu = \frac{bb}{aa}(aa - zz)$ (376), y $\frac{aaau}{bb} = aa - zz$: y

como $aa - zz = (CP)^2 = xx$ (390); será $\frac{aaau}{bb} = xx$, y $aaau = bbxx$ ó $au = bx$. Tire-

se ahora la CH perpendicular á Tl, y en los triángulos semejantes Czn, C: H donde Cz: zn(u):: Ct($\frac{aa}{x}$) (385): CH, será Cz x CH =

$\frac{u \times aa}{x}$, ó poniendo bx en lugar de au, Cz x CH = ab; es decir, que es igual el paralelogramo formado de los semieges á el de los semidiámetros, y de consiguiente el de los eges á el de los diámetros.

393 Quando z cae en P, es $y = u$, $z = x$, y $zz = aa - xx$ viene á ser $xx = aa - xx$, ó $xx = \frac{1}{2}aa = a \times \frac{1}{2}a$: que da $a::x::\frac{1}{2}a$: luego si se toma CP media proporcional entre a y $\frac{1}{2}a$, y se tira por P una doble ordenada, determinará esta dos puntos por los cuales y el centro se pueden tirar dos diámetros iguales: pues sus mitades serán hipotenusas de los triángulos iguales CPm, CPn: y como á cada lado solo en un punto se verifica la anterior proporción, y uno y otro dan unos mismos

diámetros; no habrá en la elipse mas que dos diámetros iguales.

394 Si dado uno de los eges y su parámetro, se pidiese trazar la elipse; se buscará una media proporcional entre los dos datos que será el otro ege (381), y se hará lo que dejamos dicho (373). Pero si se diesen dos diámetros conjugados Ss, Bb (fig. 163) que formen qualquier ángulo; se tomaran sobre la mitad CB de uno de ellos las partes iguales CE, EE' &c. y tiradas las perpendiculares CD, ED' &c. que encuentren la circunferencia de un círculo descrito desde C con el radio CB; se tirará SB, y por E su paralela EP: tomense hácia s y S partes iguales á CP, y tirando despues por los puntos P, las PM iguales cada una á su correspondiente ED', quedarán determinados los puntos M por donde se ha de trazar la elipse, determinando los demas m, haciendo Pm = PM. Efectivamente, en los triángulos semejantes CSB, CPE se tiene $CS(a)::CB(b)::(CP)(x)::CE = \frac{bx}{a}$; y en el triángulo rectángulo CED' es $(ED')^2 = (PM)^2 = (CD')^2 - (CE)^2$, esto es, $yy = bb - \frac{bbxx}{aa}$, equacion á la elipse, á la que pertenecerán los puntos M, m.

Híperbola.

395 Es propiedad constante de esta curva que la diferencia entre las rectas FM, fM'

(fig. 164) tiradas desde qualquiera de sus puntos M' á los dos f , F que son los *focus*, es siempre igual á su *primer ege* Ss : de consiguiente si habiendo fijado en f una regla $fM'O$ mobil al rededor de dicho punto, y en su extremo O el de un hilo atado por el otro cabo en F , se voltea la regla al rededor de f , llevando la parte $M'O$ del hilo unida á ella y tirante todo el hilo con un lapiz M' ; señalará este la porcion SH de una hipérbola; pues la diferencia entre todas las fM' , FM' será siempre igual á la que hay entre el hilo y la regla, y se ve que en el punto S esta diferencia es Ss . La otra mitad SG de la curva se describe volviendo la regla hácia aquel lado: y para trazar la hipérbola gsh opuesta, se truecan las posiciones fijando la regla en F . El hilo ha de ser siempre desigual con la regla; pues si no, saldrian todos los puntos M' igualmente distantes de F y f ; por ser $OM'f = OM'F$, y $Mf = M'F$ quitando CM' comun, y trazaria el lapiz una línea recta.

396 Segundo ege de la hipérbola es una línea Bb perpendicular al primero Ss , cuya mitad CB es lado de un triángulo rectángulo, cuya hipotenusa SB es igual á CF , y el otro lado CS es la mitad de Ss : las perpendiculares PM , MQ al 1.^o y 2.^o eges son sus ordenadas, CQ , y SP , sP son las abscisas. las fM, FM son los *radios vectores*. TM (fig.

165) es una *tangente*, PT la *subtangente*, MR y PR la *normal* y *subnormal* correspondientes al punto M . Ultimamente, la recta MCM' (fig. 170) que pasando por el centro C corta las hipérbolas opuestas, se llama *diámetro*, y su *conjugado* será la DCd paralela á la *tangente* Tt al punto M del 1.^o diámetro, cuyas coordenadas son mQ y CQ .

397 Esto supuesto, si se hace $Ss = 2a$, (fig. 164) $Bb = 2b$, $CF = Cf = c$; $CP = x$, y $PM = y$; será $SP = CP - CS = x - a$, $sP = sC + CP = x + a$, y $SP \times sP = (x - a)(x + a) = xx - aa$. Tambien será $PF = CP - CF = x - c$, $Pf = PC + Cf = x + c$, y $PF \times Pf = xx - cc$: y en el triángulo rectángulo CSB tendremos $(BS)^2$ ó (396) $(CF)^2 = (BC)^2 + (CS)^2$ ó $cc = aa + bb$, y $bb = cc - aa = (c + a)(c - a)$: de donde se saca $c - a : b :: b : c + a$ ó $b^2 = SF : CB :: F$; esto es, *el semieje menor medio proporcional entre las distancias de uno de los focus á los vértices*.

398 Tomese ahora $PR = FP$ y tirada la MR , se tendrá en el triángulo fMR (283) $fM - MR(2a) : fP - PR(2c) :: fR(2x) : fM + FM = \frac{2cx}{a}$. De esta suma y de la diferencia

$fM - FM = 2a$, se sacará (238I.t.) $fM = \frac{cx}{a} + a$, y $FM = \frac{cx}{a} - a$, y en el triángulo rectángulo PMF , en el que $(PM)^2 = (FM)^2 - (PF)^2$, será $yy = \frac{ccxx}{aa} - 2cx + aa -$

$xx - 2cx - cc$, poniendo $aa - bb$ en lugar de cc (397): y reduciendo, $yy = \frac{bbxx}{aa} - bb =$

$\frac{bb}{aa}(xx - aa)$, equacion à la hipérbola, dife-

rente de la de la elipse en solos los signos (376).

Si poniendo en S el origen de las abscisas, haremos $SP = x$, $SF = f = c$; será $SP \times P_s = x(2a - x) = 2ax - xx$: pongase este producto en lugar de $xx - aa$ en la equacion anterior,

y se convertirá en $yy = \frac{bb}{aa}(2ax - xx)$.

399 De $yy = \frac{bb}{aa}(xx - aa)$ se saca $y = \frac{bb}{a}x$

$\sqrt{(xx - aa)}$; de consiguiente, à cada abscisa CP corresponderán dos ordenadas iguales PM positiva y Pm negativa, que van siendo mayores à proporcion que es mayor x; de suerte que tendrá la curva dos ramos iguales é infinitos. Si se supone en dicha equacion $y = 0$, resulta $x = \pm a = CS = C_s$, es decir, que la curva pasa por S y s: de suerte que tomando à x menor que a, saldrá imaginária la cantidad $\pm \frac{b}{a} \sqrt{(xx - aa)}$, ò no habrá curva entre S y s:

pero si tomamos à x negativa y mayor que a, resultarán dos valores positivos de y à cada valor de x, y comenzará en s otra curva opuesta é igual à la primera; pues

tomando $CP = CP'$, será $PS \times P'_s = P'_s \times P'_s$, y de consiguiente $PM = P'm$. Ultimamente, dando diferentes valores à x podremos determinar por medio de los que resulten de y, diferentes puntos M de la hipérbola que será facil trazar por ellos.

400 Comparando las equaciones de dos diferentes ordenadas T, y del 1.º ege, cuyas abscisas sean X, x, tendremos TT:yy::

$$\frac{bb}{aa}(xx - aa) : \frac{bb}{aa}(XX - aa) :: xx - aa : XX - aa,$$

y los cuadrados de las ordenadas serán como el producto de sus abscisas segun lo demostramos (358). De $yy = \frac{bb}{aa}(xx - aa)$ se saca yy:

$xx - aa :: bb : aa$, y poniendo $cc = aa$ en lugar de bb (397); $yy : xx - aa :: cc - aa : aa$, ò que el cuadrado de una ordenada es al producto de sus abscisas, como el producto de las distancias de uno de los focus á los extremos del ege, es al cuadrado de la mitad de dicho ege.

401 Pues que la abscisa $CP = x$ es igual à la ordenada MQ del 2.º ege y su abscisa CQ igual à la ordenada $PM = y$, con despejar xx en la equacion $yy = \frac{xx}{aa} - bb$; ten-

drémos la del 2.º ege $xx = \frac{aayy}{bb} - aa$: de la

qual se saca $xx : yy - bb :: aa : bb :: 4aa : 4bb$, es

decir que el cuadrado $(MQ)^2$ de una ordenada del 2.^o ege es à la suma de los cuadrados $(QC)^2 + (Cb)^2$; como el cuadrado del 1.^r ege al del 2.^o Tambien se ve que à cada abscisa corresponden dos ordenadas iguales una positiva y otra negativa &c.

402 Si hacemos $2a:2b::2b:p = \frac{2bb}{a}$; tendrèmos el paràmetro del 1.^r ege que es una tercera proporcional à dicho ege y al 2.^o; y es igual à la doble ordenada Nn que pasa por el focus; pues si en $yy = \frac{bbxx}{aa} - bb$ ponemos c en lugar de x , y en el resultado sustituimos $aa + bb$ à cc (397); tendrèmos $yy = \frac{bb^4}{aa}$, $NF = \frac{bb}{a}$, y $Nn = \frac{2bb}{a}$. De $p = \frac{2bb}{a}$ se saca $bb = \frac{ap}{2}$, y este valor puesto en lugar de bb en las equaciones del 1.^r ege las convierte en estas $yy = \frac{p}{2a}(2ax - xx) = px - \frac{pxx}{2a}$, $yy = \frac{p}{2a}(xx - aa) = \frac{pxx}{2a} - \frac{pa}{2}$ que son las del paràmetro del 1.^r ege, y de las que se infiere que $yy:xx - aa::p:2a$ ó el cuadrado de una ordenada al 1.^r ege, es al producto de sus abscisas, como su paràmetro à dicho ege.

403 Tambien $q = \frac{2aa}{b}$ es el paràmetro del 2.^o ege, tercera proporcional à él y al 1.^o

y su equacion, poniendo $\frac{bbq}{2}$ por aa en $xx = \frac{aayy}{bb} + aa$, es $xx = \frac{qyy}{2b} + \frac{bbq}{2} = \frac{q}{2b}(yy + bb)$; de la que se saca $xx:yy + bb::q:2b$, es decir, que el cuadrado de una ordenada al 2.^o ege es à la suma de los cuadrados $(CQ)^2 + (Cb)^2$, como su paràmetro à dicho ege.

404 Si tiradas las FM, fM (fig. 165) à los focus, se toma $MH = MF$, y sobre FH se levanta la perpendicular Td , será tangente à la hipèrbola en M : pues si de qualquier otro punto m de la MT , se tiran las mH, mf, mF , $mf - mF = mf - MH$ es mayor que $Mf - MF = fH$; siendo $mH + Hf$ mayor que mf : luego el punto m no pertenece à la hipèrbola (395), y lo mismo se probará de qualquier otro que no sea M . Como los ángulos FMT, TMf son iguales; y $TMf = NMm$, serán FMT y NMm tambien iguales.

405 En el triangulo fMF se tiene (122) $fM:MF::fT:TF$, y $fM + MF \left(\frac{2cx}{a} \right):Mf \left(a + \frac{cx}{a} \right)$ (398):: $fT + TF (2c):fT = \frac{aa}{x} + c$: luego $fT - Cf = CT = \frac{aa}{x}$: y será $CP(x):CS(a)::Cs(a):CT \left(\frac{aa}{x} \right)$, proporcion que determinará el punto T de la tangente: y como al

paso que crece x , disminuye $\frac{aa}{x}$ ó CT; pasarán todas las tangentes á la hipérbola por los puntos T situados entré C y S, hasta que suponiendo x infinita, $\frac{aa}{x}$ ó CT se reduzca á cero, y el punto T se confunda con C.

406 Será pues 1.º la subtangente $PT = CP - CT = x - \frac{aa}{x} = \frac{xx - aa}{x}$. 2.º En el triángulo rectángulo TPM la tangente $TM = \sqrt{((PM)^2 + (PT)^2)} = \sqrt{\left(\frac{bb}{aa}(xx - aa) + \dots\right)}$

$$\left(\frac{xx - aa}{x}\right)^2 = \sqrt{\left(\frac{bbxx}{aa} + xx - aa\right) \times \frac{xx - aa}{xx}}$$

3.º La subnormal $PR = \frac{(PM)^2}{PT} = \frac{\frac{bb}{aa}(xx - aa)}{\frac{xx - aa}{x}}$

$$\frac{bbxx}{aa} = \frac{px}{2a}, \text{ ó } \frac{1}{2}p + \frac{pu}{2a}, \text{ haciendo } SP = u = x - a.$$

4.º Ultimamente, en el triángulo rectángulo MRP la normal $MR = \sqrt{((PM)^2 + (PR)^2)} = \sqrt{\left(\frac{b^4xx}{a^4} + \frac{bb}{aa}(xx - aa)\right)}$.

407 Si del centro de la elipse ó de la hipérbola se tira la CK (fig. 166 y 167), será igual á a ; pues siendo $CF = Cf$, y $FK = KH$, será $Ff : FC :: fH : CK$; y así como $CF = \frac{1}{2}fF$,

será $CK = \frac{1}{2}fH = \frac{1}{2}(fm \pm mF) = a$. De consiguiente, 1.º descrito un círculo desde C con el radio $CS = a$, terminarán en su circunferencia las perpendiculares FK, fd tiradas de los focus sobre la tangente alargada si es menester: porque siendo recto el ángulo KdD , y estando K en dicha circunferencia; estará también el punto D de la DK que debe ser diámetro (69).

408 2.º El producto $fd \times FK$ de dichas perpendiculares bajadas de los focus á la tangente, es siempre igual á bb cuadrado del semieje menor; pues siendo $FK = KH = fd$ por razon de las paralelas DK, fH ; tendremos (142) $fd \times fd = fd \times HK = fs \times fs = aa - cc = bb$ (375) en la elipse: y en la hipérbola por razon de las secantes (143), $fd \times fd = fd \times FK = fs \times fs = cc - aa = bb$ (397).

409 3.º Las perpendiculares FK bajadas del focus F á la tangente en diferentes puntos m de la elipse y de la hipérbola, crecen mas que las raices de los radios vectores en la elipse, y ménos en la hipérbola: pues en los triángulos fmd, FmK semejantes por las paralelas y los ángulos en d y K rectos, se tiene $fm : fd :: Fm : FK = \frac{fd + Fm}{fm}$, y multiplicando por

$$FK, (FK)^2 = FK \times fd \times \frac{Fm}{fm} = bb \times \frac{Fm}{fm}.$$

Si llamamos P, p dos perpendiculares FK, FK' ,
Tomo II. N

y $R, r; R', r'$ sus radios vectores $FM, fm; FM', fm'$; tendremos $PP:pp::bb \times \frac{R}{r} : bb \times \frac{R'}{r'} :: \frac{R}{r} : \frac{R'}{r'}$, y $P:p::\sqrt{\frac{R}{r}} : \sqrt{\frac{R'}{r'}}$. Y como la elipse en la que $R+r=2a$, disminuye r aumentando R , crecerá la razón de las fracciones $\frac{R}{r} : \frac{R'}{r'}$ mas, que si siendo constante r , aumentase R : y al contrario, en la hipérbola en donde $r-R=2a$, r aumenta creciendo R ; será menor dicha relación de $\frac{R}{r} : \frac{R'}{r'}$ luego &c.

410 Tirada Sd (fig. 165) paralela à MP , los triángulos semejantes TSd, TMP dan $TP:PM::TS=CS-CT:Sd$, ó $\frac{xx-aa}{x} : \dots$

$\frac{h}{a} \sqrt{(xx-aa)} : a - \frac{aa}{x} : Sd = \frac{b\sqrt{(xx-aa)}}{x+a} = b\sqrt{\frac{(x+a)(x-a)}{(x+a)(x+a)}} = b\sqrt{\frac{(x-a)}{(x+a)}}$. Esta expresión se reduce à $Sd=b$ quando x es infinita, en cuyo caso se desprecian como demostraremos despues (442), a y $-a$: y de consiguiente si tomando $Sa=SA=b$, se tiran por A, a y C las LK, lk ; serán tangentes de la hipérbola à una distancia infinita (405), y se llaman sus *asíntotas*: las cuales se van acercando à la curva sin llegar à tocarla. Sus ordenadas à

la asíntota lk son las Mm (fig. 168) paralelas à la otra asíntota LK , y sus abscisas Cm .

411 Si se alarga una ordenada PM hasta las asíntotas, será siempre $Mn \times MN = bb = (Sd)^2$ ó $= Mn:Sd:MN$; pues sacándose de los triángulos semejantes CSd, CPn, CS : $Sd::CP:Pn$, ó $a:b::x:Pn = \frac{bx}{a}$; será $Mn=PN-PM = \frac{bx}{a} - y$, $MN=PN+PM = \frac{bx}{a} + y$; y $Mn \times MN = \frac{bbxx}{aa} - yy$: pongase $\frac{bb}{aa} x \dots$ ($xx-aa$) en lugar de yy , y saldrá reduciendo, $Mn \times MN = bb$. Siendo $Pn = \frac{bx}{a}$, $(Pn)^2 = \frac{bbxx}{aa}$, y la correspondiente $(PM)^2 = \frac{bbxx}{aa} - bb$; es claro que ningun punto de la hipérbola podrá encontrar el correspondiente n de la asíntota: y como $Mn \times MN = bb$ ó $Mn = \frac{bb}{MN}$, mientras mayor sea MN , será menor $\frac{bb}{MN}$ ó Mn , que irá disminuyendo hasta el infinito: es decir, la asíntota se acercará mas y mas à la curva sin jamas encontrarla.

412 Del mismo modo que acabamos de decir se demuestra que $Qx \times xq = bb = Mn \times MN$: de consiguiente si se tiran dos ó mas paralelas Hn, Ep terminadas en las asínto-

tas, y que corten la hipérbola en x, c, e, r , se tendrá $Hx \times hx = Er \times rp$: pues suponiendo tiradas las Nn, Qq perpendiculares à SP' , en los triángulos HxQ, NrE, hxq, rnp semejantes à causa de las paralelas Nn, Qq ; se tendrá $Hx:Er::Qx:Nr$, y $xh:rp::xq:rn$, donde multiplicando ambas proporciones, resulta $Hx \times xh:Er \times rp::Qx \times xq:Nr \times rn$: luego $Hx \times xh = Er \times rp$, así como $Qx \times xq = Nr \times rn$: por la misma razon $ep \times Ee = ch \times cH$.

413 Si se mueve la Ep paralelamente hasta confundirse con la Tt tangente à la curva en el punto R , en el que concurren los dos r, e ; se verificará como àntes $Hx \times xh = RT \times Rt$, como tambien $ch \times cH = Rt \times RT$: luego $Hx \times xh = ch \times cH$, esto es, $Hx(xc + ch) = ch(xc + xH)$, que se reduce quitando $Hx \times ch$ comun, à $Hx = ch$, y de consiguiente $Rt = RT$, es decir, que son iguales las partes de qualesquiera rectas comprendidas entre la curva y las asíntotas.

414 Luego 1º si dada la ordenada RO , se toma $OT = OC$, la Tt tirada por T y R ; será la tangente correspondiente à RO : pues siendo en los triángulos semejantes $TOR, TCt, Tr:TR::TC:TO$; será $TR = Rt$ como $TO = OC$. 2º El producto $MM' \times Mh$ de las ordenadas paralelas al 1.º ege es aa : pues en los triángulos semejantes $Mhn, MM'N, CSD, Mh:CS::Mn:SD$, y $MM':CS::MN:SD$; luego

$Mh \times MM' : (CS)^2 :: aa : Mn \times MN(bb) : (SD)^2(bb)$: y $Mh \times MM' = (CS)^2 = aa$. 3º Ultimamente, para trazar una hipérbola entre las asíntotas Cl, CL que pase por un punto dado x ; se tirarán por él las Hh, Qq &c. y tomando $ch = Hx$, $vq = xQ$ &c. pertenecerán à la hipérbola los puntos c, v &c.

415 Tiradas Sg y Mm paralelas à LK , y ZM paralela é igual à Cm , y llamando m la $Sg = AC$; Cm, x , y Mm, y ; se tendrá en los triángulos semejantes $Mnm, Sdg, ZMN, Sd:Sg::Mn:Mm$, y $Sd:gd::MN:MZ$: y multiplicando estas proporciones $(Sd)^2:Sg \times gd::Mn \times MN:Mm \times MZ$; ó por ser $gd = Sg$ en el triángulo isósceles Sgd , $(Sd)^2(bb):(Sg)^2(mm)::Mn \times MN(bb):Mm \times MZ(xy)$: luego $bb \times xy = mm \times bb$, y $xy = mm$, equacion à la hipérbola entre las asíntotas, en la que por ser $y = \frac{mm}{x}$, irá y menguando hasta el infinito, à proporcion que crezca x , y la asíntota nunca tocará à la hipérbola. Si suponemos otra ordenada $T = \frac{mm}{x}$, tendremos $TX = mm = yx$,

y $T:y::x:X$, ó las ordenadas à las asíntotas estarán en razon inversa de las abscisas. El cuadrado mm se llama potencia de la hipérbola, y su valor sacado del triángulo rectángulo CSb , donde $(Sg)^2 = \frac{1}{4}((CS)^2 - (Cb)^2)$, es $mm = \frac{aa + bb}{4}$

416 Estén en proporcion geométrica las abscisas CX, CU, CG, Cc, (fig. 169) y será $CU - CX : CX :: CG - CU : CU :: Cc - CG : CG$ &c. y como los consecuentes son geoméricamente proporcionales, lo serán tambien los antecedentes XU, UG, Gc &c. diferencias de las abscisas. Si los cuadriláteros XKYU, YUGZ &c. se conciben formados de los pequeños rectángulos UuYy, gGZt que tienen las ordenadas UY, GZ por altura, y por bases uU, gG, partes semejantes de XU, UG; será $uU : gG :: XU : UG$: y como $XU : UG :: CX : CU :: CU : CG :: GZ : YU$ por estar las ordenadas en razon inversa de las abscisas (415); será $uU : gG :: GZ : YU$, y $uU \times YU = gG \times GZ$, ó $gGZt = UYyu$. Lo mismo se podrá demostrar de los demas rectángulos que componen los cuadriláteros: luego estos son iguales: y si suponemos que XUYK sea 1, será $XGZYK = 2$, $XcNZK = 3$ &c. y creciendo las abscisas en progresion geométrica, estarán los espacios asintóticos en progresion aritmética.

417 Si se tiran las CK, CY, CZ &c. los sectores hipérbolicos CYK, CYZ son iguales á los cuadriláteros XUYK, UGZY: pues siendo iguales los triángulos CXK, CUY (199) por tener sus bases en razon inversa de sus alturas; si se quita CoX comun y se añade á los dos residuos oKY, resultará $CKY = KXUY$, y así de los demas: luego si las abscisas son tér-

minos de una progresion geométrica, serán dichos espacios los correspondientes en la aritmética, ó serán sus logaritmos.

418 Lo primero que hay que saber de los diámetros es que ambos se dividen por medio en el centro C (fig. 170): y que el segundo es igual á la tangente Tt: pues tiradas las MD, Md, en el paralelogramo DMtC, es $DC = Mt$: luego pues que $TM = Mt$ (413); será $DC = Cd, Dd = Tt$. Tomando ahora $CP' = CP$, y tirando las MP, M'P', en los triángulos rectángulos iguales CPM, CP'M' se tendrá $CM = CM'$; luego &c. De consiguiente dados los dos diámetros conjugados MM', Dd, se tendrán las asíntotas, trazando por el centro C las CL, Cl paralelas á las DM, dM tiradas al 2º diámetro Dd desde un extremo M del 1º: y al contrario, dadas las asíntotas CL, Cl y un punto M de la curva, se tendrán los diámetros, tirando MH paralela á Cl, tomando $HD = HM$; y las DC, MC tiradas al centro serán los semidiámetros: pues si se traza MT paralela á DC; serán iguales los triángulos CDH, THM, á causa de las paralelas y de $DH = HM$; luego $TM = DC$: y como TM es tangente por ser $TH = HC$, será DC el 2.º semieje.

419 Llamemos MM' , $2a$; Dd ó Tt , $2b$; la ordenada mQ , y ; CQ , x : y será $MQ = x - a$, $M'Q = x + a$: y en los triángulos semejantes

CMT, CQN, CM(a):CQ(x)::MT(b):

$$QN = \frac{bx}{a} : \text{luego } mN = NQ - QM = \frac{bx}{a} - y,$$

$$mn = NQ + Qm = \frac{bx}{a} + y, \quad mN \times mn = \frac{bhxx}{aa}$$

—yy: y siendo $mN \times mn = bb$ (411); será finalmente

$$\frac{bhxx}{aa} - yy = bb, \quad \text{y de consiguiente}$$

$$yy = \frac{bhxx}{aa} - bb, \quad \text{ecuacion á las ordenadas del}$$

1.^o diámetro de la hipérbola. La de las ordenadas del 2.^o por ser $Cp = mQ = y$, y $CQ = mp = x$; será despejando xx en la anterior,

$$xx = \frac{aivv}{bb} + aa. \quad \text{Ambas son en todo seme-}$$

jantes á las de los eges, y de consiguiente podremos de ellas inferir tambien que á cada abscisa corresponden dos ordenadas iguales en cada diámetro: que á uno y otro corta la curva en dos puntos: que el cuadrado de la ordenada á un diámetro es al producto de sus abscisas, como el cuadrado de su conjugado al de dicho diámetro: que el parametro de un diámetro es una tercera proporcional á él y á su conjugado &c. y así de todas las demas propiedades, excepto las de los focus.

420 Si de los extremos d, M de los diámetros Dd, MM' se bajan dos ordenadas do, MP al 1.^o ege, será el cuadrado de Co comprendida entre la una do y el centro C igual

al producto PS×Ps de las abscisas de la otra ordenada MP: y el cuadrado de CP igual á la suma de los cuadrados (Co)²+ (Cs)².

Supongamos que sobre Bb alargado se toman CE' = CE = CF, y se trazan por B, b dos hipérbolas, cuyos focus sean E, E' que se llaman conjugadas á las primeras: sea CS = a, CB = b, CP = x, Co = z; será os = aa - zz, SP×P = xx - au. Por la propiedad de la hipérbola (400) (PM)²: PS×Ps:: bb:aa:: (do)²:(Cs)²+ (Co)² (401), ó PS×Ps: (Cs)²+ (Co)²:: (PM)²: (do)²:: (PR)²:(Co)² en los triángulos semejantes Cod, RPM: luego PS×Ps (xx-aa): (Cs)²+ (Co)² (aa+zz):: (PR)².....
 $\left(\frac{xx-aa}{xx}\right)^2 (406): (Co)^2 (zz) = \frac{(aa+zz)(xx-aa)}{xx(xx-aa)}$;
 de donde se saca zz = xx - aa ó (Co)² = PS×Ps, y xx = zz + aa ó (CP)² = (Cs)² + (Co)².

421 Si en la proporción (do)²: (Cs)² + (Co)²:: bb:aa (401), ponemos por (Cs)² + (Co)² su igual xx (420); se mudará invirtiendo, en aa:bb::xx:(do)² = $\frac{bhxx}{aa}$: de consiguiente será (Cd)² = (Co)² + (do)² = xx - aa + $\frac{bhxx}{aa}$: tambien (CM)² = (CP)² +
 (PM)² = xx + $\frac{bhxx}{aa}$ - bb: réstese una ecuacion de otra, reduzcase y se tendrá (CM)² =

$(Cd)^2 = aa - bb$; y será la diferencia de los cuadrados de los eges de la hipérbola igual á la de los cuadrados de sus diámetros.

422 Bajada sobre Tt la perpendicular Ca se saca de los triángulos semejantes CaR , RPM , RM : PM :: CR : $Ca = \frac{PM \times CR}{RM}$: tambien

PR : RM :: Co : $Cd = \frac{RM \times Co}{PR}$ en los triángulos semejantes Cod , RPM : luego $Cd \times Ca = \frac{PM \times CR \times RM \times Co}{RM \times PR} = \frac{PM \times CR \times Co}{PR}$, y $(Cd)^2 \times$

$(Ca)^2 = \frac{(PM)^2 \times (CR)^2 \times Co}{(PR)^2}$: pongase por

$(PM)^2$, $\frac{bb}{aa}(xx - aa)$, por $(CR)^2$, $\frac{a^4}{xx}(405)$;

$xx - aa$ por $(Co)^2(420)$, y $\frac{(xx - aa)^2}{xx}$ en lu-

gar de $(PR)^2$; y resultará despues de reducir, $(Cd^2) \times (Ca)^2 = aabb$, y Cd ó $CD \times Ca = ab$, ó el paralelogramo $DTMC$ de los semidiámetros igual al de los semieges: luego *el paralelogramo formado de los diámetros de la hipérbola es igual al que forman los eges.*

423 Dados los dos diámetros Ss 1º, y Bb 2º (fig. 171) que formen qualquier ángulo, se podrá trazar la hipérbola; tomando sobre el semidiámetro CS alargado qualquier número de partes iguales CE, EE &c. tirando por E la EP paralela á SB , tomando en CB y Cb partes iguales á CP , y levantando en C

la CD perpendicular é igual á Cs ; pues si por los puntos P se corta cada paralela PM igual a su correspondiente ED ; todos los puntos M pertenecerán á la hipérbola: porque siendo $Ss = 2a$, $Bb = 2b$, $CP = y$, $PM = x$; se tendrá en los triángulos semejantes CSB , CEP , CB :

CS :: CP : CE , ó $b::a::y$. $CE = \frac{ay}{b}$: y en el triángulo rectángulo ECD donde $(DE)^2$ ó...

$(PM)^2 = (CE)^2 + (CD)^2$; será $xx = \frac{a^2yy}{bb} + aa$, equacion al 2º diámetro de la hipérbola (401): y verificandose esto en los demas puntos, pertenecerán á la hipérbola.

424 Quando los eges ó diámetros son iguales, se llama la hipérbola *equilátera*; y basta entónces para trazarla, levantar la CR perpendicular é igual á CB ; pues tirando por qualquier punto P la MPM' paralela á Ss , y tomando $P'M$ y $P'M'$ iguales á PR , serán M, M' puntos de la hipérbola; porque en el triángulo rectángulo CPR se tiene $(PR)^2$ ó $(PM)^2 = (CP)^2 + (CR)^2$, esto es, $xx = yy + aa$. Esta misma es la equacion á los eges, quando son iguales, ó quando la hipérbola es equilátera; en cuyo caso forman las asíntotas con los eges un ángulo de 45° .

425 La equacion $yy = px \pm \frac{p^2xx}{2a}$ incluye las de la elipse é hipérbola con relacion á su

parámetro, segun se ha visto (382 y 402); y como quando el ege $2a$ es infinito, como sucede en la parábola, dicha equacion se reduce omitiendo $\pm \frac{pxx}{2a}$ que entónces es cero, á $yy = px$ que lo es de la parábola; podremos considerar á $yy = px \pm \frac{pxx}{2a}$ como equacion general de las tres secciones cónicas, contando sus abscisas desde el vértice; en la qual sacando los valores de las diferentes líneas que en ellas hemos calculado, se podrán facilmente comparar, para observar mejor sus relaciones reciprocas.

426 La subnormal por egemplo, segun hemos visto (374 y 406), es $\frac{1}{2}p \pm \frac{px}{2a}$ en la elipse é hipérbola, y $\frac{1}{2}p$ en la parábola (368) en la que $\pm \frac{px}{2a} = 0$. Si en $yy = px \pm \frac{pxx}{2a}$ se pone en lugar de y , $\frac{1}{2}p$ ordenada al focus; resulta $\frac{1}{4}pp = px \pm \frac{pxx}{2a}$, y $p = 4x \pm \frac{2xx}{a}$, es decir, que el parámetro es cuádruplo de la distancia del vértice al focus en la parábola, mas que cuádruplo en la hipérbola, y ménos en la elipse &c.

427 Finalmente, si dada una porcion de seccion cónica, se pidiese cuál es de las tres, y la posicion de sus eges: habiendo tirado den-

tro de ella dos líneas paralelas terminadas por ambos cabos en la curva, y por su mitad una recta; será esta uno de sus diámetros (369, 386 y 396): búsquese del mismo modo otro; y si saliese paralelo al primero; será la curva una parábola, cuyo ege se hallará, tirando por el vértice una paralela à qualquiera de los dos diámetros encontrados. Si el 2º diámetro corta al 1º dentro de la curva, será esta una elipse: y si le corta fuera, una hipérbola. En estos casos si se traza un arco desde el centro de la seccion que corte la curva en dos puntos, y tirando por ellos una recta, se le baja una perpendicular desde dicho centro; será esta uno de los eges, y el otro debe ser una perpendicular al ege encontrado.

428 Por medio de los esponentes indeterminados se representan con una sola equacion infinidad de curvas de diferente orden. Si en el círculo suponemos a el diámetro, y en lugar de $x::y:a-x$ (348), hacemos $x^m::y^n::(a-x)^n$; representará la equacion $y^m + n = x^m \times (a-x)^n$ la naturaleza de los círculos de todos géneros; y de ella resultará la del círculo ordinario suponiendo $m=1$, $n=1$. Con otros valores salen diferentes equaciones de curvas que se llaman círculos, por la analogía de su equacion con la del ordinario.

429 Si hacemos en la parábola $p^m::y^n::$

$y^n : x^n (357)$; se tendrá la equacion à las parábolas de diferentes órdenes. Suponiendo a el primer ege de la hipérbola, se tiene $y^2 : x(a+x) :: p:a(402)$: de consiguiente será $y^m + n : x^m(a+x)^n :: p:a$, y la equacion $y^m + n = \frac{p}{a} \times x^m \times (a+x)^n$, ó $\frac{a}{p} y^m + n = x^m(a+x)^n$ la equacion à las hipérbolas de todos géneros: así como $x^m y^m = c^n + m$ lo es à las mismas entre las asintotas; pues sacándose de $xy = c^2(415)$, $y : c :: c : x$; será también $y^m : c^m :: c^n : x^n$. (c es la potencia de la hipérbola).

Noticia de algunas Curvas en particular.

430 *Concoide de Nicomedes.* Si por un punto qualquiera B (fig. 193) se tiran à una recta GH líneas BQM, BAD &c. y tomando $QM = AD, Qt = Ad$; se hace pasar una curva por M, D &c. y otra por m, t , &c. será MDM' la *concoide superior* y mdm' la *inferior*: El punto B se llama *polo*, y la GH *directriz*. Quando AB es mayor que dA , resulta la figura 193: quando es menor (fig. 194), la curva tiene un nudo en d , y quando es igual (fig. 195) se desvanece el nudo, y queda un punto de retroceso en B.

Por la referida construccion se ve 1º que la curva podrá trazarse por la interseccion

continua de una regla BDM (fig. 196) movible al rededor de B, y de un círculo de un radio CA, cuyo centro corra la GH con la regla aplicada à dicho centro. Y si al círculo se sustituye una curva qualquiera CM (fig. 197) que se haga mover lo largo de GH junto con la regla fija en un punto B, y aplicado à otro qualquiera del ege que recorra la GH; resultará otra concoide que variará segun las diferentes curvas que se empleen. 2º Que la GH (fig. 193) es asintota de la concoide: pues debiendo ser cada vez mas oblicuas las MQ, se iran acercando los puntos M à la GH sin que puedan juntarse: porque siempre ha de mediar alguna parte de las tM.

Si se baja la PM perpendicular à AH, y hacemos $AD = QM = a$, $AB = b$, $PM = y$, y $AP = x$; se tendrá en los triángulos PQM, BAQ semejantes $PQ : PM :: AQ : AB$, ó $\sqrt{(a^2 - y^2)} : y :: x - \sqrt{(a^2 - y^2)} : b$, y $xy = (b + y)\sqrt{(a^2 - y^2)}$, equacion à la concoide que será una curva algébrica. El mismo cálculo da $xy = (b - y)\sqrt{(a^2 - y^2)}$ por la equacion à la concoide inferior, y una y otra desembarazada del radical es $y^4 \pm 2by^3 - (b^2 - a^2 - x^2)y^2 \pm 2a^2by = a^2b^2$, equacion algébrica de una línea de 4º orden ó curva de 3º

Finalmente, si tiradas las MP, AB (fig. 197) perpendiculares à la directriz, se supone $AP = x$, $PM = y$, $CP = z$, $CQ = a$,

$AB=ab$; será $PQ(z-a):PM(y)::AQ(x+a-z):$

$AB(b)$, y $z = \frac{xy}{b+y} + a$, valor que sustituido

en la equacion á la curva CM dará la de la concoide DM. Si se sustituye por egemplo, en $y^2=2ax-x^2$, la equacion al círculo cuyo centro es Q; resulta $xy=(b+y)\sqrt{(a^2-y^2)}$, que es la de la concoide ordinaria: y sustituyéndole en $y^2=px$ equacion á la parábola; se tiene $y^3+by^2-apy-abp=px$, que pertenece á la concoide parabólica, que sirvió á Descartes para resolver una equacion de 6^o grado.

431 *Cisoide de Diocles*. Si en un círculo cuyo diámetro es Aa (fig. 198), Tt tangente en a , se tiran desde A rectas AF , Af &c. á diferentes puntos de la tangente, y tomando $AN=MF$, $An=mf$ &c. se traza por M , m la curva MAm ; se tendrá la *cisoide*. Tirese MI paralela, y MP perpendicular á Aa : hágase $AP=x$, $MP=y$, $Aa=a$: y por ser $AN=MF$; será $AK=Pa=a-x$, y $NK=\sqrt{(ax-x^2)}$ (136): y como en los triángulos semejantes ARN , APM , $AK:KN::AP:PM$ ó $a-x:\sqrt{(ax-x^2)}::x:y$; será $y = \frac{x\sqrt{(ax-x^2)}}{a-x}$ ó $y^2 = \frac{x^3}{a-x}$ la equacion á la *cisoide*; línea de 3.^{er} orden, y curva algébrica de 2^o.

Luego 1^o á cada abscisa corresponden

dos ordenadas, una positiva y otra negativa: y de consiguiente tendrá la curva dos ramos iguales é infinitos. 2^o Pasará por el origen A de las abscisas: pues $y=0$ quando $x=0$. 3.^o Si $x=\frac{1}{2}a$, $y=\pm\frac{1}{2}a$; es decir que cada ramo corta la circunferencia del círculo en los puntos C, C' igualmente distantes de A y a . 4.^o Quando $x=a$, $y^2=\frac{a^3}{0}$, ó y es infinita, y la tangente Tt será asíntota de la curva.

Valiendose en lugar del círculo de la parábola, hipérbola &c. se hubiera sacado la *cisoide* parabólica, hiperbólica &c. Los antiguos encontraron por medio de esta curva dos medias proporcionales entre dos líneas dadas.

432 *Quadratriz de Dinostrates*. Si una tangente AT (fig. 199) al cuadrante AB se mueve uniforme y paralelamente á sí misma hacia C , al mismo tiempo que el radio AC recorre al rededor de C el arco AB ; la interseccion de la tangente y el arco formará la curva AMD que se llama *Quadratriz*: en la que en virtud de la construccion qualquier espacio AP corrido por la tangente AT , es al arco AN corrido por el radio AC ; como el radio es al cuadrante ANB .

Luego si se supone $AP=x$, $PM=y$, $AN=u$, $AC=a$, $ANB=c$; será $x:a::u:c::$ ángulo ACN : ángulo ACB , ó $u = \frac{cx}{a}$; y como

CP:PM::CA:AT, ó $a-x:y::a:\text{tang. } u$; se tendrá $y = \frac{a-x}{a} \text{tang. } \frac{cx}{a}$ por la equacion á la curva, que es de las trascendentes, y de la que se sirvió su inventor para cuadrar el círculo.

433 *Espiral de Arquimédes.* Se llama así la curva CKMA (fig. 200) descrita por un punto C que se mueve uniformemente por el radio CA, mientras que este hace una revolucion al rededor del centro C; de manera que el punto C llegue á A, quando el radio haya recorrido toda la circunferencia. Si CA alargado repite su revolucion, mientras C continua su movimiento, describirá una segunda espiral, y podrá trazar otras muchas que serán partes de una curva que se estiende al infinito. De consiguiente, la ordenada CM (y), será al radio CA (a); como el arco AON (x), que es la abscisa correspondiente, á toda la circunferencia AONBA: esto es, $y = \frac{ax}{c}$, equacion á la curva, que tambien es trascendente, y que pasa por el centro del círculo generador y el punto A. Haciendo $x=c+x'$, se mudará la equacion en $y = a + \frac{ax'}{c}$, en la que dando á x' los valores comprendidos entre 0 y c , resultarán los de la segunda espiral, que terminará en el extremo

de un radio doble de CA: haciendo $x=2c+x''$, se tendrá la de la tercera, y así de las demas.

434 *Espiral parabólica.* Si en un radio qualquiera CN (fig. 201) se toma una parte MN media proporcional entre el arco AN y una recta dada p ; la curva que pase por los puntos M así determinados, se llama *espiral parabólica*. Haciendo en ella $AN=x$, $CM=y$, $AC=a$; se tiene $y=a-\sqrt{px}$, equacion á la curva, que espesará sus infinitas revoluciones substituyéndo en ella en lugar de x ; $c+x$, $2c+x$ &c.

435 *Espiral hiperbólica.* Si en una recta indefinida CP (fig. 202) se trazan desde un punto qualquiera C como centro los arcos AG, QM, PO &c. iguales en longitud, y se hace pasar una curva por sus extremos G, M, O &c. será la *espiral hiperbólica*, en la que la recta BH paralela al ege CP, y distante de él en $CB=AG=QM=PO$ &c. será su asíntota; pues no puede encontrarla hasta que CM sea infinito.

Sea $CA=a$, $AN=x$, $CM=y$, $AG=QM=c$, $CB=b$; tendremos $x:b::a:y$, ó $xy=ab$ equacion á la curva, semejante á la de la hiperbola entre las asíntotas; y en la que poniendo por x ; $c+x$, $2c+x$ &c. resulta $y = \frac{ab}{c+x}$, $y = \frac{ab}{2c+x}$ &c.

Luego al paso que crece la abscisa, mengua

la ordenada hasta el infinito, y la curva hace infinidad de revoluciones al rededor de su centro antes de llegar à él.

436 *Logarítmica*. Si de uno y otro lado de la línea indefinida AY (fig. 172) se toman las partes iguales AE, EF &c. AC, CX, XO, y en los puntos O, X, C, A se levantan perpendiculares OL, XM, CN, AB &c. que representen los números de una progresion geométrica; las partes AE, AF, AG &c. estarán en progresion aritmética, y qualquiera de ellas AP será el término aritmético que corresponde al geométrico PM, ó AP será el logarítmico de PM (209 t.I.) Hagase ahora pasar una curva por todos los puntos L, M, N, &c. y se tendrá la *logarítmica*, en la que los valores de las ordenadas estan en progresion geométrica, y los de las abscisas en progresion aritmética.

Si suponiendo $AB=1$, hacemos $AP=x$, $PM=y$, m el módulo, y $e=2,71828183$, número cuyo lagarítmico hiperbólico es 1; tendremos $x=my=xe$, (454y458) ó $y^m=e^x$ de

donde se saca $y=e^{\frac{x}{m}}$, equacion á la logarítmica, curva trascendente, en la que quando $x=0$, y ó $AB=1$. Si suponemos $AE=1$, será ED

ó $y=e^{\frac{x}{a}}$: luego si llamamos ED, a ; tendremos siempre $y=a^x$: y las abscisas formarán la

progresion aritmética + 1.2.3.4 &c. mientras que las ordenadas forman la geométrica = $a^1:a^2:a^3:a^4$: &c. Las abscisas negativas AC, AX &c. que son -1, -2 &c. dan las ordenadas $\frac{1}{a}, \frac{1}{a^2}$ &c. es decir, que la curva tiene una rama infinita BL que se va acercando à la directriz ó ege OY hasta al infinito, ó que OY será asíntota de la curva. La principal propiedad de la logarítmica es que su subtangente es una cantidad constante como probaremos adelante.

437 *Espirál logarítmica*. Si despues de haber determinado un número qualquiera de arcos AD, AG, AH, &c. (fig. 203) que esten en progresion aritmética, se determinan en los radios correspondientes líneas CA, CM, CN &c. en progresion geométrica, la curva que pasa por los puntos A, M, N, &c. se llama *logarítmica espiral*, la qual forma un mismo ángulo con todos los radios CM tirados desde el centro; igualmente que estos con la tangente y en la que los arcos circulares son logarítmicos de las ordenadas correspondientes de las curvas. Dichas ordenadas CO, CN &c. disminuyen en progresion geométrica decreciente al infinito, y de consiguiente la curva hace infinitas revoluciones al rededor del centro C, sin jamas llegar á él.

438 *Cicloide*. Si un círculo AG (fig. 204) rueda sobre una recta Aa hasta que el punto

A llegue à a ; trazara este punto la nueva curva ABa que se llama *cicloide* ó *trocoide*, qual la describe el clavo de una rueda à cada revolucion. Si ademas del de rotacion, hubiese movimiento de traslacion hácia una misma parte, resulta una cicloide menguada (fig. 205), y si la traslacion fuese en sentido contrario à la rotacion, será la cicloide alongada (fig. 206).

Por la descripcion de la curva se ve que en la ordinaria la base Aa es igual à la circunferencia del círculo generador, menor en la menguada, y mayor en la alongada. El diámetro BC es el ege de la curva quando es perpendicular à la base, y el punto B su vértice.

Tirada MP perpendicular à BC , y las cuerdas iguales MF , OC ; será $FC=MO$: y pues que $FC=AC-AF=BOC-FKM=BOC-OLC=BIO$; es claro que la parte MO de la ordenada MP es siempre igual al arco correspondiente BIO del círculo generador: y como la parte restante OP es seno de dicho arco; si llamamos MP , y ; BIO , u ; será la equacion à la cicloide ordinaria $y=u + \text{sen } u$: y suponiendo $MO=\frac{a}{b}BIO$ que comprende las tres cicloides, segun que b es igual, mayor ó menor que a ; se tendrá $y=\frac{b}{a}u + \text{sen } u$ por la equacion general à las tres, que como se ve, son curvas trascendentes. Quan-

do el punto A se toma dentro ó fuera del círculo, describe otra especie de cicloide: y si en vez de línea recta, se hace rodar el círculo sobre otra curva; resultan otras del género de las *epicicloides*.

439 Finalmente, se llaman curvas *esponenciales* aquellas en cuya equacion entra algun exponente variable, como $ay=x^x$, el producto de la ordenada y por la constante a , que se puede suponer igual à 1, seria proporcional à la abscisa x elevada à la potencia x . Suponiendo $a=1$, y $x=2$, seria $y=x^2=4$: si $x=3$, $y=3^3=27$ &c. es decir, que si à la ordena y corresponde la abscisa 2, y à la ordenada y' la abscisa $x=3$; se tendrá $y:y::4:27$: y las y aumentarán ó disminuirán en la misma relacion que las x^x correspondientes.

Es, muy frecuente y universal el uso que en las ciencias y las artes se hace de las curvas, en especial de las secciones cónicas. Sus propiedades sirven en la proyeccion de las bombas, escabacion de minas, en la construccion de las bóvedas, de las bocinas acústicas, espejos ustorios, telescopios &c. Los planetas se mueven en elipses cuyo focus ocupa el sol: y las orbitas de los cometas se confunden sensiblemente con parábolas en los puntos de sus trayectorias en que se observan. La cicloide ha servido para arreglar los relojes de péndola &c.

440 El objeto de este cálculo es considerar la relación entre los incrementos ó decrementos que sobrevienen á qualesquiera cantidades variables, para llegar á cierto estado: dichos aumentos ó decrementos que son partes infinitamente pequeñas ó *elementos* de las cantidades, pueden mirarse bajo de dos aspectos diferentes, que dividen en dos ramos el cálculo infinitesimal: en el uno que se llama *cálculo diferencial* ó *de las fluxiones*, se averigua la razón que hay entre dichos elementos dadas las cantidades, y en el otro que es el *integral* ó *de las fuentes*, se busca la razón de las cantidades dados sus elementos: de suerte que el 1.^o resuelve las cantidades en sus elementos, y el 2.^o de los elementos compone las cantidades.

Si q es el cociente de la cantidad b partida por a , de suerte que $\frac{b}{a} = q$, y permaneciendo b constante, concebimos que a vaya menguando; irá creciendo á proporcion el cociente q hasta que llegando á ser a una cantidad infinitamente chica qual podemos considerar al cero, venga q á ser infinitamente grande: esto es, si $a = 0$, $\frac{b}{a} = \frac{b}{0} = q = \infty$ (este es el signo del infinito). Al contrario, si se

concibe que a vaya creciendo hasta el infinito, disminuirá q hasta llegar á ser cero, y será $\frac{b}{a} = \frac{b}{\infty} = q = 0$. Por esto llamaremos cantidad *infinita* la que en su género se concibe haber recibido todos los aumentos posibles: è *infinitamente pequeña* la que se concibe menor en su género que otra qualquiera posible. Pero propiamente hablando, el infinito equivale las mas veces á *indefinido*, y viene á ser el límite ácia el que se acerca el infinito quanto se quiere, sin poder jamas llegar á él. Quando decimos que 1 es la suma de la série infinita $\frac{1}{2} : \frac{1}{4} : \frac{1}{8} \&c.$ es decir que 1 es el límite de dicha suma; porque quantos mas términos se sumen de dicha série, mas se acercará la suma á 1. Asimismo, llamar al círculo *polígono de infinitos lados* es decir que el círculo es el límite de quantos poligonos se le quieran inscribir, ó circunscribir, al qual se acercarán tanto quanto mas lados tengan.

441 Hay infinitos è infinitamente pequeños de diferentes órdenes: si x es infinito, siendo $1 : x : x : xx$; será xx infinito respecto de x , como x lo es respecto de 1, ó será infinitamente infinito ó infinito de 2.^o orden: por igual razon es x^3 infinito de 3.^o orden, x^4 de 4.^o &c. Si $\frac{1}{x}$ es infinitamente pequeño, será $\frac{1}{xx}$ infinitamente pequeño de 2.^o orden;

pues es $1: \frac{1}{x} :: \frac{1}{x} : \frac{1}{xx}; \frac{1}{x^3}$ será infinitamente pequeño de 3.^o orden, $\frac{1}{x^4}$ de 4.^o &c. En un producto de factores infinitos ó infinitamente pequeños, se atiende al número y grado de dichos factores: y así bxz y xz , siendo x, z infinitos y b finito, son infinitos de 2.^o orden; pues $bxz: xz: b: 1$: y siendo $b, 1$ de un mismo orden, lo serán también bxz y xz . Aquí se ve también que à los infinitos multiplicados y partidos por cantidades finitas puede medirlos alguna razón finita.

442 Las cantidades finitas no aumentan ni disminuyen una cantidad infinita: porque siendo $1 - 1 = -1 + 1 = 0$, y $\frac{a}{0} = \infty$ (440)

será $\frac{a}{1-1} = \frac{a}{-1+1} = \infty$: hagase la division (103

t.I.) y resultará $\frac{a}{1-1} = a + a + a + a \dots + \frac{a}{1-1}$:

y $\frac{a}{-1+1} = -a - a - a - a \dots + \frac{a}{-1+1}$: luego

lo mismo es $\frac{a}{1-1}$ que $a + a + a + a \dots + \frac{a}{1-1}$, y

lo mismo es $\frac{a}{-1+1}$ que $-a - a - a - a \dots + \frac{a}{-1+1}$.

De consiguiente en los cálculos en que intervengan una ó mas cantidades infinitas, se deben despreciar todos los términos finitos: y por igual razón se deben omitir los infinitos

ó infinitamente pequeños de orden inferior quando los haya de orden superior. Por egemplo, la espresion $\frac{3x+1}{5x-b}$ en la suposicion de ser x infinito, se reduce à $\frac{3x}{5x} = \frac{3}{5}$. Los mismos $\frac{3}{5}$ hubieran salido dividiendo numerador y denominador por x , y despreciando los términos $+\frac{a}{x}, \frac{b}{x}$ que por ser infinitamente pequeños, se reducen à cero: también la espresion $xx+ax+bb$ se reduce à xx en la suposicion de x infinito, omitiendo bb finito y ax infinito de 1.^o orden.

443 Asimismo $xx+ax$ se reduce á ax , siendo x infinitamente pequeño, despreciando xx que lo es de 2.^o orden: y $\frac{ax+b}{cx+d}$ bajo

de la misma suposicion, se queda en $\frac{b}{d}$. Pero

no se ha de egecutar la reduccion hasta haber concluido el cálculo de que se trate: y así la verdadera diferencia de $xx+bx+a$ y $xx+bx-b$, suponiendo x infinito, es $xx+bx+a-xx-bx-b = a-b$, y si se hubieran quitado ántes los términos ax, a, bx, b , hubiera resultado $xx - xx = 0$: tampoco $x - \sqrt{xx-aa}$ se reduce à cero en la misma suposicion, sino à $x - x + \frac{aa}{2x} + \frac{a^4}{8x^3}$ &c. desembarazando el radical (154

t.I.): y despues á $\frac{aa}{2x}$, despreciando los demas

términos (442). Pero ántes de internarnos en los métodos diferenciales é integrales, vamos à dar alguna idea de lo que son *séries* con algunas de sus propiedades que nos servirán despues.

De las Séries.

444 Llamamos así à un polinomio de infinitos términos por el que se espresa el valor de una cantidad que no se puede sacar cabal. Quando sus términos van disminuyendo se llama *decescente*, y tambien *convergente* porque entónçes se acerca mas al verdadero valor; será *divergente* quando se va apartando de él; y porque entónçes van creciendo los términos, se llama *crescente*. Aquellas en las que cada término se forma de alguno ó algunos de los anteriores, se llaman *recurrentes*. De números hay tres géneros de *séries*: 1º el de las *potencias* que ya conocemos: 2º el de los números *figurados* ó de diferentes órdenes que comienzan así.....

Números.
 Constantes ó de 1.º orden... 1. 1. 1. 1. 1. 1. &c.
 Naturales ó de 2º orden... 1. 2. 3. 4. 5. 6. &c.
 Triangulares ó de 3.º orden... 1. 3. 6. 10. 15. 21. &c.
 Piramidales ó de 4º orden... 1. 4. 10. 20. 35. 56. &c.

y en los cuales cada término es la suma de los

que le anteceden en la serie precedente: en los triangulares por exemplo, $1=1$, $3=1+2$, $6=1+2+3$ &c. El 3.º género es el de los números *poligonos* formados por la suma de los términos consecutivos de una progresion aritmética, y toman el nombre segun es 1,2,3&c. la diferencia de la progresion.

Progresiones aritméticas. *Números poligonos.*

1.2.3.4. 5. &c. dif. 1....1.3.6. 10.15. &c. *Triang.*
 1.3.5.7. 9. &c. dif. 2....1.4.9. 16.25. &c. *Cuadr.*
 1.4.7.10.13.&c. dif.3....1.5.12.22.35. &c. *Pentág.*
 1.5.9.13.17.&c. dif.4....1.6.15.28.45. &c. *Exágon.*

Se llaman *poligonos* porque las unidades que tienen sus números, se pueden colocar en figura de triángulo, cuadrado, pentágono &c.

445 Ya hemos visto cómo por medio de la division y de la fórmula de Newton (104 y 154f.l.) se reduce à serie qualquier cantidad: ahora vamos à esplicar otro método mas espedito valiéndonos de los coeficientes indeterminados A, B, C, D &c. Supongamos pues para reducir à série la cantidad $\frac{a}{b+z}$, que el valor de dichos coeficientes sea tal que...

$$\frac{a}{b+z} = A + Bz + Cz^2 + Dz^3 + Ez^4 + \dots$$

tendremos multiplicando ambos miembros por $b+z$

$$b+z, a = \begin{cases} bA + bBz + bCz^2 + bDz^3 + \dots \\ + Az + Bz^2 + Cz^3 + \dots \\ bA + bBz + bCz^2 + bDz^3 + \dots \end{cases}$$

ó trasponiendo el $a, 0 = \begin{cases} - aAz + Bz^2 + Cz^3 + \dots \end{cases}$

Para que el 2º miembro se reduzca á cero, igualemos á cero todos los coeficientes y tendremos $bA - a = 0$, $bB + A = 0$, $bC + B = 0$, $bD + C = 0$: de donde sacaremos despejando

$$A = \frac{a}{b}, B = -\frac{A}{b} = -\frac{a}{bb}, C = -\frac{B}{b} = \frac{a}{b^3}, D = -\frac{C}{b} = -\frac{a}{b^4} \&c. : \text{luego } \frac{a}{b+z} = A + Bz + Cz^2 + Dz^3 + \&c. = \frac{a}{b} - \frac{az}{bb} + \frac{az^2}{b^3} - \frac{az^3}{b^4} + \&c.$$

Para reducir á serie $\frac{aa}{aa+2ax-xx}$, supongamos $\frac{aa}{aa+2ax-xx} = A + Bx + Cxx + Dx^3 + \&c.$ y multiplicando por el denominador, saldrá $aa = \begin{cases} aaA + aaBx + aaCxx + aaDx^3 + \&c. \\ -2aAx + 2aBxx + 2aCx^3 + \&c. \\ -Axx - Bx^3 \&c. \end{cases}$

Y por ser entónces $aa = aaA$, $aaB + 2aA = 0$, $aaC + 2aB - A = 0$, $aaD + 2aC - B = 0$; será $A = 1$, $B = -\frac{2}{a}$, $C = \frac{5}{aa}$, $D = -\frac{12}{a^3} \&c.$ y de consiguiente $\frac{aa}{aa+2ax-xx} = A + Bx + Cxx + Dx^3 + \&c. = 1 - \frac{2x}{a} + \frac{5xx}{aa} - \frac{12x^3}{a^3} + \&c.$

Quando en el numerador hay dos términos, se igualan á los dos homogéneos de la serie multiplicada ya por el denominador: si

hay tres á los tres primeros, y así de los demás: y así para hallar la serie que corresponde á $\frac{1+z}{1-z-zz}$, se supondrá igual á $A + Bz + Cz^2 + Dz^3 + \&c.$ y después de haber multiplicado por $1-z-zz$; se

$$\left. \begin{aligned} A + Bz + Cz^2 + Dz^3 + \&c. \\ -Az - Bz^2 - Cz^3 - \&c. \\ -Az^2 - Bz^3 - \&c. \end{aligned} \right\} \begin{aligned} 1+z \\ 1+2z \end{aligned} = \begin{cases} -Az - Bz^2 - Cz^3 - \&c. \\ -Az^2 - Bz^3 - \&c. \end{cases}$$

hará $1 = A$, $2 = B - A$: y de consiguiente será $B = 3$, $C = 4$, $D = 7$, $\&c.$ y $\frac{1+z}{1-z-zz} = A + Bz + Cz^2 + Dz^3 + \&c. = 1 + 3z + 4z^2 + 7z^3 \&c.$ serie recurrente por ser el coeficiente de cada término suma de los dos precedentes.

Para sacar por este medio la raíz próxima de $(aa+xx)$, ó reducir á serie $\sqrt{aa+xx} = (aa+xx)^{\frac{1}{2}}$, supondremos $(aa+xx)^{\frac{1}{2}} = A + Bx + Cx^2 + Dx^3 + \&c.$ (no se supone igual á $A + Bx + Cxx + \&c.$ porque el término con x del 2º miembro sin homólogo en el 1º, hubiera embarazado la operación). Cuadrese pues, la anterior equacion, y resultará.....

$$aa + xx = \begin{cases} AA + 2ABx + B^2x^2 + 2ADx^3 + \&c. \\ -2ACx^4 + 2BCx^5 + \&c. \end{cases}$$

de donde se saca $aa = AA$ y $A = a$, $B = \frac{1}{2a}$, $C = \frac{1}{8a^3}$, $D = \frac{1}{16a^5} \&c.$ Luego $\sqrt{aa+xx} = A + Bx + Cx^2 + Dx^3 + \&c. = a + \frac{1}{2} \frac{x}{a} + \frac{1}{8} \frac{x^2}{a^3} + \frac{1}{16} \frac{x^3}{a^5} + \&c. = a + \dots$

$$\frac{xx}{2a} + \frac{x^4}{8a^3} + \frac{x^6}{16a^5} + \&c.$$

446 *El sumar las series es la operacion mas dificil que se hace con ellas, y viene á reducirse á sumar algunas generales que sirven de fórmulas por las que se suman las demas que pueden reducirse á ellas. Nosotros nos ceñiremos á los casos mas precisos*

1º Sea $\frac{a}{b} : \frac{a}{bq} : \frac{a}{bq^2} : \frac{a}{bq^3} : \frac{a}{bq^4} : \dots : \frac{a}{bq^\infty}$ una

progresion general geométrica decresciente al

infinito. Si se coloca así $\frac{a}{bq^\infty} : \frac{a}{bq^4} : \frac{a}{bq^3} : \frac{a}{bq^2}$

$\frac{a}{bq} : \frac{a}{b}$; la habremos hecho crescente, y su

suma será (202t.I.) despreciando el término

$\frac{a}{bq^\infty}$ que es infinitamente pequeño (442),

$S = \frac{aq}{bq-b}$: fórmula por la que se podrá su-

mar qualquier progresion geométrica decresciente al infinito.

Sumemos por ella la fracción decimal 0,3333 &c. que sabemos equivale á $\frac{1}{3}$, y viene á ser $\frac{3}{10} : \frac{3}{100} : \frac{3}{1000} : \dots : \frac{3}{10^\infty}$: si la hacemos

crescente escribiéndola así, $\frac{3}{10^\infty} : \dots : \frac{3}{1000} : \frac{3}{100} : \frac{3}{10}$;

será $a=3$, $b=10$, $q=10$, y $S = \frac{30}{99} = \frac{1}{3}$.

De consiguiente la suma de 0,99999 &c. será 1 como lo dá tambien la fórmula.

Para averiguar en quebrado comun el valor de la decimal 0,181818 &c. ó la suma de la progresion á que equivale; haremos $a=18$, $b=100$, $q=100$, y será $S = \frac{1800}{99} = \frac{2}{11}$. Tambien encontraremos que la fracción periódica 0,14285714285714 &c. vale $\frac{1}{7}$, sustituyendo en la fórmula, 142857 en lugar de a , 100000 en lugar de b y q .

447 2º Para sumar una serie $\frac{a}{b} ; \frac{a+d}{bq} ;$

$\frac{a+2d}{bq^2} ; \frac{a+3d}{bq^3}$ &c. cuyos numeradores están

en progresion aritmética y los denominadores en progresion geométrica; se reducirá á esta

forma $\frac{a}{b} ; \frac{a}{bq} + \frac{d}{bq} ; \frac{a}{bqq} + \frac{d}{bqq} + \frac{d}{bqq} ; \frac{a}{bq^3} +$

$\frac{d}{bq^3} + \frac{d}{bq^3} + \frac{d}{bq^3}$ &c. de donde se sacarán las

siguientes series que son otras tantas progresiones geométricas.

$\frac{a}{b} : \frac{a}{bq} : \frac{a}{bqq} : \frac{a}{bq^3}$ &c. cuya suma es $\frac{aq}{bq-b}$

$\frac{d}{bq} : \frac{d}{bqq} : \frac{d}{bq^3}$ &c. su suma..... $\frac{d}{bq-b}$

$\frac{d}{bqq} : \frac{d}{bq^3}$ &c. su suma..... $\frac{d}{bqq-bq}$

$\frac{d}{bq^3}$ &c. su suma..... $\frac{d}{bq^3-bq^2}$

Y pues que estas sumas excepto la primera,

forman la progresion $\frac{d}{bq-b} ; \frac{d}{bqq-bq} ; \dots$

$\frac{d}{q^3 - bq^2}$ &c. cuya suma es $\frac{dq}{bq^2 - 2bq + b}$: si à esta se añade la primera $\frac{aq}{bq - b}$; se tendrá.....

$\frac{aaq - aq + dq}{bqq - 2bq + b}$ por la suma de la série propuesta.

448 3.º Encontremos generalmente la suma de qualquier número de términos de una progresion qualquiera de las potencias de los números naturales 1, 2, 3, 4 &c. Represente la progresion aritmética $a. b. c. d. t.$ una série qualquiera de estos números: y pues que $t = d + 1$, $d = c + 1$, $c = b + 1$, $b = a + 1$; será elevando estas equaciones à una potencia qualquiera m

$$1^\circ t^m = d^m + m d^{m-1} + \frac{m(m-1)}{2} d^{m-2} + \frac{m(m-1)(m-2)}{2 \times 3} d^{m-3} + \&c.$$

$$2^\circ d^m = c^m + m c^{m-1} + \frac{m(m-1)}{2} c^{m-2} + \frac{m(m-1)(m-2)}{2 \times 3} c^{m-3} + \&c.$$

$$3^\circ c^m = b^m + m b^{m-1} + \frac{m(m-1)}{2} b^{m-2} + \frac{m(m-1)(m-2)}{2 \times 3} b^{m-3} + \&c.$$

$$4^\circ b^m = a^m + m a^{m-1} + \frac{m(m-1)}{2} a^{m-2} + \frac{m(m-1)(m-2)}{2 \times 3} a^{m-3} + \&c.$$

Sumo todas estas potencias y tendré reduciendo, $t^m = a^m + m(a^{m-1} + c^{m-1} + b^{m-1} + d^{m-1}) + \frac{1}{2}(m \times m - 1)(d^{m-2} + c^{m-2} + b^{m-2} + a^{m-2}) + \dots$
 $\frac{m(m-1)(m-2)}{2 \times 3}(d^{m-3} + c^{m-3} + b^{m-3} + a^{m-3}) + \&c.$

Si suponemos ahora sm igual à la suma de las potencias $m - 1$, de a, b, c, d, t ; será...

$s^{m-1} - t^{m-1} = a^{m-1} + b^{m-1} + c^{m-1} + d^{m-2}$, y $s^{m-1} - t^{m-1} = a^{m-2} + b^{m-2} + c^{m-2} + d^{m-2}$ &c. y la suma anterior se reducirá finalmente à $t^m = a^m + \dots$
 $m(s^{m-1} - t^{m-1}) + \frac{1}{2}(m \times m - 1)(s^{m-2} - t^{m-2}) + \dots$
 $\frac{m(m-1)(m-2)}{2 \times 3}(s^{m-3} - t^{m-3}) + \&c.$ espresion general que se busca.

Siendo $m = 1$, resulta $t = a + s^\circ - t^\circ$ ó $s^\circ = t - a + 1$, suma de una série de potencias cero: en $= 3^\circ. 4^\circ. 5^\circ. 6^\circ$ por egemplo, $s^\circ = t - a + 1 = 6 - 3 + 1 = 4$. Si $m = 2$ se reduce la fórmula à $t^2 = aa + 2s - 2t + s^\circ - t^\circ = aa + 2s - t - a$, poniendo en lugar de $s^\circ - t^\circ, t - a$ sacado de la suposicion anterior: luego $s = \frac{1}{2}(tt - aa + t - a) = \frac{1}{2}t(t - 1) + \frac{1}{2}a(1 - a)$: de suerte que la suma de $= 8. 9. 10. 11. 12. 13$ es $s = 13 \times 7 + 4 \times -7 = 63$.

Suponiendo $m = 3$, resulta $t^3 = a^3 + 3(ss - tt) + 3(s - t) + s^\circ - t^\circ = a^3 + 3ss - 3tt + 3s - 2t - a$: sustituyase el valor de s , y se tendrá trasponiendo, $ss = \frac{1}{2}t^3 + \frac{1}{2}tt + \frac{1}{6}t - \frac{1}{3}a^3 + \frac{1}{2}aa - \frac{1}{6}a = \frac{1}{6}t(2tt + 3t - 1) - \frac{1}{6}a(2aa - 3a + 1)$. En la série de los cuadrados $= 2^2. 3^2. 4^2. 5^2. 6^2$ se tiene $ss = 90$. Haciendo $m = 4$, y poniendo en el resultado los valores hallados de s, ss , sale $s^3 = \frac{1}{4}t^4 + \frac{1}{2}t^3 + \frac{1}{4}tt - \frac{1}{4}a^4 + \frac{1}{2}a^3 - \frac{1}{4}aa = \frac{1}{4}t(tt + 2t + 1) - \frac{1}{4}a(aa - 2a + 1)$: y así de las demas.

449 Si suponemos infinito el número de términos, será el último $t = \infty$, y entonces...

∞^{m-1}, ∞^m &c. se desvanecerán en la fórmula como infinitamente pequeños respecto de ∞^m ; y lo mismo s^{m-2}, s^{m-3} &c. respecto de s^{m-1} ; luego dicha fórmula quedará reducida á $\infty^m = ms^{m-1}$, y $s^{m-1} = \frac{\infty^m}{m}$, ó suponiendo

$m-1=n, s^n = \frac{\infty^{n+1}}{n+1}$: es decir, la suma de las potencias n de una infinidad de términos de los números naturales es el producto de la potencia ∞^m del último término multiplicado por el número de términos, y partido por $n+1$. Con la misma facilidad se sacaría la suma de las potencias de qualquier número de términos finito ó infinito de una progresion aritmética qualquiera, suponiendo r la diferencia y haciendo $t=d+r, d=c+r$ &c. y como el esponente n puede representar aun las potencias fraccionarias, quedará el problema completamente resuelto.

450 Se llama *término general de una serie* la espresion de n número de términos, por la que se forman todos los de la serie substituyendo por n los números 1, 2, 3 &c.: n^2 por egemplo, es el término general de la serie 1, 4, 9, 16, 25 &c. cuyos términos resultan suponiendo $n=1, n=2$ &c. y *suma general de una serie* la espresion que da generalmente la suma de un número qualquiera n de términos. Tal es $\frac{1}{3}n^3 + \frac{1}{2}nm + \frac{1}{6}n$ suma de

la serie de los cuadrados 1, 4, 9, 16 &c. cuyo término general es nm : en la qual si en lugar de n se pone 6, salen 91 que suman los seis primeros términos,

451 Si en la suma general (S) se pone $n-1$ en lugar de n , resultará la suma (s) de los términos hasta $n-1$ inclusive, o de todos ménos el último que es el general: de consiguiente si esta suma se resta de la primera, se tendrá el término general (T), que es siempre $S-s$. Si $S = \frac{1}{2}(nm+n)$, será poniendo $n-1$ en lugar de $n, s = \frac{1}{2}(m(n-1))$, y $S-s = T = n$. Si $S = \frac{aq^n - a}{q-1}$, será $S-s = T = aq^{n-1}$. Pero dado el término general T no es tan facil encontrar la suma. Contentemonos con la resolucion siguiente que se estiende á innumerables casos.

452 Sea $T = an^{m-1} + bn^{m-2} + cn^{m-3} + \dots + r$, y hayase de encontrar la suma S de su serie. Si hacemos $S = An^{m+1} + Bn^m + Cn^{m-1} + Dn^{m-2} + \dots + R$, y substituimos $n-1$ en lugar de n , tendremos $s = A(n-1)^{m+1} + B(n-1)^m + C(n-1)^{m-1} + D(n-1)^{m-2} + \dots$

$$An^{m+1} - A(m+1)n^m + \frac{1}{2}Am(m+1)n^{m-1} - \frac{A(m+1)m(m-1)}{2 \times 3}n^{m-2} + \dots$$

$$+ Bn^m - Bm \times n^{m-1} - \frac{1}{2}Bm(m-1)n^{m-2} + \dots$$

$$+ Cn^{m-1} - C(m-1)n^{m-2} + \dots$$

$$+ Dn^{m-2} + \dots$$

luego $S-s = T = an^{m-1} + bn^{m-2} + cn^{m-3} + \dots + r =$

$$A(m+1)n^m - \frac{1}{2}A(m+1)ma^{m-1} + \frac{A(m+1)^m(m-1)}{2 \times 3} n^{m-2} \&c.$$

$$+ B \times m \times n^{m-1} - \frac{1}{2}B(m-1)mn^{m-2} + \&c.$$

$$- C(m-1)n^{m-2} \&c.$$

Comparense los términos homólogos, y se

tendrá $A = \frac{a}{m+1}$, $B = \frac{a}{2} + \frac{b}{m}$, $C = \frac{c}{m-1} + \frac{b}{2} + \frac{am}{12}$ &c: de consiguiente $S = An^{m+1} +$

$$Bn^{m+1} \&c. = \frac{a}{n+1} n^{m+1} + \left(\frac{b}{m} + \frac{a}{2} \right) n^m + \left(\frac{c}{m-1} + \frac{b}{2} + \frac{am}{12} \right) n^{m-1} + \&c.$$

Si se pidiese la suma de la serie 1.2.3.4.5.....n, cuyo término general es n; se hará m=1, a=1, b=0, c=0 &c. y será $S = \frac{1}{2}n + \frac{1}{2}n = \frac{1}{2}(n + n)$. La de la serie 1.4.9.16.....nm, donde T=nm, da m=2, a=1, b=0, c=0 &c. y $S = \frac{1}{3}n^3 + \frac{1}{2}nm + \frac{1}{6}n$. Ultimamente, si T=n^m como sucede en la fórmula 1^m. 2^m.3^m.4^m.....n^m; será m=m, a=1, b=0, c=0 &c. y $S = \frac{1}{m+1} n^{m+1} + \frac{1}{2}n^m + \frac{m}{12} n^{m-1} + \&c.$ y suponiendo n=∞ y positivo, será despreciando n^m, n^{m-1} &c. (442), $S = \frac{n^{m+1}}{m+1}$.

453 Quando se da una equación $x = az^m + bz^{m+n} + cz^{m+2n} + dz^{m+3n} + \&c.$ y se pide expresar en términos de x el valor de z;

acudimos al que se llama *método inverso*, retorno ó regreso de las series. Consideremos 1º que m=1, y n=1, ó que sea x=az + bzz + cz³ + dz⁴ + &c. y que se pida en x el valor de z. Si suponemos z=Ax + Bxx + Cx³ + Dx⁴ + &c. será.....

$$z = AAx + 2ABx^3 + BBx^4 + \&c.$$

$$+ 2ACx^4 + \&c.$$

$$z^3 = A^3x^3 + 3AABx^4 + \&c.$$

$$z^4 = A^4x^4 + \&c.$$

$$y x = \begin{cases} az = Aax + aBxx + aCx^3 + aDx^4 + \&c. \\ bzz = AABxx + 2ABbx^3 + B^2bx^4 + \&c. \\ \quad \quad \quad + 2ACbx^4 + \&c. \\ cz^3 = A^3cx^3 + 3AABcx^4 + \&c. \\ dz^4 = A^4dx^4 + \&c. \end{cases}$$

luego $x = Aax$, y $A = \frac{1}{a}$: $aB + AAb = 0$, ó

$$B = -\frac{b}{a^3}$$
: $aC + 2aBb + A^3c = 0$, y $C = \frac{2bb-ac}{a^5}$, y así de los demas. Pónganse estos valores en $z = Ax + Bxx + Cx^3 + Dx^4$ &c. y resultará

$$z = \frac{1}{a}x - \frac{b}{a^3}xx + \frac{2bb-ac}{a^5}x^3 + \left(\frac{5abc-aad+5b^3}{a^7} \right) x^4 + \left(\frac{1aab^4-21abbc+5aabd+3aacc-a^3c}{a^9} \right) x^5 + \dots$$

+ &c fórmula por la que podremos expresar una serie de potencias de z en otra compuesta de las mismas potencias de x.

Sea por ejemplo, $x = z - z^2 + z^3 - z^4 + z^5 - \&c.$ tendremos $a = 1$, $b = -1$, $c = 1$, $d = -1$, $e = 1$ &c. y sustituyendo estos valores, será $z = x + xx + x^3 + x^4 + x^5 + \&c.$ Si fuese $x = z + \frac{1}{2}zz + \frac{1}{8}z^3 + \frac{1}{4}z^4 + \frac{1}{5}z^5 + \&c.$ por ser $a = 1$, $b = \frac{1}{2}$, $c = \frac{1}{8}$, $d = \frac{1}{4}$, $e = \frac{1}{5}$ &c. será $z = x - \frac{1}{2}xx + \frac{1}{8}x^3 - \frac{1}{24}x^4 + \frac{1}{120}x^5 - \&c.$ Últimamente, siendo $z = \frac{x}{a} - \frac{xx}{2aa} + \frac{x^3}{3a^3} - \frac{x^4}{4a^4} + \frac{x^5}{5a^5} - \&c.$ será $\frac{x}{a} = z + \frac{1}{2}zz + \frac{1}{8}z^3 + \frac{1}{4}z^4 + \frac{1}{5}z^5 + \&c.$

Supongamos 2º que $m = 1$, y $n = 2$, de que resulta la série $x = az + bz^3 + cz^5 + dz^7 + \&c.$ de potencias impares: buscaremos una fórmula para este caso, haciendo $z = Ax + Bx^3 + Cx^5 + Dx^7 + \&c.$ pues será.....

$$\begin{aligned} z^2 &= A^3x^3 + 3AABx^5 + 3AACx^7 + \&c. \\ &\quad + 3ABBx^7 + \&c. \\ z^5 &= A^5x^5 + 5A^4Bx^7 + \&c. \\ z^7 &= A^7x^7 + \&c. \end{aligned}$$

$$\text{luego } x = \begin{cases} az = Aax + vBx^3 + aCx^5 + aDx^7 + \&c. \\ bz^3 = A^3bx^3 + 3AABbx^5 + 3AACbx^7 + \&c. \\ \quad + 3ABBbx^7 + \&c. \\ cz^5 = A^5cx^5 + 5A^4Bcx^7 + \&c. \\ dz^7 = A^7dx^7 + \&c. \end{cases}$$

De donde se sacará $x = aAx$, ó $A = \frac{1}{a}$:

$$aB + A^3b = 0 \text{ y } B = -\frac{b}{a^4}; C = \frac{3bb-ac}{a^7}, D = \frac{8abc - aad - 12b^3}{a^{10}} \&c. \text{ de modo que la fórmula}$$

por la que podremos expresar en x cualesquiera potencias impares de z , será $z = \frac{1}{a}x - \frac{b}{a^4}x^3 + \left(\frac{3bb-ac}{a^7}\right)x^5 + \left(\frac{8abc-ad-12b^3}{a^{10}}\right)x^7 + \&c.$

Para expresar en x los valores de z en la equacion $x = z - \frac{z^3}{2 \cdot 3 \cdot t^t} + \frac{z^5}{2 \cdot 3 \cdot 4 \cdot 5 \cdot t^4} -$

$$\begin{aligned} &\frac{z^7}{2 \cdot 3 \cdot 4 \cdot 5 \cdot 6 \cdot 7 \cdot t^6} + \&c. \text{ haremos } a = 1, b = - \\ &\frac{1}{2 \cdot 3 \cdot t^t} c = \frac{1}{2 \cdot 3 \cdot 4 \cdot 5 \cdot t^4}, d = \frac{1}{2 \cdot 3 \cdot 4 \cdot 5 \cdot 6 \cdot 7 \cdot t^6} \\ &\&c. \text{ y se tendrá } z = x + \frac{1}{2 \cdot 3 \cdot t^t} x^3 + \left(\frac{1}{3 \cdot 4 \cdot t^4} \right. \\ &\left. - \frac{1}{2 \cdot 3 \cdot 4 \cdot 5 \cdot t^4} \right) x^5 + \&c. = x + \frac{1}{2 \cdot 3 \cdot t^t} x^3 + \\ &\frac{3}{2 \cdot 4 \cdot 5 \cdot t^4} x^5 + \frac{3 \cdot 5}{2 \cdot 4 \cdot 6 \cdot 7 \cdot t^6} x^7 + \&c. \end{aligned}$$

Consideraciones generales sobre los Logaritmos, algunos de sus usos, y modo de sacarlos por las series.

454 Para generalizar mas las ideas que dimos (208 t.I.) de los logaritmos, supongamos que sea a un número mayor que 1, x la potencia à que se ha de elevar para que iguale à b , de modo que $a^x = b$; será (209 t.I.) el esponente x el logaritmo de b , ó $x = \lg b$ (l significa *logaritmo*.) La cantidad a se llama base, y segun varíe su valor, varía el sistema de logaritmos. Juan Népero su inventor usó del mas sencillo en que $a = 10$, del que resultan los logaritmos hiperbólicos (417): este y el de las tablas, en el que se hizo $a = 10$, son los usados; pero en todos es $1 = 0$: pues si en $a^x = b$, suponemos $b = 1$; será $a^x = 1$, y de consiguiente $x = 0$ (92 t.I.): y pues que $1^1 = 1$, $1^2 = 2$, $1^3 = 3$ &c. conocerémos el número que se ha tomado por base, viendo cuál es el que tiene por logaritmo 1.

455 En qualquier sistema de logaritmos, se tiene $\lg ab = \lg a + \lg b - 1$; por ser

$1 : a :: b : \frac{ab}{1}$, y por lo que enseñamos (213 t.I.):

$\lg abc = \lg a + \lg b + \lg c - 2$; porque $1 : \frac{ab}{1} :: c : \frac{abc}{1 \times 1}$:

$$\lg abcd = \lg a + \lg b + \lg c + \lg d - 3 = \lg a + \lg a - 1 = 2 \lg a - 1$$

$$: \lg a^3 = 3 \lg a - 2 = 1, \text{ y } \lg a^n = n \lg a - (n-1) = 1$$

$$: 1 \sqrt[m]{a} = \lg a^n = \frac{1}{m} \lg a - \left(\frac{1}{m} - 1 \right) = \frac{\lg a + (m-1)}{m}$$

$$: 1 \sqrt[3]{a} = \frac{1}{3} (\lg a + 2) = 1$$

En el quebrado $\frac{a}{b} = \frac{a}{b} \times 1$, donde $b : a :: 1 : \frac{a}{b}$, se tendrá $1 \frac{a}{b} = \lg a - \lg b : 1 \frac{b^3}{ac} = \lg a + 3 \lg b - \lg c = 3 \lg b - \lg c$, poniendo $3 \lg b - 2$ en lugar de $3 \lg b - \lg c$, y reduciendo despues.

456 En el sistema comun de los logaritmos de las tablas, en el que $1 = 0$, son mas sencillas estas espresiones por reducirse à cero los términos en que entra 1: y así $\lg ab = \lg a + \lg b$:

$$\lg a^3 = 3 \lg a, \lg a^m = m \lg a : 1 \frac{a}{b} = \lg a - \lg b : 1 \frac{a^3}{b^2 c} = 3 \lg a - 2 \lg b - \lg c : 1 \sqrt[n]{c^2} = \lg c^n = \frac{2}{n} \lg c : 1 \frac{\sqrt{aa - xx}}{(a+x)^2} = \dots$$

$\frac{1}{2} \lg(a-x) - \frac{1}{2} \lg(a+x)$: y últimamente $13aa + 1a^4 + 513 = 613a = 13a^6$. Y para manifestar cuánto facilitan estas espresiones los cálculos mas complicados, vamos à aplicarlas à algunas ecuaciones y problemas.

457 1º Si se diese para resolver la equation $ax = b$; haríamos $x \lg a = \lg b$, y $x = \frac{\lg b}{\lg a}$: en

$$\frac{a^{mx}}{b^{nx-1}} = c \text{ será } m \lg a - (1 - nx) \lg b = \lg c, m \lg a -$$

$$nxb = lc - lb, \text{ y } x = \frac{lc - lb}{ma - nb} = \frac{1 \frac{c}{b}}{a^m} : \text{ Sea.}$$

$$ax = \frac{b^{mx+n}}{c^q x}, \text{ tendremos } xla = mxlb + nlb -$$

$$qxc, \text{ y } x = \frac{nlb}{la - ml + qlc}. \text{ Ultimamente, si se}$$

$$\text{diese } \frac{b^n \cdot x}{c^{mx}} = f^{x-p}; \text{ sería } nlb - \frac{a}{x} lb - mxlc =$$

$$xlf - plf, \text{ y } (mlc + lf)xx - (nlb + plf)x = -alb,$$

$$\text{ó } xxlcmf - xlb^nf = -xlb^a : \text{ de donde se saca}$$

$$(249 \text{ t.I.}) x = \frac{1b^n f^p}{alc^m f} = \sqrt{\left(\frac{(1b^n f^p)^2}{4(1c^m f)^2} - \frac{1b^a}{1c^m f} \right)}$$

2º Si 100000 personas aumentan en una provincia de $\frac{1}{30}$ cada año ¿ cuántas habrá al cabo de un siglo? Si 100000 = n, habrá al fin del 1.º año $n + \frac{1}{30}n$ ó $n(1 + \frac{1}{30}) = n(\frac{31}{30})$: al fin del

2º año habrá $n(\frac{31}{30})^2$, al fin del 3º $n(\frac{31}{30})^3$ y al fin del siglo $n(\frac{31}{30})^{100}$. Luego deberá ser $(\frac{31}{30})^{100} \times 100000 = x$, el número de habitantes: tendré pues,

$$100 \frac{31}{30} = 131 - 130 = 0,014240439; \text{ será } 100 \frac{31}{30} = 1,4240439 : \text{ súmese con } 100000 =$$

$$5,000000, \text{ y compundrá } 6,4240439 = lx \text{ que corresponde al número } 2654874, \text{ valor de } x, \text{ y número de habitantes que se busca.}$$

Para averiguar en qué razon debió au-

mentarse el género humano cada año por los tres hijos de Noe y sus mugeres, para que á los 200 años hubiese un millon de personas: supongo que cada año se aumentasen de.....

$$\frac{1}{x}; \text{ sería } \left(\frac{1+x}{x} \right)^{200} \times 6 \text{ el número de perso-}$$

nas que debería haber á los 200 años, y de consiguiente $\left(\frac{1+x}{x} \right)^{200} \times 6 = 1000000, \frac{1+x}{x} =$

$$\left(\frac{1000000}{6} \right)^{\frac{1}{200}}, \text{ y por los logarítmos.... } 1 \frac{1+x}{x} =$$

$$\frac{1}{200} \log \frac{1000000}{6} = \frac{1}{200} \times 5,2218487 = 0,0261092.$$

El número que corresponde á este logarítmo és $\frac{1061963}{1000000}$: luego $\frac{1+x}{x} = \frac{1061963}{1000000}$; y $x = 16$ poco

ménos: de suerte que el aumento $\frac{1}{x}$ cada año debería haber sido de $\frac{1}{16}$.

¿ Quanto debería aumentarse un pueblo cada año para ser al fin de cada siglo dos veces mas numeroso? Siendo n el número de sus habitantes y $\frac{1}{x}$ la razon en que se aument;

habria al fin de un siglo $\left(\frac{1+x}{x} \right)^{100} \times n$, y pues que este número ha de ser 2n; será....

$$\left(\frac{1+x}{x} \right)^{100} \times n = 2n \text{ y } \frac{1+x}{x} = 2^{\frac{1}{100}} : \text{ luego}$$

$$1 \frac{1+x}{x} = \frac{1}{100} \log 2 = 0,0030103 : \text{ con que } \frac{1+x}{x} = \dots$$

$\frac{10069555}{10000000}$, y $x = 144$: tendrían pues que aumentarse en $\frac{1}{144}$ cada año.

Para saber quantos años se necesitan para que n de personas sea diez veces mayor, aumentándose cada año de $\frac{1}{100}$ haciendo x el número de años, sería $n \left(\frac{101}{100}\right)^x = 10n$, ó $\left(\frac{101}{100}\right)^x = 10$, y se sacará $x = \frac{110}{1101-1100} = \dots$

$\frac{10000000}{43214} = 231$. En estos problemas sacados de la *Introduccion al Analisis de los infinitos*, una de las mejores producciones del célebre *Leonardo Eulero*, se han tomado los logaritmos de tablas que tienen diez decimales, como las excelentes de *Ulaq*.

458 Tratemos ya de sacar el logaritmo de un número qualquiera, por un método mas espedito que el que esplicamos (211 t. I.) Supongámosle $1+x$, y que $(1+x)^m$ sea igual à otro número $1+z$; será $1+z = (1+x)^m$, y $z = mx + \frac{1}{2}m(m-1)vx + \frac{m(m-1)(m-2)}{2 \cdot 3}x^3 + \&c.$ Sea...

$l(1+x) = Ax + Bxx + Cx^3 + Dx^4 + \&c.$ y $l(1+z) = Az + Bzz + Cz^2 + Dz^4$; tendremos $l(1+z) = l(1+x)^m = ml(1+x) = (mAx + mBxx + mCx^3 + \&c.) = (Az + Bzz + Cz^2 + Dz^4 + \&c.)$: pongase en este último miembro el valor de z que sacamos ántes, y se reducirá la equacion à esta....

$mAx + mBxx + mCx^3 + mDx^4 + \&c.$

$$= \left\{ \begin{array}{l} mAx + \frac{1}{2}m(m-1)Axx + \frac{m(m-1)(m-2)}{2 \cdot 3}Ax^3 + \&c. \\ + mmBxx + mm(m-1)Bx^3 + \&c. \\ + m^3Cx^3 + \&c. \end{array} \right.$$

en donde reduciendo y comparando los términos homólogos, resulta $A - A = 0$, $B = \frac{1}{2}A$, $C = \frac{1}{3}A$, $D = \frac{1}{4}A$ &c. luego $l(1+x) = A \left(x - \frac{1}{2}xx + \frac{1}{3}x^3 - \frac{1}{4}x^4 + \frac{1}{5}x^5 + \&c. \right)$ Aquí se ve que à $1+x$ corresponderán diferentes logaritmos segun los diferentes valores que se den à la indeterminada A que se llama *módulo*: pero haciendo $x=0$, siempre se tiene $l(1+0) = 0$, como lo digimos (454). De la suposicion $A=1$, resultan los logaritmos hiperbólicos, que por mas sencillos, se llaman *naturales*: y como por ellos se pueden sacar los de los demas sistemas, multiplicándolos por el módulo correspondiente A , hablaremos de los hiperbólicos.

Y por quanto la série sacada para el $l(1+x)$ es poco convergente, aun quando x es un número pequeño; sacaremos para darla una forma mas ventajosa, el $l(1-x) = -x - \frac{1}{2}xx - \frac{1}{3}x^3 - \frac{1}{4}x^4 - \&c.$ y será $l(1+x) = l(1-x) = l \frac{1+x}{1-x} = 2 \left(x + \frac{1}{3}x^3 + \frac{1}{5}x^5 + \frac{1}{7}x^7 + \&c. \right)$ série por la que se sacará el logaritmo hiperbólico de un número qualquiera mayor

que 1, y que será muy convergente: pues igualando el número á $\frac{1+x}{1-x}$, siempre x será menor que 1. Para sacar por egemplo, el logarítmico de 2, haremos $2 = \frac{1+x}{1-x}$, y será.....

$$x = \frac{1}{3}; \text{ luego } \ln 2 = 2 \left(\frac{1}{3} + \frac{1}{3 \cdot 3^3} + \frac{1}{5 \cdot 3^5} + \frac{1}{7 \cdot 3^7} + \&c. \right) = 0,6931458. \text{ Del mismo mo-}$$

do hubieramos sacado $\ln 10 = 2,30258409$. El duplo del logarítmico de 2 es el de 4, el triplo el de 8: la suma de los de 2 y 3 será logarítmico de 6: la mitad del de 10 será el de 5, y así de los demas que se sacarán facilísimamente calculados los de los números primos.

459 Siendo 2,30258509 el logarítmico hiperbólico de 10, y el de las tablas 1; tendremos $1 = A \times 2,30258509$: de consiguiente $A = \frac{1}{2,30258509} = 0,43429448$, valor del módulo de los logaritmos de las tablas, por el que se deben multiplicar para reducirlos á hiperbólicos: y estos al contrario, se reducirán á los de las tablas, partiéndolos por.... 0,43429448.

460 Si dado un logarítmico, se nos pidiese el número que le corresponde: suponiendo z el logarítmico dado, y $1+x$ el número que se

Busca; será $(458)z = -x \frac{1}{2}xx + \frac{1}{3}x^3 - \frac{1}{4}x^4 + \frac{1}{5}x^5 - \&c.$ Para averiguar ahora el valor de x en z (453), sea $x = Az + Bzz + Cz^3 + Dz^4 - \&c.$ y será....

$$z = \begin{cases} Az + Bzz + Cz^3 + Dz^4 - \&c. \\ -\frac{1}{2}AAzz - ABz^3 - \frac{1}{2}BBz^4 - \&c. \\ -ACz^4 - \&c. \\ -\frac{1}{3}A^3z^3 + AABz^4 - \&c. \\ -\frac{1}{4}A^4z^4 - \&c. \end{cases}$$

De donde se saca $A = 1, B = \frac{1}{2}, C = \frac{1}{6}, D = \frac{1}{24}$, &c. luego $x = z + \frac{zz}{2} + \frac{z^3}{2 \cdot 3} + \frac{z^4}{2 \cdot 3 \cdot 4} + \frac{z^5}{2 \cdot 3 \cdot 4 \cdot 5} + \&c.$ y finalmente $1 + x = 1 + z + \frac{zz}{2} + \frac{z^3}{2 \cdot 3} + \frac{z^4}{2 \cdot 3 \cdot 4} + \&c.$ En general, un número qualquiera $n = 1 + \ln + \frac{(\ln)^2}{2} + \frac{(\ln)^3}{2 \cdot 3} + \dots + \frac{(\ln)^4}{2 \cdot 3 \cdot 4} + \&c.$ serie que siempre es convergente,

y de consiguiente que resuelve la cuestion. Apliquemosla á encontrar la base de los logaritmos hiperbólicos, de que se usa mucho en el cálculo integral: y pues su logarítmico es 1, tendremos $n = 1 + 1 + \frac{1}{2} + \frac{1}{2 \cdot 3} + \frac{1}{2 \cdot 3 \cdot 4} + \frac{1}{2 \cdot 3 \cdot 4 \cdot 5} = 2,71828183$. Advertase que el logarítmico dado se reduce á hiperbólico antes de la operación, quando no lo es.

CALCULO DIFERENCIAL

461 Supuesto que debe haber igual razón entre las cantidades variables y los aumentos ó decrementos semejantes que les sobrevengan; es evidente que si por medio de estos conseguimos determinar dicha relacion entre las cantidades, quedará ésta determinada aunque reduzcamos á cero ó hagamos desvanecer los tales elementos, como que son partes infinitamente pequeñas de las cantidades. Este arbitrio para descubrir las cantidades por medio de sus elementos, es el objeto del *cálculo diferencial*, como veremos mas claramente por los egemplos, despues que hayamos enseñado á espresar algébricamente los elementos de toda clase de cantidades, que por el modo con que se sacan, se llaman *diferenciales*, y que se representan con la letra *d* puesta al lado de la cantidad cuyas partes significa. Pero no se debe confundir este cálculo con el de las *diferencias finitas* de las cantidades variables que hace con ellas las mismas operaciones que el diferencial é integral con las *diferencias infinitamente pequeñas*.

Si las cantidades variables *x*, *y* crecen en un instante de una parte infinitamente pequeña *dx*, *dy*; vendrán á ser $x+dx$, $y+dy$,

y la diferencia entre lo que son ahora y lo que ántes eran, será $x+y+dx+dy-x-y=dx+dy$: estas son las *diferenciales* de *x*, *y* que se sacarán de *qualesquiera cantidades sumadas ó restadas juntando á cada variable la letra característica d*, que se pone despues del coeficiente si le hubiese: pues si $3x$ crece de $3dx$, será su diferencial $3x+3dx-3x=3dx$: la de $ay-z$ es $ady-dz$, y la de $2cx+ab-\frac{my}{n}$ es $2cdx+\frac{m dy}{n}$. En *ab* y en qualquier otra cantidad constante es cero la diferencial; pues no crece ni mengua su valor. Hemos supuesto y supondremos en lo sucesivo, que las variables crezcan y vengán á ser $x+dx$, $y+dy$; pero llévese entendido que si menguan; serán $x-dx$, $y-dy$, y sus diferenciales $-dx-dy$: y si creciendo *x* decrece *y*, serán dichas diferenciales $dx-dy$.

462 Para diferenciar xz , multiplicaremos estas cantidades aumentadas $(x+dx) \times (z+dz)$ y restando xz del producto $xz+xdz+zdx+dx dz$; quedará $zdx+xdz+dz dx$ por diferencial de xz : que se reduce á $zdx+xdz$, despreciando el infinitamente pequeño de 2º orden $dx dz$ respecto de zdx y xdz que lo son de 1º (442): luego en las *cantidades multiplicadas se diferencia cada variable considerando á las otras como constantes*. Y así la diferencial de xyz será $xydz+xzdy+yzdx$, dife-

renciando primero como si xy fuesen constantes, despues como si lo fuesen xz , y por último como si lo fuesen yz : y la de $\frac{b}{a}xz - \frac{b}{a}yz$, ó $d(\frac{b}{a}xz - \frac{b}{a}yz) = \frac{b}{a}xdz - \frac{b}{a}ydz - \frac{b}{a}zdy$. Para no equivocarse, conviene escribir la última la variable que se diferencia.

463 Por esta misma regla será la diferencial de x^3 , $3x^2 dx$: la de x^4 , $4x^3 dx$, y en general la de x^m , $mx^{m-1} dx$: luego una cantidad variable elevada á qualquier potencia se diferencia multiplicando por el espone de la potencia la cantidad disminuido su espone de 1, y por la diferencia de la variable, de manera que la diferencial de ax^5 ó $d(ax^5)$ será $5ax^4 dx$: $d(z^{-2}) = -2z^{-3} dz$: $d(x^{\frac{3}{5}}) = \frac{3}{5}x^{-\frac{2}{5}} dx$: $d(y^{\frac{2}{8}}) = \frac{2}{8}y^{-\frac{6}{8}} dy$. La diferencial de $ax^3 z^2$, considerando á $x^3 z^2$ como dos variables simples, es $ax^3 (d(z^2) + az^2 d(x^3)) = 2ax^3 z dz + 3az^2 x^2 dx$: en general, $d(ax^m z^n) = ax^m (d(z^n) + az^n d(x^m)) = \dots$
 $nax^m z^{n-1} dz + maz^n x^{m-1} dx$.

464 Si el quebrado $\frac{x}{z}$ se escribe así xz^{-1} (93 t. I.), será su diferencial $z^{-1} dx - xz^{-2} dz = \frac{dx}{z} - \frac{x dz}{z^2} = \frac{z dx - x dz}{z^2}$ luego si se multiplica la

diferencial del numerador de un quebrado variable por el denominador, y la de este por el numerador, y restando este producto del primero, se divide el residuo por el cuadrado del denominador; se tendrá la diferencial del

quebrado. Y así $d\left(\frac{3z^2 - a}{bx}\right) = \dots\dots\dots$

$$\frac{6bxz dz - 3bz^2 dx - ab dx}{bxx}$$

Con estas reglas podremos diferenciar qualesquiera cantidades algébricas. Por ejemplo, $d\left(\frac{1}{z}\right) = -\frac{dz}{zz}$: $d(2x^3 z - cz^2 yx - ab) =$

$2x^3 dz - 6xz^2 dx - cx^2 y dz - cz^2 x dy - 2cxyz dz$:
 $d(c - az + bx^3)^4$ contando toda la cantidad por una variable, es $4(c - az + bx^3)^{4-1} \times d(c - az + bx^3) = 4(c - az + bx^3)^3 \times (-adz + 3bx^2 dx)$:
 y por igual razon, tratando á los dos factores como dos variables, $d(ax^2 \times (mz^3 + a - z))^{\frac{1}{2}} = (mz^3 + a - z)^{\frac{1}{2}} \times d(ax^2) + ax^2 \times d(mz^3 + a - z)^{\frac{1}{2}} = 2ax dx (mz^3 + a - z)^{\frac{1}{2}} + \frac{1}{2} ax^2 (mz^3 + a - z)^{-\frac{1}{2}} \times (3mz^2 dz - dz)$.

Quando hay radicales se convierten en sus iguales con esponeentes fraccionarios (115 t. I.) y así $d(\sqrt{z}) = d(z^{\frac{1}{2}}) = \frac{1}{2} z^{-\frac{1}{2}} dz = \frac{dz}{2\sqrt{z}}$

$d(\sqrt{x^5}) = d(x^{\frac{5}{2}}) = \frac{5}{2} x^{\frac{3}{2}} dx = d(\sqrt{ab - xx}) =$

$$d(ab - xx)^{\frac{1}{2}} = \frac{1}{2}(ab - xx)^{-\frac{1}{2}} \times d(ab - xx) = -x dx (ab - xx)^{-\frac{3}{2}} = -\frac{x dx}{\sqrt{(ab - xx)}} : \dots$$

$$d(a\sqrt[n]{(cx - az^2)^m}) = d(a(cx - az^2)^{\frac{m}{n}}) = \frac{m}{n} a x^{\dots} (cx - az^2)^{\frac{m}{n} - 1} \times (cdx - 2azdz) : y \dots$$

$$d\left(\frac{\sqrt{(x^2 - a^2z)^m}}{(x+b)^3}\right) = d(x+b)^{-3} \times (x^2 - a^2z)^{\frac{m}{2}} = \frac{m}{2}(x+b)^{-3} \times (x^2 - a^2z)^{\frac{m}{2} - 1} \times (2xdx - aadz) - 3dx(x+b)^{-4} = \&c.$$

465 La diferencial segunda de una cantidad se saca diferenciando de nuevo el resultado de la 1ª, y se representa con dos dd; la diferencia 3ª se espresa con tres ddd, y viene á ser una nueva diferenciación de la 2ª &c. ddx ó d²x indica la diferencial 2ª de x; dddx ó d³x la diferencial 3ª &c. pero no se ha de equivocar d²x, d³x.....d^mx diferencia 2ª 3ªmª de x, con dx² = dx dx, dx³ = dx dx dx....., dx^m, cuadrado, cubo y potencia m de dx; así como dx², dx³.....dx^m son distintos de d(x²), (dx³).....d(x^m) que indican la 1ª diferencial de x², de x³, de x^m.

Será pues la 2ª diferencial de x, ddx: la de xx, se saca diferenciando de nuevo su

primera diferencial xdz + dzx, tomando á x, dz, z, dx, como otras tantas variables: y es xddz + dzdx + zddx + dx dz = xddz + 2dzdx + zddx: la de xx en cuya primera diferencial 2xdx se consideran dos variables 2x y dx, es 2x ddx + 2dx²: y generalmente, la 2ª diferencial de x^m ó d(mx^{m-1}dx), es mx^{m-1} ddx + m(m-1)x^{m-2}dx²: como tambien dd($\frac{x}{z}$) =

$$d\left(\frac{zdx - xdz}{zz}\right) = \dots \dots \dots \frac{z^2 ddx - zxdz - 2zdx dz + 2x dz^2}{z^4} = \dots$$

Lo mismo se practica para diferenciar las cantidades en que haya ya diferenciales primeras: y así diferenciando de nuevo zdx, resulta d(zdx) = dzdx + zddx: d($\frac{dx}{dy}$) = $\frac{dy ddx - dx ddy}{dy^2}$:

$$d(\sqrt{(dz^2 + dx^2)}) = d(dz^2 + dx^2)^{\frac{1}{2}} = \frac{1}{2}(dz^2 + dx^2)^{-\frac{1}{2}} \times d(dz^2 + dx^2) = \frac{dzddz + dx ddx}{\sqrt{(z^2 + dx^2)}} :$$

$$y d\left(\frac{ydx}{dy}\right) = d(ydx dy^{-1}) = dx + \frac{y ddx}{dy} - \frac{y dx dy}{dy^2}$$

466 Si en un cálculo en que haya diferenciales primeras de distintas variables, referimos á una como á término de comparación

todas las demas; es decir, si suponemos constante una de dichas primeras diferenciales, se desvanecerán los términos en que entren las diferenciales segundas de dicha variable que son cero (461), y el cálculo quedará mas sencillo. Por egemplo, la segunda diferencial de $\frac{dx}{dy}$ suponiendo á dx constante, es.....

$-\frac{dxddy}{dy^2}$: y suponiendo constante á dy , es $\frac{ddx}{dy}$; por ser en el 1.º caso

$ddx=0$, y en el 2.º $ddy=0$.

Las diferenciales terceras se sacan del mismo modo que las segundas, tomando á las cantidades variables, á sus diferenciales primeras y segundas, como otras tantas variables: y lo mismo se debe practicar para las diferenciales quartas, quintas &c. advirtiendo que en todas las diferenciaciones se ha de contar por constante la diferencial que en las anteriores se haya supuesto tal. Finalmente, las cantidades omitidas en la 1.ª diferenciacion (462) no alteran el cálculo de la 2.ª; pues vueltas á diferenciar aquellas que eran de 2.º orden, hubieran resultado de 3.º, cuya omision nada quita á las de 2.º (442).

Modo de diferenciar las cantidades que incluyen senos, cosenos &c. las logarítmicas y esponenciales.

467 Si el seno x de un ángulo ó arco llega á ser $x dx$, tendremos (271) suponiendo $r=1$, $\text{sen}(x+dx) = \text{sen } x \text{ cosen } dx + \text{sen } dx \text{ cosen } x$: y como el seno de un arco dx infinitamente pequeño se confunde con el arco ó $\text{sen } dx = dx$, y su coseno es el radio (263) ó $\text{cosen } dx = 1$; será $\text{sen}(x+dx) = \text{sen } x + dx \text{ cosen } x$: tomemos pues la diferencial, y resultará $d(\text{sen } x) = d(\text{sen } x + dx) = \text{sen } x + dx \text{ cosen } x - \text{sen } x = dx \text{ cosen } x$, ó la diferencial de un seno x , cuyo radio es 1, es el producto de la diferencial de su ángulo multiplicada por su coseno.

Tambien coseno. $(x+dx) = \text{cosen } x \text{ cosen } dx - \text{sen } x \text{ sen } dx$ (271): luego siendo $\text{sen } dx = dx$, $\text{cosen } dx = 1$; será $\text{cosen}(x+dx) = \text{cosen } x - dx \text{ sen } x$, y $d(\text{cosen } x) = d(\text{cosen } x + dx) = \text{cosen } x - dx \text{ sen } x - \text{cosen } x = -dx \text{ sen } x$: es decir, la diferencial del coseno de un ángulo ó arco cuyo radio es 1, igual al producto negativo de la diferencial del ángulo multiplicada por su seno. En virtud de estas dos reglas y de las anteriores, tendremos que $d(\text{sen } ax) = 4 dx \text{ cosen } ax$: $d(\text{sen } ax) = ax \text{ cosen } ax$: $d(\text{cosen } mz) = -mdz \text{ sen } mz$: $d(\text{sen } x \text{ cosen } z) =$

$\text{cosen } z \times d(\text{sen } x) + \text{sen } x \times d(\text{cosen } z) = \text{cosen } z dx \text{ cosen } x - \text{sen } x dz \text{ sen } z$; y $d(\text{sen } x)^m = m(\text{sen } x)^{m-1} d(\text{sen } x) = m dx \text{ cos } x (\text{sen } x)^{m-1}$.

468 Por ser $\text{tang } x = \frac{\text{sen } x}{\text{cos } x}$ (267), será

$$d(\text{tang } x) = d\left(\frac{\text{sen } x}{\text{cosen } x}\right) = \frac{dx \text{ cosen } x + dx \text{ sen } x^2}{\text{cosen } x^2}$$

$$(464) = \frac{dx}{\text{cosen } x^2} (\text{cosen } x^2 + \text{sen } x^2) = \frac{dx}{\text{cosen } x^2}$$

por ser $\text{cosen } x^2 + \text{sen } x^2 = rr = 1$ (268); y será la diferencial de la tangente de un arco ó ángulo cuyo radio es 1, el cociente de la diferencial del ángulo partida por el cuadrado de su coseno: y como en $d(\text{tang } x) = \frac{dx}{\text{cosen } x^2}$, es

$dx = \text{cosen } x^2 \times d(\text{tang } x)$; será la diferencial del ángulo el producto de la diferencial de su tangente multiplicada por el cuadrado de su coseno. También es la diferencial de la cotangente de tal ángulo el cociente negativo de la diferencial de dicho ángulo partida por el cuadrado de su seno; pues siendo $d(\text{cotang } x) =$

$$d\left(\frac{\text{cosen } x}{\text{sen } x}\right) (268) = -\frac{dx \text{ sen } x - dx \text{ cosen } x}{\text{sen } x^2}$$

$$(464) = -\frac{dx}{\text{sen } x^2} (\text{sen } x^2 + \text{cosen } x^2); \text{ será...}$$

$$d(\text{cotang } x) = -\frac{dx}{\text{sen } x^2}; \text{ por ser } \text{sen } x^2 + \dots$$

$\text{cosen } x^2 = 1$. Con las cuales reglas y las hasta

aquí dadas, será fácil diferenciar cualesquiera cantidades que contengan senos, cosenos, tangentes &c.

469 Para la diferenciacion de las cantidades logarítmicas, sea x un número, cuyo logaritmo natural designo por lx , y haciendo $lx = z$, será $z + dz = l(x + dx)$: de donde

$$\text{se saca } dz \text{ ó } d(lx) = l(x + dx) - lx = l\left(\frac{x + dx}{x}\right) =$$

$$l\left(1 + \frac{dx}{x}\right) = \frac{dx}{x} - \frac{dx^2}{2x^2} + \frac{dx^3}{3x^3} - \text{c.} (458) =$$

$\frac{dx}{x}$ (442): es decir que la diferencial del logaritmo de un número cualquiera x es su diferencial dx dividida por el mismo número x .

470 En virtud de lo qual $d(ly) = \frac{dy}{y}$:

$$d(l(a+x)) = \frac{dx}{a+x}: d\left(\frac{a}{a+x}\right) = d(la - l(a+x))$$

$$= \frac{-dx}{a+x}: d\frac{1}{x} = d(l1 - lx) = \frac{-dx}{x}: dlx^2 = \dots$$

$$d(2lx) = \frac{2dx}{x}: dlx^n = d(nlx) = \frac{ndx}{x}:$$

$$d(lxz) = d(lx + lz) = \frac{dx}{x} + \frac{dz}{z}, \dots, \dots, \dots$$

$$\frac{zdx + xdz}{xz}: d\left(\frac{lx}{z}\right) = d(lx - lz) = \frac{dx}{x} - \frac{dz}{z}:$$

$$d\left(l\frac{c+z}{a-x}\right) = \frac{dz}{c+z} - \frac{dx}{a-x}: d(l(bb-yy)) =$$

$$\frac{-2ydy}{bb-yy} : d(\sqrt[2]{aa+zz}) = \frac{d(\sqrt[2]{aa+zz})}{\sqrt[2]{aa+zz}}$$

$$\frac{zdz}{aa+zz} : d(lz^m \sqrt[2]{a+cx^q}) = d(z^m + d(la+cx^q)) =$$

$$d(mlz + d(\frac{p}{n} l(a+cx^q))) = \frac{mdz}{z} + \frac{\frac{p}{n} qxc^{q-1} dx}{(a+cx^q)}$$

En la espresion $d(l.ly)$ supongo $ly=x$, será $d(l.ly) = dlx = \frac{dx}{x}$; y como $d(ly) = \frac{dy}{y} = dx$;

si se substituyen en lugar de x y dx sus valores, resultará por último, $d(l.ly) = \frac{dy}{ly}$.

471 Las cantidades *esponenciales* son aquellas que tienen por exponente una cantidad variable como x^z, y^x . Para diferenciarlas supongamos $x^z = y$, será $lxz = ly$, y $dlx^z = \frac{dy}{y}$, ó $dy = ydlx^z$: pongamos por y su valor x^z , y tendremos dy ó $dx^z = x^z dlx^z$; esto es, la diferencial de una cantidad esponencial x^z es el producto de dicha esponencial multiplicada por dlx^z diferencial de su logaritmo; de suerte que $dx^z = x^z dlx^z = x^z (dzlx + \dots + \frac{zdx}{x})$: $d(ax + yz) = axdla + yz dly = \dots$

$$axdla + yz(dzly + \frac{zdy}{y}) : d(aa + x^2) =$$

$$(aa+x^2)^x \times dl(aa+x^2)^x = (aa+x^2)^x (dxl(aa+x^2) + \frac{2x x dx}{aa+xx})$$

472 Si se hubiera de diferenciar c^x en el supuesto de ser c un número cuyo logaritmo es 1; se tendría $d(c^x) = c^x dlc = c^x dxlc$, y como $lc = 1$, será $dc^x = c^x dx$: espresion de la diferencial de la base de los logaritmos hiperbólicos. Las diferenciales segundas, terceras &c. de las cantidades esponenciales, de las logarítmicas, y de las que contienen senos, cosenos, &c. se sacan conforme digimos (465).

Aplicacion del Cálculo diferencial á las líneas curvas.

473 Supuesto que una curva viene á ser un polígono de infinitos lados, de los cuales uno de ellos Mm alargado hasta T formaría la tangente TM (fig. 173); sea pm una ordenada infinitamente proxima á la PM , y Mr una paralela al ege SH : si llamamos á PM , y ; SP , x ; será $Pp = Mr$, dx ; mr , dy ; y $Mm = \sqrt{(dx^2 + dy^2)}$ en el triángulo rectángulo Mmr : y en los triángulos semejantes Mmr , MPT se tendrá 1^o $rm:Mr::MP:PT$, ó $dy:dx::y:PT = \frac{ydx}{dy}$: espresion general de la subtangente de qualquiera curva, en la que substituyendo por y , y $\frac{dx}{dy}$ sus correspondientes valores sa-

cados de la equacion de la curva de que se trate, saldrá el de su subtangente: y de consiguiente se tendrá el punto T por el que se podrá tirar la tangente à un punto M dado.

2.º Tambien se tiene en dichos triángulos $rm:Mm::PM:TM$ ó $dy: \sqrt{(dx^2+dy^2)}::$

$$y:TM = \frac{y\sqrt{(dx^2+dy^2)}}{dy} = y\sqrt{\left(\frac{dx}{dy}\right)^2 + 1}: \text{es}$$

presion general de la tangente. 3.º La de la subnormal se saca de los triángulos semejantes Mmr , PMR en que $Mr:mr::PM:PR$, ó

$$dx:dy::y:PR = \frac{ydy}{dx}. \text{ 4.º La proporcion } Mr:$$

$$Mm::PM:MR, \text{ ó } dx:\sqrt{(dx^2+dy^2)}::y:PR = \frac{y\sqrt{(dx^2+dy^2)}}{dx} = y\sqrt{\left(\frac{dy}{dx}\right)^2 + 1} \text{ da el valor de}$$

la normal 5.º Finalmente, tirada por S la SD paralela à PM, en los triángulos semejantes TSD, TPM tendremos $PT:PM::ST=$

$$PT-SP:SD, \text{ ó } \frac{ydx}{dy}:y::\frac{ydx}{dy}-x:SD = y - \frac{xdy}{dx}$$

Con los valores de ST y SD sacados de la equacion á la curva, se tendrán suponiendo en ellos x infinita, dos puntos T, D por donde deben pasar las asíntotas de la curva que las tenga. Con efecto, en la tangente á una distancia infinita los puntos T y D, se confundirán con C y B por donde sabemos que pasan las asíntotas de la hipérbola (410).

474 Para aplicar estas fórmulas al círculo, tomemos su equacion $yy=aa-xx$, que diferenciada es $2ydy=-2xdx$: despejese en ella la espresion de la subtangente, y será...

$$\frac{ydx}{dy} = -\frac{yy}{x} = -\left(\frac{aa-xx}{x}\right) = PT, \text{ po-}$$

niendo por yy , $aa-xx$. El signo-indica que la PT se ha de tomar hácia el centro desde donde se cuentan las abscisas, al contrario de como se tomó en la fórmula para la qual se contaron desde el vértice (473). En la equacion $yy=2ax-xx$ en que igualmente se cuentan desde el vértice (348), se tiene $\frac{ydx}{dy} = \frac{yy}{a-x} = \dots$

$$\frac{2aa-xx}{a-x}: \text{ que da la proporción } a-x:2a-x::$$

$x:PT$, ó $AP:PB::CP:PT$. Tambien se encuentra en la equacion $yy=aa-xx$ diferenciada, la subnormal $\frac{ydy}{dx} = -x$: y la normal

$$\sqrt{\left(yy + \frac{yydy^2}{dx^2}\right)} = \sqrt{(xx+yy)} = a, \text{ radio del círculo.}$$

475 En la parábola, cuya equacion es $yy=px$, se tiene diferenciando, $2ydy=pdx$:

$$\text{luego la subtangente } PT = \frac{ydx}{dy} = \frac{2yy}{p} = 2x,$$

poniendo px en lugar de yy : la subnormal $\frac{ydy}{dx} = \frac{py}{2y} = \frac{1}{2}p$: y así de las demas. En la

elipse cuya equacion diferenciada es $2ydy = \frac{bb}{aa}(-2xdx)$; se tiene la subtangente $PT =$

$$\frac{ydx}{dy} = -\frac{aa}{bx} \left(bb - \frac{bbxx}{aa} \right) = -\frac{a^2 - xx}{x}, \text{ y la}$$

$$\text{subnormal } PR = \frac{ydy}{dx} = -\frac{bbxy}{aay} = -\frac{bbx}{aa};$$

ambas negativas por contarse las abscisas al revés que en la fórmula.

476 Del mismo modo encontraremos en la hipérbola la subtangente $PT = \frac{ydx}{dy} =$

$$x - \frac{aa}{x} = \frac{xx - aa}{x}, \text{ y la subnormal } PR = \frac{ydy}{dx} =$$

$$\frac{bbx}{aa}. \text{ En su equacion á las asíntotas } xy = mm,$$

se tiene $xdy + ydx = 0$, y la subtangente $\frac{ydx}{dy} = -x$: de suerte que se debe tirar la

p't del lado opuesto al punto C origen de las abscisas, y así se tirará por t y m' la tangente tm' . Para determinar sus asíntotas tomemos la

equacion $yy = \frac{bb}{aa}(2ax + xx)$, y diferenciada,

despejemos $\frac{ydx}{dy} = x$ en su resultado $2a^2ydy =$

$$2adx + 2xdx, \text{ y hallaremos } \frac{ydx}{dy} = x = \frac{ax}{a+x};$$

que se reduce á $a = SC$, suponiendo x infinita.

Despejando despues $y - \frac{xdy}{dx}$, sale $b = SB$: luego las asíntotas deberán pasar por C y B. Quando resulta infinito el valor de SB, siendo SC finito, es señal de que la asíntota es paralela á la ordenada PM: y lo será al ege de las abscisas, quando SB es finito y SC infinito.

477 Del triángulo rectángulo rMm (473) se saca, haciendo al radio 1, $rm:rM::1:tang$

$$rMm = \frac{rM}{rm} = \frac{dx}{dy}; \text{ y } rM:rm::1:tang \ rMm =$$

$$\frac{rm}{rM} = \frac{dy}{dx}. \text{ Será pues, } \frac{dx}{dy} \text{ la espresion de la}$$

tangente del ángulo rMm que forma la curva ó su tangente en cada punto con la orde-

nada, y $\frac{dy}{dx}$ la de la tangente rM que forma

con el ege de las abscisas: de consiguiente si despejamos en la equacion de una curva, des-

pues de diferenciada, $\frac{dx}{dy}$ ó $\frac{dy}{dx}$; tendremos

respecto de ella el valor de dichos ángulos: y al contrario, para saber en que punto forma

la curva un ángulo conocido con su ordenada, se igualará el valor de la tangente de dicho

ángulo con el de $\frac{dx}{dy}$, sacado de la equacion

diferenciada de la curva; pues poniendo en el resultado en lugar de y su valor, el de x

será el punto que se busca, sino es imaginá-
rio ó absurdo; pues entónces en ningun pun-
to formará la curva dicho ángulo.

478 La equacion $y^{m+n} = p^m x^n$ (429)
de las parábolas de todos géneros diferen-
ciada es $(m+n)y^{m+n-1} dy = np^m x^{n-1} dx$: de con-
siguiente $dx = \frac{(m+n)y^{m+n-1} dy}{np^m x^{n-1}}$, que susti-

tuido en $\frac{y dx}{dy}$, da reduciendo, $\frac{y dx}{dy} = \frac{n+n}{n} x$.

Del mismo modo se saca $\frac{y dx}{dy} = -\frac{m}{n} x$ de la
equacion general $y^m x^n = c^{n+m}$ de las hipérbo-
las entre las asíntotas, que diferenciada es
 $m y^m x^{n-1} dx + m x^n y^{m-1} dy = 0$, y en la que $dx =$
 $\frac{-m x^n y^{m-1} dy}{m y^m x^{n-1}}$.

479 Si se diferencia la equacion $y^{m+n} =$
 $\frac{p}{a} x^m (a-x)^n$ à las elipses de todos géneros,
y del resultado $(m+n)y^{m+n-1} dy = \frac{p}{a} (m x^{m-1} dx$
 $(a-x)^n - n x^m (a-x)^{n-1} dx)$, se saca $dx =$
 $\frac{(m+n)y^{m+n-1} dy}{(m x^{m-1} (a-x)^n - n x^m (a-x)^{n-1})}$; se ten-

$\frac{p}{a} (m x^{m-1} (a-x)^n - n x^m (a-x)^{n-1} dy)$; se ten-

drá la subtangente $\frac{y dx}{dy} = \dots \dots \dots$
 $(m+n)y^{m+n} dy$

$\frac{p}{a} (m x^{m-1} (a-x)^n - n x^m (a-x)^{n-1} dy) = \dots \dots \dots$

$\frac{\frac{p}{a} x^m (a-x)^n}{(m+n) \frac{p}{a} x^{m-1} (a-x)^n}$ quitando
 $\frac{p}{a} (m x^{m-1} (a-x)^n - n x^m (a-x)^{n-1})$

dy , y poniendo $\frac{p}{a} x^m (a-x)^n$ en lugar de
 y^{m+n} : quitese $\frac{p}{a}$, y dividáanse los dos términos
por $x^{m-1} (a-x)^{n-1}$, y se tendrá finalmente,
 $\frac{x dy}{dy} = \frac{(m+n)x(a-x)}{m(a-x) - nx} = \frac{(m+n)x(a-x)}{am - mx - nx}$. Por

un cálculo semejante se saca tambien $\frac{y dx}{dy} =$
 $\frac{(m+n)x(a+x)}{am + mx + nx}$ de la equacion $y^{m+n} = \frac{p}{a} x^m x$
 $(a+x)^n$ à las hipérbolas de todos géneros.

480 En la logarítmica en la que (436) $x =$
 Ay , y $dx = \frac{A dy}{y}$, se tiene $\frac{y dx}{dy} = A$: es de-
cir, que su subtangente es constante é igual
siempre al módulo.

481 Supongamos ahora una curva BOC
(fig. 209) con otra BMA tal que alargada la
perpendicular PO hasta M, la relacion de
MP al arco BOP sea espresada por una equa-
cion qualquiera: y que se trate de tirar una
tangente al punto M de la curva BMA. Sea
 mp una ordenada infinitamente próxima á
MP, tirese Mr paralela à OR tangente de la
curva EOC, y supongo BOC = x, MP = y;

será Pp ó $Mr = dx$, $mr = dy$: y de los triángulos semejantes Mmr , TMP se sacará mr :

$Mr :: MP : PT$ ó $dy : dx :: y : PT = \frac{y dx}{dy}$ que

será la fórmula de la subtangente que se busca, cuyo valor debe tomarse sobre la tangente RP de la curva BOC . Si esta fuese un círculo, y la BMA es tal que $y = \frac{b}{a}x$; será una

cicloide (438): y pues que diferenciando, resulta $dy = \frac{b dx}{a}$; será $PT = \frac{b dx}{dy} = \frac{abx^2}{abx} = x$.

482 Si dado un círculo $AHBO$ (fig. 200) se pidiese tirar una tangente al punto M de una curva CKM cuya relación con el radio CM se espese con una equación cualquiera; tirado el radio Cmn infinitamente próximo á CN , descrito el arco Mr infinitamente pequeño con el radio CM , y levantando en CM la perpendicular CT : supongo $AC = CN = a$, $CM = y$, y el arco $AHBN = x$; será $Nn = dx$, $rm = dy$. Los sectores semejantes CNn , CMr dan $CN(a) : CM(y) :: Nn(dx) : Mr = \frac{y dx}{a}$; y de los triángulos semejantes CTM , Mmr , en los que $rm : Mr :: CM : CT$ ó $dy : \frac{y dx}{a} :: y : CT$, se saca $CT = \frac{y^2 dx}{ady}$, que es la expresión de la subtangente que se pide.

Sea la curva CKM la espiral de Arquí-

medes en la que $y = \frac{ax}{c}$ (433), y diferenciando

do $dy = \frac{adx}{c}$, $dx = \frac{cdy}{a}$: sustituyo este valor

en $CT = \frac{y^2 dx}{ady}$, y tendré $CT = \frac{cy^2 dy}{a^2 dy}$, que se

reduge poniendo $\frac{a^2 x^2}{c^2}$ en lugar de y^2 , á $CT =$

$\frac{xy}{a} = \text{al arco DSM}$; pues $CN(a) : CM(y) ::$

$AHBN(x) : DSM = \frac{xy}{a}$: luego si trazando un

círculo con el radio $CM = y$, se toma CT igual al arco DSM , se tendrá el punto T desde el qual se ha de tirar la tangente TM .

483 En la espiral hiperbólica, cuya equación $xy = ab$ (435), diferenciada es $xdy + ydx = 0$, $ydxdx = -xdy$; se tiene $CT = \frac{xy^2 dy}{ady} = \frac{xy}{a} = -b = -AG$: pues AC

$(a) : AN(x) :: CM(y) : b = \frac{xy}{a}$. Será pues, la

subtangente de la espiral hiperbólica cantidad constante como en la logarítmica.

Del método de los Máximos y Mínimos.

484 Para percibir la economía de este método que se dirige á encontrar las mayores

ó menores cantidades que crecen ó menguan segun cierta ley, ó que tienen en mayor grado que todas sus semejantes alguna propiedad determinada; concibamos que la ordenada PM (fig. 174) de una curva SMB crece hasta llegar á ser la mayor BC : crecerá la subtangente en la fig. 1.^a hasta que en el punto B resulte infinita, por ser paralela la tangente BR al ege de las abscisas Ss , y menguará en la fig. 2.^a hasta desvanecerse, por confundirse la tangente con la ordenada CB . Si dicha ordenada continúa hasta s , sera la subtangente negativa, que va aumentando en la fig. 2.^a y menguando en la 1.^a Las mismas observaciones tienen lugar respecto del ege Aa , y la ordenada $p'M'$ que va menguando hasta llegar á ser la menor Bc ; luego 1.^o una cantidad que pasa de positiva á negativa, ó pasa por el infinito si crece, ó por cero si mengua.

485 2.^o En el punto B (fig. 1.^a) se desvanece el ángulo que la tangente forma con el ege de las abscisas Ss , y en la fig. 2.^a el que forma con el de las ordenadas: es decir, que en estos puntos es cero $\frac{dx}{dy}y - \frac{dy}{dx}$ (477): y como dichos puntos son los de las mayores y menores ordenadas, tendremos que en ellos es cero la diferencial dx ó dy de la variable. Como la espresion de qualquiera cantidad

variable se puede considerar como el valor de la ordenada de una curva; podremos inferir generalmente, que para averiguar los puntos del máximo y mínimo de qualquiera cantidad, se ha de diferenciar su espresion, y suponiendo su diferencial igual á cero; resultará el valor ó valores que sustituidos en la primera espresion, darán los puntos del máximo ó mínimo: advirtiéndose que un valor negativo supone una condicion contraria á la de la cuestion propuesta, y los imaginarios prueban que no hay el máximo ni el mínimo que se busca. Por este mismo método deben determinarse los puntos en que la tangente es paralela á los eges, y los límites de las abscisas y ordenadas de una curva: pues unos y otros no son otra cosa que los del máximo y mínimo en este género.

486 De lo dicho podemos colegir que si de resultas de una operacion saliese a por valor de x , y se quisiese saber si a es un máximo ó mínimo; substituiremos sucesivamente en la espresion propuesta en lugar de x , $a+q$, a , $a-q$ (q es una cantidad qualquiera): y si la substitucion de las cantidades estremas diese resultados menores que la de la media, será a un máximo; si los diese mayores, será un mínimo: y si siendo el un resultado real, fuese el otro un imaginario, será al mismo tiempo un máximo y un mínimo.

487 Egemplo 1º Hallar la mayor ordenada y abscisa de la elipse. Si en su equacion $aayy=2abbx-bbxx$, que diferenciada es $2aaydy=2abbdx-2bbxdx$, suponemos $dx=0$, quedará $2aaydy=0$, ó $y=0$: pongase este valor en la equacion $yy=\frac{bb}{aa}(2ax-xx)$, y tendremos $0=2abbx-bbxx$, y $x=2a$: luego la mayor abscisa en la elipse, contándolas desde el vértice, es el ege mayor. Si en la equacion diferenciada hacemos $dy=0$, tendremos $0=2abbdx-2bbxdx$, donde $x=a$: cuyo valor sustituido en la equacion à la curva, la reduce à $aayy=2aabb-aabb$, que da $y=\pm b$: será pues, el semiege menor la mayor ordenada de la elipse.

488 2º Desde un punto R (fig. 173) dado en el ege de una curva qualquiera, tirar à ella la recta mas corta que sea posible. Sea $SP=x$, $PM=y$, $SR=t$, y $MR=u$ que consideraré como ordenada de una curva: será en el triángulo rectángulo MPR, $(MR)^2=(MP)^2+(PR)^2$ ó $uu=tt-2tx+xx+yy$: diferenciando, y suponiendo $du=0$ en el resultado $2udu=-2tdx+2xdx+2ydy$, tendré $0=-2tdx+2xdx+2ydy$, donde poniendo el valor de ydy sacado de la equacion à la curva, me resultará el de x que se pide. Si fuese por egemplo, la parábola en la que $yy=px$, $2ydy=px$, $ydy=\frac{1}{2}pdx$; sustituido este valor

en la equacion sacada, resulta $0=-2tdx+2xdx+px$, y $\frac{1}{2}p=t-x$: luego siendo $\frac{1}{2}p$ el valor de la subnormal en la parábola (368); será $t-x=PR$ la subnormal y la menor que se puede tirar desde M à la curva, será la normal MR.

489 3º Para dividir un número qualquiera a en dos partes tales que su producto sea mayor que el de otras dos cualesquiera del mismo número; suponiendo x por una de las partes, será $a-x$ la otra, y $ax-xx$ el producto: si su diferencial $adx-2xdx$ se supone igual à cero; será $adx-2xdx=0$, $adx=2xdx$, y $x=\frac{1}{2}a$: luego el producto de las dos mitades de a será el máximo.

490 4º Averiguar qué triángulo de un perímetro $2p$, tendrá mayor superficie de los que se pueden trazar sobre la base $AB=a$ (fig. 175). Si llamamos y la superficie, x uno de los lados AC que buscamos; será el otro $2p-a-x$: y tendremos (334) $y=\sqrt{(p(p-a)(p-x)(a+x-p))}$, ó cuadrando y valiendonos de los logarítmicos, $2ly=|p+|(p-a)+|(p-x)+|(a+x-p)$. La diferencial de esta cantidad es $\frac{2dy}{y}=\frac{dx}{p-x}+\frac{dx}{a+x-p}$, que se reduce suponiendo $dy=0$, à $p-x=a+x-p$, ó $2p-a=2x$: luego el duplo $2x$ del lado AC iguala à todo el perímetro ménos la base AB: esto es, serán iguales los dos lados AC, CB,

y el triángulo que se busca, es el isósceles. Y como por igual razon debe ser isósceles el construido sobre AC que tenga mayor superficie; podremos asegurar *que el triángulo equilátero es el que incluye mayor superficie entre los de un mismo perímetro.*

591 5º Para encontrar el paralelepípedo de mayor cabida entre los de una misma superficie cc , y altura a ; supondremos x , y , los dos lados del rectángulo de su base: y pues que de los seis rectángulos que forman su superficie, los dos tienen a por altura y x por base, otros dos la misma altura a con la base y , y los dos últimos y por base y x por altura; será toda la superficie del paralelepípedo $2ax+2ay+2xy=cc$. La solidez axy que ha de ser un máximo, tendrá igual à zero su diferencial, ó $axy+aydx=0$, y $dx=-\frac{xy}{y}$. Este valor substituido en la equacion anterior diferenciada $0=2adx+2ady+2xdy+2ydx$, la reduce á $x=y$, lo que muestra que la base debe ser un cuadrado: y si en $cc=2ax+2ax+2xy$ ponemos x en lugar de y , sacaremos $x=a\pm\sqrt{(aa+\frac{1}{2}cc)}$, cuyo valor positivo es el lado del paralelepípedo: el negativo no pertenece á esta cuestion.

Reducido ya el sólido à axx , averiguaremos su altura en el caso de haber de tener la mayor solidez, igualando á zero su dife-

rencial, así; $2axdx+xxda=0$, y substituyendo

$da=-\frac{2adx}{x}$ que de ella se saca, en la equacion

$4xa+2xx=cc$ despues de diferenciada, ó en $4adx+4xda+4xdx=0$; pues resulta $x=a$: de consiguiente el paralelepípedo que buscamos, debe ser un cubo cuyo lado es la raiz cuadrada de la sexta parte de la superficie. Con efecto, si se pone x en lugar de a en la equacion $4ax+2xx=cc$, resulta $x=\sqrt{\frac{1}{6}cc}$.

492 6º Hallar las dimensiones de una medida cilíndrica, tal que con la menor superficie interior posible quepa en ella cierta cantidad de agua, trigo &c. Si llamamos x el diámetro AB (fig. 176) de su base, y su altura AD, s su cabida, y $1:c$ la razon del diámetro á la circunferencia; será cx la periferia de la base, $cxxy$ la superficie interior lateral, y $cx\frac{1}{4}x=\frac{1}{4}cxx$ la de la base: de consiguiente la solidez ó cabida $s=\frac{1}{4}cxx\frac{x}{c}=\frac{1}{4}cyxx$. De aquí se saca la superficie interior $cxy=\frac{4s}{x}$: luego si se le junta la de la base $\frac{1}{4}cxx$, será la total $\frac{4s}{x}+\frac{cxx}{4}$: de cuya diferencial igualada á zero $-\frac{4sdx}{xx}+\frac{cxdx}{2}=0$, se saca $x=\sqrt[3]{\frac{8s}{c}}=2\sqrt[3]{\frac{s}{c}}$. En ella se encuentra tambien

$cx^3 = 8s$, y si se parte esta equacion por.....
 $\frac{1}{4}cyxx = s$, ó $cyxx = 4s$ que sacamos antes,
 resultará $\frac{x}{y} = 2$, y $x = 2y$: luego la medida
 será como se pide, si fuese el diámetro de su
 base duplo de su altura.

493 2.º Determinar el cono de mayor
 solidez, entre los que tienen una misma su-
 perficie conocida s. Sea x el radio AC (fig.
 177), y el lado AB, y 1:c la razon del diá-
 metro a la circunferencia: será la de la base
 $2cx$, su area cxx , y la superficie convexa del
 cono cxy (221). Será pues, la superficie total

$$cxx + cxy = s, y = \frac{s}{cx} - x, \text{ y la altura } CB =$$

$$\sqrt{((AB)^2 - (AC)^2)} = \sqrt{\left(\frac{ss}{ccxx} - \frac{2s}{c}\right)}: \text{ mul-}$$

tiplíquese este valor por $\frac{1}{3}cxx$ tercio de
 la area de la base, y el producto $\frac{cxx}{3} \times$

$$\sqrt{\left(\frac{ss}{ccxx} - \frac{2s}{c}\right)} \text{ será la espresion de la soli-}$$

dez del cono (239). Siendo esta un máximo,
 lo será tambien su cuadrado $\frac{1}{9}ssxx - \frac{2}{9}csx^2$:
 luego su diferencial $\frac{2}{9}ssxdx - \frac{4}{9}x^2csdx = 0$, y

$$4cxx = s, x = \sqrt{\frac{s}{4c}}. \text{ Si en la equacion } y =$$

$$\frac{s}{cx} - x \text{ ponemos } \frac{s}{4c} \text{ valor de } x; \text{ resultará}$$

$y = 3x$: y el cono cuyo lado sea triplo del se-
 midímetro de la base, será el que se pide,

De las evolutas, y radios osculadores de
 las curvas.

494 Si un hilo aplicado á la curva BECG
 (fig. 78) y á su tangente SB en B si la hu-
 biese, se desenvuelve teniendo su extremo
 fijo en G, y llevándole siempre tirante; traza-
 rá el otro extremo S una curva SHM de la qual
 se llama *evolúta* la curva BECG, y las rec-
 tas SB, HE, MC *radios de la evolúta*. De
 consiguiente 1.º cada radio CM es igual á la
 porcion CEB del arco evoluto, y á la parte
 constante SB de tangente si la hay, y se di-
 ferenciará del inmediato EH en la por-
 cion de curva EC infinitamente pequeña.
 2.º Cada radio se puede considerar como la
 prolongacion de uno de los infinitos lados
 que componen la curva (473); y por lo mis-
 mo será tangente suya.

495 3.º La curva SHM puede conside-
 rarse formada de pequeños arcos circulares
 SH, HM, &c. descritos con diferentes ra-
 dios EN, CM &c. perpendiculares á dichos
 arcos que se llaman *radios del círculo oscu-
 lafor* ó *de la evolúta*: y la BECG será el
 lugar geométrico de todos los centros de los
 círculos que besan la SHM.

496 4.º Pues que los radios son tangen-
 tes de la evoluta é iguales á ella, se podrán

siempre determinar los puntos de una curva tirando á los de su evoluta tangentes iguales á ella; y haciendo pasar una línea por los extremos de dichas tangentes: y así qualquier curva puede concebirse engendrada por el desenvolvimiento de otra que será su evoluta:

497 5º Los radios de la evoluta se llaman tambien radios de *curvatura*: porque por ellos se averigua la que tiene una curva en qualquier punto; pues es la misma que la del círculo correspondiente cuyo radio se conoce. Y cómo los círculos son tanto menos curvos quanto mayores son sus radios; será tanto mayor la curvatura de la evoluta, quanto menor sea el radio: de consiguiente, *la curvatura máxima se encontrará buscando el radio mínimo.*

498 6º Finalmente, siempre que los radios oculadores puedan ser espresados por equaciones finitas: las evolutas que pasan por el extremo de estos radios, podrán ser representadas por líneas rectas.

499 Conocida la naturaleza de una curva, veamos 1º cómo se determina el valor del radio de la evoluta para cada uno de sus puntos: y 2º cómo se encuentra la equacion de su evoluta. Para averiguar 1º el valor del radio $CM=R$ en la curva SHM, suponiendo sus ordenadas perpendiculares al ege SD;

tirensele las dos PM, pm infinitamente próximas, por C y M la CA y Mr paralelas al mismo ege, y los dos radios CM, Cm infinitamente próximos y perpendiculares al arco infinitamente pequeño Mm, que por lo mismo concurrirán en un punto C. Sea $MA=u$, $PM=y$; será $AQ=Pp=Mr=dx$, $mr=dy=du$, y $Mm=\sqrt{(dx^2+dy^2)}$ que llamaremos ds: y en los triángulos semejantes Mmr, MAC, tendremos Mr(dx): $Mm(ds)::MA(u)::MC=R=\frac{uds}{dx}$.

Y pues que quando AM aumenta de *rm* pasando á ser *Qm*, la CM que es entonces Cm, no varia; será su diferencial cero: luego $d\left(R=\frac{uds}{dx}\right)=\frac{udxd ds+dxdu ds-uds dx}{dx^2}=0$, y multiplicando por dx^2 y poniendo dy en lugar de du; $udxd ds+dx dy ds-uds dx=0$: de donde se saca $u=\frac{ds dy dx}{ds dx-dx ds}$. Será pues, $R=\frac{uds}{dx}=\frac{dy ds^2}{ds dx-dx ds}$, donde poniendo por ds^2 , dx^2+dy^2 ; y por dds, $\frac{dx dx dy dy}{(dx^2+dy^2)^{\frac{3}{2}}}$; resulta despues de multiplicar por $(dx^2+dy^2)^{\frac{3}{2}}$ numerador y denominador y reducir, $R=\frac{(dx^2+dy^2)^{\frac{3}{2}} ds^3}{dy dx-dx dy}$: espresion def

radio de curvatura, que suponiendo ds constante, se reduce á $R = \frac{dsdy}{ddx}$: suponiendo dy constante es $R = \frac{ds^3}{dydix}$: y finalmente, suponiendo como se acostumbra, dx constante, es $R = \frac{ds^3}{-dxddy} = \frac{(dx^2 + dy^2)^{\frac{3}{2}}}{-dxddy}$.

500 Si las ordenadas no son perpendiculares sino que salen de un punto P (fig. 207); tiradas las PM , pm infinitamente próximas, las perpendiculares CA , Ca , y descrito desde P el arco Mr : llamando PM , y ; MA , z ; Mr , dx ; será $mr = dy$, $Mm = dx^2 + dy^2$, y en los triángulos semejantes $M \cdot C$, mMr tendré $Mr(dx) : mr(dy) :: AM(z) : AC = \frac{zdy}{dx} = Ca$, por ser infinitamente pequeña la diferencia Ao de CA y Ca . También $ao = \frac{zdy}{y}$ en los triángulos semejantes PMr , Cao , en los que $PM : Ca :: Mr : ao$: y como la diferencial de MC ó $dz = ma - MA = mr - ao = dy - ao$; será $dz = dy - \frac{zdy}{y} = \frac{ydy - zdy}{y}$.

Esto supuesto; los triángulos semejantes MAC , mMr dan $Mr(dx) : Mm(\sqrt{dx^2 + dy^2}) ::$

$MA(z) : MC = \frac{z\sqrt{dx^2 + dy^2}}{dx}$: cuya dife-

rencial, tomando á dx por constante, igualada á cero como en el caso anterior, da z ó

$$MA = \frac{dz(dx^2 + dy^2)}{-dyddy} = \frac{(ydy - zdy)(dx^2 + dy^2)}{-ydyddy}$$

poniendo por dz , $\frac{ydy - zdy}{y}$. Despejese z , y re-

sultará z ó $MA = \frac{y(dx^2 + dy^2)}{dx^2 + dy^2 - yddy}$: y de consi-

guiente $CM = \frac{y(dx^2 + dy^2)^{\frac{3}{2}}}{dx^3 + dx^2dy - ydxddy}$,

radio de la evoluta quando las ordenadas salen de un mismo punto P : la qual se reduce á la anterior (499) suponiendo $y = x$, en cuyo caso no queda en el denominador mas término que $-dxddy$.

501 2º La equation de la evoluta se encuentra tirando (fig. 208) perpendicular al ege la CD que llamaremos z , y á la BD , u :

será CD ó $z = AP = AM - MP = \frac{dx^2 + dy^2}{-ddy}$

$-y$: y BD ó $u = AC + SP - SB = x + CA - SB$. De los triángulos semejantes MPN ,

MAC se saca $MP : PN :: MA : AC$ ó $y : \frac{ydx}{dx} ::$

$\frac{dx^2 + dy^2}{-ddy} : AC = \frac{dy(dx^2 + dy^2)}{-dxddy}$: y como el valor

de SB se encuentra suponiendo $x = 0$ en la

espresion del radio de la evoluta, si le representamos por a , será u ó $BA = x + \frac{dy(dx^2+dy^2)}{-dxddy}$
 — a : con cuyos valores y la equación á la curva, será fácil encontrar la de la evoluta.

502 *Encontremos ahora el radio de curvatura del círculo.* Diferenciada su equacion $y = \sqrt{(2ax - xx)}$, es $dy = \frac{adx - xdx}{\sqrt{(2ax - xx)}}$: luego si tomamos á dx por constante, será $ddy = \frac{-aadx^2}{aadx^2 - 2axdx^2 + xdx^2}$
 $(2ax - xx)^{\frac{3}{2}}$, $dy^2 = \frac{2ax - xx}{(dx^2 + dy^2)^{\frac{3}{2}}}$, ...
 $dx^2 + dy^2 = \frac{aadx^2}{2ax - xx}$, y $R = \frac{(dx^2 + dy^2)^{\frac{3}{2}}}{-dxddy}$, será

sustituyendo estos valores, y partiendo ambos términos por $(2ax - xx)^{\frac{3}{2}}$,
 $\frac{(aadx^2)^{\frac{3}{2}}}{aadx^3} = \frac{aadx^2 \sqrt{aadx^2}}{aadx^3} = a$: es decir, que el radio de la evoluta en el círculo es su mismo radio, de suerte que la evoluta se reducirá á un punto que es el centro.

503 *Para calcular el radio de curvatura de la parábola, elipse é hipérbola*; igualemos la fórmula de la normal $\frac{y}{dx} \sqrt{(dx^2 + dy^2)}$ (473, 4^o) á n : y será $\sqrt{(dx^2 + dy^2)} = \frac{ndx}{y}$,
 $y(dx^2 + dy^2)^{\frac{3}{2}} = \frac{n^3 dx^3}{y^3}$: si este valor se susti-

tuye en la expresion del radio, la reducirá á $R = \frac{n^3 dx^2}{-y^3 ddy}$. Si diferenciamos ahora la equacion general de las secciones cónicas $yy = px \pm \frac{pxx}{2a}$ (425); tendremos $2ydy = pdx \pm \frac{pdx}{a}$, y volviendo á diferenciar tomando á dx por constante, $2yddy + 2dy^2 = \pm \frac{pdx^2}{2a}$, ó $yddy = \pm \frac{pdx^2}{2a} - dy^2$, y multiplicando por yy , $y^3 ddy = \pm \frac{p}{2a} yydx^2 - yydy^2$: pongase en esta equacion el valor de $yy = px \pm \frac{pxx}{2a}$, y el de $yydy^2 = \left(\frac{pdx}{2} \pm \frac{pdx}{2a}\right)^2$ sacado de $2ydy = pdx \pm \frac{pdx}{2a}$; y resultará $y^3 ddy = \pm \frac{pdx^2}{2a} \times \left(px \pm \frac{pxx}{2a}\right) - \left(\frac{pdx}{2} \pm \frac{pdx}{2a}\right)^2$ que se reduce á $y^3 ddy = -\frac{ppdx^2}{4}$: luego $R = -\frac{n^3 dx^2}{-y^3 ddy} = \frac{4n^3}{pp} = \frac{n^3}{\frac{1}{4}pp}$: y el radio de curvatura en las secciones cónicas será igual al cubo de la normal partido por el cuadrado de la mitad del parámetro.

Si se saca por la fórmula de la normal
 S₂

$\frac{y}{dx} \sqrt{(dx^2 + dy^2)} = n$, la que corresponde à la equacion $yy = px + \frac{p^2 x^2}{2a}$, y se busca despues su valor en el vértice en donde $x = 0$; se encontrará $n = \frac{1}{2}p$: de consiguiente será entonces $R = \frac{\frac{1}{2}p^3}{\frac{1}{4}pp} = \frac{1}{2}p$, y el radio de curvatura de las secciones cónicas en el vértice será la mitad del parámetro.

504 Busquemos ya la equacion de la evoluta de una de estas curvas, por ejemplo de la parábola, cuya equacion diferenciada $dy = \frac{pdx}{2\sqrt{px}}$, da $dy^2 = \frac{pdx^2}{4x}$, y $ddy = \frac{-pdx^2}{4x\sqrt{px}}$ ó $ddy = \frac{pdx^2}{4x\sqrt{px}}$. Sustituido este valor en $MA = \frac{dx^2 + dy^2}{-ddy}$, (501) suponiendo dx constante, y el de $MP = \sqrt{px}$; será CD ó $z = MA - MP = \frac{4x\sqrt{px}}{p}$, y BD ó $u = SP + AC - SB = 3x$, poniendo por AC su valor $\frac{1}{2}p + 2x$ (366 y 368), y por SB , $\frac{1}{2}p$ (503): luego $x = \frac{1}{3}u$, y la equacion $z = \frac{4x\sqrt{px}}{p}$ se mudará en $z = \frac{4}{3}u\sqrt{\frac{pu}{3p^2}}$, de donde se saca $u^3 = \frac{27}{16}pz^2$ equacion à la segunda parábola cúbica, que

resulta de suponer en $y^{m+n} = p^m x^n$, $m = 1$, $n = 2$ (429), la qual será evoluta de la ordinaria, y su parámetro es $\frac{27}{16}$ del de la parábola dada.

Puntos de Inflexión.

505 Todo punto M (fig. 179) en el que una curva de cóncava se muda en convexa, se llama punto de inflexión. En ellos la TM alargada será tangente à un tiempo à los dos ramos SM , sm ; y por lo mismo tendrá la curva dos elementos Mo , om en línea recta. Los radios que à ellos se tiren perpendiculares, serán paralelos, y no se encontrarán sino à una distancia infinita. Sin embargo, habrá curvas en donde sea tan repentina la inflexión, que dichos elementos se vengán à confundir en uno lo mismo que los radios, en términos que juntándose en su mismo origen, se reduzcan à cero.

506 Luego en los puntos de inflexión debe ser cero ó infinito el radio de curvatura, esto es, $\frac{(dx^2 + dy^2)^{\frac{3}{2}}}{-dxddy} = 0$ ó $= \infty$: y dividiendo ambos términos por dx^3 , $\frac{\left(1 + \frac{dy^2}{dx^2}\right)^{\frac{3}{2}}}{-\frac{ddy}{dx^2}} = 0$ ó $= \infty$. Para esto debe ser cero ó infinito el

denominador $-\frac{ddy}{dx^2}$: (440) de consiguiente para determinar los puntos de inflexion de una curva se ha de diferenciar dos veces su equacion, tomando à dx por constante, y sacando en cantidades finitas el valor de $-\frac{ddy}{dx^2}$, se igualará à cero ó al infinito, y de la equacion que resulta, junto con la de la curva se inferirán los valores de x , y correspondientes al punto ó puntos de la inflexion.

507 Quando las ordenadas salen de un mismo punto, la fórmula $\frac{y(dx^2 - dy^2)^{\frac{3}{2}}}{dx^3 + dx dy^2 - y dx dd y}$ ó $y \left(\frac{dx^2 + dy^2}{dx^2} \right)^{\frac{3}{2}}$ es cero ó ∞ ; luego..... $\frac{dx^2 + dy^2 - yddy}{dx^2} = 0$ ó ∞ Si se supone $y = \infty$, son paralelas las ordenadas y la fórmula se reduce à $-\frac{ddy}{dx} = 0$ ó ∞ .

508 Si se hubiese de hallar el punto de inflexion de la curva SFK (fig. 180) cuyo diámetro es Ss, y cuya equacion es $axx = xxy + aay$, ó $y = \frac{axx}{xx+aa}$, siendo SE, x; y EF, y: diferencio la equacion, y tendré $dy = \frac{2a^3 dx}{(xx+aa)^2}$: vuelta esta à diferenciar, toman

do à dx por constante, será $ddy = \frac{2a^3 dx^2 (xx+aa)^2 - 8a^3 xx dx^2 (xx+aa)}{(xx+aa)^4}$, que se reduce partiendo numerador y denominador por $xx + aa$, haciendo las operaciones indicadas y dividiendo despues por dx^2 , à..... $\frac{ddy}{dx^2} = \frac{2a^3 xx + 2a^5 - 8a^3 xx}{(xx+aa)^3} = \frac{6a^3 xx + 2a^5}{(xx+aa)^3}$ Igualo à cero esta cantidad, y me saldrá $3xx = aa$, y $x = a\sqrt{\frac{1}{3}}$: luego $y = \frac{1}{4}a$.

509 Sirva de 2º exemplo averiguar el punto de inflexion de la curva cuya equacion es $y = a + (x - a)^{\frac{3}{5}}$ ó $dy = \frac{3}{5} (x - a)^{-\frac{2}{5}} dx$ diferenciando: vuelta à diferenciar tomando por constante à dx , da $ddy = -\frac{6}{25} (x - a)^{-\frac{7}{5}} dx^2$, $y \frac{ddy}{dx^2} = \frac{-6}{25 \sqrt[5]{(x - a)^7}}$, valor que igualado à

$25 \sqrt[5]{(x - a)^7}$ cero produce $6 = 0$, que nada significa. Se igualará pues, al infinito, y será su denominador cero, lo mismo que qualquiera de sus potencias: luego $25 \sqrt[5]{(x - a)^7} = 0$, de donde se saca $x = a$.

Por este mismo método se averiguan los puntos de retroceso de las curvas, examinando en la vencidad de dichos puntos el camino que sigue la curva en ellos.

CÁLCULO INTEGRAL.

510 Este cálculo, inverso del Diferencial porque busca las cantidades por medio de sus elementos; manifiesta con la letra S la *integración* de dichas cantidades, que viene a ser la *suma* de sus elementos: de suerte que Sdx , $Smzdz$, muestran las *integrales* de dx , y de $mzdz$. Las cantidades que no provienen de una diferenciación exacta, no pueden ser integradas: las diferenciales de senos, arcos de círculo, y demas trascendentes se integran por aproximación. Llamaremos *funcion* de una cantidad variable qualquiera expresion en donde dicha cantidad se encuentre como quiera que sea.

De las diferenciales con una sola variable capaces de integración exacta.

511 Pues que $ax^m dx$ es la diferencial de $\frac{ax^{m+1}}{m+1}$ (463), será esta la integral de $ax^m dx$,

ó $Sax^m dx = \frac{ax^{m+1}}{m+1}$: luego qualquier monomio

se integra aumentando de 1 el exponente m de la variable, y dividiendo el resultado por el exponente aumentado y por la diferencial. De suerte que la integral de $azdz$, ó $Sazdz$ es

$\frac{ax^{1+1} dz}{(1+1) dz} = \frac{az^2}{2}$: la de $12x^2 dx$ ó $S12x^2 dx$ es $\frac{12x^2+1 dx}{(2+1) dx} = 4x^3$: y en general $S \frac{ax^{m-1} dx}{b} = \dots$

$\frac{ax^{m-1+1} dx}{b(m-1+1) dx} = \frac{ax^m}{mb}$. Efectivamente, si se diferencian $\frac{az^2}{2}$, $4x^3$ y $\frac{ax^m}{mb}$; resulta $azdz$, $12x^2 dx$ y $\frac{ax^{m-1} dx}{b}$.

512 Siendo $dx = x^0 dx$, será $Sdx = \frac{x^{0+1} dx}{(0+1) dx} = x$: $Sadx = \frac{ax^{0+1} dx}{(0+1) dx} = ax$: $Sadx^{\frac{1}{3}} = \frac{ax^{\frac{1}{3}+1} dx}{(\frac{1}{3}+1) dx} = \dots$
 $\frac{3ax^{\frac{4}{3}}}{4} = \frac{3a}{4} \sqrt[3]{x^4}$. Del mismo modo se aplica

la regla general à otros qualesquiera monomios, tengan ó no radicales. Pero falla quando el exponente de la variable es -1 : pues integrando $x^{-1} dx$, resulta $\frac{x^{-1+1} dx}{(-1+1) dx} = \frac{x^0}{0}$,

cantidad infinita: pero como $dx = \frac{dy}{y}$ sabemos (470) que es la diferencial del logaritmo hiperbólico de x , será su integral lx , ó $Sx^{-1} dx = lx$: y $S \frac{dx}{x} = S-x^{-1} dx = -lx = l \frac{1}{x}$; pues $dl \frac{1}{x}$ es $-\frac{dx}{x}$: y se deberán integrar por los logarit-

mos todos los casos que ocurran de esta naturaleza.

Modo de integrar por la regla general las cantidades complexâs de una sola variable.

513 Quando estas cantidades no están en el denominador ni incluyen potencias de cantidades complexâs, se integran exâctamente integrando cada término por sí: $S cx^2 dx + \frac{bdx}{x^3}$ ó $bdx^{-3} dx$, es $\frac{cx^3}{3} + \frac{bx}{a}$ ó $\frac{cx^4}{4} - \frac{bx^{-2}}{2}$ ó $\frac{b}{2x^2}$. Tambien admiten integracion exâcta aun quando incluyen potencias complexâs, como no estén en el denominador, y su esponente sea un número entero y positivo; pues subidas á las potencias, se integra despues cada término por sí: por egemplo, $S dx (a + cx^4)^2$ que equivale á $S(aadx + 2acx^4 dx + ccx^8 dx)$, es $\frac{aax^2}{5} + \frac{ccx^9}{9}$. En $S adx (b + x^n)^3 (c + x^m)^4$ se hacen las operaciones indicadas, y se integran despues los términos que resulten.

514 Podrá no obstante ser integrada por la regla general qualquiera cantidad complexâ elevada á una potencia negativa ó fraccionaria, si está multiplicada por la diferencial

de la cantidad que se ha de elevar, prescindiendo de las constantes que la multiplican ó la parten. Así sucede á $k dx (a + bx)^m$, en donde $k dx$ es la diferencial de $a + bx$ multiplicada por $\frac{k}{b}$: y por eso considerando á $a + bx$ como una sola variable, será $S k dx (a + bx)^m = \frac{k dx (a + bx)^{m+1}}{(m+1)d(a+bx)} = \frac{k(a+bx)^{m+1}}{b(m+1)}$. Tam-

bien es integrable $\frac{aadx + 2axdx}{\sqrt{(ax+xx)}} = (aadx + \dots$

$2axdx)(ax+xx)^{-\frac{1}{2}}$, por ser $aadx + 2axda$ la diferencial de $ax + xx$ multiplicada por a : y así $S (aadx + 2axdx) (ax+xx)^{-\frac{1}{2}} = \dots$
 $\frac{(aadx + 2axdx) (ax+xx)^{\frac{1}{2}}}{\frac{1}{2}(ax+2xdx)} = 2a(ax+xx)^{\frac{1}{2}}$.

515 Luego generalmente, qualquiera diferencial binomia de esta forma $kx^m dx (a + bx^n)^p$ podrá ser integrada exâctamente 1.º quando el número p es entero y positivo, sean m y n los que quieran. 2.º Quando el esponente de la variable x que está fuera del paréntesis, es menor en 1 que el esponente de la otra x : es decir, que se podrá integrar la cantidad $kx^{n-1} dx (a + bx^n)^p$, sean n y p los números que se quieran; pues en tal caso será $kx^{n-1} dx$ diferencial de $a + bx^n$ multiplicada por $\frac{k}{nb}$: luego &c. (514).

516 3º Quando dividiendo el esponente m de la primera x aumentado de 1, por el esponente n de la segunda, resulta un número entero y positivo de cociente: como sucede à la cantidad $kx^3 dx(a+bx^2)^{\frac{4}{5}}$, donde el cociente de $3+1$ partido por 2, es 2. Para integrarla supongo $a+bx^2=z$, y será $x^2=\frac{z-a}{b}$: y pues que $x^3 dx$ que precede al binomio, dejando à parte las constantes, resulta de diferenciar x^4 cuadrado de x^2 ; cuadraré la equacion $x^2=\frac{z-a}{b}$, y diferenciando el resultado $x^4=\left(\frac{z-a}{b}\right)^2$; saldrá $4x^3 dx=2\left(\frac{z-a}{b}\right) \times \frac{dz}{b}$: ó $x^3 dx = \left(\frac{z-a}{b}\right) \times \frac{dz}{2b}$. Si pongo aora en la cantidad dada en lugar de $x^3 dx$, y $a+bx^2$ sus valores en z ; tendré $k\left(\frac{z-a}{2bb}\right) dz \times z^{\frac{4}{5}}$ ó....

$$\frac{kz^{\frac{4}{5}+1} dz}{2bb} - \frac{kaz^{\frac{4}{5}} dz}{2bb} : \text{cuya integral es....}$$

$$\frac{kz^{\frac{4}{5}+2}}{(\frac{4}{5}+2) 2bb} - \frac{kaz^{\frac{4}{5}+1}}{(\frac{4}{5}+1) 2bb} : \text{ó por ser } \frac{kz^{\frac{4}{5}+1}}{2bb} \text{.....}$$

multiplicador comun,..... $\frac{kz^{\frac{4}{5}+1}}{2bb} \left(\frac{z}{\frac{4}{5}+2} - \dots \right)$

$$\frac{a}{\frac{4}{5}+1} = \frac{kz^{\frac{4}{5}+1}}{2bb} \left(\frac{5}{14} z - \frac{5}{9} a \right) : \text{sustituyo en lu-}$$

gar de z su valor; y saldrá por último, $Skx^3 dx(a+bx^2)^{\frac{4}{5}} = \frac{k}{2bb} ((a+bx^2)^{\frac{4}{5}+1} \times \frac{5}{14}(a+bx^2) - \frac{5}{9}a)$, que es la integral que se busca.

517 Si el binomio no tuviese la dicha condicion, podrá las mas veces reducirse à otro igual que la tenga, dividiendo sus dos términos por la potencia de x que encierra; y multiplicando la cantidad de afuera para compensar esta division, por dicha potencia de x elevada al grado que indica el esponente total del binomio. Por egeemplo, para integrar $\frac{aa dx}{(aa+xx)^{\frac{3}{2}}} = aa x^0 dx(aa+xx)^{-\frac{3}{2}}$, donde $0+1$ no es divisible por 2, partiré por x^2 el binomio, y multiplicaré por $(x^2)^{-\frac{3}{2}} = x^{-3}$ la cantidad de afuera, y tendré $aa x^{-3} dx(aa x^{-2}+1)^{-\frac{3}{2}}$, espresion integrable por dividir exáctamente -2 à $-3+1=-2$. Supongo pues, $aa x^{-2}+1=z$, y será $x^{-2}=\frac{z-1}{aa}$: y como $x^{-3} dx$ es la diferencial de x^{-2} sin las constantes, diferenciaré $x^{-2}=\frac{z-1}{aa}$, y saldrá $-2x^{-3} dx = \frac{dz}{aa}$, y $x^{-3} dx = -\frac{dz}{2aa}$: luego sustituyendo, será $aa x^{-3} dx(aa x^{-2}+1)^{\frac{3}{2}} = \frac{-aa \times dz}{2aa} \times z^{-\frac{3}{2}} = \dots$

$$\frac{-z^{-\frac{3}{2}} dz}{2}, \text{ cuya integral es } \frac{-z^{1-\frac{3}{2}}}{2(1-\frac{3}{2})} = z^{-\frac{1}{2}}.$$

Pongo por z su valor, y tendré $Saax^3 dx$

$$(aax^{-2}+1)^{-\frac{3}{2}} = (aax^{-2}+1)^{-\frac{1}{2}} = \frac{1}{\sqrt{(aax^{-1}+1)}}$$

$\frac{x}{\sqrt{(aa+xx)}}$. Quando hay en los dos términos del binomio potencias de x , se practica lo mismo dividiendo por una de ellas. Las cantidades trinomias, quadrinomias &c. á escepcion de algun otro caso extraordinario, solo en los esplicados (513 y sig.) admiten integracion exácta.

518 Fuera de los casos mencionados en que las diferenciales binomias admiten integracion exácta, se acude á las series para conseguirla á lo ménos proxima. Si se reduce por egemplo, el binomio de la cantidad $2adx(a^2-x^2)^{-1}$ á la serie convergente

$$\frac{1}{a^2} + \frac{x^2}{a^4} + \frac{x^4}{a^6} + \frac{x^6}{a^8} + \&c. (445); \text{ será } 2adx$$

$$(a^2-x^2)^{-1} = 2 \left(\frac{dx}{a} + \frac{x^2 dx}{a^3} + \frac{x^4 dx}{a^5} + \frac{x^6 dx}{a^7} + \&c \right)$$

é integrando cada término por sí, $S2aax$

$$(a^2-x^2)^{-1} = 2 \left(\frac{x}{a} + \frac{x^3}{3a^3} + \frac{x^5}{5a^5} + \frac{x^7}{7a^7} + \right.$$

$\&c.)$

Integracion de las diferenciales con dos ó mas variables.

519 Pues que $d(xy)$ es $ydx+xdy$ (462); será $S(ydx+xdy) = xy$. En $S(ydx+xdy+bdz)$, sacada la integral xy de $ydx+xdy$, y restada su diferencial de $ydx+xdy+bdz$, saldrá de residuo bdz , cuya integral bz añadida á xy , dará $xy+bz = S(ydx+x dy+bdz)$. Del mismo modo se integra la cantidad $ydx+x dy+bdy$, tomando la integral de los dos términos $x dy+bdy$ que es $xy+by$; pues $d(xy+by) = ydx+x dy+bdy$. Luego para integrar una diferencial con muchas variables, quando es posible, se deben integrar los términos afectados de una misma variable, mirando las otras como constantes: se diferencia despues el resultado contando con todas las variables que encierra, y se resta lo que salga, de la cantidad propuesta. Si nada queda, se tendrá la integral que se busca: y si queda, se tomará su integral, que se añadirá á la anterior, continuando así hasta tenerla completa.

En virtud de esta regla se hallará que $S(ny^m x^{m-1} dx + mx^n y^{m-1} dy) = x^n y^m \cdot S \frac{y dx + x dy}{y^2} =$

$$S(y^{-1} dx - xy^{-2} dy) = \frac{x}{y} \cdot S \left(\frac{axn-1 y dx - am x^n dy}{y^{m+1}} \right)$$

$\frac{ax^n}{y^m}$: y $S(x^3dy + 3x^2ydx - x^2dz + 2xzdx - xdx + y^2dy) = x^3y - x^2z + \frac{1}{2}x^2 - \frac{1}{3}y^3$. &c.

520 Para conocer si una diferencial de muchas variables es ó no integrable; sea X la integral de la diferencial $Pdx + Qdy$ de dos variables, en la que P y Q son funciones de x , y: representemos por $d(X)$,

las diferenciales de X haciendo variar en la primera expresion á x , y en la segunda á y : y por $d(X)$ la diferencial

de X haciendo primero variar á x , y despues á y . Es claro que $Pdx = d(X)$, y $Qdy = d(X)$: y que haciendo variar la cantidad y que contiene P , y la cantidad x que contiene Q ;

será $d(P)dx = d(X)$, y $d(Q)dy = d(X)$. La

diferencial de X que se encuentra, variando primero x y despues y , debe ser igual á la diferencial de X que resulta variando prime-

ro y , y despues x : luego $d(X) = d(X)$: de

consiguiente $d(P)dx = d(Q)dy$, y $\frac{d(P)}{dy} = \frac{d(Q)}{dx}$.

De donde se infiere que si una diferencial

$Pdx + Qdy$ de dos variables es integrable, la diferencial de P variando á y , dividida por dy ; debe ser igual á la diferencial de Q variando á x , dividida por dx . Asi se ve en la diferencial $ydx + xdy$, en la que $P=y$, $Q=x$;

pues $\frac{d(P)}{dy} = \frac{dy}{dy} = 1$, y $\frac{d(Q)}{dx} = \frac{dx}{dx} = 1$; prueba de que dicha diferencial es integrable.

521 Sea ahora X la integral de una diferencial $Pdx + Qdy + Rdz$ de tres variables: suponiendo constante á z , se tiene $dz=0$, y de consiguiente $dX = Pdx + Qdy$,

equacion en la que $\frac{d(Q)}{dy} = \frac{d(Q)}{dx}$. Si se toma á y por constante, $dy=0$, $d(X) = Pdx + Rdz$,

y $\frac{d(P)}{dx} = \frac{d(R)}{dz}$. Haciendo constante á x , $dx=0$,

$dX = Qdy + Rdz$, y $\frac{d(Q)}{dz} = \frac{d(R)}{dy}$. Luego quan-

do una diferencial $Pdx + Qdy + Rdz$ de tres variables admite integracion exácta, ha de

tener idénticas las tres equaciones $\frac{d(P)}{dy} =$

$\frac{d(Q)}{dx}$, $\frac{d(P)}{dz} = \frac{d(R)}{dx}$, $\frac{d(Q)}{dz} = \frac{d(R)}{dy}$. Por el mismo

método se encuentran las que son necesarias

para diferenciales de mayor número de variables.

Integración de las diferenciales segundas, terceras &c.

522 Por lo que dejamos dicho (465), una diferencia primera es la integral de su segunda: y esta lo es de su tercera, y así de las demas: por lo mismo las diferencias segundas, terceras &c. se deben integrar por las mismas reglas que las primeras: de suerte que $Sddx = dx$, $Sdxddx = \frac{1}{2}dx^2$.

Si se hubiese de integrar la diferencial segunda $x^n ddx + nx^{n-1} dx^2$, que tiene dos variables; suponiendo dx constante, se reducirá á $x^n ddx$, cuya integral es $x^n dx$: diferencio esta integral haciendo variar á x y dx ; y será $d(x^n dx) = x^n ddx + nx^{n-1} dx^2$, que es justamente la diferencial propuesta: luego $S(x^n ddx + nx^{n-1} dx^2) = x^n dx$.

523 Á muchas de las mencionadas integrales faltan las constantes que se despreciaron en su diferenciación (461): y para determinarlas hay que igualar á cero la variable x de la integral sacada; y lo que resulte mudándole los signos, será la constante: cuando sale cero es señal que no hay constantes que añadir á la integral hallada.

Dejando para despues la aplicacion de esta regla, la demostraremos suponiendo que sea Q una integral completa quando x vale a ,

y que siendo P la integral incompleta que da el cálculo, haya de completarse con la constante ó constantes C que no conocemos. Si substituyendo en P a en lugar de x , resulta A , será $A+C$ la integral completa en el caso de $x=a$; y tendremos $Q=A+C$. Pero como Q nos es por lo común incógnito, le suponemos cero para descubrir el valor de C : pues siendo entónces $0=A+C$, ó $C=-A$; será la constante lo que resulte de suponer $x=0$, tomado con signos contrarios.

524 De consiguiente, si la integral es cero, no quando $x=0$, sino quando tiene un valor determinado a ; será entonces la constante la misma integral que da el cálculo, poniendo en ella a en lugar de x . Pues que $Sx^2 dx = \frac{x^3}{3}$ es $\frac{a^3}{3}$ quando $x=a$; será $Q = \frac{a^3}{3} + C$, y como suponemos $Q=0$, tendremos $0 = \frac{a^3}{3} + C$, $C = -\frac{a^3}{3}$, y la integral completa $Q = \frac{x^3 - a^3}{3}$. Si $S - x^n dx = -\frac{x^{n+1}}{n+1}$ es cero quando $x=a$; será $-\frac{a^{n+1}}{n+1} + C = 0$, $C = \frac{a^{n+1}}{n+1}$, y la integral completa $Q = \frac{a^{n+1} - x^{n+1}}{n+1}$. Finalmente, si $Sxdx (c^3 + \dots)$

$$bx^2)^{\frac{1}{2}} = \frac{(c^3 + bx^2)^{\frac{3}{2}}}{3b} \text{ faese cero quando } x = a;$$

$$\text{sería } \frac{(c^3 + ba^2)^{\frac{3}{2}}}{3b} + C = 0, C = -\frac{(c^3 + ba^2)^{\frac{3}{2}}}{3b}, \text{ y}$$

$$Q = \frac{(c^3 + bx^2)^{\frac{3}{2}} - (c^3 + ba^2)^{\frac{3}{2}}}{3b}.$$

*Integracion de las diferenciales que llevan senos y cosenos, y de las espone-
nenciales.*

525 Pues que demostramos (467 y sig.) que $d(\text{sen } z) = dz \cos z, d(\cos z) = -dz \text{ sen } z;$ será la integral de $dz \cos z, \text{ sen } z, \text{ ó } \text{sen } z + C:$ $S - dz \text{ sen } z = \cos z + C.$ Para integrar $dz \cos 3z,$ se escribirá así, $\frac{3dz \cos 3z}{3}$: y será su inte-

gral $\frac{\text{sen } 3z}{3} + C:$ $dz \text{ sen } 3z$ se transforma en $\frac{-3dz \text{ sen } 3z}{-3}$, y es su integral $\frac{\cos 3z}{-3} + C:$ en

general, $S dz \text{ sen } mz = S \frac{-mdz \text{ sen } mz}{-m} = \dots\dots\dots$

$$\frac{\cos mz}{m} + C.$$

Si fuese la diferencial $(\text{sen } z)^n dz \cos z$ que viene à ser $(\text{sen } z)^n d(\text{sen } z);$ se integrará por la regla general así; $\frac{(\text{sen } z)^{n+1}}{n+1} + C. S(\text{sen}:$

$$mz)^n dz \cos mz = S \left(\frac{\text{sen } mz^n mdz \cos mz}{m} \right) =$$

$$S \frac{\text{sen } mz^n d(\text{sen } mz)}{m}, \text{ es } \frac{(\text{sen } mz)^{n+1}}{m(n+1)} + C: \text{ y}$$

$$S m(\cos mz)^n dz \text{ sen } mz = S m \frac{(\cos mz)^n x mdz \text{ sen } mz}{-m}$$

$$\text{es } \frac{(\cos mz)^{n+1}}{-m(n+1)} + C.$$

526 La integral de las diferenciales espone-
nenciales debe ser la misma diferencial di-
vidida por la diferencial de su logarítmico: re-
gla opuesta á la que dimos (471) para dife-
renciarlas: porque si la diferencial de c^x es $c^x dx$ (471), será $S c^x dx = c^x$: asimismo. . . .
 $S x^z dz lx + x^{z-1} z dx$ es x^z ; porque siendo. . . .
 $dz lx + \frac{z dx}{x}$ la diferencial del logarítmico x^z , si
divido por ella $x^z dz lx + x^{z-1} z dx = x^z dz lx +$
 $\frac{x^z z dx}{x}$; tendré de cociente x^z .

Integracion de las cantidades logarítmicas.

527 Para integrar $\frac{dx}{x lx}$, haremos $lx = y,$ y

será (470) $\frac{dx}{x} = dy, \frac{dx}{x lx} = \frac{dy}{y}$: y como $S \frac{dy}{y}$..

es ly (512); si ponemos por y su valor, ten-
dremos $S \frac{dx}{x lx} = l lx.$ En $m(lx)^{m-1} \frac{dx}{x}$, supo-

niendo $lx = y,$ sacaremos $\frac{dx}{x} = dy (lx)^{m-1} =$

y^{m-1} : luego $Sm(lx)^{m-1} \frac{dx}{x} = Smym^{-1} dy$, será

y^m ó $l(x)^m$, poniendo por y , lx . $S \frac{dx}{a+x} = \dots$

$l(a+x)$ ó $l(a+x)+C$: $S \frac{2xdx}{a^2+x^2} = l(a^2+x^2)+C$.

En general, quando el numerador de un quebrado es la diferencial del denominador, la integral es el logaritmo del denominador.

528. Á veces es menester multiplicar ó partir los dos términos del quebrado por cantidades constantes para que el numerador quede diferencial cabal del denominador: en cuyo caso será su integral el logaritmo del denominador partido ó multiplicado por las constantes. Sirva de ejemplo $\frac{axxdx}{a^3+x^3}$, á la que por ser $3x^2 dx$ diferencial de a^3+x^3 , la daré esta forma $\frac{a}{3} \times \frac{3x^2 dx}{a^3+x^3}$: y será su integral $\frac{a}{3} l(a^3+x^3)+C$. Tambien $S \frac{dx}{a-x} = S \frac{-1 dx}{a-x} = -l(a-x)+C = l(a-x)^{-1}+C = l\left(\frac{1}{a-x}\right) + C$.

$S \frac{xdx}{aa+xx} = S \frac{1}{2} \times \frac{2xdx}{aa+xx} = \frac{1}{2} l(aa+xx) + C =$

$l(\sqrt{aa+xx}) + C$: $S \frac{ax^{n-1} dx}{k+bx^n} = S \frac{a}{bn} x \dots \dots \dots$

$\frac{bnx^{n-1} dx}{k+bx^n} = \frac{a}{bn} l(k+bx^n) + C = l(k+bx^n) \frac{a}{bn} + C$.

$l(\sqrt{aa+xx}) + C$: $S \frac{ax^{n-1} dx}{k+bx^n} = S \frac{a}{bn} x \dots \dots \dots$

$\frac{bnx^{n-1} dx}{k+bx^n} = \frac{a}{bn} l(k+bx^n) + C = l(k+bx^n) \frac{a}{bn} + C$.

529. Hay cantidades que no admiten esta preparacion, en las que es preciso multiplicar por una funcion de x , tal que el producto sea la diferencial de dicha funcion; pues dividiendo despues por el resultado, quedará reducida la diferencial á logaritmica. Si se

multiplica $\frac{dx}{\sqrt{xx-1}}$ por $x+\sqrt{xx-1}$, el pro-

ducto $\frac{xdx}{\sqrt{xx-1}} + dx$ es justamente la di-

ferencial del multiplicador $x+\sqrt{xx-1}$: lue-

go $S \frac{dx}{\sqrt{xx-1}} = S \frac{dx + \frac{xdx}{x+\sqrt{xx-1}}}{x+\sqrt{xx-1}} = l(x+\sqrt{xx-1}) + C$. Tambien sacaremos la inte-

gral de $\frac{dx}{\sqrt{1-xx}}$, multiplicando ambos tér-

minos por $\sqrt{1-xx}$: pues resulta $\frac{dx\sqrt{1-xx}}{\sqrt{xx-1}}$, cu-

ya integral es $\sqrt{1-xx} \times l(x+\sqrt{xx-1}) + C$ en

virtud de lo dicho. De consiguiente, la inte-

gral de $\frac{dx}{\sqrt{xx \pm aa}}$ es $l(x \pm \sqrt{xx \pm aa})$, como

se puede verificar diferenciando esta cantidad (470).

Integrales que se refieren al círculo.

530 Sea $SM = s$ (fig. 181) el arco de un círculo cuyo diámetro es a ; SP , x ; PM , y ; tirense la pm infinitamente próxima à PM , y la Mr paralela à SC : y será $Pp = Mr = dx$, $Mm = ds$, $PM = \sqrt{2ax - xx}$ (348): y en los triángulos semejantes CPM, Mrm , se tendrá $PM:CM::Mr:Mm$, ó $\sqrt{2ax - xx}:\frac{1}{2}a::dx:$

$ds = \frac{\frac{1}{2}adx}{\sqrt{2ax - xx}}$, elemento del arco SM : y

$S \frac{\frac{1}{2}adx}{\sqrt{2ax - xx}}$ será el valor de dicho arco. Para

averiguar el valor de esta integral quando x tiene un valor determinado; se restará este de $SC = \frac{1}{2}a$, para conocer CP , y con él y la hipotenusa $CM = \frac{1}{2}a$, se calculará en el triángulo rectángulo CPM el ángulo SCM (285): con el qual y el radio CM será facil hallar la longitud del arco SM (167), que es el valor de la integral propuesta.

Para reducir à ella $\frac{hdx}{\sqrt{gkx - pxx}}$, siendo

h, g, k, p cantidades conocidas; se dividirán numerador y denominador por \sqrt{p} : y co-

mo en $\frac{\frac{h}{\sqrt{p}}dx}{\sqrt{\left(\frac{gk}{p}x - xx\right)}}$ ó $\frac{h}{\sqrt{p}} \times \frac{dx}{\sqrt{\left(\frac{gk}{p}x - xx\right)}}$

que resulta, ha de multiplicar à dx la mitad de $\frac{gk}{p}$ multiplicador de x , para que sea semejante à la anterior diferencial; multiplicaré y dividire à un mismo tiempo por $\frac{1}{2}\left(\frac{gk}{p}\right)$,

y tendré $\frac{2ph}{gk\sqrt{p}} \times \frac{\frac{gk}{2p}dx}{\sqrt{\left(\frac{gk}{p}x - xx\right)}}$: diferencial

que representa un arco de círculo cuyo diámetro es $\frac{gk}{p}$ y la abscisa x , multiplicado por $\frac{2ph}{gk\sqrt{p}}$, que se determinará como la otra.

531 Contando las abscisas desde C , y siendo CS , b ; CP , x ; sale $\frac{-bdx}{\sqrt{(bb - xx)}}$ por elemento del arco SM , comparando los triángulos semejantes CPM, Mmr , y teniendo presente que $PM = \sqrt{(bb - xx)}$: y que pues SM mengua al paso que CP ó x crece, deberá ser la diferencial negativa (461).

Reduciremos à ella $\frac{kdx}{\sqrt{gh - pxx}}$, transformándola como ántes en $\frac{k}{\sqrt{p}} \times \frac{dx}{\sqrt{\left(\frac{gh}{p} - xx\right)}}$: y como

aquí $\frac{gh}{p}$ sustituye por bb , la cantidad $-b$ que ha de acompañar à dx , es $-\sqrt{\frac{gh}{p}}$: de

suerte que tendremos $\frac{\frac{k}{\sqrt{p}}}{-\sqrt{\frac{gh}{p}}} \times \frac{-\sqrt{\frac{gh}{p}} \times dx}{\sqrt{\left(\frac{gh}{p} - xx\right)}}$:

y suponiendo $CS = \sqrt{\frac{gh}{p}}$, y $CP = x$; será la

integral $\frac{\frac{k}{\sqrt{p}}}{\sqrt{\frac{gh}{p}}} \times SM$ ó $-\frac{k}{\sqrt{gh}} \times SM + C$.

532 Si se tira la tangente SN , la secante CN , la Cn infinitamente próxima à CN , y se traza desde C con el radio CN el arco infinitamente pequeño Nt que será perpendicular à CN y Cn ; los triángulos semejantes $CM'm'$, CtN darán $CN:CM::tN:M'm'$: de los CSN , tNn también semejantes, se saca $CN:CS::Nn:tN$: y de consiguiente $(CN)^2:CM' \times CS::tN \times Nn$: ó llamando $CS = a$; la tangente $SN = x$; y s el arco SM' , $aa+xx$: $aa:dxds = \frac{aadx}{aa+xx}$, espresion del elemento de un arco cuyo radio es a , y x subtangente: luego si además del radio que se conoce, se averigua el ángulo SCN en el triángulo rectán-

gulo SCM ; se podrá determinar la longitud del arco para cada valor de x .

Para reducir à dicha espresion la diferencial $\frac{kdx}{gbb+hx}$; puesta así, $\frac{k}{h} \times \frac{dx}{\frac{gbb}{h} + xx}$, se

multiplicarán sus dos términos por $\frac{gbb}{h}$: y

pues que resulta $\frac{k}{gbb} \times \frac{\frac{gbb}{h} dx}{\frac{gbb}{h} + xx}$; será la inte-

gral el producto del arco cuya tangente es x , y el radio $\sqrt{\frac{gbb}{h}}$ multiplicado por $\frac{k}{gbb}$.

533 Espliquemos ahora un modo fácil de encontrar la longitud del arco de un ángulo dado, conocido el radio, que como hemos visto, sirve de *módulo* en todas estas integraciones. Llamemos R el radio, N el número de grados del ángulo dado y Z su longitud. Siendo el diámetro à la circunferencia ó el radio à la semicircunferencia como 1 : $3,1415926535$ &c. será $3,14159$ &c. : 1 :: 180° : $R = 57^\circ$, 29577951 &c. $= 57^\circ$, $17'$, $44'' = m$: luego el arco de 57° , $17'$, $44''$ es à la longitud del radio, como el número de grados del ángulo N es à la longitud de su arco; esto es, $m:R::N:Z = \frac{R \times N}{m}$, ó haciendo $r =$

$$\frac{1}{m} = \frac{1}{57,295779 \&c.}, Z = N \times R \times r.$$

*Aplicacion de la integracion por series
à los logaritmos.*

534 Para encontrar el logaritmo hiperbólico del número $\frac{n+x}{n}$; sacaré su diferencial

$\frac{dx}{n+x}$ (469); y pues que reducido à série este que-

brado es (445), $\frac{dx}{n+x} = \frac{dx}{n} - \frac{x dx}{n^2} + \frac{x^2 dx}{n^3} - \dots$

$\frac{x^3 dx}{n^4} + \&c.$ tendremos integrando, $l\left(\frac{n+x}{n}\right) =$

$\frac{x}{n} - \frac{x^2}{2n^2} + \frac{x^3}{3n^3} - \frac{x^4}{4n^4} + \&c.$ que se reduce ha-

ciendo $n=1$, à $l(1+x) = x - \frac{1}{2}x^2 + \frac{1}{3}x^3 -$

$\frac{1}{4}x^4 + \&c.$ série que ya encontramos (458), quando x es negativa, corresponden à los términos pares signos contrarios.

535 Si el número hubiera sido $\frac{n+x}{n-x}$,

cuya diferencial es $\frac{2ndx}{n^2-x^2} = 2\left(\frac{dx}{n} + \frac{x_2 dx}{n^3} +$

$\frac{x_4 dx}{n^5} + \frac{x_6 dx}{n^7} + \&c.\right)$; se hubiera sacado inte-

grando, $l\left(\frac{n+x}{n-x}\right) = 2\left(\frac{x}{n} + \frac{x_3}{3n^3} + \frac{x_5}{5n^5} +$

$\frac{x_7}{7n^7} + \&c.\right)$: que se reduce haciendo $n=1$,

à $2\left(x + \frac{1}{3}x^3 + \frac{1}{5}x^5 + \frac{1}{7}x^7 + \&c.\right)$ la misma que sacamos ya (458).

536 Finalmente, Si dado un logaritmo y , se pidiese el número $1+x$ que le corresponde; tendremos $y = 1+x$, $dy = \frac{dx}{1+x}$, ó $dy + x dy -$

$dx = 0$. Si hacemos $x = Ay$, $By^2 + Cy^3 + Dy^4 + \&c.$ será $dx = A dy + 2By dy + 3Cy^2 dy + 4Dy^3 dy + \&c.$ y haciendo las correspondientes sustituciones saldrá.....

$\left. \begin{aligned} dy + Ay dy + By^2 dy + Cy^3 dy \\ - A dy - 2By dy - 3Cy^2 dy - 4Dy^3 dy \end{aligned} \right\} = 0,$

de donde sacaremos (445) $A = 1$, $B = \frac{1}{2}A = \frac{1}{2}$,

$C = \frac{1}{3}B = \frac{1}{2 \cdot 3}$, $D = \frac{1}{4}C = \frac{1}{2 \cdot 3 \cdot 4}$ &c. y será el

número que se busca $1+x = 1 + y + \frac{1}{2}y^2 + \frac{1}{2 \cdot 3}$

$y^3 + \frac{1}{2 \cdot 3 \cdot 4}y^4 + \&c.$

Aplicaciones del Cálculo integral.

Cuadratura de las Curvas.

537 Si de los extremos M, m (fig. 182) de uno de los infinitos lados de que podemos concebir formada una curva MSQ (102), imaginamos tiradas perpendicularmente al ege Ss las dos ordenadas MP, mp infinitamente próximas, llamando MP, y ; SP, x ; será Pp, dx ;

$rm, dy; pm, y+dy$, y la superficie del trapecio $PMmp$ (182), $\frac{1}{2}(PM+pm) \times Pp = \frac{1}{2}(2y+dy) \times dx = ydx + \frac{1}{2}dx dy = ydx$, despreciando $\frac{1}{2}dx dy$ (442). Luego si poniendo en ydx el valor de y sacado de la equacion à la curva de que se trata, se integra despues lo que resulta; se habrá sacado la suma de todos los trapecios que componen la superficie que abraza la curva, ó su *Cuadratura*. Pero como el trapecio $PMmp$ que hemos considerado como la diferencial del espacio SMP , puede serlo tambien del espacio $LHPM$ tomado desde un punto fijo H ; pues $PMmp = HpmL - HPML = d(HPML)$; es preciso añadir á la integral que da el cálculo, una constante que muestra esta diferencia; como veremos mas claramente en los egemplos.

538 Si las ordenadas saliesen todas de un centro comun como las SQ, Sq ; se considera el ámbito de la curva dividido en una infinidad de triángulos como SQq , cuya superficie $\frac{1}{2} \times Sq \times Qt$ es, llamando SQ, y ; Qt, dx ; $\frac{1}{2}(y+dy) \times dx = \frac{1}{2}ydx$, despreciando $\frac{1}{2}dx dy$ (442). Quando las ordenadas no son perpendiculares al ege, aunque sean paralelas entre si, resulta una expresion algo diferente de las anteriores.

539 Vengamos à los egemplos, y sea el 1º *cuadrar el triángulo ABC* (fig. 175): para esto, supongamos tiradas las dos ordenadas

Mm, Nn infinitamente próximas, y llamemos a la altura CD , b la base AB , y la Mm , y CP, x ; será Pp, dx : y el elemento del area $NMnm = ydx$: pongamos ahora en lugar de y ,

$\frac{bx}{a}$ que se saca de los triángulos semejantes ABC, CMm , donde $CD : AB :: CP : Mm$, ó $a : b :: x : y = \frac{bx}{a}$; y tendremos $MNnm = ydx =$

$\frac{bx dx}{a}$, cuya integral $Sy dx = \frac{bx x}{2a}$ será el espacio CMm : luego el de todo el triángulo ABC en el que $x = a$, será $\frac{baa}{2a} = \frac{ba}{2}$, como

lo digimos (182).

540 2º *Para cuadrar la parábola* (fig. 182) cuya equacion es $y^2 = px$ ó $y = \sqrt{px} = p^{\frac{1}{2}} x^{\frac{1}{2}}$; pongo este valor en ydx , y tendré $p^{\frac{1}{2}} x^{\frac{1}{2}} dx$,

cuya integral $\frac{2}{3} p^{\frac{1}{2}} x^{\frac{3}{2}} + C$ es el valor de la superficie de la parábola. Como en el punto S en que $x=0$, es tambien cero el espacio SMP , y la integral se reduce à $0 = 0 + C$ en donde $C=0$; no habrá constante quando los espacios se cuentan desde el punto S , y será $\frac{2}{3} p^{\frac{1}{2}} x^{\frac{3}{2}}$ el espacio indefinido SPM . Pero si se pidiese la superficie del espacio $LHMP$, siendo $SH = b$; sería $LHMP = \frac{2}{3} p^{\frac{1}{2}} x^{\frac{3}{2}} + C$; y pues

que este espacio es cero quando $SP = x = b$;

en cuyo supuesto es $o = \frac{2}{3}p^{\frac{1}{2}}b^{\frac{3}{2}} + C$ (524), y

$C = -\frac{2}{3}p^{\frac{1}{2}}b^{\frac{3}{2}}$; será $LHMP = \frac{2}{3}p^{\frac{1}{2}}x^{\frac{3}{2}} - \frac{2}{3}p^{\frac{1}{2}}b^{\frac{3}{2}}$

La espresion $\frac{2}{3}p^{\frac{1}{2}}x^{\frac{3}{2}} = \frac{2}{3}p^{\frac{1}{2}}x^{\frac{1}{2}} \times x = SPM$, se reduce poniendo y en lugar de $p^{\frac{1}{2}}x^{\frac{1}{2}}$, à $\frac{2}{3}xy$, que son los dos tercios del rectángulo $SPMR$. Tambien el espacio $LHPM = \dots$
 $\frac{2}{3}p^{\frac{1}{2}}x^{\frac{3}{2}} - \frac{2}{3}p^{\frac{1}{2}}b^{\frac{3}{2}} = \frac{2}{3}p^{\frac{1}{2}}x^{\frac{1}{2}} \times x - \frac{2}{3}p^{\frac{1}{2}}b^{\frac{1}{2}} \times b = \frac{2}{3}SP \times PM - \frac{2}{3}LH \times SH$, es la diferencia entre los dos tercios de los rectángulos $SPMA$ y $SHLZ$.

541 3º *Habiendo de cuadrar el cuarto de círculo SCD* (fig. 181); supondremos el radio a , y $PM = y = \sqrt{(aa - xx)}$ (352): y será el espacio $CDMP = \int y dx = \int Sdx \sqrt{(aa - xx)} = (154t.I.) \int Sdx \left(a - \frac{xx}{2a} - \frac{x^4}{8a^3} - \frac{x^6}{16a^5} - \frac{5x^8}{128a^7} - \dots \right)$: donde integrando cada térmi-

no por sí, resulta $CDMP = ax - \frac{x^3}{2 \cdot 3 \cdot a} - \frac{1 \cdot 3 \cdot x^5}{2 \cdot 4 \cdot 5 \cdot a^3} - \frac{1 \cdot 3 \cdot 5 \cdot x^7}{2 \cdot 4 \cdot 6 \cdot 7 \cdot a^5} - \frac{1 \cdot 3 \cdot 5 \cdot 7 \cdot x^9}{2 \cdot 4 \cdot 6 \cdot 8 \cdot 9 \cdot a^7} - \dots$. Si suponemos $x = a$, saldrá la superficie del cuadrante $CSD = aa - \frac{aa}{2 \cdot 3 \cdot a} - \frac{aa}{2 \cdot 4 \cdot 5 \cdot a^3} - \frac{aa}{2 \cdot 4 \cdot 6 \cdot 7 \cdot a^5} - \frac{aa}{2 \cdot 4 \cdot 6 \cdot 8 \cdot 9 \cdot a^7} - \dots$

$\frac{5}{1152} - \dots$ &c. La superficie del sector CMD se saca restando de $CDMP$ la del triángulo $CPM = PM \times \frac{1}{2}CP = \frac{1}{2}x \times \sqrt{(aa - xx)}$.

542 4º *En la Elipse* cuya equacion es $y = \frac{b}{a} \sqrt{(aa - xx)}$, se tiene haciendo las mismas operaciones, $\int y dx = bx - \frac{bx^3}{6aa} - \frac{bx^5}{40a^4} - \frac{bx^7}{112a^6} - \frac{5bx^9}{1152a^8} - \dots$ &c. $= \frac{b}{a} \left(ax - \frac{1 \cdot x^3}{2 \cdot 3 \cdot a} - \frac{1 \cdot x^5}{2 \cdot 3 \cdot 5 \cdot a^3} - \frac{1 \cdot x^7}{2 \cdot 4 \cdot 6 \cdot 7 \cdot a^5} - \dots \right)$: la qual série tiene

con la anterior del círculo la razon de b á a segun lo dejamos demostrado.

543 5º *Para cuadrar la area hiperbólica SMP* (fig. 163) y el sector hiperbólico CSM ; sustituiremos en $y dx, \frac{b}{a} \sqrt{(xx - aa)}$ valor de y en la equacion de la hipérbola: y será $y dx = \frac{b dx}{a} \sqrt{(xx - aa)}$ el elemento de su superficie. El sector $CSM = CPM - SPM = CP \times \frac{1}{2} PM - SPM = \frac{1}{2} yx - \int y dx$, cuya diferencial $\frac{1}{2}(x dy + y dx) - y dx = \frac{1}{2}(x dy - y dx)$, se reduce á $\frac{ab}{2} \times \frac{dx}{\sqrt{(xx - aa)}}$ substituyendo $\frac{b}{a} \sqrt{(xx - aa)}$ en lugar de y , dy . Su

integral es $(529) \frac{1}{2} ab \times l(x + \sqrt{xx - aa}) - C$:
 y como esta debe ser cero quando $x = a$, de
 cuya suposicion resulta $C = -\frac{1}{2} ab \times la$; será
 la integral completa de $\frac{ab}{2} \times \frac{dx}{\sqrt{xx - aa}}$, ó la
 superficie del sector $CSM = \frac{1}{2} ab \times l(x + \sqrt{xx -$
 $aa)) - \frac{1}{2} ab \times la = \frac{ab}{2} \times l\left(\frac{x + \sqrt{xx - aa}}{a}\right)$ Si esta se
 resta del triángulo $CPM = \frac{1}{2} (CP \times PM) =$
 $\frac{bx \sqrt{xx - aa}}{2a}$, será el residuo $\frac{bx \sqrt{xx - aa}}{2a} - \frac{ab}{2}$
 $\times l\left(\frac{x + \sqrt{xx - aa}}{a}\right)$ el valor del espacio hiperbó-
 lico SPM.

544 6º Cuadremos finalmente, la hiper-
 bola equilátera entre sus asíntotas: cuya equa-
 cion (415) haciendo $aa = 1$, es $xy = 1$: y sien-
 do (fig. 169) CG, x ; GZ, y ; $xy = 1$, da
 $y = \frac{1}{x}$. Luego $Sy dx = S \frac{dx}{x} = lx$ (512): y el
 area $MCGZYX$ será $lx - C$.

545 Como esta es cero quando $x = 0$, y
 entonces se reduce à $l(0) - C = 0$ donde $C =$
 $-l(0)$; será dicha superficie completa $lx -$
 $l(0) = l - \frac{x}{0}$. De consiguiente si hacemos $x =$
 0

$CX = b$, será el espacio $MCXX' = l \frac{b}{0}$, infinito.

Suponiendo $CU = 1$, $aa = 1$, y contando las
 abscisas desde U; será $CG = 1 - x$, $GZ =$

$y = \frac{1}{1+x}$, $y dx = \frac{dx}{1+x}$, y $Sy dx = S \frac{dx}{1+x} =$
 $l(1+x) - C = lGZ - C$. Este espacio es
 cero quando $x = 0$, en cuyo supuesto $l(1+0)$
 $- C = 0$, y $C = -l = 0$: de suerte que di-
 cho espacio será solamente $l(1+x)$, y serán
 finitos los espacios UGZY donde $CU = 1$.

546 Aquí se ve que los logarítmos hiper-
 bólicos resultan de una hipérbola equilátera cu-
 ya potencia es 1: de consiguiente siendo la po-
 tencia aa , $CU = b$, $UG = x$, $GZ = y$; hubie-
 ramos sacado $UGZY = aal(b+x) = l CU \times aa$.
 Supongamos ahora que sea mm la potencia de
 Sum , otra de las infinitas hipérbolas que se
 pueden trazar entre las asíntotas MC, Cc ; se-
 ría por lo dicho el espacio $UGmn = mml(b+x)$,
 y tendríamos $UGZY : UGmn :: aal(b+x) : mm \times$
 $l(b+x) :: aa : mm$: luego los logarítmos de un
 mismo número tomados en distintas hipérbolas,
 son como las potencias de las mismas hipérbo-
 las.

Rectificacion de las Curvas

547 Para encontrar la línea recta á que
 equivale una línea curva SM (fig. 182), ima-
 ginemos el punto m infinitamente próximo á
 M , y será Mm la diferencial de SM ; y como
 $Mm = \sqrt{((Mr)^2 + (rm)^2)} = \sqrt{(dx^2 + dy^2)}$,
 será $SV(dx^2 + dy^2)$ la fórmula para rectificar
 las curvas quando sus ordenadas son perpen-

diculares al ege, ó no salen de un punto fijo. El modo de aplicarla es despejar en la equacion á la curva despues de diferenciada, el dy en x y dx , ó el dx en y y dy , substituir estos valores en $\sqrt{(dx^2+dy^2)}$, y tomar la integral de lo que resulte.

548 1º Para rectificar la circunferencia del círculo; tomemos $\frac{aadx}{aa+xx}$ elemento de un arco cuyo radio es a , y x su tangente (532): y pues que $\frac{aadx}{aa+xx} = aadx(aa+xx)^{-1}$, $(aa+xx)^{-1} = a^{-2} \times \left(1 - \frac{x^2}{a^2} + \frac{x^4}{a^4} - \frac{x^6}{a^6} + \frac{x^8}{a^8} - \&c.\right)$; será $Saadx(aa+xx)^{-1} = S\left(dx - \frac{x^2dx}{aa} + \frac{x^4dx}{a^4} - \frac{x^6dx}{a^6} + \frac{x^8dx}{a^8} - \&c.\right) = x - \frac{x^3}{3a^2} + \frac{x^5}{5a^4} - \frac{x^7}{7a^6} + \frac{x^9}{9a^8} - \&c. = x\left(1 - \frac{x^2}{3a^2} + \frac{x^4}{5a^4} - \frac{x^6}{7a^6} + \frac{x^8}{9a^8} - \&c.\right)$ Si en esta série suponemos que x sea la tangente de 45° , que cabe ocho veces en 360° ó en toda la circunferencia, y es igual al radio a ; quedará reducida á $a\left(1 - \frac{1}{3} + \frac{1}{5} - \frac{1}{7} + \frac{1}{9} - \frac{1}{11} + \&c.\right)$

Para hacer esta série mas convergente, descompongamos el arco de 45° en otros dos b, c cuyas tangentes sean conocidas, y tendre-

mos haciendo el radio 1, $tang(b+c) = 45^\circ =$

$$1 = (472) \frac{tang\ b + tang\ c}{1 - tang\ b \times tang\ c}, \text{ de donde se sa-}$$

$$\text{ca } tang\ c = \frac{1 - tang\ b}{1 + tang\ b} : \text{ luego si } tang\ b = \frac{1}{3},$$

será $tang\ c = \frac{1}{3}$. Pongase ahora en la série anterior $\frac{1}{2}$ y $\frac{1}{3}$ en lugar de a , y resultarán las dos

$$\frac{1}{2} - \frac{1}{3 \cdot 2^3} + \frac{1}{5 \cdot 2^5} - \frac{1}{7 \cdot 2^7} + \frac{1}{9 \cdot 2^9} - \&c. \text{ y } \frac{1}{3} -$$

$$\frac{1}{3 \cdot 3^3} + \frac{1}{5 \cdot 3^5} - \frac{1}{7 \cdot 3^7} + \frac{1}{9 \cdot 3^9} - \&c. \text{ cuya su-}$$

ma 0,7853981633974483 &c. será la longitud de un arco de 45° : y de consiguiente su cuádruplo 3,141592653897932 &c. será la semicircunferencia, que comparada con el radio 1 dará la razon del diámetro á la circunferencia de que ya hemos hablado.

549 2º En la parábola cuyo arco sea u , su parámetro $2a$, y su equacion $yy = 2ax$;

tendremos $ydy = adx$, y $dx^2 = \frac{yydy^2}{aa}$: substitui-

do este valor en la fórmula $\sqrt{(dx^2+dy^2)}$, la reduce á $\frac{dy}{a} \sqrt{(yy+aa)} = du$: luego $dy \sqrt{(yy +$

$aa)} = adu$. Supongamos que sea MSN (fig. 184) la parábola que se ha de rectificar, que sea ST una tangente á su vértice, y $SP = y$; será $au = Sdy \sqrt{(yy+aa)}$. Si se tira la $Ss = a$ perpendicular á ST, y se traza una hipérbola equilateral nsp , cuyo centro esté en S y el

vértice en s , titando desde P à la parábola la ordenada PM alargada hasta que encuentre la hipérbola en p ; será $SspP = Sdy\sqrt{yy+aa}$ (424 y 537): luego $Sadu = au = SspP$, y el arco $SM = u$ de la parábola, será igual al espacio hiperbólico $SspP$ partido por la mitad del parametro.

550 3^o Para rectificar un arco u de elipse, y de hipérbola; sacaremos de la equacion à la elipse $y = \frac{b}{a}\sqrt{aa-xx}$, $dy =$

$-\frac{bxdx}{a\sqrt{aa-xx}}$; y de consiguiente será el arco elíptico $u = Sdu = S\sqrt{dx^2+dy^2} = Sdx\sqrt{1+\frac{dy^2}{dx^2}} = Sdx\sqrt{\frac{a^2-a^2x^2+b^2x^2}{a^2(a^2-x^2)}}$, cuyo va-

lor solo se puede sacar por séries. En la hipérbola se encuentra por el mismo camino $Sdu = Sdx\frac{\sqrt{a^2x^2-a^4+b^2x^2}}{a\sqrt{x^2-a^2}}$.

551 Sea la equacion $y^3 = px^2$ de la segunda parábola cúbica, en la que $x = \frac{y^{\frac{3}{2}}}{p^{\frac{1}{2}}}$: luego $dx = \frac{\frac{3}{2}y^{\frac{1}{2}}dy}{p^{\frac{1}{2}}}$, y $dx^2 = \frac{9ydy^2}{4p}$. Será

pues, $S(dx^2+dy^2)^{\frac{1}{2}} = S(dy^2 + \frac{9ydy^2}{4p})^{\frac{1}{2}} =$

$Sdy\left(1 + \frac{9y}{4p}\right)^{\frac{1}{2}} = \frac{8}{27}p\left(1 + \frac{9y}{4p}\right)^{\frac{3}{2}} - C$. Su-

poniendo $y=0$, resulta $C = -\frac{8}{27}p$; luego la integral completa ó la longitud de un arco cualquiera de la segunda parábola cúbica, contando sus abscisas desde el origen, es $\frac{8}{27}p$

$$\left(1 + \frac{9y}{4p}\right)^{\frac{3}{2}} - \frac{8}{27}p.$$

552 En la cicloide ordinaria los triángulos semejantes Mmr , BOP (fig. 209) dan $dy:dx::\sqrt{2ax-x^2}:x$; de suerte que $dy = \frac{dx}{x}\sqrt{2ax-x^2} = \frac{dx\sqrt{2a-x}}{\sqrt{x}}$, $dy^2 =$

$$\frac{2adx^2 - xdx^2}{x}$$

$$\text{Será pues, } \sqrt{dx^2+dy^2} = \sqrt{\left(dx^2 + \frac{2adx^2 - xdx^2}{x}\right)} = \frac{dx\sqrt{2a}}{\sqrt{x}} = \dots\dots\dots$$

$\sqrt{2ax}^{\frac{1}{2}}dx: yS(dx^2+dy^2)^{\frac{1}{2}} = BM = S\sqrt{2ax}^{\frac{1}{2}}dx = 2\sqrt{2ax}$, que es el duplo de la cuerda correspondiente $BO = \sqrt{2ax}$. Si se hace $x = 2a$, será la semicicloide $BMA = 2\sqrt{4a^2} = 2 \times 2a$, que es el duplo del diámetro del círculo generador: de consiguiente toda la cicloide será cuadrupla de dicho diámetro.

Solidez de los Cuerpos.

553 Si concebimos un cuerpo $ABCS$ (fig. 185) formado de planos ó rebanadas infinitamente delgadas $acbefh$ que serán la diferencial de su solidez, y suponemos bb la su-

perficie de la base ABC, a la altura ST, y x la St distancia del vértice al plano $acbefh$: será dx la altura de dicho plano y su superficie abc ó ehf , se hallará por la proporcion $(ST)^2$:

$(St)^2 :: ABC:abc$, ó $aa:xx::bb:\frac{bbxx}{aa}$: luego la

solidez del plano será $\frac{bbxx}{aa} \times dx$, y la de to-

do el sólido su integral $S\frac{bbxx}{aa} \times dx = \dots\dots\dots$

$\frac{bbx^3}{3aa} + C$, ó $\frac{bbx^3}{3aa}$ solamente, contando la solidez desde el vértice S. La espresion

$\frac{bbx^3}{3aa} = \frac{bbxx}{aa} \times \frac{1}{3}x = abc \times \frac{1}{3}St$ concuerda con la que sacamos ya (239).

554 Si el plano $MmLL$ (fig. 186) pertenece a un sólido de revolucion ABS , formado por una curva AS dando la vuelta al rededor de ST : suponiendo $PM=y$, $SP=x$, y $r:c$ la razon del radio a la circunferencia; será $\frac{cy}{r}$ la de un círculo cuyo radio es y ; la su-

perficie de este círculo será $\frac{cy}{r} \times \frac{1}{2}y = \frac{cyy}{2r}$:

y la solidez del plano $\frac{cyy}{2r} \times Pp = \frac{cyydx}{2r}$: es-

presion diferencial en la que poniendo el valor de y sacado de la equacion a la curva de

cuya revolucion se haya formado el sólido, se tendrá su solidez integrando el resultado.

555 Ejemplo 1º: Encontrar la solidez del cono engendrado por el triángulo rectángulo CPM (fig. 183) al rededor de CP . Sea CP, x ; PM, y ; y u el ángulo MCP : si tomamos a CM por radio, será $\text{cosen } u$: $\text{sen } u$:

$x: y = \frac{x \times \text{sen } u}{\text{cosen } u}$. Si sustituimos este valor en

la fórmula $\frac{cyydx}{2r}$; se reducirá a $\frac{c}{2r} x \dots\dots$

$\frac{\text{sen}^2 u}{\text{cosen}^2 u} x^2 dx$: y la solidez del cono será $\frac{c}{2r} x \dots\dots$

$S\frac{\text{sen}^2 u}{\text{cosen}^2 u} x^2 dx = \frac{c}{2r} x \frac{\text{sen}^2 u}{\text{cosen}^2 u} \times \frac{x^3}{3} = \frac{cyy}{2r} \times \frac{x}{3}$;

que es como digimos (239) la tercera parte del cilindro de una misma base y altura que él. Del mismo modo se hubiera sacado la solidez $\frac{2cxx}{r} \times \frac{y}{3}$ del cono producido por el mismo triángulo al rededor del lado MP .

556 2º La solidez del paraboloides ó conoide parabólico (fig. 186), que es el sólido que engendra una semiparábola al rededor de su ege; se saca poniendo en la fórmula el valor de yy que da la equacion $yy=ax$ de la parábola: pues integrando el resultado $\frac{caxdx}{2r}$, se tiene contando la solidez desde S

en que $C=0$, $\frac{cax^2}{4r} = \frac{cax}{2r} \times \frac{x}{2} = \frac{cyy}{2r} \times \frac{x}{2}$, que

equivale à la solidez del cilindro de igual base y altura que el paraboloides. Si la solidez se cuenta desde un punto H, tal que $SH=b$; debiendo ser cero el sólido en dicho punto ó quando $x=b$; será $C=-\frac{cabb}{4r}$, y la solidez de una porcion qualquiera de paraboloides $\frac{caxx-cabb}{4r}$.

557 3º Hallar la solidez del elipsoide ó hiperboloides. Si sustituimos en la fórmula en lugar de $yy, \frac{bb}{aa} (2ax-xx)$ sacado de la equation à la ellipse, é integramos $\frac{cbb}{2raa} (2axdx - xxdx)$ que resulta; tendremos $\frac{cbb}{2raa} (axx - \frac{x^3}{3})$ por la solidez del *elipsoide prolongado*, sólido que engendra una semiellipse al rededor de su ege mayor Ss (fig. 187), contándola desde S en que $C=0$. Quando $x=Ss=2a$, se reduce dicha espresion à $\frac{2acbb}{3r}$, que es la solidez de todo el elipsoide. Y como la de un cilindro circunscripto à él, sería $\frac{acbb}{r}$; será la del elipsoide los $\frac{2}{3}$ de la de este cilindro, como lo digimos de la esfera (243).
Si se pide la solidez desde un punto H en

que $SH=m$: siendo en este punto cero la integral, se tendrá $C=-\frac{cbb}{2raa} \left(amm - \frac{m^3}{3} \right)$, y la solidez de una porcion de elipsoide comprendida entre dos planos paralelos y perpendiculares al ege, cuya distancia es $x-m$, será $\frac{cbb}{2raa} \left(axx - \frac{x^3}{3} \right) - \frac{cbb}{2raa} \left(amm - \frac{m^3}{3} \right)$. La del *elipsoide aplanado*, ó producido por la revolucion de la semiellipse al rededor del ege menor, que es $\frac{2acbb}{3r}$; se saca como la otra, y es tambien los $\frac{2}{3}$ de su cilindro circunscripto: y tiene con ella la razon de los eges $2b:2a$.

Por el mismo camino encontraremos que la solidez del sólido que engendra una hipérbola al rededor de su primer ege, es $\frac{cbb}{2raa} x \dots$ $\left(axx - \frac{x^3}{3} \right)$, si se cuenta desde el vértice; y $\frac{cbb}{2raa} \left(axx + \frac{x^3}{3} \right) - \frac{cbb}{2raa} \left(amm + \frac{m^3}{3} \right)$ la de una porcion de *hiperboloides* comprendida entre dos planos paralelos y perpendiculares al ege, cuya distancia es $x-m$.

558 4º Hayase de medir el sólido producido por el arco sp (fig. 184) de hipérbola que voltea al rededor de su segundo ege ST . suponiendo este $2a$, el 1º $2Ss=2b$, $SP=x$,

$Pp=y$, y S el vértice. Si hacemos $r : c :: 1 :$
 $\frac{c}{r}$, será $\frac{c}{r} \times \frac{1}{2} = \frac{c}{2r}$ que llamaremos m , el
 area del círculo cuyo radio es r ; y la fórmu-
 la $\frac{cyydx}{2r}$ quedará reducida à $myydx$, en donde
 myy es el area del círculo cuyo radio es y :
 pues $1^2 : y^2 :: m : myy$ (201). Si en ella pone-
 mos el valor de yy sacado de la equation $yy =$
 $bb + \frac{bbxx}{aa}$ (401); tendremos $myydx = mbbdx +$
 $\frac{mbbxxdx}{aa}$, cuya integral es $mbbx + \frac{mbbx^3}{3aa}$ ó
 $\frac{2}{3}mbbx + \frac{1}{3}myyx$, poniendo en lugar de $\frac{bbxx}{aa}$,
 $yy - bb$ sacado de la equation: será pues,
 $\frac{2}{3}mbbx + \frac{1}{3}myyx$ la solidez del cuerpo que
 forma el area $SspP$ al rededor de ST .

559 5º Para hallar la solidez del cuer-
 po que se forma de la revolucion de una hiper-
 bola equilatera $QKYN$ (fig. 169) al rededor
 de su asíntota Cc ; llamaremos $CU=UY$, a ;
 y será (415) $aa=xy$, ó $yy=\frac{a^4}{xx}$. Puesto este
 valor en $\frac{cyydx}{2r}$, resulta $\frac{c}{2r} \times \frac{a^4 dx}{xx} = \dots$
 $\frac{c}{2r} \times a^4 x^{-2} dx$, y su integral $\frac{c}{2r} \times -\frac{a^4}{x} + C$
 será la solidez que buscamos. Como esta es
 cero quando $x=a$, será $C = \frac{c}{2r} a^3$, y el va-

lor completo del sólido producido por el area
 $UYNc$, será $\frac{c}{2r} \left(a^3 - \frac{a^4}{x} \right) = \frac{c}{2r} \left(a^3 \times \dots \dots \dots \right)$
 $\left(\frac{x-a}{x} \right)$: de consiguiente suponiendo las abs-
 cisas a , $2a$, $3a$, &c. en progresion arit-
 mética, resultarán sólidos iguales à $\frac{c}{2r} a^3$, mul-
 tiplicados sucesivamente por 0 , $\frac{1}{2}$, $\frac{2}{3}$, $\frac{3}{4}$ &c.

Si fuese x infinita, equivaldrá el sólido
 $\frac{c}{2r} a^3$ al cilindro engendrado en la misma re-
 volucion por el rectángulo $CUYH$: quando
 x es menor que a es el sólido negativo, é in-
 finito si $x=0$: de suerte que el sólido pro-
 ducido por el espacio $UYNc$ es finito; pero
 el que engendra la area $MCXK$ al rededor
 de la asíntota, es infinito.

560 6º Midamos ahora un cuerpo pará-
 bólico $ACBDA$ (fig. 188) producido por la
 rotacion de la parábola ACB al rededor de la
 ordenada AB . Sea a la abscisa CM , b la se-
 miordenada AM ó BM , u la distancia $MN=$
 EP que hay entre la línea DC y una sección
 ENF del sólido, paralela à DC : y tendremos
 (361) $(AM)^2 : (EP)^2 :: CM : CP$, ó $bb : uu :: a :$
 $CP = \frac{auu}{bb}$, y $EN = CM - CP = a - \frac{auu}{bb} = \frac{a}{bb} \times$
 $(bb - uu)$: luego (554) $m \times (EN)^2 = \frac{maa}{b^4} \times$
 $(b^4 - 2bbuu + u^4)$ será la espresion del area

de la seccion ENF: y si se multiplica por la diferencial du de MN, dará el elemento del sólido $\frac{maa}{b_4} (b^4 du - 2bbu du - u^4 du)$. Integrese, y tendremos $\frac{maa}{b_4} (b^4 u - \frac{2}{3}bbu^3 + \frac{1}{5}u^5)$, que se reduce haciendo $u=b$, á $\frac{8maab}{15}$ mitad del sólido que se busca.

561 7º Si se quiere la solidez del cuerpo ACBDA (fig. 189) que forma el segmento de círculo ACB rotando al rededor de la cuerda ú ordenada AB; suponiendo el centro en O, y llamando al radio OE, r ; OM, n ; y EP, u ; será $OP = \sqrt{(OE)^2 - (EP)^2} = \sqrt{rr - uu}$, $EN = OP - OM = \sqrt{rr - uu} - n$; y la fórmula $myy dx$ se transformará en $mdu(\sqrt{rr - uu} - n)^2 = mdu(rr - uu - 2n\sqrt{rr - uu} + 2nn)$. Y como la integral de $mdu(2n\sqrt{rr - uu} - 2nn) = 2nm \times du \times (\sqrt{rr - uu} - n) = 2nm \times du \times EN$ es $2nm \times \text{area MNEC}$; será toda la integral $mu(rr - nn - \frac{1}{3}uu) - 2nm \times \text{area MNEC}$. $MNEC = m \times MN \times ((AM)^2 - \frac{1}{3}(MN)^2) = 2m \times OM \times \text{area MNEC}$: que en el supuesto de ser $MN = MA$, es $m \times \frac{2}{3}(AM)^3 - 2m \times OM \times ACM$, valor de la mitad del sólido supuesto.

562 8º Para encontrar la solidez de un prismoide AEGB (fig. 190) rodeado de superfi-

cies planas, y cuyas bases son dos rectángulos paralelos; hagamos AB, a ; AD, b ; EH, c ; EF, e ; h la altura del sólido, y x la distancia variable del plano EG á una seccion IL del sólido paralela á la base. Tirando despues en la superficie AH, la HP paralela á EA, y en la cara BG la HN paralela á GC; tendremos en los triángulos HPB, HRM semejantes $h:x::PB = AB - EH:RM = IM - EH = \frac{x(a-c)}{h}$; y en

los triángulos HBN, HMQ, tambien semejantes, $h:x::BN = BC - HG:MQ = ML - HG = \frac{x(b-e)}{h}$: luego $IM = \frac{x(a-c)}{h} + c$, y $ML = \frac{x(b-e)}{h} + e$; y será el area de la seccion IL... $\frac{(a-c)(b-e)}{hh} xx + \frac{bc+ae-2ce}{h} x + ce$. Si multiplicamos esta espresion por dx , y sacamos despues su integral; resultará $\frac{(a-c)(b-e)}{3hh} x^3 + \dots$

$(\frac{bc+ae-2ce}{2h}) xx + cex$, valor del sólido IFGL.

Suponiendo en él $x=h$, saldrá el de todo el prismoide, que es $\frac{1}{3}h(a-c)(b-e) + \frac{1}{3}h(bc+ae-2ce) + ceh = \frac{1}{6}h(2ab+ae+bc+2ce) = \frac{1}{6}hAB \times AD + EH \times EF + (AB+EH)(AD+EF)$, Si EF fuese nula, EH y FG coincidirian formando un ángulo en la parte superior del sólido, que tendria entonces la forma de la ar-

madura de un tejado, y su solidez sería $\frac{1}{6}h(2ab + bc) = \frac{1}{6}h(2AB + EH)AD$. En el caso de ser $EF = EH$ y $AD = AB$, sería el sólido un trozo de pirámide cuadrada, cuya solidez es $\frac{1}{6}h(aa + ac + cc) = \frac{1}{6}h((AB)^2 + AB \times EH + (EH)^2)$: y finalmente haciendo $EH = 0$, resultaría una pirámide con la base $(AB)^2$ y la altura h , que tendrá por solidez $(AB)^2 \times \frac{1}{3}h$.

563 9º La solidez del cuerpo que los Ingleses llaman *Groin* (fig. 191), cuyas secciones paralelas à la base son cuadrados y las dos secciones hechas perpendicularmente à la base por el medio de los dos lados opuestos, son semicírculos; la encontraremos suponiendo x la distancia Ab del vértice A à una sección $cpeg$ paralela à la base, a el radio AB ó BN de la sección circular $ANBMA$ perpendicular à la base, y será $bn = \sqrt{2ax - xx}$ (348); el lado del cuadrado $cpeg$, $2\sqrt{2ax - xx}$, y su area $4(2ax - xx)$: luego el elemento del groin es $4dx(2ax - xx)$. Si en su integral $4axx - \frac{4}{3}x^3$ suponemos $x = a$; resulta $\frac{(2a)^3}{3}$ solidez de todo el groin; que sacaríamos

del mismo modo aun quando las secciones paralelas à la base fuesen rectángulos, y las perpendiculares otras curvas distintas del círculo.

564 10º Si se hubiese de calcular la solidez de la pirámide ó cono $ABCD$ (fig. 192),

formado de rectas tiradas de todos los puntos de un plano DBC dado à un punto A : llamaremos x la distancia perpendicular AQ de A à una sección EFG paralela à BDC , a la altura AP del sólido, b la area conocida de la base BDC : y pues que los planos BDC , EFG deben ser semejantes (234), tendremos $(AP)^2 : (AQ)^2 :: BDC : EFG$, ó $aa : xx :: b : EFG = \frac{bxx}{aa}$. Esta espresion multiplicada por la di-

ferencial dx dará el elemento $\frac{bxxdx}{aa}$ del sólido, que será $S \frac{bxxdx}{aa} = \frac{bx^3}{3aa}$, que se reduce

à $\frac{1}{3}ab$ quando $x = a$.

565 11º Si à un cilindro $ABCD$ (fig. 176) lo corta un plano oblicuo à la base, y se pregunta la solidez del cuerpo $SARH$ que resulta, que se llama *Ungula cilindrica*; suponiendo para hacer mas sencillo el cálculo, que la sección pase por el centro de la base, se considerará la úngula cortada por planos paralelos infinitamente próximos y perpendiculares à la base RAH : y debiendo ser las secciones triangulares semejantes, se tendrá llamando r el radio AO de la base, a la altura AS , y la base del triángulo PMN ; $OAS :: PMN :: r : yy$ (200), y siendo $OAS = \frac{1}{2}ar$, será $PMN = \frac{aryy}{2rr} = \frac{ayy}{2r}$. Luego si se llama

x la PH, será dx el grueso de la rebanada comprendida entre dos planos paralelos, cuyo valor será $\frac{axydx}{2rx}$, ó poniendo $2rx - xx$ en lugar de yy (348), $\frac{adx(2rx-xx)}{2r} = \frac{a}{2rx} (2rx dx - xx dx)$. Su integral, contando la solidez desde el punto H, es $\frac{a}{2r} \left(rxx - \frac{x^3}{3} \right)$: de donde se saca suponiendo $x=2r$, el valor de todo el sólido que es $\frac{2}{3}arr = \frac{ar}{2} \times \frac{4}{3}r = AOS \times \frac{4}{3}HO = AOS \times \frac{2}{3}RH$: ó los $\frac{2}{3}$ de un prisma cuya base sería el triángulo AOS y la altura el diámetro RH.

566 12º *Encontremos por último, la solidez de una úngula cónica EFGD* (fig. 177) que corta en el cono ABD un plano EFG que pasa por su base. Siendo BC la altura perpendicular del cono, y BO una perpendicular tirada à HE ege de la seccion EFG; si suponemos que sea FBG otra seccion del cono hecha por un plano que pasa por el vértice B y la línea FG; los dos sólidos DBFG, EBFG cuyas bases son FDG, FEG tendrán por solidez (564) à $FDG \times \frac{1}{3}BC$ y $FEG \times \frac{1}{3}BO$: restese la segunda de la primera, y su diferencia será el valor de la úngula cónica. Si las bases FDG, FEG fuesen secciones cónicas, se buscarán sus areas (540 y sig.), y

se resolverá la cuestion. Sea por exemplo, EH paralela à BA; siendo entónces (355) la seccion una parábola cuya area es $\frac{2}{3}FG \times EH$, será la solidez del segmento EFGB $= \frac{2}{3} \times FG \times EH \times BO$, y rebajando esta cantidad del sólido DFGB, será el residuo el valor de la úngula.

Medida de las superficies curvas de los sólidos.

567 Si imaginamos que el lado infinitamente pequeño Mm de una curva $SB=uf$, (186) traze una zona, faja ó porcion de cono truncado quando toda la curva voltéa al redor de ST, la superficie de dicha zona que es elemento de la total, será el producto de $Mm=du$ multiplicado por una circunferencia cuyo radio es PM: luego si llamamos m la razon entre la circunferencia y el diámetro, será $2my$ la circunferencia del círculo cuyo diámetro es ML, y $2my \times du = 2my \times \sqrt{dx^2 + dy^2}$ será el elemento de la superficie de los sólidos de revolucion.

568 Egemplo 1º *Comencemos por el cono recto ABD* (fig. 177), y suponiendole cortado por un plano MN paralelo à la base, y tirado el ege BC; llamemos AB, a ; AC, b ; PM, y ; BM, u ; y tendremos en los triángulos semejantes BAC, BMP, BA:AC::BM:MP ó $a:b::u:y = \frac{bu}{a}$: luego $2mydu = \frac{2mbudu}{a}$, y su

integral $\frac{mbuu}{a}$ será la expresión de la superficie de una porción qualquiera de cono. Si en ella hacemos $u=a$, se reduce à $abm = m \times AC \times AB$ que es la de todo el sólido.

569 2.º Para encontrar la superficie de la esfera; sea el radio $CM = a$ (fig. 181), $SP = x$, $PM = y$, $SM = u$; será $Mm = du$, $Pp = Mr = dx$; y en los triángulos semejantes CPM , Mmr tendremos $PM:MC::Mr:Mm$, ó $y:a::dx:$

$du = \frac{adx}{y}$. Sustituyendo este valor en $2mydu$, resulta $2madx$; y su integral $2max = SP \times$ *circunf.* $SDBM'S$, será la superficie del segmento esférico $SPMM'$. Si se hace $x = 2a$, $2max$ se convierte en $4maa$, que es la superficie de toda la esfera, cuadrupla de maa superficie del círculo máximo $SDBM'S$ (225); y como $2max:4maa::x:2a$; será la superficie de un segmento à la de toda la esfera, como la altura del segmento à todo el ege.

570 3.º Saquemos ahora la superficie del paraboloides ASB (fig. 186). La equacion $yy = px$ de la parábola da $dx = \frac{2ydy}{p}$, y $dx^2 = \frac{4yydy^2}{pp}$; luego $\sqrt{(dx^2 + dy^2)} = \frac{dy\sqrt{(pp + 4yy)}}{\sqrt{pp}}$; y $2mydu$ se reducirá à $\frac{2mydy}{p} \times (pp + 4yy)^{\frac{1}{2}}$. Supongamos para integrar esta diferencial, $(pp +$

$4yy)^{\frac{1}{2}} = z$, será $pp + 4yy = zz$, y diferenciando, $8ydy = 2zdz$ ó $2ydy = \frac{zdz}{2}$. Sustituyase

este valor en $\frac{2mydy}{pp} (pp + 4yy)^{\frac{1}{2}}$, y quedará reducida à $\frac{mzxzdz}{2p}$, cuya integral es $\frac{mz^3}{6p}$, ó

$\frac{m \times (pp + 4yy)^{\frac{3}{2}}}{6p}$, poniendo $(pp + 4yy)^{\frac{3}{2}}$ en lugar de z^3 . Quando $y = 0$, se tiene $C = -\frac{1}{6}mpp$; de consiguiente $\frac{m(pp + 4yy)^{\frac{3}{2}}}{6p} - \frac{1}{6}mpp$ será la

integral completa, que pudo tambien haberse sacado por lo dicho (514).

571 4.º Para hallar la superficie del esferoide ó elipsoide (fig. 187); suponiendo $SC = a$, $CB = b$, $CP = x$ y $BM = u$; sacaremos de la equacion à la curva $y = \frac{b}{a}\sqrt{(aa - xx)}$,

$dy = -\frac{bx dx}{a\sqrt{(aa - xx)}}$; y será $du = \sqrt{(dx^2 + dy^2)} = \sqrt{\left(dx^2 + \frac{bbxx dx^2}{aa(aa - xx)}\right)} = \frac{dx\sqrt{(a^4 - (aa - bb)xx)}}{a\sqrt{(aa - xx)}}$

$\frac{dx\sqrt{(a^4 - ccxx)}}{a\sqrt{(aa - xx)}}$ (suponiendo $\sqrt{(aa - bb)} = c$) =

$cdx\sqrt{\left(\frac{a^4}{cc} - xx\right)}$: de consiguiente $2mydu =$

rá $\frac{2mbcdx}{aa} \times \sqrt{\left(\frac{a^4}{cc} - xx\right)}$: cuya integral es-
 presada en série infinita, es $2mbx \left(1 - \frac{ccxx}{2.3a^4} - \frac{c^4x^4}{2.4.5a^8} - \frac{3c^6x^6}{2.4.6.7a^{12}} - \&c. \right)$

Esta integral se encuentra mas facilmente por medio de la cuadratura del círculo; pues si desde C con un radio $\frac{aa}{c}$, se traza un círculo IER, y se alarga hasta E la ordenada PM; es claro (352) que $PE = \sqrt{\left(\frac{a^4}{cc} - xx\right)}$, y que el elemento del area EICP será..... $dx \sqrt{\left(\frac{a^4}{cc} - xx\right)}$, que tendrá con el elemento $\frac{2mbcdx}{aa} \sqrt{\left(\frac{a^4}{cc} - xx\right)}$ de la superficie bMM'B la razon de 1 : $\frac{2mbc}{aa} \times EIPC = 2m \times \frac{Cb}{CI} \times EICP$.

Si para aplicar esta solucion al elipsoide aplanado, supusieramos Ss el ege menor; siendo CS menor que Cb, sería imposible el valor de $c = \sqrt{(aa - bb)}$: con que hagamos $c = \sqrt{(bb - aa)}$, y $p = \frac{aa}{c}$; quedará $\frac{2mbcdx}{aa} \times \dots \sqrt{\left(\frac{a^4}{cc} - xx\right)}$ convertida en $\frac{2mbdx}{p} \sqrt{(pp + \dots xx)}$ $= \frac{2mb}{p} dx \sqrt{(pp + xx)}$. Siendo $dx \sqrt{(pp +$

$xx) = \frac{dx \times (pp + xx)}{\sqrt{(pp + xx)}} = \frac{ppdx + xx dx}{(\sqrt{pp + xx})} = \dots \dots \dots$
 $\frac{ppdx + x^3 dx}{\sqrt{(ppxx + x^4)}} = \frac{\frac{1}{2} pp dx + x^3 dx}{\sqrt{(ppxx + x^4)}} + \frac{\frac{1}{2} pp dx}{\sqrt{(ppxx + x^4)}};$
 cuyo primer termino tiene por integral (514) à $\frac{1}{2} \sqrt{(ppxx + x^4)}$, y el segundo $\frac{\frac{1}{2} pp dx}{\sqrt{(ppxx + x^4)}}$
 ó $\frac{\frac{1}{2} pp dx}{\sqrt{(pp + xx)}}$ integrado por los logaritmos (528), da $\frac{1}{2} pp \times l(x + \sqrt{(pp + xx)})$; será la integral de $dx \sqrt{(pp + xx)}$, $\frac{1}{2} x \sqrt{(pp + xx)} + \frac{1}{2} pp \times l(x + \sqrt{(pp + xx)})$: multipliquese por $\frac{2mb}{p}$, y completándola despues (523), será la superficie del elipsoide aplanado $\frac{mbx}{p} \times \sqrt{(pp + xx)} + pbm \times l\left(\frac{x + \sqrt{(pp + xx)}}{p}\right)$.

572 59 En el conoide hiperbólico, siendo a y b los semieges, y x la distancia entre la ordenada y el centro de la curva; sacaremos de su equacion $y = \frac{b}{a} \sqrt{(xx - aa)}$, $dy = \dots \dots \dots$
 $\frac{bx dx}{a \sqrt{(xx - aa)}}$: y será $\sqrt{(dx^2 + dy^2)} = \dots \dots \dots$
 $\frac{dx \sqrt{((aa + bb)xx - a^4)}}{a \sqrt{(xx - aa)}}$. Luego $2mydu = \frac{2mbdx}{aa} \times \dots \dots \dots$
 $(\sqrt{aa + bb})(xx - a^4)$, que con suponer..... $\frac{a^4}{aa + bb} = p^2$, se reduce à $\frac{2mbdx}{p} \sqrt{(xx - pp)}$.

A su integral $\frac{mbx\sqrt{(xx-pp)}}{p} - p b m l(x + \sqrt{(xx-pp)})$ que se encuentra por el mismo camino que la anterior, se ha de añadir la constante que resulta de suponer $x=a$: y será finalmente, $\frac{mbx}{p} \sqrt{(xx-pp)} - mbb - p b m x l\left(\frac{x + \sqrt{(xx-pp)}}{a + \frac{bp}{a}}\right)$, el verdadero valor de la

superficie del hiperboloide.

573 6º Para hallar la superficie del groin (fig. 191); supondremos x la distancia à que está del vértice A una seccion $cpeg$ paralela à la base, u el arco An correspondiente à la seccion semicircular NnA , y su radio AB ó $BN=a$. Siendo $du = \frac{adx}{\sqrt{(2ax-xx)}} (530)$, multiplicando esta cantidad por $2\sqrt{(2ax-xx)}$ valor de $ge = 2gn$, resultará $2adx (567)$, elemento de una de las quatro superficies iguales que terminan al sólido: luego la superficie de todo él, no contando la de la base, será $8aa$, esto es, dupla de la dicha base.

Método inverso de las Tangentes.

574 Por este método se viene en conocimiento de la equacion de una curva por la

espresion de su tangente ó subtangente ó normal &c. de su rectificacion, cuadratura &c. que se nos dé. Para esto se forma una equacion de la expresion dada y de la correspondiente fórmula de las halladas (473 y sig. 537, 547 &c.) y si se puede integrar, se tendrá la de la curva que se busca.

575 Para encontrar la equacion à la curva cuya subtangente es $\frac{2yy}{a}$: igualaré à ella

la fórmula $\frac{ydx}{dy} (473 1º)$, sacaré de $\frac{2yy}{a} = \frac{ydx}{dy}$,

$adx = 2ydy$, é integrando tendré $ax = yy$, equacion à la parábola (361). Si la subtangente es tercera proporcional à $a-x$, y ; haremos $a-x:y::y:\frac{yy}{a-x}$: de consiguiente será $\frac{yy}{a-x} =$

$\frac{ydx}{dy}$, $ydy = adx - xdx$, que integrada da $yy = 2ax - xx$, equacion del círculo (348).

576 Para encontrar la curva cuya subnormal es $a-x$; haremos (473 2º) $\frac{ydy}{dx} = a-x$, $ydy = adx - xdx$; y su integral $\frac{1}{2}yy = ax - \frac{1}{2}xx$ ó $yy = 2ax - xx$ nos muestra que es el círculo. Si la subnormal ha de ser constante ó igual à 1; tendremos $\frac{ydy}{dx} = 1$, $ydy = dx$, y $yy = 2x$, equacion à una parábola cuyo diámetro es 2.

577 Hayase de hallar ahora la curva

cuya area es $\frac{x^3}{3a}$. Diferencio esta expresion, é igualando el resultado $\frac{xxdx}{a}$ à la fórmula general ydx del elemento del area (537); tendré $\frac{xxdx}{a} = ydx$: de donde se saca $xx = ay$, equacion à la parábola. Finalmente, si dado el valor $\frac{c}{2r} \left(axx - \frac{x^3}{3} \right)$ de una solidez, se pidiese la equacion de la curva que produjo el sólido; formaremos la equacion $\frac{cyydx}{2r} = \frac{c}{2r} \times (2axdx - xx dx)$, de la fórmula de la solidez y de la diferencial de la expresion dada; y sacaremos de ella $yy = 2ax - xx$, equacion al círculo: de consiguiente la expresion dada será la de la solidez de la esfera.

TRIGONOMETRÍA ESFERICA.

578 El objeto de esta parte de la geometría es la *resolucion de los triángulos esféricos*, que se forman en la esfera con arcos de círculo máximo. No se cuenta con los arcos de círculos menores; porque entre dos puntos de la esfera pueden tirarse infinitos de diferentes grados, al mismo tiempo que por ellos solo puede trazarse un círculo máximo, que es aquel cuyo plano es determina-

do por el centro, y dichos dos puntos (170).
579 Supuesta la doctrina que dejamos dada acerca de los planos y sólidos; llamaremos *ege* de un círculo máximo $HTDM$ (fig. 210) à un diámetro AB perpendicular à su plano, que pasa por el centro C de la esfera; y cuyos dos extremos A, B se llaman *polos*; y así desde qualquier punto de la circunferencia de un círculo máximo à su polo hay siempre 90° . De consiguiente, 1° si un círculo máximo $AHBD$ ó qualquiera parte suya es perpendicular à otro $HTDN$, cada uno pasa por los polos del otro: y al contrario, si pasa por los polos, le será perpendicular: porque siendo perpendiculares los círculos, lo serán tambien sus planos; y por lo mismo el *ege* perpendicular al primero deberá estar en el segundo, y de consiguiente sus polos.

580 2° Dos círculos máximos trazados en la esfera, se cortan mutuamente en dos partes iguales de 180° cada una: porque debiendo pasar ambos por el centro de la esfera, será la comun seccion uno de sus diámetros, que dividirá cada círculo por medio (174).

581 La inclinacion de dos planos AEB, ADB que se mide (176) con el ángulo rectilíneo ECD ó con el arco ED descrito desde el centro C , es la medida del ángulo es-

ferico EAD , que se debe tomar trazando desde su vértice A como polo, el arco ED de círculo máximo entre sus lados AE , AD . Luego à los ángulos esféricos debe tambien convenir lo que dejamos demostrado (177) de los rectilíneos: y siempre se verificará que los lados contiguos de un ángulo esférico no pueden concurrir sino à una distancia de 180° : pues ambos son arcos de círculo máximo que se cortan en la superficie de la esfera.

582 Si desde los tres ángulos B , D , E de un triángulo esférico BDE se consideran tirados al centro de la esfera los radios BC , EC , DC se verá que dicho triángulo es la base de una pirámide $CBED$ que tiene el vértice en el centro de la esfera, y cuyas superficies laterales son tres sectores de círculo. Tambien se puede considerar como un ángulo sólido formado de los tres ángulos planos ECD , DCB , BCE : de suerte que cada ángulo del triángulo esférico es igual al ángulo de la inclinacion de las superficies, y cada lado es el arco que mide al ángulo plano del sector correspondiente. De lo qual, y de lo demostrado (211) podremos inferir que dos lados de un triángulo esférico serán siempre mayores que el tercero; como tambien que sus tres lados valdrán siempre menos que 360° .

583 Si desde los tres ángulos A , B , C

(fig. 211) de un triángulo esférico como centro se trazan tres arcos de círculo que formen otro triángulo DEF ; cada lado de este es suplemento del ángulo que es su polo: y cada ángulo suplemento del lado que se le opone en el triángulo ABC . Pues siendo A polo del arco EF , distará el punto E de A 90° (579): y siendo C polo de DE , estará tambien à 90° de C : del mismo modo se probará que D es polo de BC , y F de AB .

En cuyo supuesto, alargando AB y AC hasta H y G en que encuentran à EF ; por ser F polo de ABH , será tambien $FH=90^\circ$: luego $EG+FH$ ó $EG+FG+GH=180^\circ$: y siendo GH medida del ángulo A (581); tendremos $EF+A=180^\circ$, ó EF suplemento del ángulo A . Igualmente se prueba que DE es suplemento de C , y DF de B ,

Finalmente, si se alarga AB hasta K , serán los dos arcos AH , BK de 90° cada uno, por ser A y B polos de EF y DF : luego $AH+BK$ ó $AH+AB+AK$ ó $HK+AB=180^\circ$; y como HK es medida del ángulo F (581) por ser F polo de HK ; será $F+AB=180^\circ$, ó F suplemento de AB : del mismo modo se demuestra que E es suplemento de AC , y D de BC . Del triángulo DEF , que se llama *suplementario*, se hace mucho uso en la trigonometría esférica.

584 Puesto que los tres ángulos A, B, C

han de sumar con los tres lados EF, DF, ED tres veces 180° ó 540° ; será siempre la suma de los tres ángulos de qualquier triángulo esférico ABC menor que 540° : será tambien mayor que 180° ; pues la suma de los tres lados EF, DF, DE sus suplementos ha de ser menor que 360° (582).

De aquí es que un triángulo esférico puede tener sus tres ángulos rectos, y aun obtusos; y no siendo determinada la suma de los tres, no se podrá inferir el valor de uno, aunque se conozcan los otros dos como sucede en los rectilíneos. En lo sucesivo llamaremos *hipotenusa* al lado opuesto al ángulo recto que por entónnces se considere, y à los otros dos ángulos, *oblicuos*.

585 Del mismo modo que en los triángulos rectilíneos, se demuestra que los esféricos son iguales en los tres casos mencionados (89 y sig.): pero estos son tambien iguales quando los tres ángulos del uno son iguales à los tres del otro. Lo que se demuestra por medio de los triángulos suplementarios; pues siendo iguales los ángulos, lo serán sus suplementos y de consiguiente los lados.

586 En un triángulo esférico isosceles ABD (fig. 212) son iguales los ángulos B, D opuestos à los lados iguales AB, AD : y si son iguales los ángulos, lo serán tambien los lados. Pues tomando $AE=AF$, y tirando los

arcos ED, BF de círculo máximo; serán iguales los triángulos AED, ABF que tienen el ángulo A común comprendido entre los lados iguales AB, AF ; AD, AE : luego $ED=BF$, y los triángulos BED, BDF que tienen BD común, $BF=ED$ y $EB=FD$, serán iguales: y de consiguiente el ángulo $ABD=ADB$. Al contrario, si son iguales los ángulos B y C (fig. 211) lo serán tambien sus suplementos DF, DE (583) esto es, será isosceles el triángulo DEF : luego sus ángulos E y F serán iguales. y de consiguiente sus suplementos los lados AB, AC .

587 En todo triángulo esférico ABC (fig. 212) el mayor lado está opuesto al mayor ángulo, y al contrario. Porque cortando en el ángulo B el ángulo $ABD=A$, será $BD=AD$ (586): y pues que $BD+DC$ es mayor que BC ; será tambien $AD+DC$ ó AC opuesto à B mayor que BC . La segunda parte se demuestra fácilmente con el triángulo complementario DEF (fig. 210).

588 Los ángulos oblicuos de un triángulo esférico son de la misma especie que sus lados opuestos, es decir, agudos, obtusos ó rectos. Sea el triángulo BFG (fig. 210) rectángulo en G , cuyos lados alargados hasta A serán de 180° cada uno; es claro que si BG fuere agudo, GA será obtuso, y por consiguiente el ángulo BFG agudo tendrá agudo su lado opuesto

BG: al obtuso AFG se opondrá el lado AG mayor que 90° en el triángulo AFG, y al recto BDE se opone BE de 90° en el triángulo BED que suponemos rectángulo en E.

589 Si los lados de un triángulo esférico rectángulo fuesen de una misma especie, esto es, ambos agudos ó ambos obtusos, la hipotenusa será siempre aguda: y si fueren de distinta especie, la hipotenusa pasará de 90° . Pues si en el triángulo BFG rectángulo en G, y cuyos lados BG, FG son agudos, se toma BD de 90° ; será también BE de 90° por ser B el polo del arco ED; luego BF no llega á 90° .

Si en el triángulo AFG cuyos lados AF, AG pasan de 90° , llega á ser recto el ángulo A; debe ser también aguda la hipotenusa FG: porque si AF, AG pasan de 90° , no llegarán á 90° , sus suplementos BF, BG: y en el triángulo BGF también rectángulo en B, será la hipotenusa FG menor que 90° . Últimamente, si los lados fueren de diferente especie como en el triángulo AFG rectángulo en G, cuyo lado AG pasa de 90° y GF no llega, la hipotenusa AF pasa de 90° ; pues entonces su suplemento BF debe ser menor que 90° como se ha probado ya.

590 Siendo los ángulos oblicuos de la misma especie que los lados opuestos (588), tendremos 1º que si los ángulos oblicuos fue-

sen de una misma especie, será la hipotenusa menor que 90° , y será mayor si dichos ángulos fuesen de diferente especie. 2º Si la hipotenusa fuere aguda, los ángulos y los lados serán de una misma especie, y de diferente si la hipotenusa pasa de 90° . 3º Si la hipotenusa y uno de los lados fueren de la misma especie, el otro lado y su ángulo opuesto serán agudos: y obtusos, si la hipotenusa y el lado fueren de diferente especie. Todo lo qual se verifica en los dos triángulos BFG, AFG.

591 Finalmente, como dichos triángulos tienen el lado FG comun, un ángulo recto en G, el ángulo A igual á B, y las demás partes son diferentes; no se podrá resolver un triángulo esférico rectángulo dados un ángulo y su lado opuesto, si no se sabe además, si las otras partes pasan ó no de 90° .

Resolucion de los triángulos esféricos.

592 Formen al triángulo ABD (fig. 213) rectángulo en A, los arcos DAF, DBF, ABE de círculo máximo, y tirados los radios BC, DC, AC al centro C de la esfera, bágese desde B al plano BAC la perpendicular BI, que lo será también á AC (173); trazando después por BI un plano BIG á quien sea perpendicular el radio DC; se tendrá una pirá-

mi de BICG formada de los triángulos rectángulos BIG, BCI, BCG, GIC cuyos tres ángulos ICG, ICB, BCG tienen respectivamente por medida los tres arcos AD, AB, BD del triángulo esférico ABD; y sus tres ángulos D, A, B son iguales à los rectilíneos IGB, GIB, IEG.

593. Esto supuesto, en qualquier triángulo esférico ABD rectángulo en A, se verifica 1^o *Que el seno del ángulo recto ó el radio, es al seno de la hipotenusa, como el seno de uno de los otros ángulos es al seno de su lado opuesto*: esto es, $r : \text{sen BD} :: \text{sen D} : \text{sen AB}$. Pues en el triángulo rectángulo BIG se tiene (281) $r : \text{BG} :: \text{sen G} : \text{BI}$; y como tomando BC por radio en los triángulos CGB, CIB, BG, BI son senos de los ángulos BCG, BCI ó de la hipotenusa BD y del lado AB; será $r : \text{BG} \text{ ó } \text{sen BD} :: \text{sen BGI} \text{ ó } \text{sen D} : \text{sen AB}$.

594. De donde se infiere que en qualquier triángulo esférico ABD (fig. 214 y 215) los senos de los ángulos son entre si como los senos de los lados opuestos: pues bajando desde qualquiera de sus ángulos A el arco AC perpendicular à la base BD, alargada si es menester; se tendrá en los triángulos rectángulos BAC, ADC (593) $r : \text{sen AB} :: \text{sen B} : \text{sen AC}$, y $r : \text{sen AD} :: \text{sen D} : \text{sen AC}$; de donde se saca $\text{sen AB} \times \text{sen B} = \text{sen AD} \times \text{sen D}$: luego

sen B : sen DC :: sen AD : sen AB.

595. 2^o *Que el radio es al coseno de un ángulo como la tangente de la hipotenusa es à la tangente del lado adyacente à dicho ángulo*: ó $r : \text{cos D} :: \text{tang BD} : \text{tang AD}$ (fig. 213). Porque en el triángulo GBI, $r : \text{cos BGI} :: \text{GB} : \text{GI}$ (282): y siendo en los triángulos rectángulos CGB, GCI, tomando à CG por radio, las GB, GI tangentes de los ángulos GCB, GCI ó de la hipotenusa BD y del lado AD; será $r : \text{cos BGI} \text{ ó } \text{cos D} :: \text{tang GCB} \text{ ó } \text{tang BD} : \text{tang GCI} \text{ ó } \text{tang AD}$.

596. De consiguiente, en los dos triángulos esféricos ABC, ACD rectángulos en C (fig. 214 y 215), que tienen un lado AC comun, las tangentes de las hipotenusas AB, AD estan en razon inversa de los cosenos de los ángulos BAC, CAD adyacentes al lado comun AC. Pues de $r : \text{cos BAC} :: \text{tang AB} : \text{tang AC}$, y $r : \text{cos DAC} :: \text{tang AD} : \text{tang AC}$ se saca $\text{BAC} \times \text{tang AB} = r \times \text{tang AC} = \text{cos DAC} \times \text{tang AD}$: luego $\text{tang AB} : \text{tang AD} :: \text{cos DAC} : \text{cos BAC}$.

597. 3^o *Que el radio es al seno de un lado como la tangente de un ángulo adyacente es à la tangente del otro lado*: es decir (fig. 213) $r : \text{sen AD} :: \text{tang D} : \text{tang AB}$. Pues sacándose del triángulo BGI (182) $r : \text{tang BGI} :: \text{IG} : \text{IB}$, y siendo en los triángulos rectángulos CBI, CGI, en la suposicion de ser

CI el radio, la IG, seno del ángulo ICG ó del lado AD, y BI tangente del ángulo ICB ó del lado AB su opuesto; se tendrá $r:IG \text{ ó } \text{sen AD} :: \text{tang BGI} \text{ ó } \text{tang D} : \text{tang ICB} \text{ ó } \text{tang AB}$.

598 Luego en los triángulos ACD (fig. 214 y 215) los senos de los lados BC, CD no comunes serán recíprocamente como las tangentes de los ángulos B, D: pues de $r:\text{sen BC} :: \text{tang B}:\text{tang AC}$, y $r:\text{sen CD} :: \text{tan D}:\text{tang AC}$ se saca $\text{sen BC} \times \text{tang B} = r \times \text{tang AC} = \text{sen CD} \times \text{tang D}$, y de consiguiente $\text{sen BC} : \text{sen CD} :: \text{tang D} : \text{tang B}$.

599 Dividanse ahora por medio en H, L (fig. 213) los semicírculos DAF, DBF, y trazando por ellos el arco LHP de círculo máximo que corte à ABE en un punto cualquiera P; serán rectos los ángulos en L y H; y de consiguiente PA, PL serán quadrantes (588), P será el polo de AL, D de DL (579) y LH medirá al ángulo D y AL al ángulo P. Luego las seis partes que componen el triángulo BHP rectángulo en H, ó son iguales ó son complemento de las del triángulo ABD: pues además del ángulo recto $A=H$, y $ABD=HBP$ (581); el arco HP es complemento, y LH medida del ángulo D: el lado AB lo es de la hipotenusa BP, el lado AD del arco AL medida del ángulo P, y el lado HB lo es de la hipotenusa BD.

600 Tendrase pues 4.^o que en cualquier triángulo ABD, rectángulo en A, el radio es al coseno de uno de los lados; como el coseno del otro es al coseno de la hipotenusa: ó $r : \cos AB :: \cos AD : \cos BD$. Porque siendo en el triángulo BHP rectángulo en H, $r:\text{sen BP} :: \text{sen P}:\text{sen BH}$ (593); será también, poniendo $\cos AB$ en lugar de sen PB , y $\cos AD$ en lugar de sen P ó de su medida AL, $r:\cos AB :: \cos AD:\cos BD$.

601 Serán pues, proporcionales en los triángulos BAC, ACD (fig. 214 y 215) los cosenos de las hipotenusas AB, AD, como los cosenos de los lados BC, CD segmentos de la base. Lo qual se infiere de $r:\cos AC :: \cos BC:\cos AB$, y $r:\cos AC :: \cos CD:\cos AD$: de donde se saca $\cos BC : \cos AB :: \cos CD : \cos AD$, ó $\cos AB:\cos AD :: \cos BC:\cos CD$.

602 Esta última proporción se convierte en $\cos AB + \cos AD : \cos AB - \cos AD :: \cos BC + \cos CD : \cos BC - \cos CD$: y sustituyendo en ella los valores de sus términos sacados (277), se tendrá $\cotang \frac{1}{2}(AB + AD) : \tan \frac{1}{2}(AB - AD) :: \cotang \frac{1}{2}(BC + CD) : \tan \frac{1}{2}(BC - CD)$: y estando las tangentes en razón inversa de las cotangentes, será finalmente, $\tan \frac{1}{2}(BC + CD) : \tan \frac{1}{2}(AB + AD) :: \tan \frac{1}{2}(AB - AD) : \tan \frac{1}{2}(BC - CD)$: es decir, que en cualquier triángulo esférico ABD, si se baja un arco AC perpendicular sobre la base, alarga-

da si es menester, será la tangente de la mitad de la base, á la tangente de la mitad de la suma de los otros dos lados AB, AD ; como la tangente de la mitad de su diferencia á la tangente de la mitad de la diferencia de los segmentos BC, CD ; ó á la tangente de la mitad de su suma, si el arco perpendicular cae fuera.

603 En dicho triángulo ABD (fig. 213) el radio es al seno de un ángulo, como el coseno del lado adyacente es al coseno del otro ángulo: ó $r : \text{sen } B :: \text{cos } AB : \text{cos } D$. Porque en el triángulo BHP (592) $r : \text{sen } PBH :: \text{sen } PB : \text{sen } PH$: pongase por seno PBH su igual ABD , por seno PB , coseno AB , y por seno PH , coseno $LH = \text{cos } D$; y resultará la proporcion referida.

604 De ella se infiere que en los triángulos BAC, CAD (fig. 214 y 215) los cosenos de los ángulos B, D opuestos al lado comun AC , son como los senos de los ángulos adyacentes BAC, DAC : pues de $r : \text{sen } BAC :: \text{cos } AC : \text{cos } B$ y $r : \text{sen } CAD :: \text{cos } AC : \text{cos } D$, se saca $\text{sen } BAC : \text{cos } B :: r : \text{cos } AC :: \text{sen } CAD : \text{cos } D$: y de consiguiente $\text{cos } B : \text{cos } D :: \text{sen } BAC : \text{sen } CAD$.

605 69 Tambien se verificá en el triángulo BAD (fig. 213) que el radio es al coseno de la hipotenusa como la tangente de un ángulo á la cotangente del otro: por sacarse del triángulo BPH (597) $r : \text{sen } BH$ ó $\text{cos } BD :: \text{tang } B : \text{tang}$

$PH = \text{cotang } LH = \text{cotang } D$; luego $r : \text{cos } BD :: \text{tang } B : \text{cotang } D$, que viene á ser lo mismo que $r : \text{cot } B :: \text{cot } D : \text{cos } BD$.

606 Por lo demostrado (595) se tiene (fig. 213 y 214) $r : \text{cos } BAD :: \text{tang } AB : \text{tang } AC :: \text{cotang } AC : \text{cotang } AB$ (269), y de consiguiente $r : \text{cotang } AC :: \text{cos } BAD : \text{cotang } AB$: por la misma razon $r : \text{cotang } AD :: \text{cos } DAC : \text{cotang } AD$: será pues, en el triángulo BAD $\text{cos } BAC : \text{cos } DAC :: \text{cotang } AB : \text{cotang } AD$: ó los cosenos de los segmentos del vértice proporcionales á las cotangentes de los lados AB, AD .

607 De lo dicho (597) se saca $r : \text{sen } BC :: \text{tang } B : \text{tang } AC :: \text{cotang } AC : \text{cotang } B$ (268), y $r : \text{sen } DC :: \text{cotang } AC : \text{cotang } B$: luego en el triángulo ABD $\text{sen } BC : \text{sen } DC :: \text{cotang } B : \text{cotang } D$: esto es, los senos de los segmentos BC, CD de la base proporcionales á las cotangentes de los ángulos B y D adyacentes.

608 Por medio de las proposiciones establecidas se pueden resolver todos los casos en que dadas tres cosas de las que componen un triángulo esférico, se pida encontrar las otras tres: como se puede ver en las dos tablas siguientes, la una para los triángulos rectángulos, y la otra para los oblicuángulos: en las que para mayor sencillez en los cálculos se ha supuesto el r igual á 1.

FIN.

TABLA PARA LA RESOLUCION DE TODOS LOS CASOS POSIBLES DE LOS TRIÁNGULOS ESFÉRICOS RECTÁNGULOS.

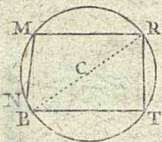
<i>Datos.</i>	<i>Busco.</i>	<i>Valores.</i>	<i>Casos en que lo que se busca no llega á 90.º</i>
1.º { Hipotenusa y un lado.	{ Angulo opuesto al lado dado. Angulo adyacente al lado dado. El otro lado.	$Su\ sen = \frac{sen\ lado\ dado}{sen\ hipotenusa} (593).$ $Su\ cos = \frac{tang\ lado\ dado}{tang\ hipotenusa} (595).$ $Su\ cos = \frac{cos\ hipotenusa}{cos\ lado\ dado} (600).$	{ Si los datos son de una misma especie. Lo mismo. Si el lado dado no llega á 90.º
2.º { Un lado y el ángulo opuesto.	{ Hipotenusa. El otro lado. El otro ángulo.	$Su\ sen = \frac{sen\ lado\ dado}{sen\ ángulo\ dado} (593).$ $Su\ sen = \frac{tang\ lado\ dado}{tang\ ángulo\ dado} (597).$ $Su\ sen = \frac{cos\ ángulo\ dado}{cos\ lado\ dado} (603).$	{ Dudoso. Dudoso. Dudoso.
3.º { Un lado y un ángulo adyacente.	{ Hipotenusa. El otro ángulo. El otro lado.	$Su\ tang = \frac{tang\ lado\ dado}{cos\ ángulo\ dado} (595).$ $Su\ cos = cos\ lado\ dado \times seno\ ángulo\ dado (603).$ $Su\ tang = sen\ lado\ dado \times tang\ ángulo\ dado (597).$	{ Si los datos son de una misma especie. Si el lado dado es menor que 90.º Si el ángulo dado es menor que 90.º
4.º { Hipotenusa y un ángulo.	{ Lado adyacente. Lado opuesto al ángulo dado. El otro ángulo.	$Su\ tang = tang\ hipot. \times cos\ ángulo\ dado (595).$ $Su\ sen = sen\ hipot. \times sen\ ángulo\ dado (593).$ $Su\ tang = \frac{cot\ ángulo\ dado}{cos\ hipotenusa} (605).$	{ Si el ángulo fuere agudo. Si los datos fueren de una misma especie. Si la hipotenusa fuere menor que 90.º
5.º { Los dos lados.	{ Hipotenusa. Un ángulo.	$Su\ cos = rectángulo\ cos\ ángulos\ dados (600).$ $Su\ tang = \frac{tang\ lado\ opuesto}{sen\ lado\ adyacente} (597).$	{ Si los datos fueren de una misma especie. Si el lado opuesto fuere agudo.
6.º { Los dos ángulos.	{ Hipotenusa. Un lado.	$Su\ cos = rectángulo\ cot\ ángulos\ dados (605).$ $Su\ cos = \frac{cos\ ángulo\ opuesto}{sen\ ángulo\ adyacente} (603).$	{ Si los datos fueren de una misma especie Si el ángulo opuesto fuere agudo.

TABLA PARA LA RESOLUCION DE LOS TRIANGULOS ESFERICOS OBLICUANGULOS.

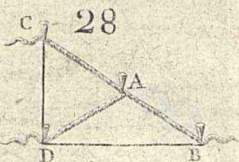
1^o *Segm.* ó 2^o *segm.* quiere decir : primero ó segundo segmento del ángulo ó lado dividido por la perpendicular.

Datos.	Se busca.	Valores.
1 ^o { Dos ángulos y un lado opuesto á uno de dichos ángulos.	El lado opuesto al otro ángulo. Tercer lado. Tercer ángulo.	{ Por la analogia comun. { Bagese una perpendicular al lado que junta los ángulos dados. { Sirve la misma perpendicular. { Los senos de los ángulos son como los senos de los lados opuestos (594). { $Tang. 1^{\circ} \text{ segm. del lado} = \cos \text{ ángulo adyacente} \times \text{tang lado dado}$ (595). { $Sen 2^{\circ} \text{ segm.} = \frac{Sen 1^{\circ} \text{ segm.} \times \text{tang ángulo adyacente al lado dado}}{Tang \text{ ángulo opuesto al mismo lado dado}}$ (598). { $Cot 1^{\circ} \text{ segm. del ángulo} = \cos \text{ lado dado} \times \text{tang ángulo adyacente}$ (605). { $Sen 2^{\circ} \text{ segm. del mismo ángulo} = \frac{Sen 1^{\circ} \text{ segm.} \times \cos \text{ ángulo opuesto al lado dado}}{\cos \text{ ángulo adyacente al lado dado}}$ (604).
2 ^o { Dos lados y un ángulo opuesto á uno de estos lados.	El ángulo opuesto al otro lado. Ángulo comprendido entre los lados dados. Tercer lado.	{ Por la analogia comun. { Bagese una perpendicular desde el ángulo que forman los dos lados dados. { Sirve la misma perpendicular. { Los senos de los lados son como los de los ángulos opuestos (594). { $Cot 1^{\circ} \text{ segm. ángulo incognito} = \text{tang ángulo dado} \times \cos \text{ lado adyacente}$ (605). { $Cos 2^{\circ} \text{ segm. del mismo ángulo} = \frac{Cos 1^{\circ} \text{ segm.} \times \text{tang lado dado adyacente al ángulo dado.}}{\text{tang lado opuesto al ángulo dado.}}$ (596). { $Tang 1^{\circ} \text{ segm. de este lado} = \cos \text{ ángulo dado} \times \text{tang lado adyacente á dicho ángulo}$ (595). { $Cos 2^{\circ} \text{ segm. del mismo} = \frac{Cos 1^{\circ} \text{ segm.} \times \cos \text{ lado opuesto al ángulo dado.}}{Cos \text{ lado adyacente al ángulo dado.}}$ (601).
3 ^o { Dos lados y el ángulo que forman.	Un ángulo opuesto á uno de los lados dados. Tercer lado.	{ Bagese una perpendicular desde el ángulo que no se busca. { Bagese una perpendicular á uno de los lados dados. { $Tang 1^{\circ} \text{ segm. del lado dividido} = \cos \text{ ángulo dado} \times \text{tang lado adyacente á dicho ángulo}$ (595). { $Tang \text{ ángulo pedido} = \frac{Tang \text{ ángulo dado} \times \text{seno } 1^{\circ} \text{ segm.}}{\text{seno } 2^{\circ} \text{ segm. del lado dividido.}}$ (598). { $Tang 1^{\circ} \text{ segm. del lado dividido} = \cos \text{ ángulo dado} \times \text{tang lado no dividido}$ (595). { $Cos \text{ lado pedido} = \frac{Cos \text{ lado no dividido} \times \cos 2^{\circ} \text{ sem.}}{Cos 1^{\circ} \text{ segm. del lado dividido.}}$ (601).
4 ^o { Un lado y los dos ángulos adyacentes al mismo lado.	Un lado opuesto al uno de los ángulos dados. Tercer ángulo.	{ Bagese una perpendicular al lado que no se busca. { Bagese una perpendicular desde el uno de los ángulos dados. { $Cot 1^{\circ} \text{ segm. del ángulo dividido} = \cos \text{ lado dado} \times \text{tang ángulo opuesto al lado pedido}$ (605). { $Tang. \text{ lado pedido} = \frac{Tang \text{ lado dado} \times \cos 1^{\circ} \text{ segm. ángulo dividido.}}{Cos 2^{\circ} \text{ segm. del mismo ángulo.}}$ (606). { $Cot 1^{\circ} \text{ segm. ángulo dividido} = \cos \text{ lado dado} \times \text{tang ángulo dado no dividido}$ (605). { $Cos \text{ ángulo pedido} = \frac{Cos \text{ ángulo no dividido} \times 2^{\circ} \text{ segm.}}{Sen 1^{\circ} \text{ segm. del ángulo dividido.}}$ (604).
5 ^o { Los tres lados BC, AB, AC fig. (129 y 130)	El ángulo B.	{ Bagese el arco AD perpendicular sobre BC. { $Tang \frac{1}{2}(BD + DC) = \frac{tang. \frac{1}{2}(AB + AC) \times tang \frac{1}{2}(AB - AC)}{tang. \frac{1}{2}BC.}$ (602). { $Cos B = \frac{Tang BD}{Tang AB}$ (595).
6 ^o { Los tres ángulos A, B, C, fig. 125.	Uno de los lados AB.	{ Tracese un triángulo DEF suplemento de ABC segun se dijo (583). { Sepase el valor de los tres lados DE, EF, FD suplementos de los ángulos C, A, B (583). { Averiguese por el caso anterior en dichos triángulos DEF el valor del ángulo F, y se tendrá el lado AB = suplemento de F (583).

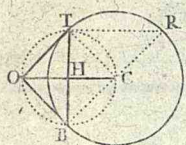
27



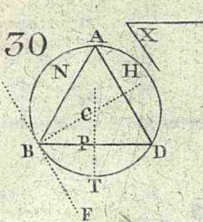
28



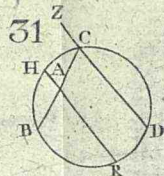
29



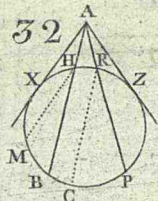
30



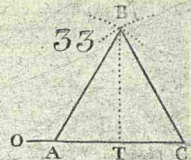
31



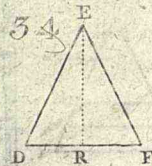
32



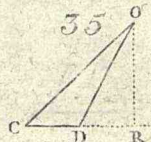
33



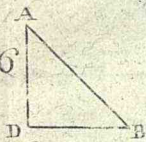
34



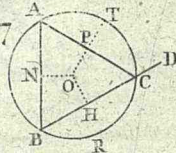
35



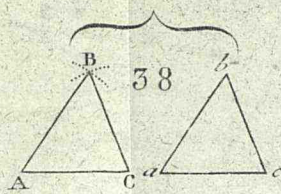
36




37



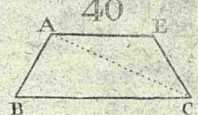
38



39



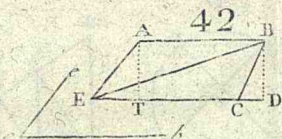
40



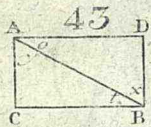
41



42



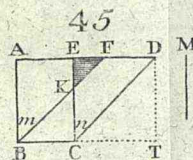
43



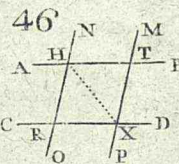
44



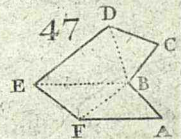
45



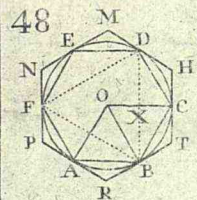
46



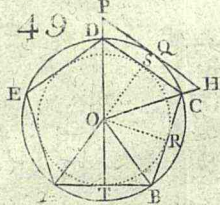
47



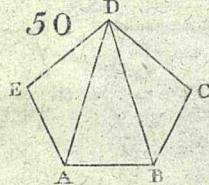
48



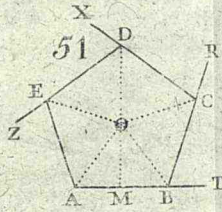
49



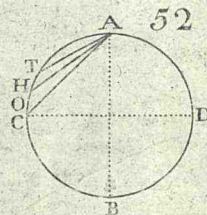
50



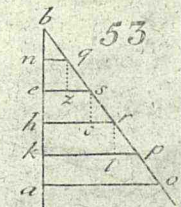
51



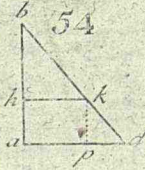
52



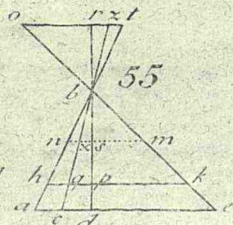
53



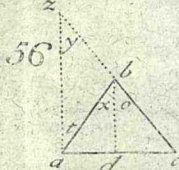
54



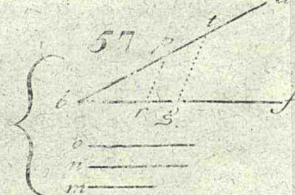
55



56



57



58

